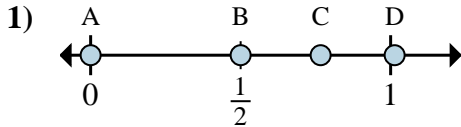


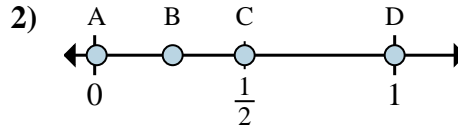


**Determina quale lettera rappresenta correttamente la posizione della frazione sulla linea numerata.**

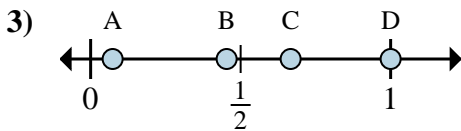
**Risposte**



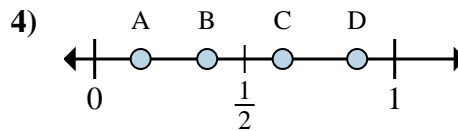
- 1a) Quale lettera rappresenta correttamente  $\frac{0}{6}$ ?  
 1b) Quale lettera rappresenta correttamente  $\frac{3}{6}$ ?



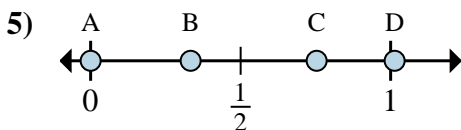
- 2a) Quale lettera rappresenta correttamente  $\frac{1}{2}$ ?  
 2b) Quale lettera rappresenta correttamente  $\frac{2}{2}$ ?



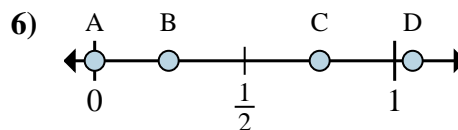
- 3a) Quale lettera rappresenta correttamente  $\frac{2}{3}$ ?  
 3b) Quale lettera rappresenta correttamente  $\frac{3}{3}$ ?



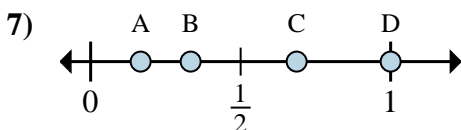
- 4a) Quale lettera rappresenta correttamente  $\frac{3}{8}$ ?  
 4b) Quale lettera rappresenta correttamente  $\frac{7}{8}$ ?



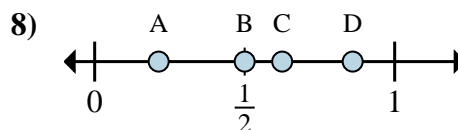
- 5a) Quale lettera rappresenta correttamente  $\frac{0}{3}$ ?  
 5b) Quale lettera rappresenta correttamente  $\frac{1}{3}$ ?



- 6a) Quale lettera rappresenta correttamente  $\frac{0}{4}$ ?  
 6b) Quale lettera rappresenta correttamente  $\frac{3}{4}$ ?



- 7a) Quale lettera rappresenta correttamente  $\frac{1}{6}$ ?  
 7b) Quale lettera rappresenta correttamente  $\frac{2}{6}$ ?

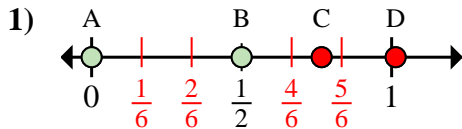


- 8a) Quale lettera rappresenta correttamente  $\frac{5}{8}$ ?  
 8b) Quale lettera rappresenta correttamente  $\frac{4}{8}$ ?

1a. \_\_\_\_\_  
 1b. \_\_\_\_\_  
 2a. \_\_\_\_\_  
 2b. \_\_\_\_\_  
 3a. \_\_\_\_\_  
 3b. \_\_\_\_\_  
 4a. \_\_\_\_\_  
 4b. \_\_\_\_\_  
 5a. \_\_\_\_\_  
 5b. \_\_\_\_\_  
 6a. \_\_\_\_\_  
 6b. \_\_\_\_\_  
 7a. \_\_\_\_\_  
 7b. \_\_\_\_\_  
 8a. \_\_\_\_\_  
 8b. \_\_\_\_\_

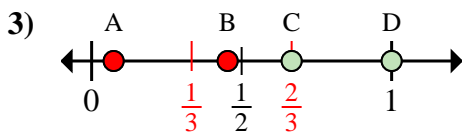


**Determina quale lettera rappresenta correttamente la posizione della frazione sulla linea numerata.**



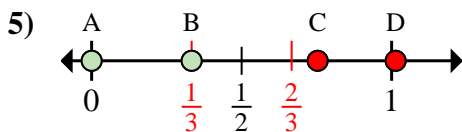
1a) Quale lettera rappresenta correttamente  $\frac{0}{6}$ ?

1b) Quale lettera rappresenta correttamente  $\frac{3}{6}$ ?



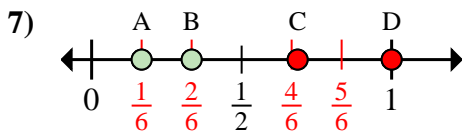
3a) Quale lettera rappresenta correttamente  $\frac{2}{3}$ ?

3b) Quale lettera rappresenta correttamente  $\frac{3}{3}$ ?



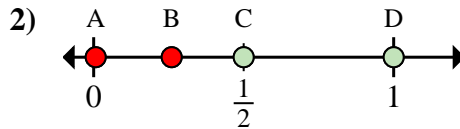
5a) Quale lettera rappresenta correttamente  $\frac{0}{3}$ ?

5b) Quale lettera rappresenta correttamente  $\frac{1}{3}$ ?



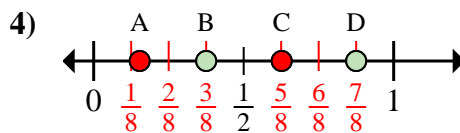
7a) Quale lettera rappresenta correttamente  $\frac{1}{6}$ ?

7b) Quale lettera rappresenta correttamente  $\frac{2}{6}$ ?



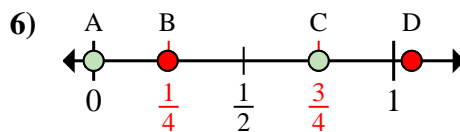
2a) Quale lettera rappresenta correttamente  $\frac{1}{2}$ ?

2b) Quale lettera rappresenta correttamente  $\frac{2}{2}$ ?



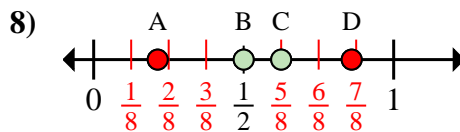
4a) Quale lettera rappresenta correttamente  $\frac{3}{8}$ ?

4b) Quale lettera rappresenta correttamente  $\frac{7}{8}$ ?



6a) Quale lettera rappresenta correttamente  $\frac{0}{4}$ ?

6b) Quale lettera rappresenta correttamente  $\frac{3}{4}$ ?



8a) Quale lettera rappresenta correttamente  $\frac{5}{8}$ ?

8b) Quale lettera rappresenta correttamente  $\frac{4}{8}$ ?

**Risposte**

1a. **A**

1b. **B**

2a. **C**

2b. **D**

3a. **C**

3b. **D**

4a. **B**

4b. **D**

5a. **A**

5b. **B**

6a. **A**

6b. **C**

7a. **A**

7b. **B**

8a. **C**

8b. **B**