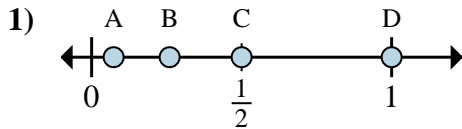


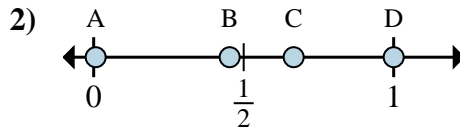


**Determina quale lettera rappresenta correttamente la posizione della frazione sulla linea numerata.**



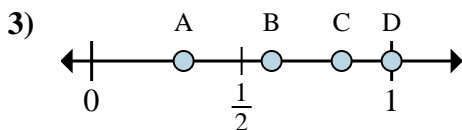
1a) Quale lettera rappresenta correttamente  $\frac{1}{2}$ ?

1b) Quale lettera rappresenta correttamente  $\frac{2}{2}$ ?



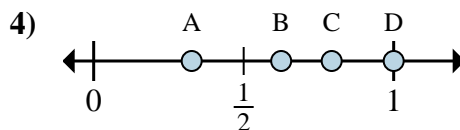
2a) Quale lettera rappresenta correttamente  $\frac{2}{3}$ ?

2b) Quale lettera rappresenta correttamente  $\frac{3}{3}$ ?



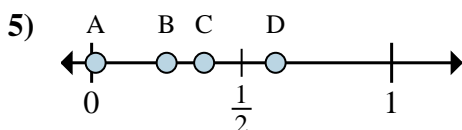
3a) Quale lettera rappresenta correttamente  $\frac{5}{6}$ ?

3b) Quale lettera rappresenta correttamente  $\frac{6}{6}$ ?



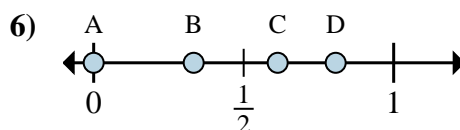
4a) Quale lettera rappresenta correttamente  $\frac{5}{8}$ ?

4b) Quale lettera rappresenta correttamente  $\frac{8}{8}$ ?



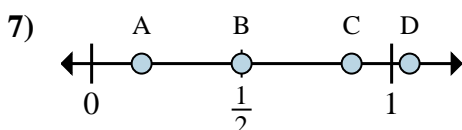
5a) Quale lettera rappresenta correttamente  $\frac{2}{8}$ ?

5b) Quale lettera rappresenta correttamente  $\frac{3}{8}$ ?



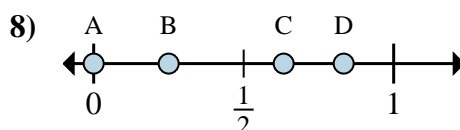
6a) Quale lettera rappresenta correttamente  $\frac{0}{6}$ ?

6b) Quale lettera rappresenta correttamente  $\frac{2}{6}$ ?



7a) Quale lettera rappresenta correttamente  $\frac{3}{6}$ ?

7b) Quale lettera rappresenta correttamente  $\frac{1}{6}$ ?



8a) Quale lettera rappresenta correttamente  $\frac{0}{4}$ ?

8b) Quale lettera rappresenta correttamente  $\frac{1}{4}$ ?

**Risposte**

1a. \_\_\_\_\_

1b. \_\_\_\_\_

2a. \_\_\_\_\_

2b. \_\_\_\_\_

3a. \_\_\_\_\_

3b. \_\_\_\_\_

4a. \_\_\_\_\_

4b. \_\_\_\_\_

5a. \_\_\_\_\_

5b. \_\_\_\_\_

6a. \_\_\_\_\_

6b. \_\_\_\_\_

7a. \_\_\_\_\_

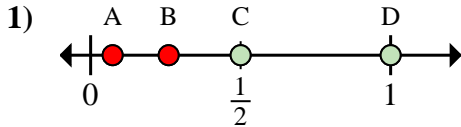
7b. \_\_\_\_\_

8a. \_\_\_\_\_

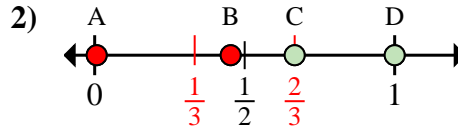
8b. \_\_\_\_\_



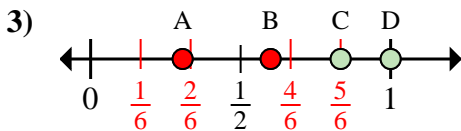
**Determina quale lettera rappresenta correttamente la posizione della frazione sulla linea numerata.**



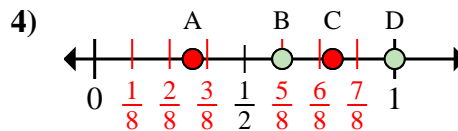
- 1a) Quale lettera rappresenta correttamente  $\frac{1}{2}$ ?  
 1b) Quale lettera rappresenta correttamente  $\frac{2}{2}$ ?



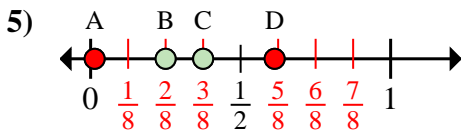
- 2a) Quale lettera rappresenta correttamente  $\frac{2}{3}$ ?  
 2b) Quale lettera rappresenta correttamente  $\frac{3}{3}$ ?



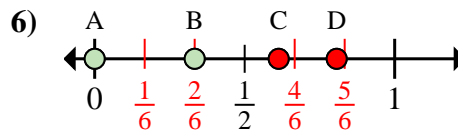
- 3a) Quale lettera rappresenta correttamente  $\frac{5}{6}$ ?  
 3b) Quale lettera rappresenta correttamente  $\frac{6}{6}$ ?



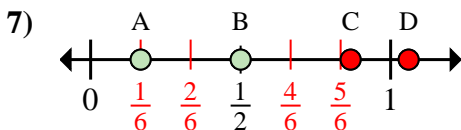
- 4a) Quale lettera rappresenta correttamente  $\frac{5}{8}$ ?  
 4b) Quale lettera rappresenta correttamente  $\frac{8}{8}$ ?



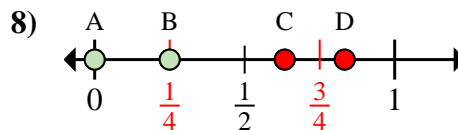
- 5a) Quale lettera rappresenta correttamente  $\frac{2}{8}$ ?  
 5b) Quale lettera rappresenta correttamente  $\frac{3}{8}$ ?



- 6a) Quale lettera rappresenta correttamente  $\frac{0}{6}$ ?  
 6b) Quale lettera rappresenta correttamente  $\frac{2}{6}$ ?



- 7a) Quale lettera rappresenta correttamente  $\frac{3}{6}$ ?  
 7b) Quale lettera rappresenta correttamente  $\frac{1}{6}$ ?



- 8a) Quale lettera rappresenta correttamente  $\frac{0}{4}$ ?  
 8b) Quale lettera rappresenta correttamente  $\frac{1}{4}$ ?

**Risposte**

- 1a.     **C**      
 1b.     **D**      
 2a.     **C**      
 2b.     **D**      
 3a.     **C**      
 3b.     **D**      
 4a.     **B**      
 4b.     **D**      
 5a.     **B**      
 5b.     **C**      
 6a.     **A**      
 6b.     **B**      
 7a.     **B**      
 7b.     **A**      
 8a.     **A**      
 8b.     **B**