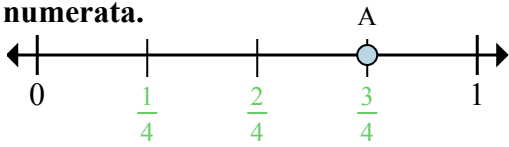


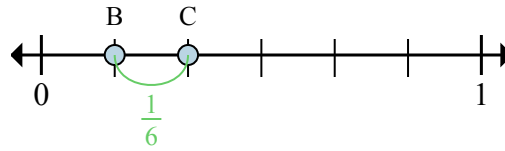


Determina quale lettera rappresenta correttamente la posizione della frazione sulla linea numerata.



Es) In quante parti è divisa questa linea numerata?

Es) Qual'è il posto di A (scritto come frazione)?



Es) Su questa linea numerata qual'è il valore di 0 scritto come frazione?

Es) Sulla linea numerata qual'è la distanza tra B e C (scritto come frazione)?

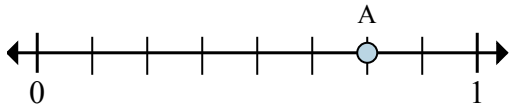
Risposte

Es. 4

Es. 3/4

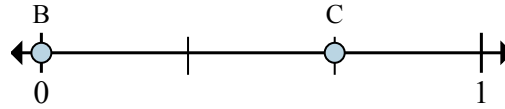
Es. 0/6

Es. 1/6



1a) In quante parti è divisa questa linea numerata?

1b) Qual'è il posto di A (scritto come frazione)?



2a) Su questa linea numerata qual'è il valore di 0 scritto come frazione?

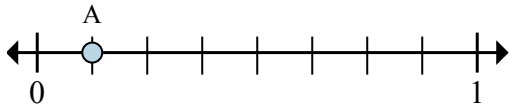
2b) Sulla linea numerata qual'è la distanza tra B e C (scritto come frazione)?

1a. _____

1b. _____

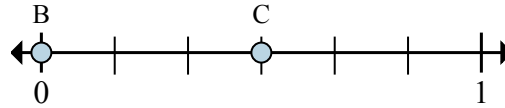
2a. _____

2b. _____



3a) In quante parti è divisa questa linea numerata?

3b) Qual'è il posto di A (scritto come frazione)?



4a) Su questa linea numerata qual'è il valore di 1 scritto come frazione?

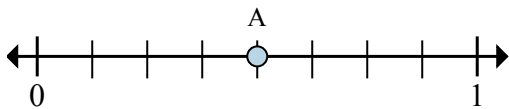
4b) Sulla linea numerata qual'è la distanza tra B e C (scritto come frazione)?

3a. _____

3b. _____

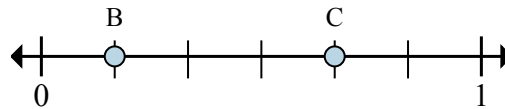
4a. _____

4b. _____



5a) In quante parti è divisa questa linea numerata?

5b) Qual'è il posto di A (scritto come frazione)?



6a) Su questa linea numerata qual'è il valore di 0 scritto come frazione?

6b) Sulla linea numerata qual'è la distanza tra B e C (scritto come frazione)?

5a. _____

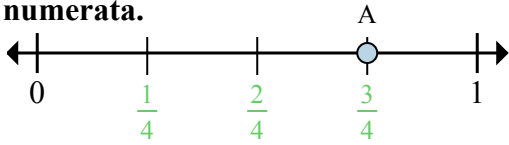
5b. _____

6a. _____

6b. _____

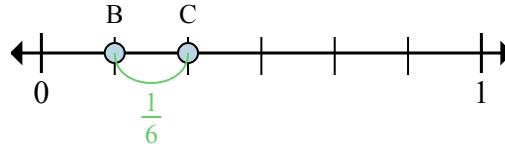


Determina quale lettera rappresenta correttamente la posizione della frazione sulla linea numerata.



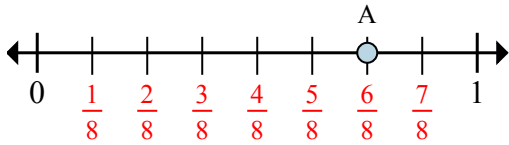
Es) In quante parti è divisa questa linea numerata?

Es) Qual'è il posto di A (scritto come frazione)?



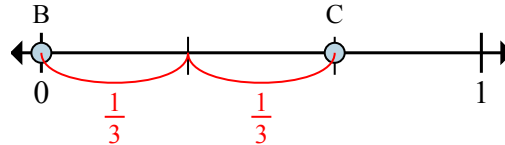
Es) Su questa linea numerata qual'è il valore di 0 scritto come frazione?

Es) Sulla linea numerata qual'è la distanza tra B e C (scritto come frazione)?



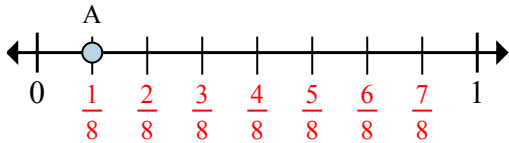
1a) In quante parti è divisa questa linea numerata?

1b) Qual'è il posto di A (scritto come frazione)?



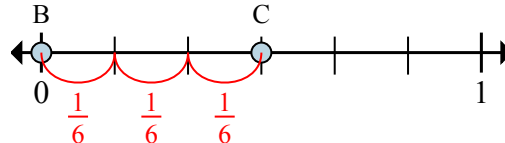
2a) Su questa linea numerata qual'è il valore di 0 scritto come frazione?

2b) Sulla linea numerata qual'è la distanza tra B e C (scritto come frazione)?



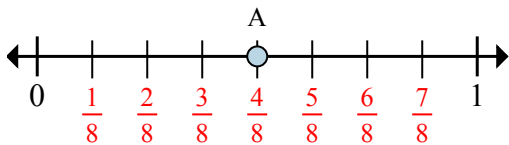
3a) In quante parti è divisa questa linea numerata?

3b) Qual'è il posto di A (scritto come frazione)?



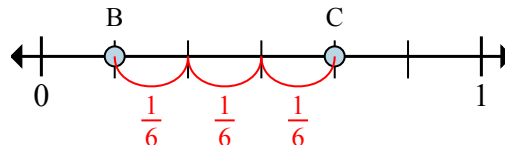
4a) Su questa linea numerata qual'è il valore di 1 scritto come frazione?

4b) Sulla linea numerata qual'è la distanza tra B e C (scritto come frazione)?



5a) In quante parti è divisa questa linea numerata?

5b) Qual'è il posto di A (scritto come frazione)?



6a) Su questa linea numerata qual'è il valore di 0 scritto come frazione?

6b) Sulla linea numerata qual'è la distanza tra B e C (scritto come frazione)?

Risposte

Es. 4

Es. 3/4

Es. 0/6

Es. 1/6

1a. 8

1b. 6/8

2a. 0/3

2b. 2/3

3a. 8

3b. 1/8

4a. 6/6

4b. 3/6

5a. 8

5b. 4/8

6a. 0/6

6b. 3/6