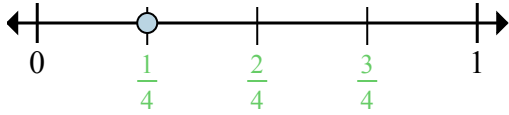


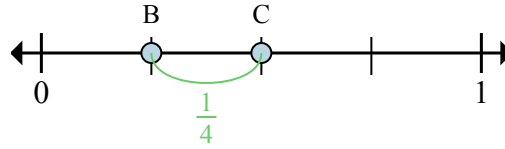


**Determina quale lettera rappresenta correttamente la posizione della frazione sulla linea numerata A**



**Es)** In quante parti è divisa questa linea numerata?

**Es)** Qual'è il posto di A (scritto come frazione)?



**Es)** Su questa linea numerata qual'è il valore di 1 scritto come frazione?

**Es)** Sulla linea numerata qual'è la distanza tra B e C (scritto come frazione)?

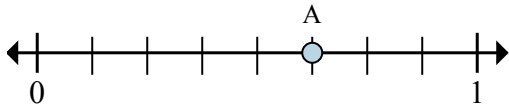
**Risposte**

Es. 4

Es. 1/4

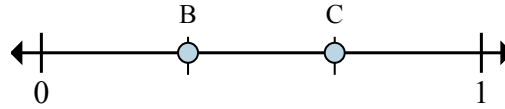
Es. 4/4

Es. 1/4



**1a)** In quante parti è divisa questa linea numerata?

**1b)** Qual'è il posto di A (scritto come frazione)?



**2a)** Su questa linea numerata qual'è il valore di 0 scritto come frazione?

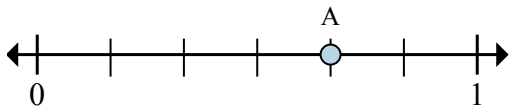
**2b)** Sulla linea numerata qual'è la distanza tra B e C (scritto come frazione)?

1a. \_\_\_\_\_

1b. \_\_\_\_\_

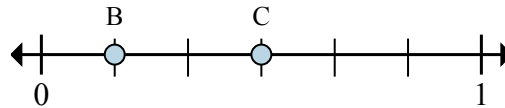
2a. \_\_\_\_\_

2b. \_\_\_\_\_



**3a)** In quante parti è divisa questa linea numerata?

**3b)** Qual'è il posto di A (scritto come frazione)?



**4a)** Su questa linea numerata qual'è il valore di 0 scritto come frazione?

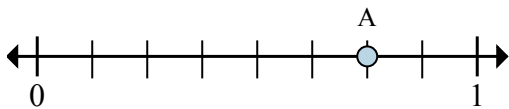
**4b)** Sulla linea numerata qual'è la distanza tra B e C (scritto come frazione)?

3a. \_\_\_\_\_

3b. \_\_\_\_\_

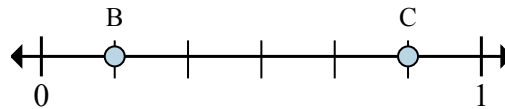
4a. \_\_\_\_\_

4b. \_\_\_\_\_



**5a)** In quante parti è divisa questa linea numerata?

**5b)** Qual'è il posto di A (scritto come frazione)?



**6a)** Su questa linea numerata qual'è il valore di 0 scritto come frazione?

**6b)** Sulla linea numerata qual'è la distanza tra B e C (scritto come frazione)?

5a. \_\_\_\_\_

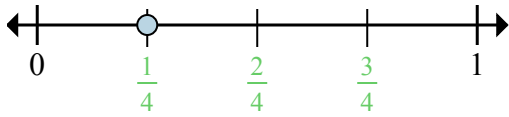
5b. \_\_\_\_\_

6a. \_\_\_\_\_

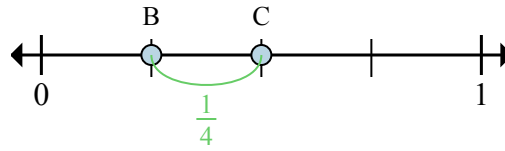
6b. \_\_\_\_\_



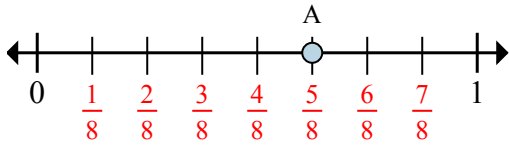
**Determina quale lettera rappresenta correttamente la posizione della frazione sulla linea numerata**



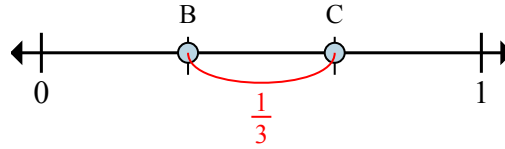
- Es)** In quante parti è divisa questa linea numerata?  
**Es)** Qual'è il posto di A (scritto come frazione)?



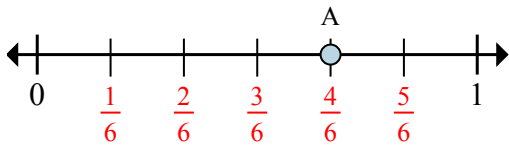
- Es)** Su questa linea numerata qual'è il valore di 1 scritto come frazione?  
**Es)** Sulla linea numerata qual'è la distanza tra B e C (scritto come frazione)?



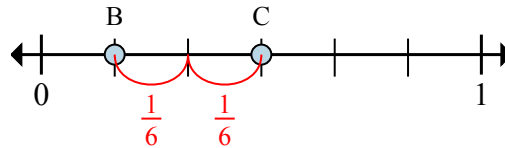
- 1a)** In quante parti è divisa questa linea numerata?  
**1b)** Qual'è il posto di A (scritto come frazione)?



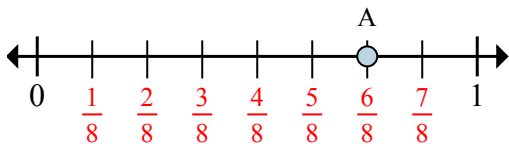
- 2a)** Su questa linea numerata qual'è il valore di 0 scritto come frazione?  
**2b)** Sulla linea numerata qual'è la distanza tra B e C (scritto come frazione)?



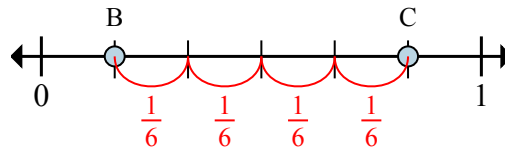
- 3a)** In quante parti è divisa questa linea numerata?  
**3b)** Qual'è il posto di A (scritto come frazione)?



- 4a)** Su questa linea numerata qual'è il valore di 0 scritto come frazione?  
**4b)** Sulla linea numerata qual'è la distanza tra B e C (scritto come frazione)?



- 5a)** In quante parti è divisa questa linea numerata?  
**5b)** Qual'è il posto di A (scritto come frazione)?



- 6a)** Su questa linea numerata qual'è il valore di 0 scritto come frazione?  
**6b)** Sulla linea numerata qual'è la distanza tra B e C (scritto come frazione)?

**Risposte**

Es. 4

Es. 1/4

Es. 4/4

Es. 1/4

1a. 8

1b. 5/8

2a. 0/3

2b. 1/3

3a. 6

3b. 4/6

4a. 0/6

4b. 2/6

5a. 8

5b. 6/8

6a. 0/6

6b. 4/6