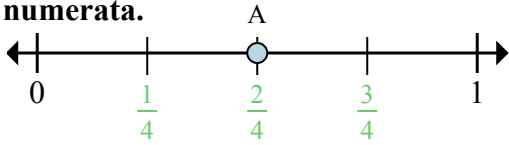


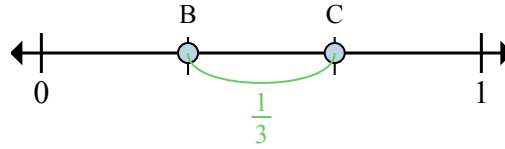


Determina quale lettera rappresenta correttamente la posizione della frazione sulla linea numerata.



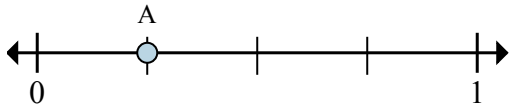
Es) In quante parti è divisa questa linea numerata?

Es) Qual'è il posto di A (scritto come frazione)?



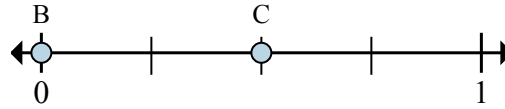
Es) Su questa linea numerata qual'è il valore di 1 scritto come frazione?

Es) Sulla linea numerata qual'è la distanza tra B e C (scritto come frazione)?



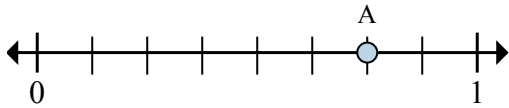
1a) In quante parti è divisa questa linea numerata?

1b) Qual'è il posto di A (scritto come frazione)?



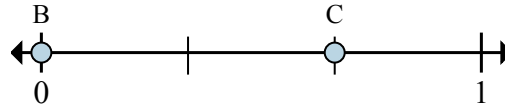
2a) Su questa linea numerata qual'è il valore di 0 scritto come frazione?

2b) Sulla linea numerata qual'è la distanza tra B e C (scritto come frazione)?



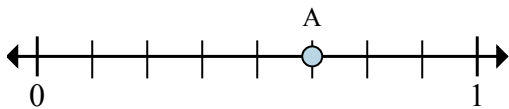
3a) In quante parti è divisa questa linea numerata?

3b) Qual'è il posto di A (scritto come frazione)?



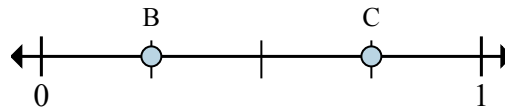
4a) Su questa linea numerata qual'è il valore di 0 scritto come frazione?

4b) Sulla linea numerata qual'è la distanza tra B e C (scritto come frazione)?



5a) In quante parti è divisa questa linea numerata?

5b) Qual'è il posto di A (scritto come frazione)?



6a) Su questa linea numerata qual'è il valore di 1 scritto come frazione?

6b) Sulla linea numerata qual'è la distanza tra B e C (scritto come frazione)?

Risposte

Es. 4

Es. 2/4

Es. 3/3

Es. 1/3

1a. _____

1b. _____

2a. _____

2b. _____

3a. _____

3b. _____

4a. _____

4b. _____

5a. _____

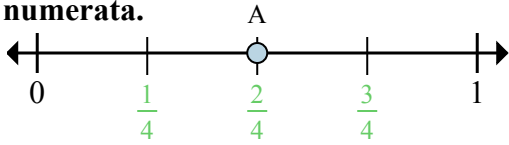
5b. _____

6a. _____

6b. _____

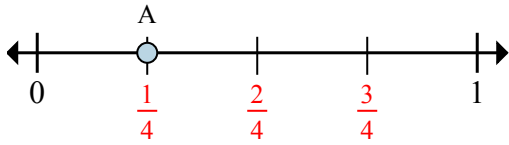


Determina quale lettera rappresenta correttamente la posizione della frazione sulla linea numerata.



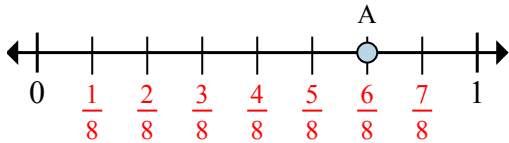
Es) In quante parti è divisa questa linea numerata?

Es) Qual'è il posto di A (scritto come frazione)?



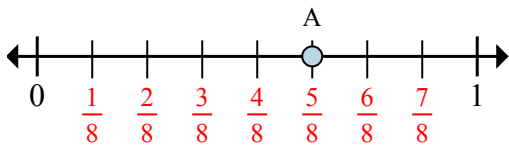
1a) In quante parti è divisa questa linea numerata?

1b) Qual'è il posto di A (scritto come frazione)?



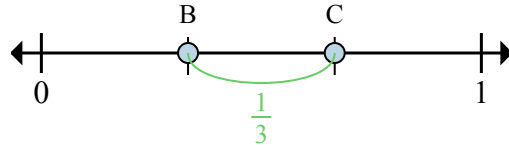
3a) In quante parti è divisa questa linea numerata?

3b) Qual'è il posto di A (scritto come frazione)?



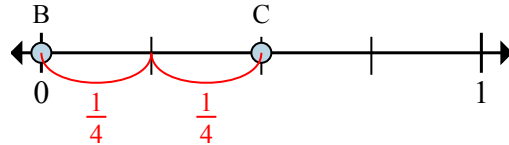
5a) In quante parti è divisa questa linea numerata?

5b) Qual'è il posto di A (scritto come frazione)?



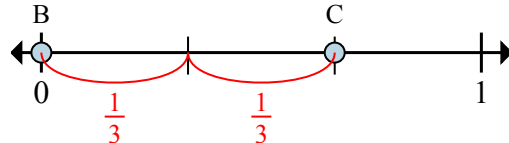
Es) Su questa linea numerata qual'è il valore di 1 scritto come frazione?

Es) Sulla linea numerata qual'è la distanza tra B e C (scritto come frazione)?



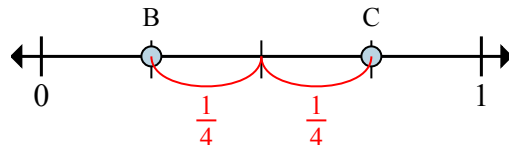
2a) Su questa linea numerata qual'è il valore di 0 scritto come frazione?

2b) Sulla linea numerata qual'è la distanza tra B e C (scritto come frazione)?



4a) Su questa linea numerata qual'è il valore di 0 scritto come frazione?

4b) Sulla linea numerata qual'è la distanza tra B e C (scritto come frazione)?



6a) Su questa linea numerata qual'è il valore di 1 scritto come frazione?

6b) Sulla linea numerata qual'è la distanza tra B e C (scritto come frazione)?

Risposte

Es. 4

Es. 2/4

Es. 3/3

Es. 1/3

1a. 4

1b. 1/4

2a. 0/4

2b. 2/4

3a. 8

3b. 6/8

4a. 0/3

4b. 2/3

5a. 8

5b. 5/8

6a. 4/4

6b. 2/4