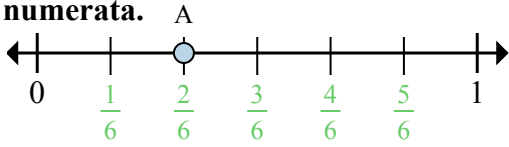


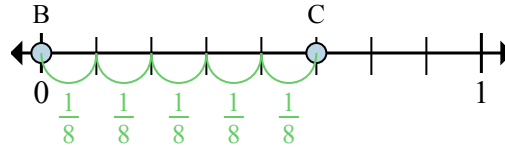


**Determina quale lettera rappresenta correttamente la posizione della frazione sulla linea numerata.**



**Es)** In quante parti è divisa questa linea numerata?

**Es)** Qual'è il posto di A (scritto come frazione)?



**Es)** Su questa linea numerata qual'è il valore di 1 scritto come frazione?

**Es)** Sulla linea numerata qual'è la distanza tra B e C (scritto come frazione)?

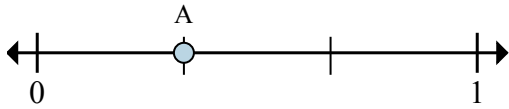
**Risposte**

Es. 6

Es. 2/6

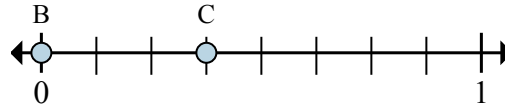
Es. 8/8

Es. 5/8



**1a)** In quante parti è divisa questa linea numerata?

**1b)** Qual'è il posto di A (scritto come frazione)?



**2a)** Su questa linea numerata qual'è il valore di 1 scritto come frazione?

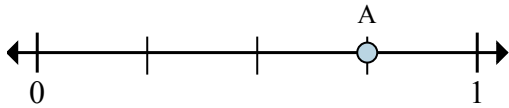
**2b)** Sulla linea numerata qual'è la distanza tra B e C (scritto come frazione)?

1a. \_\_\_\_\_

1b. \_\_\_\_\_

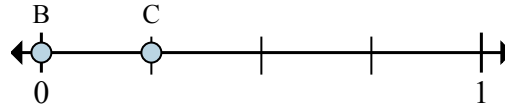
2a. \_\_\_\_\_

2b. \_\_\_\_\_



**3a)** In quante parti è divisa questa linea numerata?

**3b)** Qual'è il posto di A (scritto come frazione)?



**4a)** Su questa linea numerata qual'è il valore di 0 scritto come frazione?

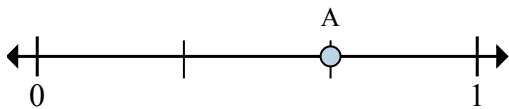
**4b)** Sulla linea numerata qual'è la distanza tra B e C (scritto come frazione)?

3a. \_\_\_\_\_

3b. \_\_\_\_\_

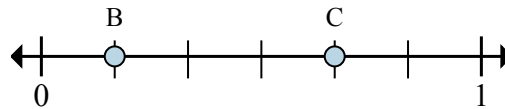
4a. \_\_\_\_\_

4b. \_\_\_\_\_



**5a)** In quante parti è divisa questa linea numerata?

**5b)** Qual'è il posto di A (scritto come frazione)?



**6a)** Su questa linea numerata qual'è il valore di 0 scritto come frazione?

**6b)** Sulla linea numerata qual'è la distanza tra B e C (scritto come frazione)?

5a. \_\_\_\_\_

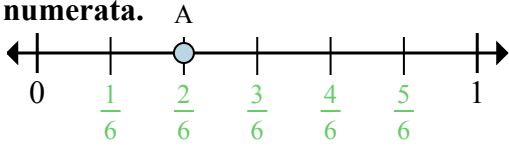
5b. \_\_\_\_\_

6a. \_\_\_\_\_

6b. \_\_\_\_\_

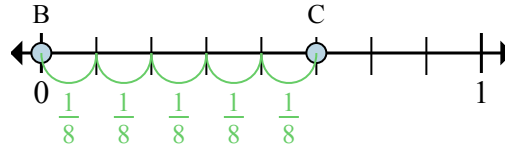


**Determina quale lettera rappresenta correttamente la posizione della frazione sulla linea numerata.**



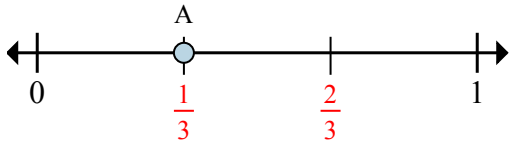
**Es)** In quante parti è divisa questa linea numerata?

**Es)** Qual'è il posto di A (scritto come frazione)?



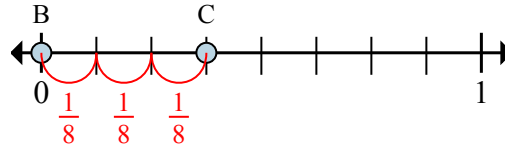
**Es)** Su questa linea numerata qual'è il valore di 1 scritto come frazione?

**Es)** Sulla linea numerata qual'è la distanza tra B e C (scritto come frazione)?



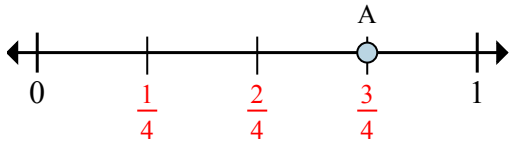
**1a)** In quante parti è divisa questa linea numerata?

**1b)** Qual'è il posto di A (scritto come frazione)?



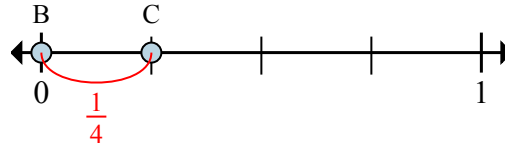
**2a)** Su questa linea numerata qual'è il valore di 1 scritto come frazione?

**2b)** Sulla linea numerata qual'è la distanza tra B e C (scritto come frazione)?



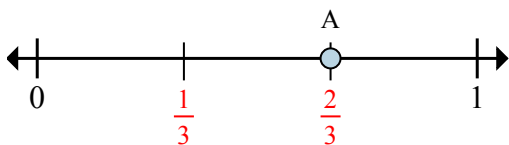
**3a)** In quante parti è divisa questa linea numerata?

**3b)** Qual'è il posto di A (scritto come frazione)?



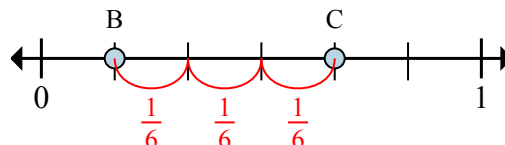
**4a)** Su questa linea numerata qual'è il valore di 0 scritto come frazione?

**4b)** Sulla linea numerata qual'è la distanza tra B e C (scritto come frazione)?



**5a)** In quante parti è divisa questa linea numerata?

**5b)** Qual'è il posto di A (scritto come frazione)?



**6a)** Su questa linea numerata qual'è il valore di 0 scritto come frazione?

**6b)** Sulla linea numerata qual'è la distanza tra B e C (scritto come frazione)?

**Risposte**

Es. 6

Es. 2/6

Es. 8/8

Es. 5/8

1a. 3

1b. 1/3

2a. 8/8

2b. 3/8

3a. 4

3b. 3/4

4a. 0/4

4b. 1/4

5a. 3

5b. 2/3

6a. 0/6

6b. 3/6