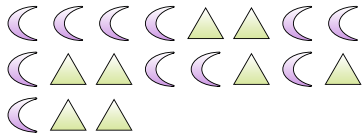


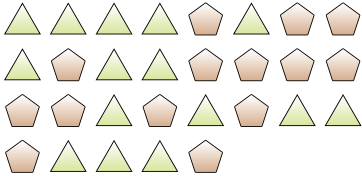


Risolvi ogni problema.


Es) Indica i triangoli come una frazione dell'intero.



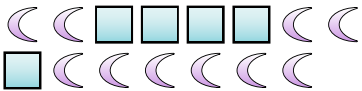
2) Indica i pentagoni come una frazione dell'intero.



4) Indica i cerchi come una frazione dell'intero.



6) Indica le lune come una frazione dell'intero.



8) Indica i quadrati come una frazione dell'intero.



10) Indica i triangoli come una frazione dell'intero.



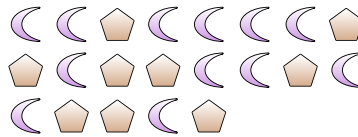
1) Indica le lune come una frazione dell'intero.



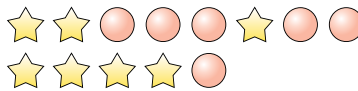
3) Indica le stelle come una frazione dell'intero.



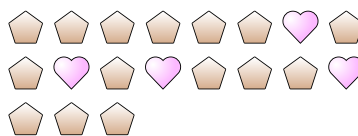
5) Indica i pentagoni come una frazione dell'intero.



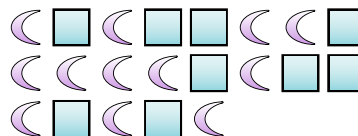
7) Indica i cerchi come una frazione dell'intero.



9) Indica i pentagoni come una frazione dell'intero.



11) Indica i quadrati come una frazione dell'intero.



Risposte

Es. $\frac{8}{19}$

1. $\frac{7}{15}$

2. $\frac{14}{29}$

3. $\frac{11}{26}$

4. $\frac{3}{5}$

5. $\frac{9}{21}$

6. $\frac{10}{15}$

7. $\frac{6}{13}$

8. $\frac{2}{8}$

9. $\frac{15}{19}$

10. $\frac{4}{15}$

11. $\frac{9}{21}$