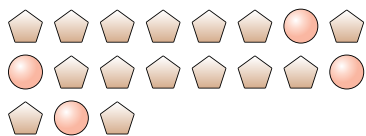


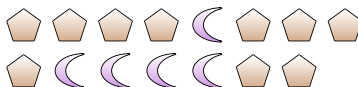


**Risolvi ogni problema.**

Es) Indica i pentagoni come una frazione dell'intero.



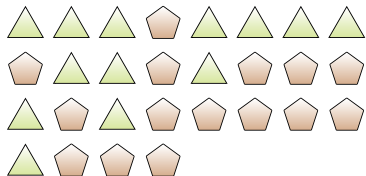
1) Indica le lune come una frazione dell'intero.




**Risposte**

Es.  $\frac{15}{19}$

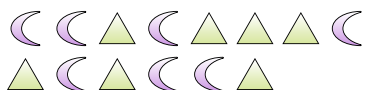
2) Indica i triangoli come una frazione dell'intero.



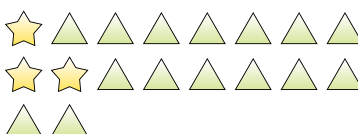
3) Indica i pentagoni come una frazione dell'intero.



4) Indica i triangoli come una frazione dell'intero.



5) Indica i triangoli come una frazione dell'intero.



6) Indica le stelle come una frazione dell'intero.



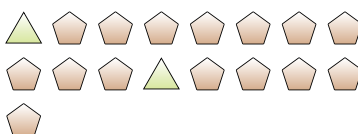
7) Indica le stelle come una frazione dell'intero.



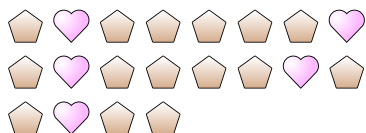
8) Indica i pentagoni come una frazione dell'intero.



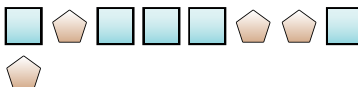
9) Indica i pentagoni come una frazione dell'intero.



10) Indica i pentagoni come una frazione dell'intero.



11) Indica i pentagoni come una frazione dell'intero.



1. \_\_\_\_\_

2. \_\_\_\_\_

3. \_\_\_\_\_

4. \_\_\_\_\_

5. \_\_\_\_\_

6. \_\_\_\_\_

7. \_\_\_\_\_

8. \_\_\_\_\_

9. \_\_\_\_\_

10. \_\_\_\_\_

11. \_\_\_\_\_

