




**Risolvi ogni problema.**

Es) Indica i cuori come una frazione dell'intero.



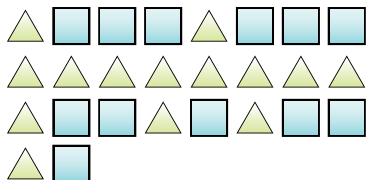
1) Indica le lune come una frazione dell'intero.



**Risposte**

Es.  $\frac{12}{23}$

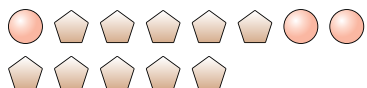
2) Indica i quadrati come una frazione dell'intero.



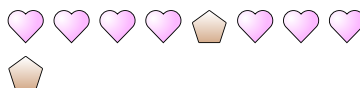
3) Indica le lune come una frazione dell'intero.



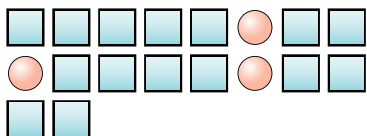
4) Indica i pentagoni come una frazione dell'intero.



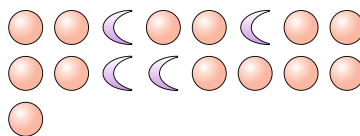
5) Indica i pentagoni come una frazione dell'intero.



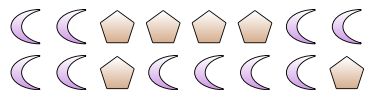
6) Indica i cerchi come una frazione dell'intero.



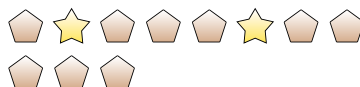
7) Indica i cerchi come una frazione dell'intero.



8) Indica le lune come una frazione dell'intero.



9) Indica i pentagoni come una frazione dell'intero.



10) Indica i quadrati come una frazione dell'intero.



11) Indica le lune come una frazione dell'intero.



1. \_\_\_\_\_

2. \_\_\_\_\_

3. \_\_\_\_\_

4. \_\_\_\_\_

5. \_\_\_\_\_

6. \_\_\_\_\_

7. \_\_\_\_\_

8. \_\_\_\_\_

9. \_\_\_\_\_

10. \_\_\_\_\_

11. \_\_\_\_\_

