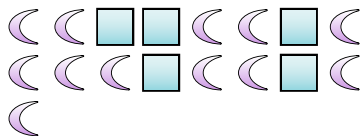




Risolvi ogni problema.

Es) Indica le lune come una frazione dell'intero.



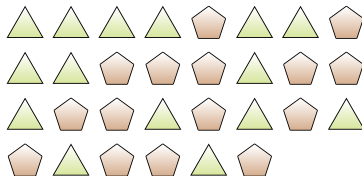
1) Indica i cuori come una frazione dell'intero.



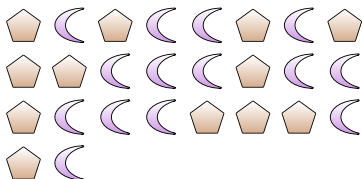
2) Indica le stelle come una frazione dell'intero.



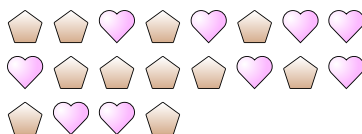
3) Indica i pentagoni come una frazione dell'intero.



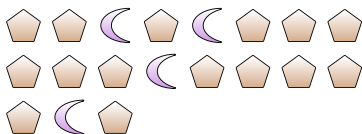
4) Indica le lune come una frazione dell'intero.



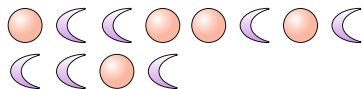
5) Indica i pentagoni come una frazione dell'intero.



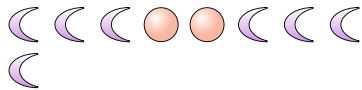
6) Indica le lune come una frazione dell'intero.



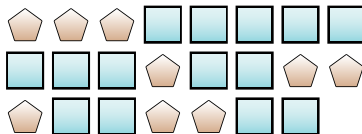
7) Indica le lune come una frazione dell'intero.



8) Indica le lune come una frazione dell'intero.



9) Indica i quadrati come una frazione dell'intero.



10) Indica i cerchi come una frazione dell'intero.



11) Indica i triangoli come una frazione dell'intero.



Risposte

Es. $\frac{12}{17}$

1. $\frac{9}{14}$

2. $\frac{11}{23}$

3. $\frac{15}{30}$

4. $\frac{14}{26}$

5. $\frac{11}{20}$

6. $\frac{4}{19}$

7. $\frac{7}{12}$

8. $\frac{7}{9}$

9. $\frac{14}{23}$

10. $\frac{6}{8}$

11. $\frac{10}{20}$