



**Risolvi ogni problema.**

Es) Indica le stelle come una frazione dell'intero.



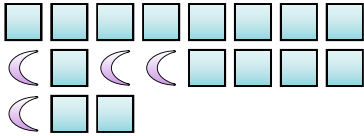
1) Indica i cerchi come una frazione dell'intero.



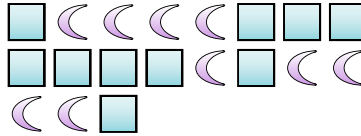
**Risposte**

Es.  $\frac{4}{13}$

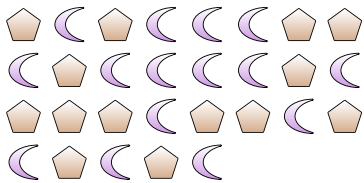
2) Indica i quadrati come una frazione dell'intero.



3) Indica i quadrati come una frazione dell'intero.



4) Indica i pentagoni come una frazione dell'intero.



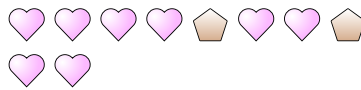
5) Indica i triangoli come una frazione dell'intero.



6) Indica le lune come una frazione dell'intero.



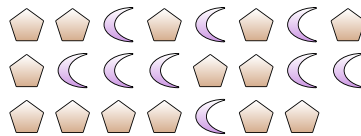
7) Indica i pentagoni come una frazione dell'intero.



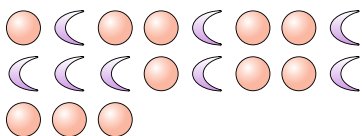
8) Indica le stelle come una frazione dell'intero.



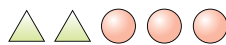
9) Indica le lune come una frazione dell'intero.



10) Indica le lune come una frazione dell'intero.



11) Indica i triangoli come una frazione dell'intero.



1. \_\_\_\_\_

2. \_\_\_\_\_

3. \_\_\_\_\_

4. \_\_\_\_\_

5. \_\_\_\_\_

6. \_\_\_\_\_

7. \_\_\_\_\_

8. \_\_\_\_\_

9. \_\_\_\_\_

10. \_\_\_\_\_

11. \_\_\_\_\_



**Risolvi ogni problema.**

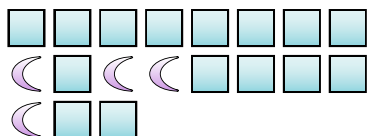
Es) Indica le stelle come una frazione dell'intero.



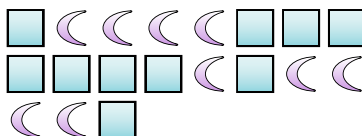
1) Indica i cerchi come una frazione dell'intero.



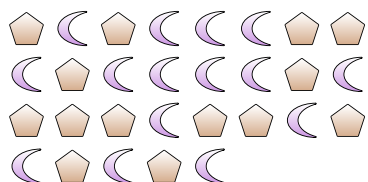
2) Indica i quadrati come una frazione dell'intero.



3) Indica i quadrati come una frazione dell'intero.



4) Indica i pentagoni come una frazione dell'intero.



5) Indica i triangoli come una frazione dell'intero.



6) Indica le lune come una frazione dell'intero.



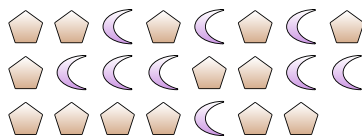
7) Indica i pentagoni come una frazione dell'intero.



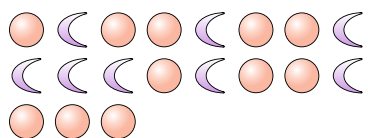
8) Indica le stelle come una frazione dell'intero.




9) Indica le lune come una frazione dell'intero.



10) Indica le lune come una frazione dell'intero.



11) Indica i triangoli come una frazione dell'intero.



**Risposte**

Es.  $\frac{4}{13}$

1.  $\frac{8}{18}$

2.  $\frac{15}{19}$

3.  $\frac{10}{19}$

4.  $\frac{14}{29}$

5.  $\frac{7}{15}$

6.  $\frac{7}{12}$

7.  $\frac{2}{10}$

8.  $\frac{2}{10}$

9.  $\frac{9}{23}$

10.  $\frac{8}{19}$

11.  $\frac{2}{5}$