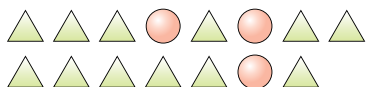




**Risolvi ogni problema.**

Es) Indica i triangoli come una frazione dell'intero.



1) Indica i quadrati come una frazione dell'intero.



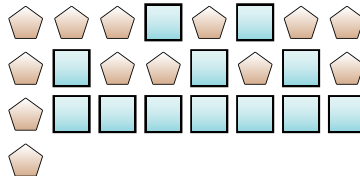
**Risposte**

Es.  $\frac{12}{15}$

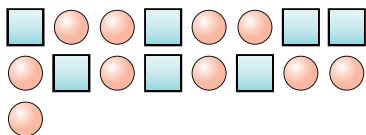
2) Indica i triangoli come una frazione dell'intero.



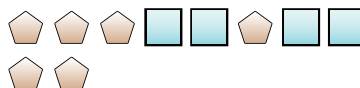
3) Indica i pentagoni come una frazione dell'intero.



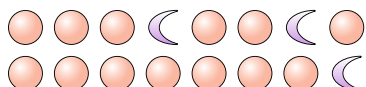
4) Indica i cerchi come una frazione dell'intero.



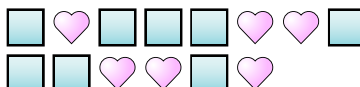
5) Indica i quadrati come una frazione dell'intero.



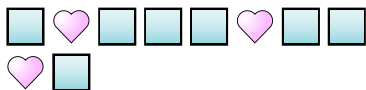
6) Indica i cerchi come una frazione dell'intero.



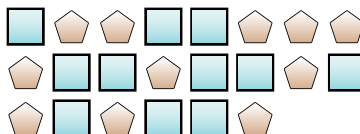
7) Indica i quadrati come una frazione dell'intero.




8) Indica i quadrati come una frazione dell'intero.



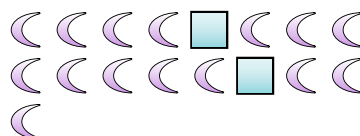
9) Indica i quadrati come una frazione dell'intero.



10) Indica i quadrati come una frazione dell'intero.



11) Indica le lune come una frazione dell'intero.



1. \_\_\_\_\_

2. \_\_\_\_\_

3. \_\_\_\_\_

4. \_\_\_\_\_

5. \_\_\_\_\_

6. \_\_\_\_\_

7. \_\_\_\_\_

8. \_\_\_\_\_

9. \_\_\_\_\_

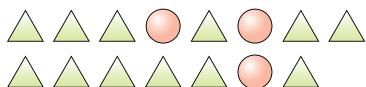
10. \_\_\_\_\_

11. \_\_\_\_\_



**Risolvi ogni problema.**

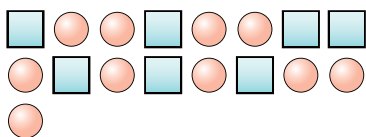
Es) Indica i triangoli come una frazione dell'intero.



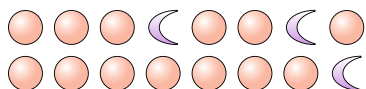
2) Indica i triangoli come una frazione dell'intero.



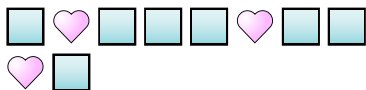
4) Indica i cerchi come una frazione dell'intero.




6) Indica i cerchi come una frazione dell'intero.



8) Indica i quadrati come una frazione dell'intero.



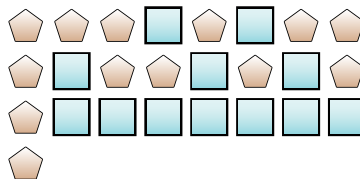
10) Indica i quadrati come una frazione dell'intero.



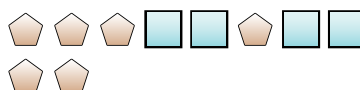
1) Indica i quadrati come una frazione dell'intero.



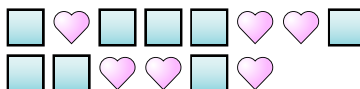
3) Indica i pentagoni come una frazione dell'intero.



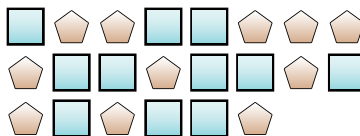
5) Indica i quadrati come una frazione dell'intero.



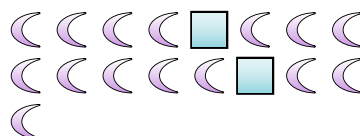
7) Indica i quadrati come una frazione dell'intero.



9) Indica i quadrati come una frazione dell'intero.



11) Indica le lune come una frazione dell'intero.



**Risposte**

Es.  $\frac{12}{15}$

1.  $\frac{4}{7}$

2.  $\frac{8}{11}$

3.  $\frac{13}{25}$

4.  $\frac{10}{17}$

5.  $\frac{4}{10}$

6.  $\frac{13}{16}$

7.  $\frac{8}{14}$

8.  $\frac{7}{10}$

9.  $\frac{11}{22}$

10.  $\frac{15}{25}$

11.  $\frac{15}{17}$