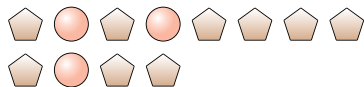




Risolvi ogni problema.

Es) Indica i pentagoni come una frazione dell'intero.



1) Indica i triangoli come una frazione dell'intero.



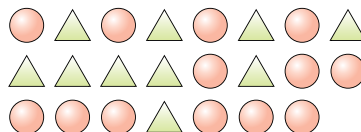
Risposte

Es. $\frac{9}{12}$

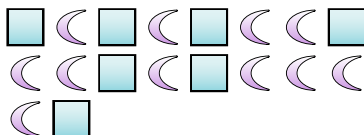
2) Indica le stelle come una frazione dell'intero.



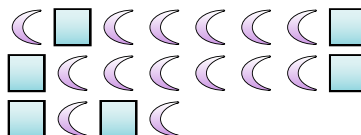
3) Indica i triangoli come una frazione dell'intero.



4) Indica le lune come una frazione dell'intero.



5) Indica le lune come una frazione dell'intero.



6) Indica le stelle come una frazione dell'intero.



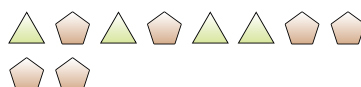
7) Indica le stelle come una frazione dell'intero.



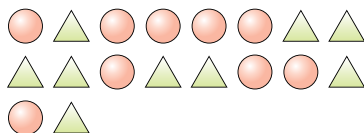
8) Indica le stelle come una frazione dell'intero.



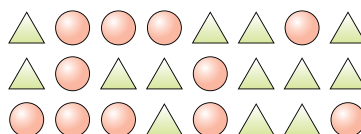
9) Indica i triangoli come una frazione dell'intero.



10) Indica i triangoli come una frazione dell'intero.



11) Indica i cerchi come una frazione dell'intero.



1. _____

2. _____

3. _____

4. _____

5. _____

6. _____

7. _____

8. _____

9. _____

10. _____

11. _____

