





**Risolvi ogni problema.**

Es) Indica i pentagoni come una frazione dell'intero.



2) Indica i quadrati come una frazione dell'intero.



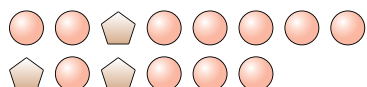
4) Indica i cuori come una frazione dell'intero.



6) Indica le stelle come una frazione dell'intero.



8) Indica i pentagoni come una frazione dell'intero.




10) Indica i cuori come una frazione dell'intero.



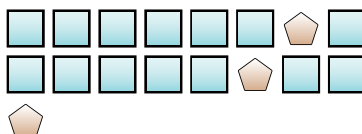
1) Indica le stelle come una frazione dell'intero.



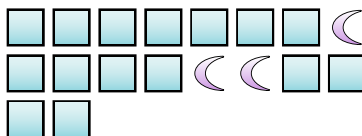
3) Indica i triangoli come una frazione dell'intero.



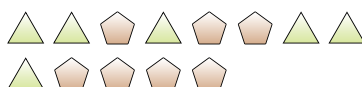
5) Indica i pentagoni come una frazione dell'intero.



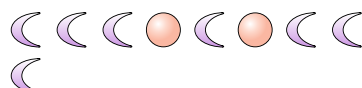
7) Indica i quadrati come una frazione dell'intero.



9) Indica i triangoli come una frazione dell'intero.



11) Indica le lune come una frazione dell'intero.



**Risposte**

Es.  $\frac{15}{25}$

1. \_\_\_\_\_

2. \_\_\_\_\_

3. \_\_\_\_\_

4. \_\_\_\_\_

5. \_\_\_\_\_

6. \_\_\_\_\_

7. \_\_\_\_\_

8. \_\_\_\_\_

9. \_\_\_\_\_


10. \_\_\_\_\_

11. \_\_\_\_\_




**Risolvi ogni problema.**

Es) Indica i pentagoni come una frazione dell'intero.



2) Indica i quadrati come una frazione dell'intero.



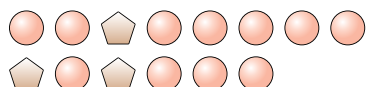
4) Indica i cuori come una frazione dell'intero.



6) Indica le stelle come una frazione dell'intero.



8) Indica i pentagoni come una frazione dell'intero.




10) Indica i cuori come una frazione dell'intero.



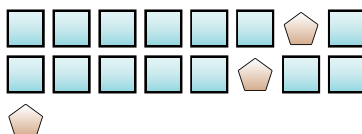
1) Indica le stelle come una frazione dell'intero.



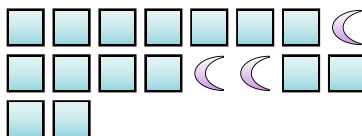
3) Indica i triangoli come una frazione dell'intero.



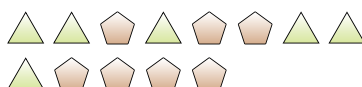
5) Indica i pentagoni come una frazione dell'intero.



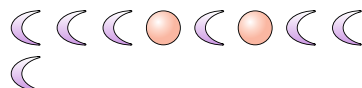
7) Indica i quadrati come una frazione dell'intero.



9) Indica i triangoli come una frazione dell'intero.



11) Indica le lune come una frazione dell'intero.



**Risposte**

Es.  $\frac{15}{25}$

1.  $\frac{13}{22}$

2.  $\frac{7}{19}$

3.  $\frac{15}{24}$

4.  $\frac{10}{13}$

5.  $\frac{3}{17}$

6.  $\frac{15}{18}$

7.  $\frac{15}{18}$

8.  $\frac{3}{14}$

9.  $\frac{6}{13}$

10.  $\frac{15}{23}$

11.  $\frac{7}{9}$