



Risolvi ogni problema, sciogliendo le frazioni. Il primo è un esempio.

Risposte

1) $4 : \frac{1}{5} = ?$ E' lo stesso di: Quanti $\frac{1}{5}$ ci sono in 4 interi?

1 interi	1 interi	1 interi	1 interi
<input type="checkbox"/>	<input type="checkbox"/>	<input type="checkbox"/>	<input type="checkbox"/>

2) $2 : \frac{1}{2} =$

1 interi	1 interi
<input type="checkbox"/>	<input type="checkbox"/>

3) $2 : \frac{1}{4} =$

1 interi	1 interi
<input type="checkbox"/>	<input type="checkbox"/>

4) $3 : \frac{1}{5} =$

1 interi	1 interi	1 interi
<input type="checkbox"/>	<input type="checkbox"/>	<input type="checkbox"/>

5) $5 : \frac{1}{6} =$

1 interi	1 interi	1 interi	1 interi	1 interi
<input type="checkbox"/>	<input type="checkbox"/>	<input type="checkbox"/>	<input type="checkbox"/>	<input type="checkbox"/>

6) $2 : \frac{1}{6} =$

1 interi	1 interi
<input type="checkbox"/>	<input type="checkbox"/>

7) $3 : \frac{1}{7} =$

1 interi	1 interi	1 interi
<input type="checkbox"/>	<input type="checkbox"/>	<input type="checkbox"/>

8) $3 : \frac{1}{4} =$

1 interi	1 interi	1 interi
<input type="checkbox"/>	<input type="checkbox"/>	<input type="checkbox"/>

9) $6 : \frac{1}{5} =$

1 interi	1 interi	1 interi	1 interi	1 interi	1 interi
<input type="checkbox"/>	<input type="checkbox"/>	<input type="checkbox"/>	<input type="checkbox"/>	<input type="checkbox"/>	<input type="checkbox"/>

10) $2 : \frac{1}{3} =$

1 interi	1 interi
<input type="checkbox"/>	<input type="checkbox"/>

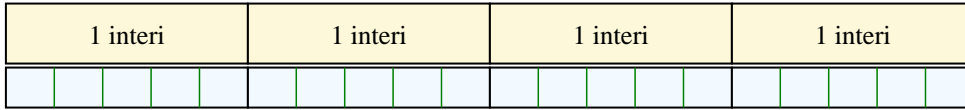
1. _____
2. _____
3. _____
4. _____
5. _____
6. _____
7. _____
8. _____
9. _____
10. _____



Risolvi ogni problema, sciogliendo le frazioni. Il primo è un esempio.


Risposte

1) $4 : \frac{1}{5} = ?$ E' lo stesso di: Quanti $\frac{1}{5}$ ci sono in 4 interi?




1. 20

2) $2 : \frac{1}{2} = ?$ E' lo stesso di: Quanti $\frac{1}{2}$ ci sono in 2 interi?



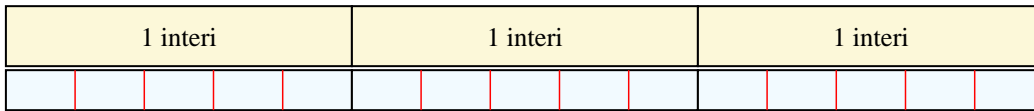
2. 4

3) $2 : \frac{1}{4} = ?$ E' lo stesso di: Quanti $\frac{1}{4}$ ci sono in 2 interi?



3. 8

4) $3 : \frac{1}{5} = ?$ E' lo stesso di: Quanti $\frac{1}{5}$ ci sono in 3 interi?



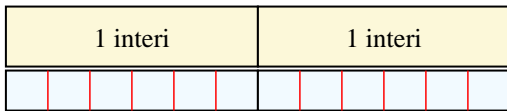
4. 15

5) $5 : \frac{1}{6} = ?$ E' lo stesso di: Quanti $\frac{1}{6}$ ci sono in 5 interi?



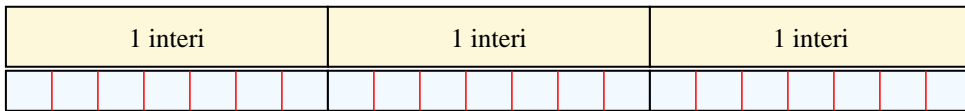
5. 30

6) $2 : \frac{1}{6} = ?$ E' lo stesso di: Quanti $\frac{1}{6}$ ci sono in 2 interi?



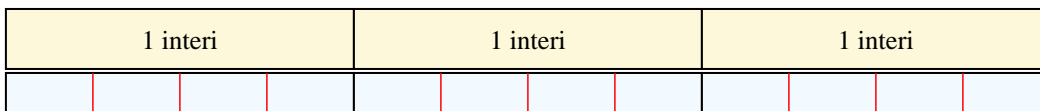
6. 12

7) $3 : \frac{1}{7} = ?$ E' lo stesso di: Quanti $\frac{1}{7}$ ci sono in 3 interi?




7. 21

8) $3 : \frac{1}{4} = ?$ E' lo stesso di: Quanti $\frac{1}{4}$ ci sono in 3 interi?




8. 12

9) $6 : \frac{1}{5} = ?$ E' lo stesso di: Quanti $\frac{1}{5}$ ci sono in 6 interi?



9. 30

10) $2 : \frac{1}{3} = ?$ E' lo stesso di: Quanti $\frac{1}{3}$ ci sono in 2 interi?



10. 6