



Risolvi ogni problema, sciogliendo le frazioni. Il primo è un esempio.

**Risposte**

1)  $5 : \frac{1}{6} = ?$  E' lo stesso di: Quanti  $\frac{1}{6}$  ci sono in 5 interi?

1 interi	1 interi	1 interi	1 interi	1 interi

2)  $3 : \frac{1}{6} =$

1 interi	1 interi	1 interi

3)  $2 : \frac{1}{2} =$

1 interi	1 interi

4)  $6 : \frac{1}{4} =$

1 interi	1 interi	1 interi	1 interi	1 interi	1 interi

5)  $6 : \frac{1}{6} =$

1 interi	1 interi	1 interi	1 interi	1 interi	1 interi

6)  $4 : \frac{1}{5} =$

1 interi	1 interi	1 interi	1 interi

7)  $5 : \frac{1}{2} =$

1 interi	1 interi	1 interi	1 interi	1 interi

8)  $5 : \frac{1}{5} =$

1 interi	1 interi	1 interi	1 interi	1 interi

9)  $3 : \frac{1}{4} =$

1 interi	1 interi	1 interi

10)  $4 : \frac{1}{6} =$

1 interi	1 interi	1 interi	1 interi

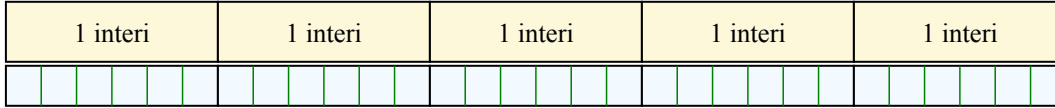
1. \_\_\_\_\_
2. \_\_\_\_\_
3. \_\_\_\_\_
4. \_\_\_\_\_
5. \_\_\_\_\_
6. \_\_\_\_\_
7. \_\_\_\_\_
8. \_\_\_\_\_
9. \_\_\_\_\_
10. \_\_\_\_\_



Risolvi ogni problema, sciogliendo le frazioni. Il primo è un esempio.

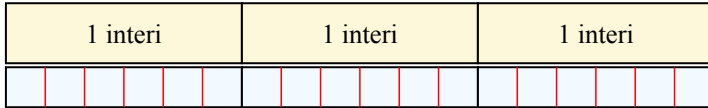
**Risposte**

1)  $5 : \frac{1}{6} = ?$  E' lo stesso di: Quanti  $\frac{1}{6}$  ci sono in 5 interi?



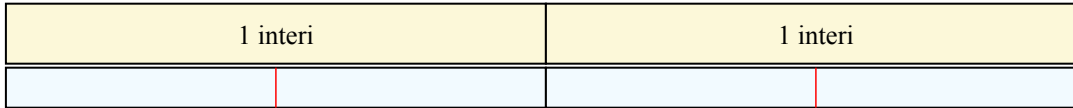
1. 30

2)  $3 : \frac{1}{6} = ?$  E' lo stesso di: Quanti  $\frac{1}{6}$  ci sono in 3 interi?




2. 18

3)  $2 : \frac{1}{2} = ?$  E' lo stesso di: Quanti  $\frac{1}{2}$  ci sono in 2 interi?



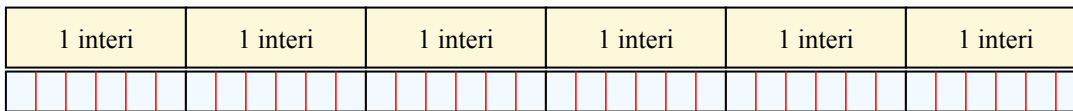
3. 4

4)  $6 : \frac{1}{4} = ?$  E' lo stesso di: Quanti  $\frac{1}{4}$  ci sono in 6 interi?



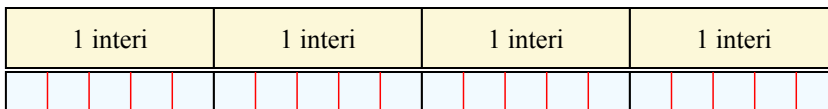
4. 24

5)  $6 : \frac{1}{6} = ?$  E' lo stesso di: Quanti  $\frac{1}{6}$  ci sono in 6 interi?



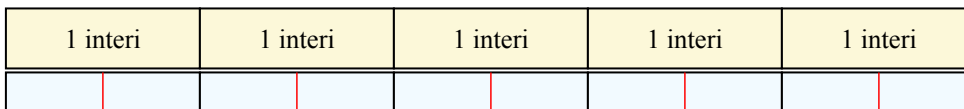
5. 36

6)  $4 : \frac{1}{5} = ?$  E' lo stesso di: Quanti  $\frac{1}{5}$  ci sono in 4 interi?



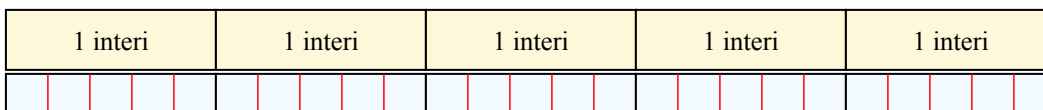
6. 20

7)  $5 : \frac{1}{2} = ?$  E' lo stesso di: Quanti  $\frac{1}{2}$  ci sono in 5 interi?



7. 10

8)  $5 : \frac{1}{5} = ?$  E' lo stesso di: Quanti  $\frac{1}{5}$  ci sono in 5 interi?



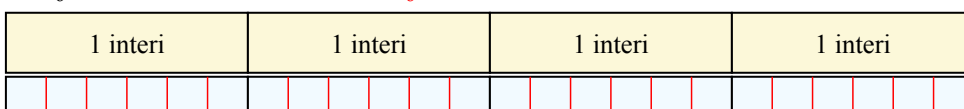
8. 25

9)  $3 : \frac{1}{4} = ?$  E' lo stesso di: Quanti  $\frac{1}{4}$  ci sono in 3 interi?



9. 12

10)  $4 : \frac{1}{6} = ?$  E' lo stesso di: Quanti  $\frac{1}{6}$  ci sono in 4 interi?



10. 24