



Risolvi ogni problema, sciogliendo le frazioni. Il primo è un esempio.

**Risposte**

1)  $3 : \frac{1}{5} = ?$  E' lo stesso di: Quanti  $\frac{1}{5}$  ci sono in 3 interi?

1 interi					1 interi					1 interi				

2)  $6 : \frac{1}{4} =$

1 interi				1 interi				1 interi				1 interi			

3)  $2 : \frac{1}{3} =$

1 interi						1 interi					

4)  $3 : \frac{1}{7} =$

1 interi							1 interi							1 interi																	

5)  $6 : \frac{1}{7} =$

1 interi				1 interi				1 interi				1 interi				1 interi															

6)  $3 : \frac{1}{4} =$

1 interi				1 interi				1 interi			

7)  $5 : \frac{1}{5} =$

1 interi					1 interi					1 interi					1 interi														

8)  $3 : \frac{1}{2} =$

1 interi						1 interi						1 interi					

9)  $4 : \frac{1}{4} =$

1 interi				1 interi				1 interi				1 interi											

10)  $2 : \frac{1}{4} =$

1 interi						1 interi					

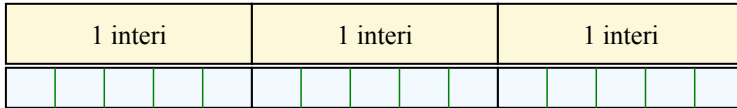
1. \_\_\_\_\_
2. \_\_\_\_\_
3. \_\_\_\_\_
4. \_\_\_\_\_
5. \_\_\_\_\_
6. \_\_\_\_\_
7. \_\_\_\_\_
8. \_\_\_\_\_
9. \_\_\_\_\_
10. \_\_\_\_\_




Risolvi ogni problema, sciogliendo le frazioni. Il primo è un esempio.

**Risposte**


1)  $3 : \frac{1}{5} = ?$  E' lo stesso di: Quanti  $\frac{1}{5}$  ci sono in 3 interi?



2)  $6 : \frac{1}{4} = ?$  E' lo stesso di: Quanti  $\frac{1}{4}$  ci sono in 6 interi?



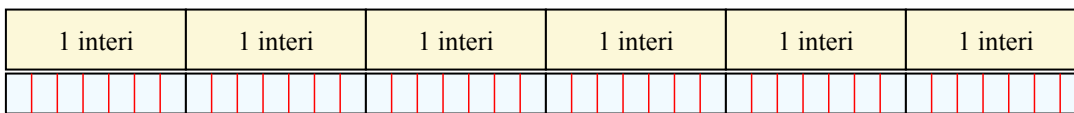
3)  $2 : \frac{1}{3} = ?$  E' lo stesso di: Quanti  $\frac{1}{3}$  ci sono in 2 interi?



4)  $3 : \frac{1}{7} = ?$  E' lo stesso di: Quanti  $\frac{1}{7}$  ci sono in 3 interi?



5)  $6 : \frac{1}{7} = ?$  E' lo stesso di: Quanti  $\frac{1}{7}$  ci sono in 6 interi?



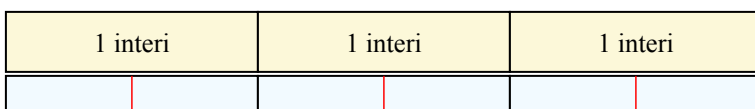
6)  $3 : \frac{1}{4} = ?$  E' lo stesso di: Quanti  $\frac{1}{4}$  ci sono in 3 interi?




7)  $5 : \frac{1}{5} = ?$  E' lo stesso di: Quanti  $\frac{1}{5}$  ci sono in 5 interi?




8)  $3 : \frac{1}{2} = ?$  E' lo stesso di: Quanti  $\frac{1}{2}$  ci sono in 3 interi?



9)  $4 : \frac{1}{4} = ?$  E' lo stesso di: Quanti  $\frac{1}{4}$  ci sono in 4 interi?



10)  $2 : \frac{1}{4} = ?$  E' lo stesso di: Quanti  $\frac{1}{4}$  ci sono in 2 interi?



1. 15
2. 24
3. 6
4. 21
5. 42
6. 12
7. 25
8. 6
9. 16
10. 8