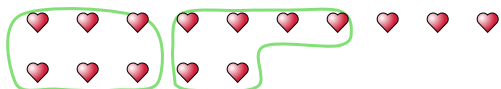





Segui l'esempio per rispondere alle domande.

Es) Cisono 15 figure qui sotto. Quanti gruppi di 6 puoi fare? Quanti ne restano fuori?



1) Cisono 22 figure qui sotto. Quanti gruppi di 4 puoi fare? Quanti ne restano fuori?



Risposte

Es. 2

Es. 3

1. _____

1. _____

2. _____

2. _____

3. _____

3. _____

4. _____

4. _____

5. _____

5. _____

6. _____

6. _____

7. _____

7. _____

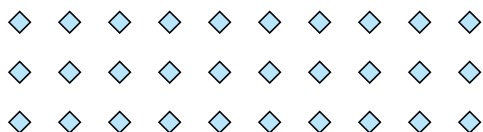
8. _____

8. _____

9. _____

9. _____


2) Cisono 30 figure qui sotto. Quanti gruppi di 3 puoi fare? Quanti ne restano fuori?



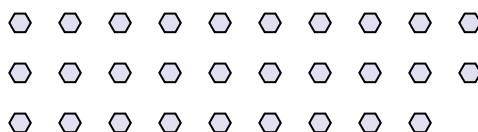
3) Cisono 10 figure qui sotto. Quanti gruppi di 5 puoi fare? Quanti ne restano fuori?




4) Cisono 13 figure qui sotto. Quanti gruppi di 8 puoi fare? Quanti ne restano fuori?



5) Cisono 29 figure qui sotto. Quanti gruppi di 7 puoi fare? Quanti ne restano fuori?



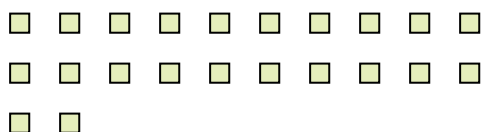
6) Cisono 24 figure qui sotto. Quanti gruppi di 2 puoi fare? Quanti ne restano fuori?



7) Cisono 15 figure qui sotto. Quanti gruppi di 3 puoi fare? Quanti ne restano fuori?



8) Cisono 22 figure qui sotto. Quanti gruppi di 2 puoi fare? Quanti ne restano fuori?



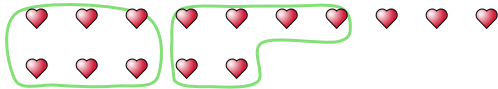
9) Cisono 26 figure qui sotto. Quanti gruppi di 4 puoi fare? Quanti ne restano fuori?






Segui l'esempio per rispondere alle domande.

Es) Cisono 15 figure qui sotto. Quanti gruppi di 6 puoi fare? Quanti ne restano fuori?



1) Cisono 22 figure qui sotto. Quanti gruppi di 4 puoi fare? Quanti ne restano fuori?



Risposte

Es. 2

Es. 3

1. 5

1. 2

2. 10

2. 0

3. 2

3. 0

4. 1

4. 5

5. 4

5. 1

6. 12

6. 0

7. 5

7. 0

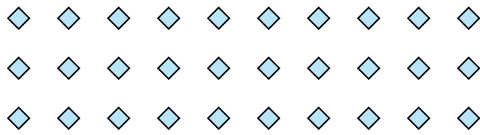
8. 11

8. 0

9. 6

9. 2


2) Cisono 30 figure qui sotto. Quanti gruppi di 3 puoi fare? Quanti ne restano fuori?



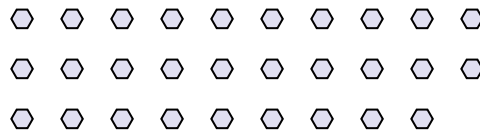
3) Cisono 10 figure qui sotto. Quanti gruppi di 5 puoi fare? Quanti ne restano fuori?




4) Cisono 13 figure qui sotto. Quanti gruppi di 8 puoi fare? Quanti ne restano fuori?



5) Cisono 29 figure qui sotto. Quanti gruppi di 7 puoi fare? Quanti ne restano fuori?



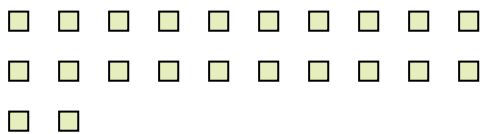
6) Cisono 24 figure qui sotto. Quanti gruppi di 2 puoi fare? Quanti ne restano fuori?



7) Cisono 15 figure qui sotto. Quanti gruppi di 3 puoi fare? Quanti ne restano fuori?



8) Cisono 22 figure qui sotto. Quanti gruppi di 2 puoi fare? Quanti ne restano fuori?



9) Cisono 26 figure qui sotto. Quanti gruppi di 4 puoi fare? Quanti ne restano fuori?

