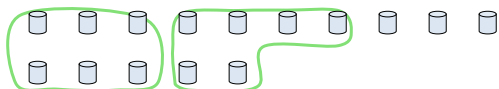




Segui l'esempio per rispondere alle domande.

Es) Cisono 15 figure qui sotto. Quanti gruppi di 6 puoi fare? Quanti ne restano fuori?



1) Cisono 18 figure qui sotto. Quanti gruppi di 6 puoi fare? Quanti ne restano fuori?



Risposte

Es. 2

Es. 3

1. _____

1. _____

2. _____

2. _____

3. _____

3. _____

4. _____

4. _____

5. _____

5. _____

6. _____

6. _____

7. _____

7. _____

8. _____

8. _____

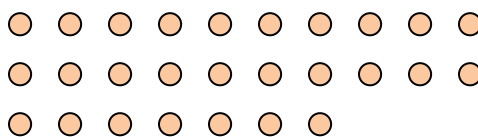
9. _____

9. _____

2) Cisono 15 figure qui sotto. Quanti gruppi di 3 puoi fare? Quanti ne restano fuori?



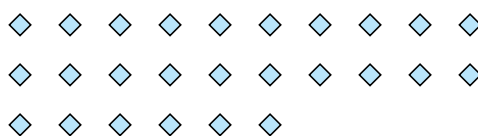
3) Cisono 27 figure qui sotto. Quanti gruppi di 8 puoi fare? Quanti ne restano fuori?



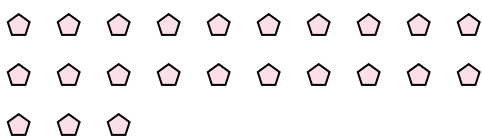
4) Cisono 13 figure qui sotto. Quanti gruppi di 6 puoi fare? Quanti ne restano fuori?



5) Cisono 26 figure qui sotto. Quanti gruppi di 5 puoi fare? Quanti ne restano fuori?



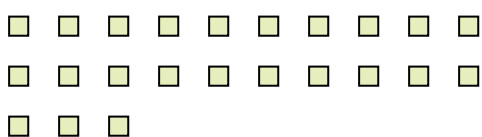
6) Cisono 23 figure qui sotto. Quanti gruppi di 7 puoi fare? Quanti ne restano fuori?



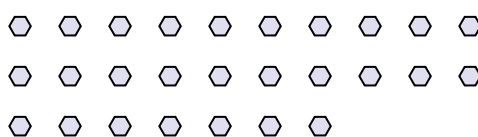
7) Cisono 11 figure qui sotto. Quanti gruppi di 5 puoi fare? Quanti ne restano fuori?



8) Cisono 23 figure qui sotto. Quanti gruppi di 7 puoi fare? Quanti ne restano fuori?



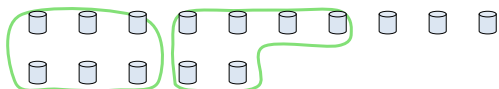
9) Cisono 27 figure qui sotto. Quanti gruppi di 2 puoi fare? Quanti ne restano fuori?





Segui l'esempio per rispondere alle domande.

Es) Cisono 15 figure qui sotto. Quanti gruppi di 6 puoi fare? Quanti ne restano fuori?



1) Cisono 18 figure qui sotto. Quanti gruppi di 6 puoi fare? Quanti ne restano fuori?



Risposte

Es. 2

Es. 3

1. 3

1. 0

2. 5

2. 0

3. 3

3. 3

4. 2

4. 1

5. 5

5. 1

6. 3

6. 2

7. 2

7. 1

8. 3

8. 2

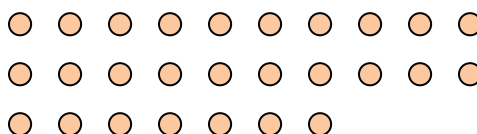
9. 13

9. 1

2) Cisono 15 figure qui sotto. Quanti gruppi di 3 puoi fare? Quanti ne restano fuori?



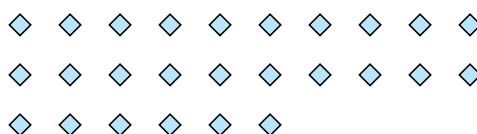
3) Cisono 27 figure qui sotto. Quanti gruppi di 8 puoi fare? Quanti ne restano fuori?



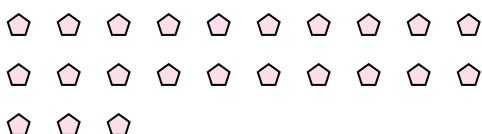
4) Cisono 13 figure qui sotto. Quanti gruppi di 6 puoi fare? Quanti ne restano fuori?



5) Cisono 26 figure qui sotto. Quanti gruppi di 5 puoi fare? Quanti ne restano fuori?



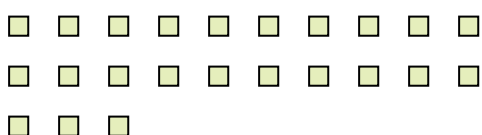
6) Cisono 23 figure qui sotto. Quanti gruppi di 7 puoi fare? Quanti ne restano fuori?



7) Cisono 11 figure qui sotto. Quanti gruppi di 5 puoi fare? Quanti ne restano fuori?



8) Cisono 23 figure qui sotto. Quanti gruppi di 7 puoi fare? Quanti ne restano fuori?



9) Cisono 27 figure qui sotto. Quanti gruppi di 2 puoi fare? Quanti ne restano fuori?

