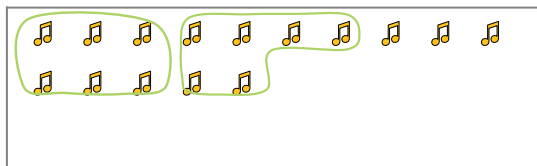




Segui l'esempio per rispondere alle domande.

Es) Cisono 15 figure qui sotto. Quanti gruppi di 6 puoi fare? Quanti ne restano fuori?



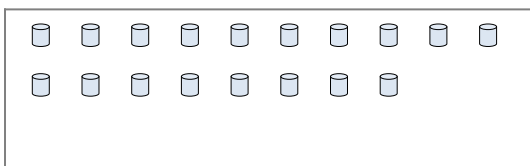
1) Cisono 13 figure qui sotto. Quanti gruppi di 4 puoi fare? Quanti ne restano fuori?



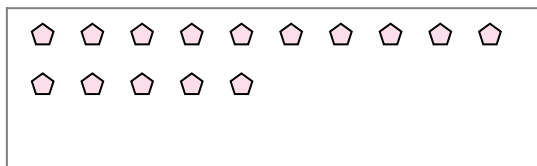
2) Cisono 22 figure qui sotto. Quanti gruppi di 6 puoi fare? Quanti ne restano fuori?



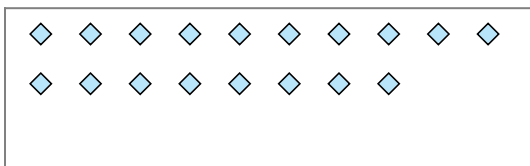
3) Cisono 18 figure qui sotto. Quanti gruppi di 2 puoi fare? Quanti ne restano fuori?



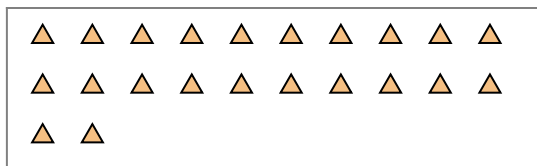
4) Cisono 15 figure qui sotto. Quanti gruppi di 7 puoi fare? Quanti ne restano fuori?



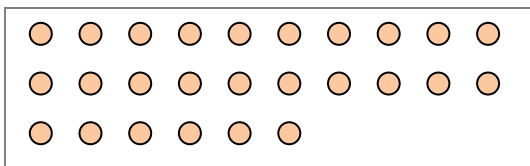
5) Cisono 18 figure qui sotto. Quanti gruppi di 3 puoi fare? Quanti ne restano fuori?



6) Cisono 22 figure qui sotto. Quanti gruppi di 4 puoi fare? Quanti ne restano fuori?




7) Cisono 26 figure qui sotto. Quanti gruppi di 3 puoi fare? Quanti ne restano fuori?



8) Cisono 30 figure qui sotto. Quanti gruppi di 7 puoi fare? Quanti ne restano fuori?



9) Cisono 27 figure qui sotto. Quanti gruppi di 4 puoi fare? Quanti ne restano fuori?



**Risposte**

Es. 2

Es. 3

1a. \_\_\_\_\_

1b. \_\_\_\_\_

2a. \_\_\_\_\_

2b. \_\_\_\_\_

3a. \_\_\_\_\_

3b. \_\_\_\_\_

4a. \_\_\_\_\_

4b. \_\_\_\_\_

5a. \_\_\_\_\_

5b. \_\_\_\_\_

6a. \_\_\_\_\_

6b. \_\_\_\_\_

7a. \_\_\_\_\_

7b. \_\_\_\_\_

8a. \_\_\_\_\_

8b. \_\_\_\_\_

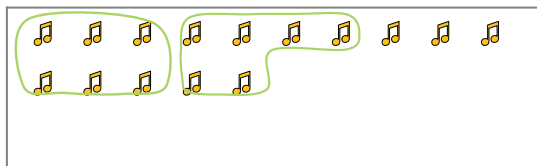
9a. \_\_\_\_\_

9b. \_\_\_\_\_



Segui l'esempio per rispondere alle domande.

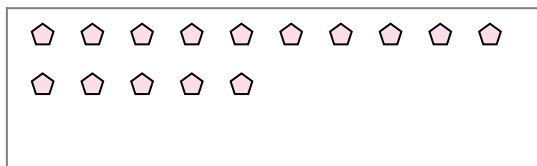
Es) Cisono 15 figure qui sotto. Quanti gruppi di 6 puoi fare? Quanti ne restano fuori?



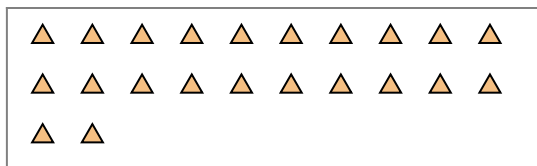
2) Cisono 22 figure qui sotto. Quanti gruppi di 6 puoi fare? Quanti ne restano fuori?



4) Cisono 15 figure qui sotto. Quanti gruppi di 7 puoi fare? Quanti ne restano fuori?



6) Cisono 22 figure qui sotto. Quanti gruppi di 4 puoi fare? Quanti ne restano fuori?



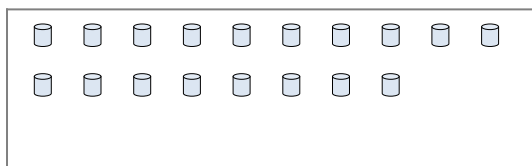
8) Cisono 30 figure qui sotto. Quanti gruppi di 7 puoi fare? Quanti ne restano fuori?



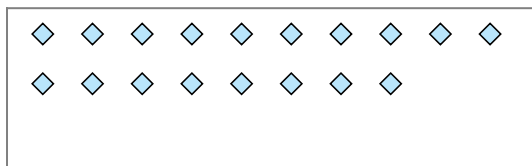
1) Cisono 13 figure qui sotto. Quanti gruppi di 4 puoi fare? Quanti ne restano fuori?



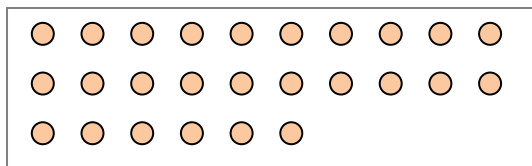
3) Cisono 18 figure qui sotto. Quanti gruppi di 2 puoi fare? Quanti ne restano fuori?




5) Cisono 18 figure qui sotto. Quanti gruppi di 3 puoi fare? Quanti ne restano fuori?



7) Cisono 26 figure qui sotto. Quanti gruppi di 3 puoi fare? Quanti ne restano fuori?



9) Cisono 27 figure qui sotto. Quanti gruppi di 4 puoi fare? Quanti ne restano fuori?



**Risposte**

Es. 2

Es. 3

1a. 3

1b. 1

2a. 3

2b. 4

3a. 9

3b. 0

4a. 2

4b. 1

5a. 6

5b. 0

6a. 5

6b. 2

7a. 8

7b. 2

8a. 4

8b. 2

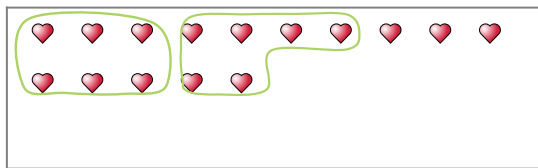
9a. 6

9b. 3

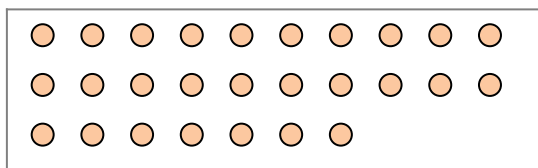


Segui l'esempio per rispondere alle domande.

Es) Cisono 15 figure qui sotto. Quanti gruppi di 6 puoi fare? Quanti ne restano fuori?



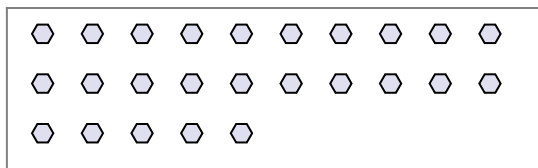
2) Cisono 27 figure qui sotto. Quanti gruppi di 9 puoi fare? Quanti ne restano fuori?



4) Cisono 27 figure qui sotto. Quanti gruppi di 2 puoi fare? Quanti ne restano fuori?



6) Cisono 25 figure qui sotto. Quanti gruppi di 2 puoi fare? Quanti ne restano fuori?



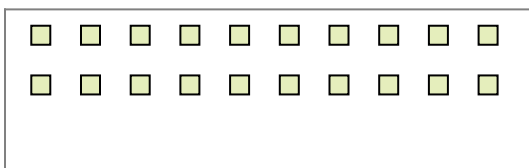
8) Cisono 27 figure qui sotto. Quanti gruppi di 7 puoi fare? Quanti ne restano fuori?



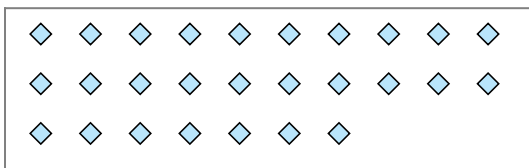
1) Cisono 19 figure qui sotto. Quanti gruppi di 9 puoi fare? Quanti ne restano fuori?



3) Cisono 20 figure qui sotto. Quanti gruppi di 8 puoi fare? Quanti ne restano fuori?




5) Cisono 27 figure qui sotto. Quanti gruppi di 2 puoi fare? Quanti ne restano fuori?



7) Cisono 30 figure qui sotto. Quanti gruppi di 6 puoi fare? Quanti ne restano fuori?



9) Cisono 11 figure qui sotto. Quanti gruppi di 9 puoi fare? Quanti ne restano fuori?



**Risposte**

Es. 2

Es. 3

1a. \_\_\_\_\_

1b. \_\_\_\_\_

2a. \_\_\_\_\_

2b. \_\_\_\_\_

3a. \_\_\_\_\_

3b. \_\_\_\_\_

4a. \_\_\_\_\_

4b. \_\_\_\_\_

5a. \_\_\_\_\_

5b. \_\_\_\_\_

6a. \_\_\_\_\_

6b. \_\_\_\_\_

7a. \_\_\_\_\_

7b. \_\_\_\_\_

8a. \_\_\_\_\_

8b. \_\_\_\_\_

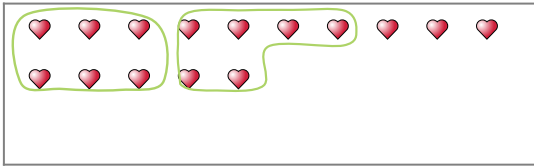
9a. \_\_\_\_\_

9b. \_\_\_\_\_

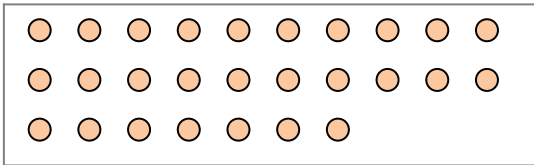


Segui l'esempio per rispondere alle domande.

Es) Cisono 15 figure qui sotto. Quanti gruppi di 6 puoi fare? Quanti ne restano fuori?



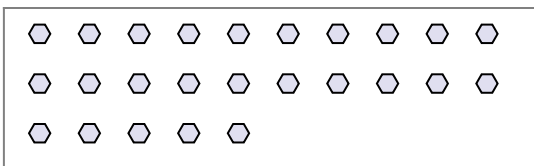
2) Cisono 27 figure qui sotto. Quanti gruppi di 9 puoi fare? Quanti ne restano fuori?



4) Cisono 27 figure qui sotto. Quanti gruppi di 2 puoi fare? Quanti ne restano fuori?



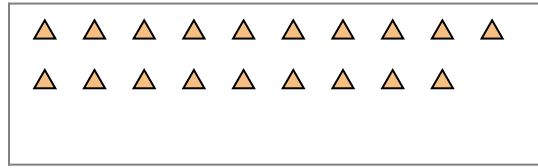
6) Cisono 25 figure qui sotto. Quanti gruppi di 2 puoi fare? Quanti ne restano fuori?



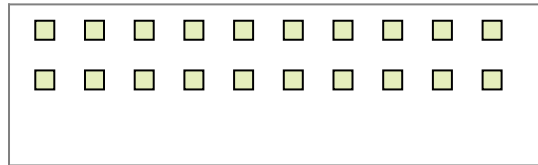
8) Cisono 27 figure qui sotto. Quanti gruppi di 7 puoi fare? Quanti ne restano fuori?



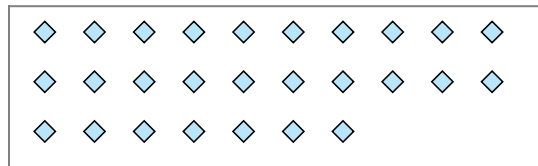
1) Cisono 19 figure qui sotto. Quanti gruppi di 9 puoi fare? Quanti ne restano fuori?



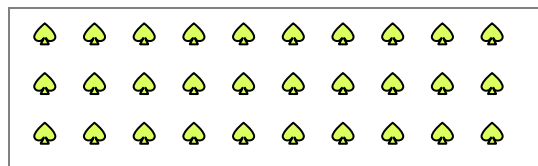
3) Cisono 20 figure qui sotto. Quanti gruppi di 8 puoi fare? Quanti ne restano fuori?




5) Cisono 27 figure qui sotto. Quanti gruppi di 2 puoi fare? Quanti ne restano fuori?



7) Cisono 30 figure qui sotto. Quanti gruppi di 6 puoi fare? Quanti ne restano fuori?



9) Cisono 11 figure qui sotto. Quanti gruppi di 9 puoi fare? Quanti ne restano fuori?



**Risposte**

Es. 2

Es. 3

1a. 2

1b. 1

2a. 3

2b. 0

3a. 2

3b. 4

4a. 13

4b. 1

5a. 13

5b. 1

6a. 12

6b. 1

7a. 5

7b. 0

8a. 3

8b. 6

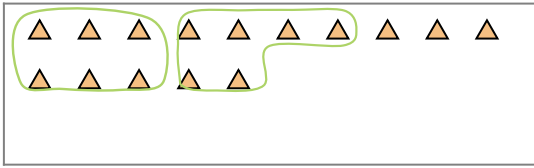
9a. 1

9b. 2

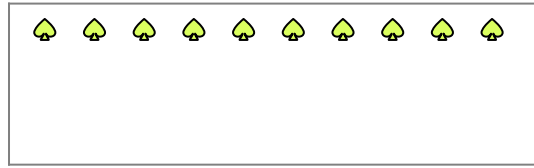


Segui l'esempio per rispondere alle domande.

Es) Cisono 15 figure qui sotto. Quanti gruppi di 6 puoi fare? Quanti ne restano fuori?




1) Cisono 10 figure qui sotto. Quanti gruppi di 4 puoi fare? Quanti ne restano fuori?



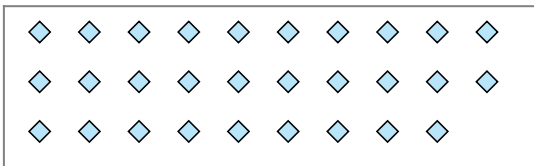
2) Cisono 12 figure qui sotto. Quanti gruppi di 7 puoi fare? Quanti ne restano fuori?




3) Cisono 23 figure qui sotto. Quanti gruppi di 3 puoi fare? Quanti ne restano fuori?



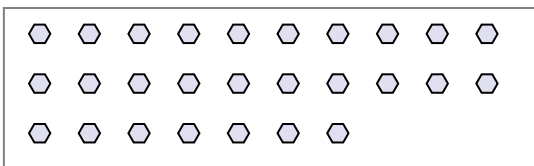
4) Cisono 29 figure qui sotto. Quanti gruppi di 5 puoi fare? Quanti ne restano fuori?



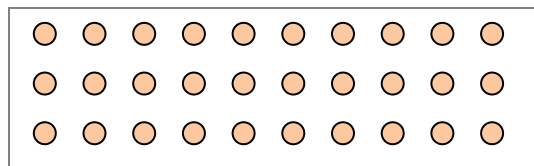
5) Cisono 16 figure qui sotto. Quanti gruppi di 4 puoi fare? Quanti ne restano fuori?



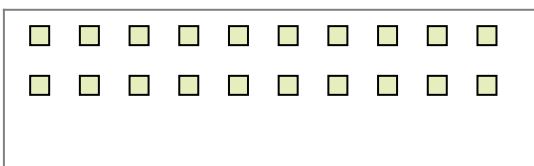
6) Cisono 27 figure qui sotto. Quanti gruppi di 4 puoi fare? Quanti ne restano fuori?



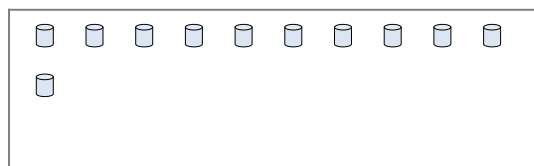
7) Cisono 30 figure qui sotto. Quanti gruppi di 9 puoi fare? Quanti ne restano fuori?



8) Cisono 20 figure qui sotto. Quanti gruppi di 9 puoi fare? Quanti ne restano fuori?



9) Cisono 11 figure qui sotto. Quanti gruppi di 2 puoi fare? Quanti ne restano fuori?



**Risposte**

Es. 2

Es. 3

1a. \_\_\_\_\_

1b. \_\_\_\_\_

2a. \_\_\_\_\_

2b. \_\_\_\_\_

3a. \_\_\_\_\_

3b. \_\_\_\_\_

4a. \_\_\_\_\_

4b. \_\_\_\_\_

5a. \_\_\_\_\_

5b. \_\_\_\_\_

6a. \_\_\_\_\_

6b. \_\_\_\_\_

7a. \_\_\_\_\_

7b. \_\_\_\_\_

8a. \_\_\_\_\_

8b. \_\_\_\_\_

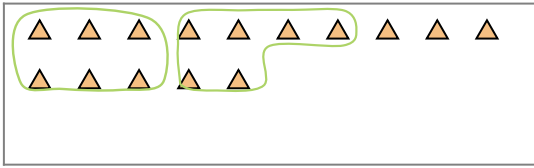
9a. \_\_\_\_\_

9b. \_\_\_\_\_

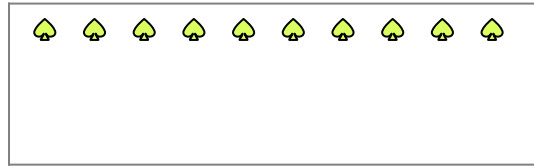


Segui l'esempio per rispondere alle domande.

Es) Cisono 15 figure qui sotto. Quanti gruppi di 6 puoi fare? Quanti ne restano fuori?




1) Cisono 10 figure qui sotto. Quanti gruppi di 4 puoi fare? Quanti ne restano fuori?



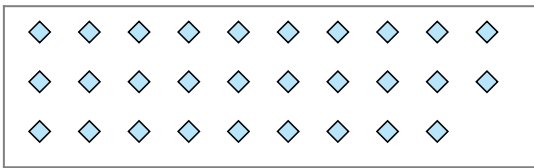
2) Cisono 12 figure qui sotto. Quanti gruppi di 7 puoi fare? Quanti ne restano fuori?




3) Cisono 23 figure qui sotto. Quanti gruppi di 3 puoi fare? Quanti ne restano fuori?



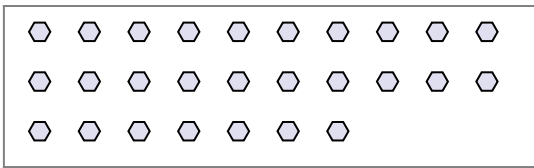
4) Cisono 29 figure qui sotto. Quanti gruppi di 5 puoi fare? Quanti ne restano fuori?



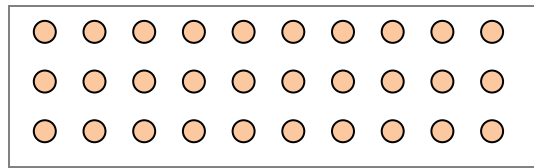
5) Cisono 16 figure qui sotto. Quanti gruppi di 4 puoi fare? Quanti ne restano fuori?



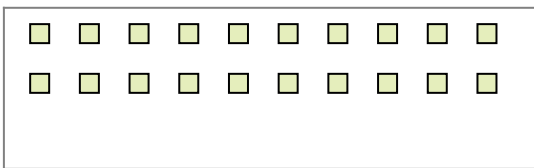
6) Cisono 27 figure qui sotto. Quanti gruppi di 4 puoi fare? Quanti ne restano fuori?



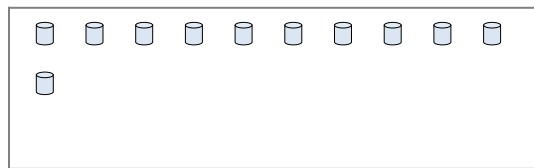
7) Cisono 30 figure qui sotto. Quanti gruppi di 9 puoi fare? Quanti ne restano fuori?



8) Cisono 20 figure qui sotto. Quanti gruppi di 9 puoi fare? Quanti ne restano fuori?



9) Cisono 11 figure qui sotto. Quanti gruppi di 2 puoi fare? Quanti ne restano fuori?



**Risposte**

Es. 2

Es. 3

1a. 2

1b. 2

2a. 1

2b. 5

3a. 7

3b. 2

4a. 5

4b. 4

5a. 4

5b. 0

6a. 6

6b. 3

7a. 3

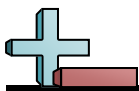
7b. 3

8a. 2

8b. 2

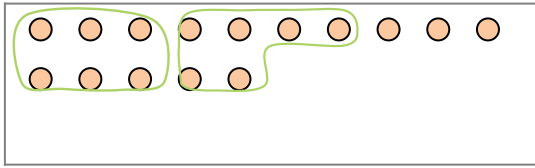
9a. 5

9b. 1



Segui l'esempio per rispondere alle domande.

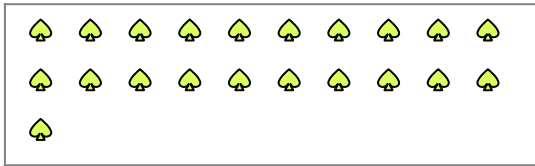
Es) Cisono 15 figure qui sotto. Quanti gruppi di 6 puoi fare? Quanti ne restano fuori?



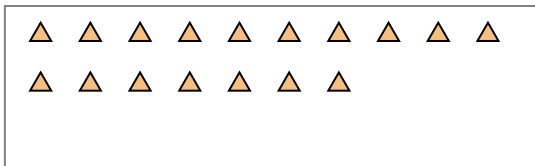
2) Cisono 28 figure qui sotto. Quanti gruppi di 6 puoi fare? Quanti ne restano fuori?



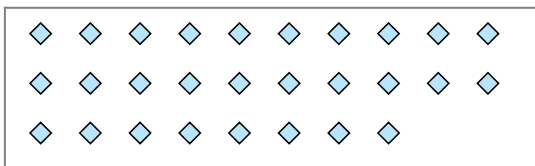
4) Cisono 21 figure qui sotto. Quanti gruppi di 8 puoi fare? Quanti ne restano fuori?



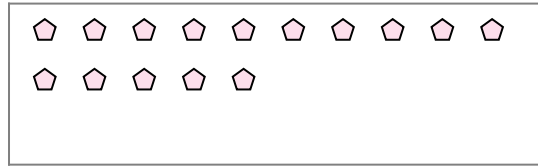
6) Cisono 17 figure qui sotto. Quanti gruppi di 7 puoi fare? Quanti ne restano fuori?



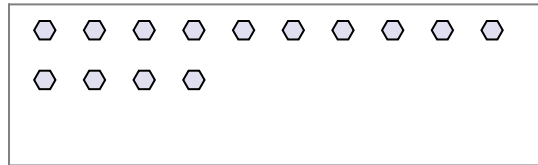
8) Cisono 28 figure qui sotto. Quanti gruppi di 4 puoi fare? Quanti ne restano fuori?



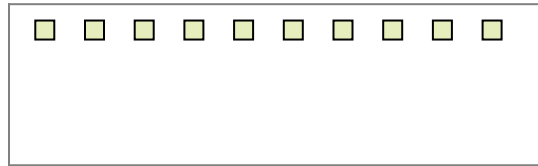
1) Cisono 15 figure qui sotto. Quanti gruppi di 2 puoi fare? Quanti ne restano fuori?




3) Cisono 14 figure qui sotto. Quanti gruppi di 5 puoi fare? Quanti ne restano fuori?



5) Cisono 10 figure qui sotto. Quanti gruppi di 8 puoi fare? Quanti ne restano fuori?



7) Cisono 22 figure qui sotto. Quanti gruppi di 5 puoi fare? Quanti ne restano fuori?



9) Cisono 14 figure qui sotto. Quanti gruppi di 2 puoi fare? Quanti ne restano fuori?



**Risposte**

Es. 2

Es. 3

1a. \_\_\_\_\_

1b. \_\_\_\_\_

2a. \_\_\_\_\_

2b. \_\_\_\_\_

3a. \_\_\_\_\_

3b. \_\_\_\_\_

4a. \_\_\_\_\_

4b. \_\_\_\_\_

5a. \_\_\_\_\_

5b. \_\_\_\_\_

6a. \_\_\_\_\_

6b. \_\_\_\_\_

7a. \_\_\_\_\_

7b. \_\_\_\_\_

8a. \_\_\_\_\_

8b. \_\_\_\_\_

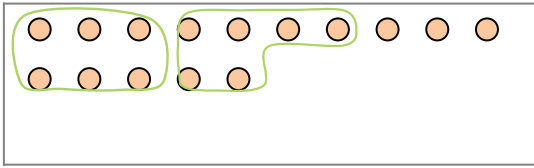
9a. \_\_\_\_\_

9b. \_\_\_\_\_

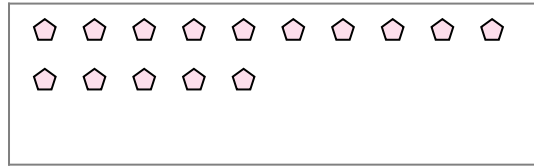


Segui l'esempio per rispondere alle domande.

Es) Cisono 15 figure qui sotto. Quanti gruppi di 6 puoi fare? Quanti ne restano fuori?



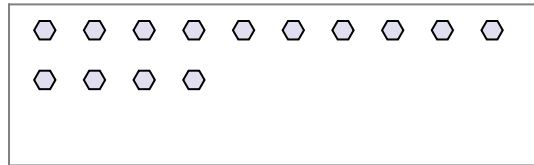
1) Cisono 15 figure qui sotto. Quanti gruppi di 2 puoi fare? Quanti ne restano fuori?



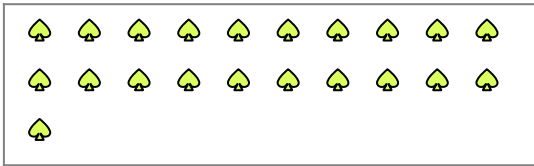
2) Cisono 28 figure qui sotto. Quanti gruppi di 6 puoi fare? Quanti ne restano fuori?



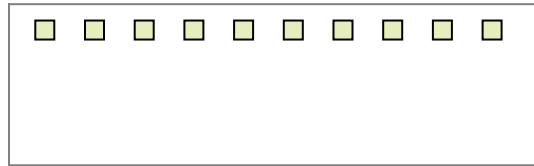
3) Cisono 14 figure qui sotto. Quanti gruppi di 5 puoi fare? Quanti ne restano fuori?



4) Cisono 21 figure qui sotto. Quanti gruppi di 8 puoi fare? Quanti ne restano fuori?




5) Cisono 10 figure qui sotto. Quanti gruppi di 8 puoi fare? Quanti ne restano fuori?



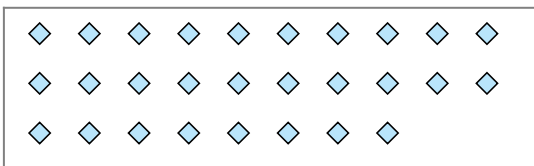
6) Cisono 17 figure qui sotto. Quanti gruppi di 7 puoi fare? Quanti ne restano fuori?




7) Cisono 22 figure qui sotto. Quanti gruppi di 5 puoi fare? Quanti ne restano fuori?



8) Cisono 28 figure qui sotto. Quanti gruppi di 4 puoi fare? Quanti ne restano fuori?



9) Cisono 14 figure qui sotto. Quanti gruppi di 2 puoi fare? Quanti ne restano fuori?



**Risposte**

Es. 2

Es. 3

1a. 7

1b. 1

2a. 4

2b. 4

3a. 2

3b. 4

4a. 2

4b. 5

5a. 1

5b. 2

6a. 2

6b. 3

7a. 4

7b. 2

8a. 7

8b. 0

9a. 7

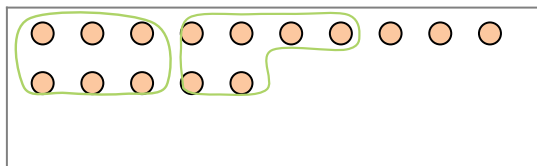
9b. 0



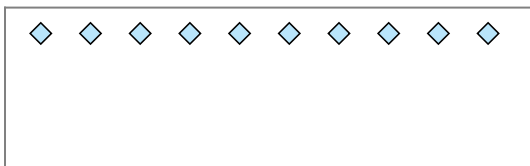


Segui l'esempio per rispondere alle domande.


Es) Cisono 15 figure qui sotto. Quanti gruppi di 6 puoi fare? Quanti ne restano fuori?



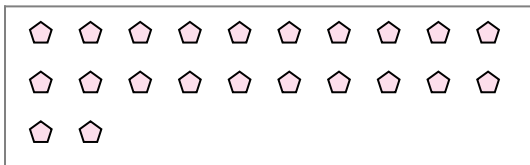
1) Cisono 10 figure qui sotto. Quanti gruppi di 6 puoi fare? Quanti ne restano fuori?




2) Cisono 15 figure qui sotto. Quanti gruppi di 4 puoi fare? Quanti ne restano fuori?



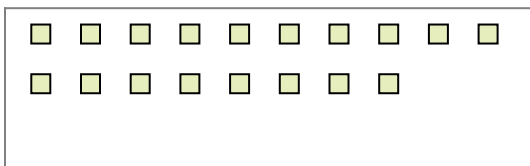
3) Cisono 22 figure qui sotto. Quanti gruppi di 6 puoi fare? Quanti ne restano fuori?



4) Cisono 30 figure qui sotto. Quanti gruppi di 8 puoi fare? Quanti ne restano fuori?



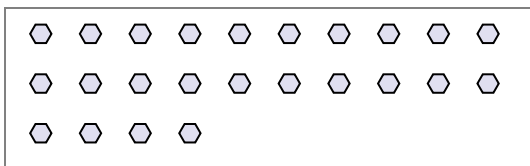
5) Cisono 18 figure qui sotto. Quanti gruppi di 6 puoi fare? Quanti ne restano fuori?




6) Cisono 11 figure qui sotto. Quanti gruppi di 6 puoi fare? Quanti ne restano fuori?



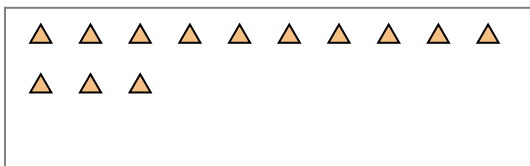
7) Cisono 24 figure qui sotto. Quanti gruppi di 7 puoi fare? Quanti ne restano fuori?



8) Cisono 21 figure qui sotto. Quanti gruppi di 6 puoi fare? Quanti ne restano fuori?



9) Cisono 13 figure qui sotto. Quanti gruppi di 5 puoi fare? Quanti ne restano fuori?



**Risposte**

Es. 2

Es. 3

1a. \_\_\_\_\_

1b. \_\_\_\_\_

2a. \_\_\_\_\_

2b. \_\_\_\_\_

3a. \_\_\_\_\_

3b. \_\_\_\_\_

4a. \_\_\_\_\_

4b. \_\_\_\_\_

5a. \_\_\_\_\_

5b. \_\_\_\_\_

6a. \_\_\_\_\_

6b. \_\_\_\_\_

7a. \_\_\_\_\_

7b. \_\_\_\_\_

8a. \_\_\_\_\_

8b. \_\_\_\_\_

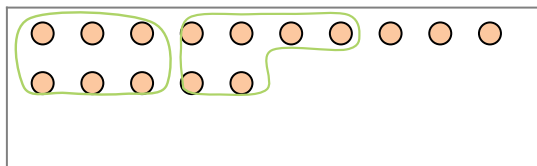
9a. \_\_\_\_\_

9b. \_\_\_\_\_

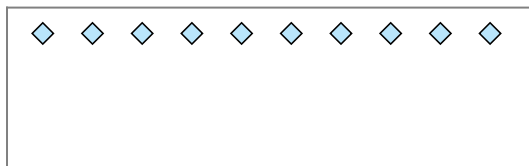


Segui l'esempio per rispondere alle domande.


Es) Cisono 15 figure qui sotto. Quanti gruppi di 6 puoi fare? Quanti ne restano fuori?



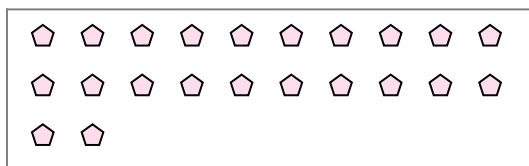
1) Cisono 10 figure qui sotto. Quanti gruppi di 6 puoi fare? Quanti ne restano fuori?




2) Cisono 15 figure qui sotto. Quanti gruppi di 4 puoi fare? Quanti ne restano fuori?



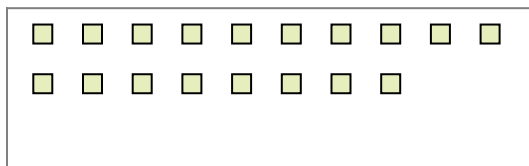
3) Cisono 22 figure qui sotto. Quanti gruppi di 6 puoi fare? Quanti ne restano fuori?



4) Cisono 30 figure qui sotto. Quanti gruppi di 8 puoi fare? Quanti ne restano fuori?



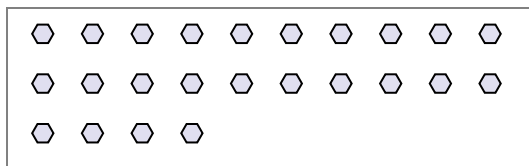
5) Cisono 18 figure qui sotto. Quanti gruppi di 6 puoi fare? Quanti ne restano fuori?




6) Cisono 11 figure qui sotto. Quanti gruppi di 6 puoi fare? Quanti ne restano fuori?



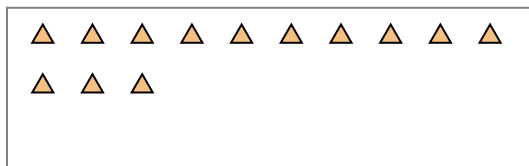
7) Cisono 24 figure qui sotto. Quanti gruppi di 7 puoi fare? Quanti ne restano fuori?



8) Cisono 21 figure qui sotto. Quanti gruppi di 6 puoi fare? Quanti ne restano fuori?



9) Cisono 13 figure qui sotto. Quanti gruppi di 5 puoi fare? Quanti ne restano fuori?



**Risposte**

Es. 2

Es. 3

1a. 1

1b. 4

2a. 3

2b. 3

3a. 3

3b. 4

4a. 3

4b. 6

5a. 3

5b. 0

6a. 1

6b. 5

7a. 3

7b. 3

8a. 3

8b. 3


9a. 2

9b. 3




Segui l'esempio per rispondere alle domande.

Es) Cisono 15 figure qui sotto. Quanti gruppi di 6 puoi fare? Quanti ne restano fuori?



1) Cisono 25 figure qui sotto. Quanti gruppi di 5 puoi fare? Quanti ne restano fuori?

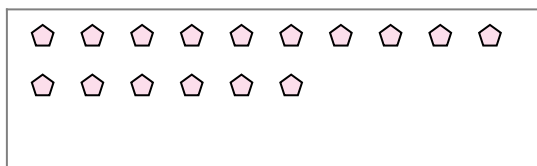


**Risposte**

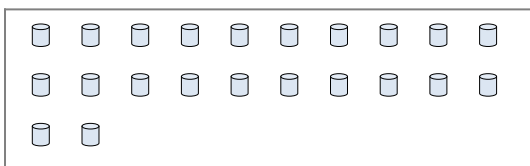
Es. 2

Es. 3

2) Cisono 16 figure qui sotto. Quanti gruppi di 7 puoi fare? Quanti ne restano fuori?



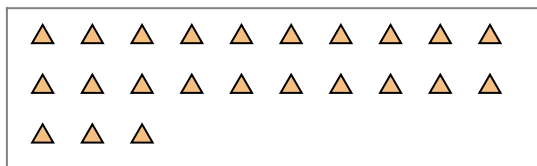
3) Cisono 22 figure qui sotto. Quanti gruppi di 9 puoi fare? Quanti ne restano fuori?




1a. \_\_\_\_\_

1b. \_\_\_\_\_

4) Cisono 23 figure qui sotto. Quanti gruppi di 5 puoi fare? Quanti ne restano fuori?



5) Cisono 18 figure qui sotto. Quanti gruppi di 9 puoi fare? Quanti ne restano fuori?



2a. \_\_\_\_\_

2b. \_\_\_\_\_

3a. \_\_\_\_\_

3b. \_\_\_\_\_

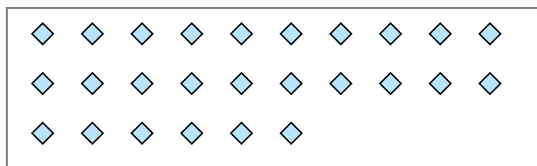
4a. \_\_\_\_\_

4b. \_\_\_\_\_

5a. \_\_\_\_\_

5b. \_\_\_\_\_

6) Cisono 26 figure qui sotto. Quanti gruppi di 6 puoi fare? Quanti ne restano fuori?



7) Cisono 14 figure qui sotto. Quanti gruppi di 2 puoi fare? Quanti ne restano fuori?



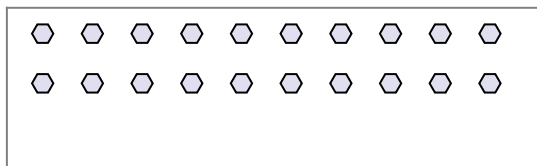
6a. \_\_\_\_\_

6b. \_\_\_\_\_

7a. \_\_\_\_\_

7b. \_\_\_\_\_

8) Cisono 20 figure qui sotto. Quanti gruppi di 4 puoi fare? Quanti ne restano fuori?



9) Cisono 22 figure qui sotto. Quanti gruppi di 4 puoi fare? Quanti ne restano fuori?



8a. \_\_\_\_\_

8b. \_\_\_\_\_


9a. \_\_\_\_\_

9b. \_\_\_\_\_




Segui l'esempio per rispondere alle domande.

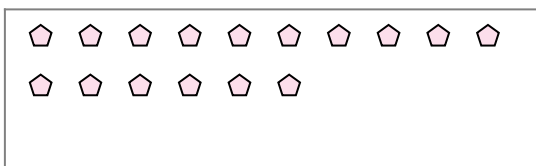
Es) Cisono 15 figure qui sotto. Quanti gruppi di 6 puoi fare? Quanti ne restano fuori?



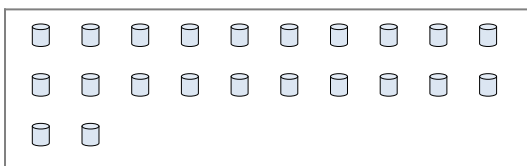
1) Cisono 25 figure qui sotto. Quanti gruppi di 5 puoi fare? Quanti ne restano fuori?



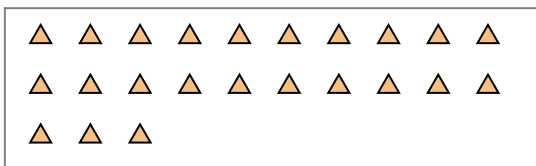
2) Cisono 16 figure qui sotto. Quanti gruppi di 7 puoi fare? Quanti ne restano fuori?




3) Cisono 22 figure qui sotto. Quanti gruppi di 9 puoi fare? Quanti ne restano fuori?



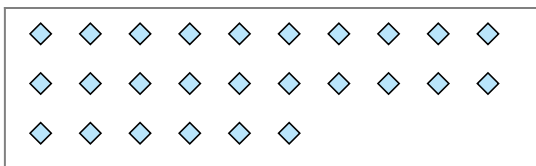
4) Cisono 23 figure qui sotto. Quanti gruppi di 5 puoi fare? Quanti ne restano fuori?



5) Cisono 18 figure qui sotto. Quanti gruppi di 9 puoi fare? Quanti ne restano fuori?



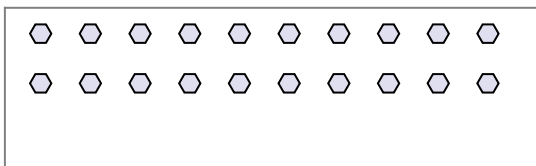
6) Cisono 26 figure qui sotto. Quanti gruppi di 6 puoi fare? Quanti ne restano fuori?



7) Cisono 14 figure qui sotto. Quanti gruppi di 2 puoi fare? Quanti ne restano fuori?



8) Cisono 20 figure qui sotto. Quanti gruppi di 4 puoi fare? Quanti ne restano fuori?



9) Cisono 22 figure qui sotto. Quanti gruppi di 4 puoi fare? Quanti ne restano fuori?



**Risposte**

Es. 2

Es. 3

1a. 5

1b. 0

2a. 2

2b. 2

3a. 2

3b. 4

4a. 4

4b. 3

5a. 2

5b. 0

6a. 4

6b. 2

7a. 7

7b. 0

8a. 5

8b. 0

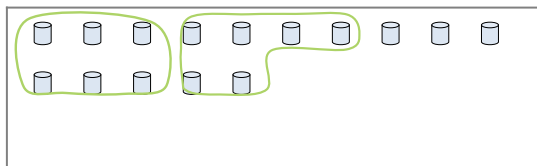
9a. 5

9b. 2




Segui l'esempio per rispondere alle domande.

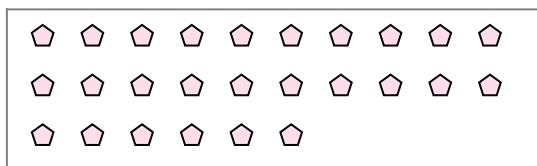
Es) Cisono 15 figure qui sotto. Quanti gruppi di 6 puoi fare? Quanti ne restano fuori?



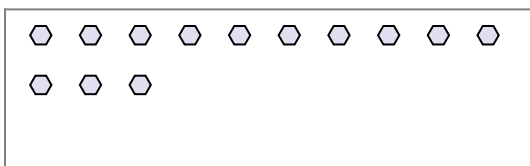
1) Cisono 14 figure qui sotto. Quanti gruppi di 3 puoi fare? Quanti ne restano fuori?



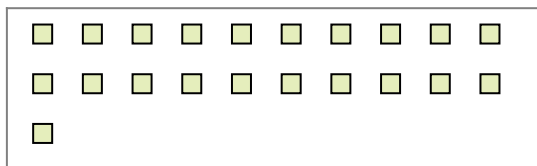
2) Cisono 26 figure qui sotto. Quanti gruppi di 7 puoi fare? Quanti ne restano fuori?




3) Cisono 13 figure qui sotto. Quanti gruppi di 9 puoi fare? Quanti ne restano fuori?



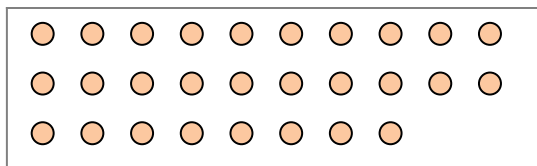
4) Cisono 21 figure qui sotto. Quanti gruppi di 7 puoi fare? Quanti ne restano fuori?



5) Cisono 20 figure qui sotto. Quanti gruppi di 6 puoi fare? Quanti ne restano fuori?



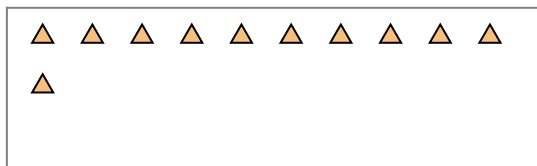
6) Cisono 28 figure qui sotto. Quanti gruppi di 7 puoi fare? Quanti ne restano fuori?



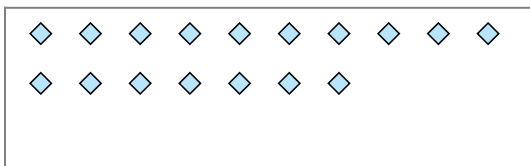
7) Cisono 21 figure qui sotto. Quanti gruppi di 4 puoi fare? Quanti ne restano fuori?



8) Cisono 11 figure qui sotto. Quanti gruppi di 6 puoi fare? Quanti ne restano fuori?



9) Cisono 17 figure qui sotto. Quanti gruppi di 4 puoi fare? Quanti ne restano fuori?



**Risposte**

Es. 2

Es. 3

1a. \_\_\_\_\_

1b. \_\_\_\_\_

2a. \_\_\_\_\_

2b. \_\_\_\_\_

3a. \_\_\_\_\_

3b. \_\_\_\_\_

4a. \_\_\_\_\_

4b. \_\_\_\_\_

5a. \_\_\_\_\_

5b. \_\_\_\_\_

6a. \_\_\_\_\_

6b. \_\_\_\_\_

7a. \_\_\_\_\_

7b. \_\_\_\_\_

8a. \_\_\_\_\_

8b. \_\_\_\_\_

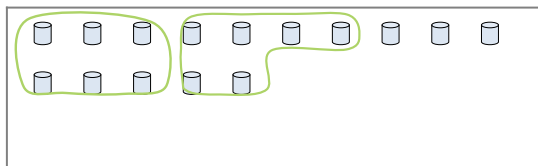
9a. \_\_\_\_\_

9b. \_\_\_\_\_

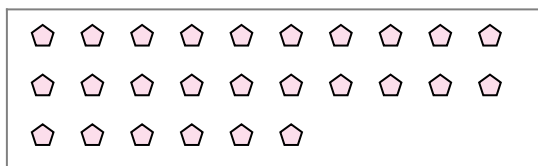


Segui l'esempio per rispondere alle domande.

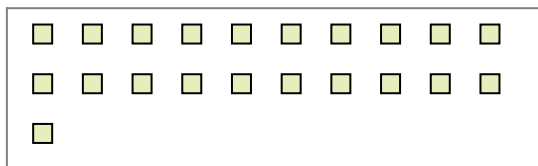
Es) Cisono 15 figure qui sotto. Quanti gruppi di 6 puoi fare? Quanti ne restano fuori?



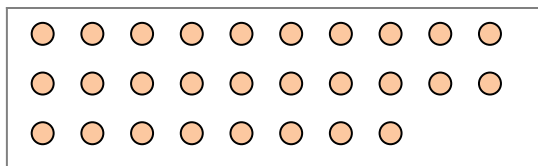
2) Cisono 26 figure qui sotto. Quanti gruppi di 7 puoi fare? Quanti ne restano fuori?



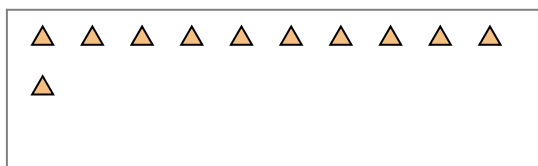
4) Cisono 21 figure qui sotto. Quanti gruppi di 7 puoi fare? Quanti ne restano fuori?




6) Cisono 28 figure qui sotto. Quanti gruppi di 7 puoi fare? Quanti ne restano fuori?



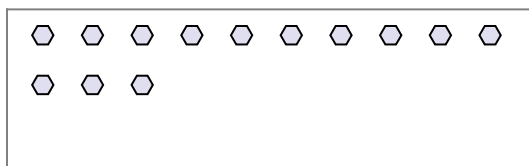
8) Cisono 11 figure qui sotto. Quanti gruppi di 6 puoi fare? Quanti ne restano fuori?




1) Cisono 14 figure qui sotto. Quanti gruppi di 3 puoi fare? Quanti ne restano fuori?



3) Cisono 13 figure qui sotto. Quanti gruppi di 9 puoi fare? Quanti ne restano fuori?



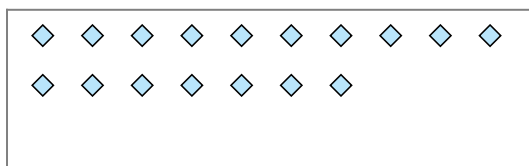
5) Cisono 20 figure qui sotto. Quanti gruppi di 6 puoi fare? Quanti ne restano fuori?



7) Cisono 21 figure qui sotto. Quanti gruppi di 4 puoi fare? Quanti ne restano fuori?



9) Cisono 17 figure qui sotto. Quanti gruppi di 4 puoi fare? Quanti ne restano fuori?



**Risposte**

Es. 2

Es. 3

1a. 4

1b. 2

2a. 3

2b. 5

3a. 1

3b. 4

4a. 3

4b. 0

5a. 3

5b. 2

6a. 4

6b. 0

7a. 5

7b. 1

8a. 1

8b. 5

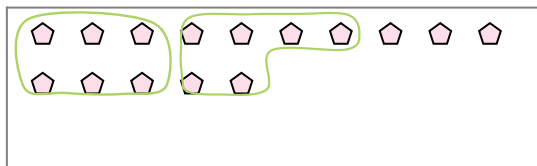
9a. 4

9b. 1

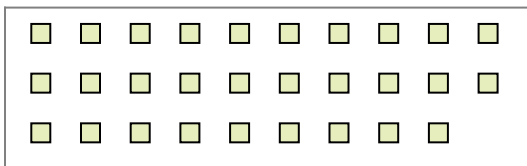


Segui l'esempio per rispondere alle domande.

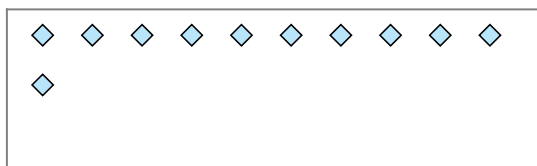
Es) Cisono 15 figure qui sotto. Quanti gruppi di 6 puoi fare? Quanti ne restano fuori?



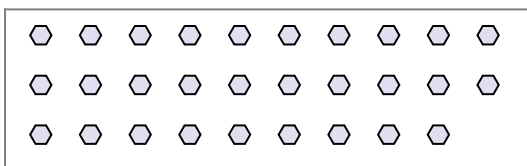
1) Cisono 29 figure qui sotto. Quanti gruppi di 6 puoi fare? Quanti ne restano fuori?




2) Cisono 11 figure qui sotto. Quanti gruppi di 6 puoi fare? Quanti ne restano fuori?



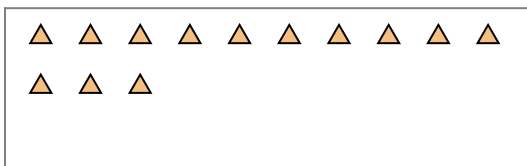
3) Cisono 29 figure qui sotto. Quanti gruppi di 3 puoi fare? Quanti ne restano fuori?



4) Cisono 24 figure qui sotto. Quanti gruppi di 9 puoi fare? Quanti ne restano fuori?



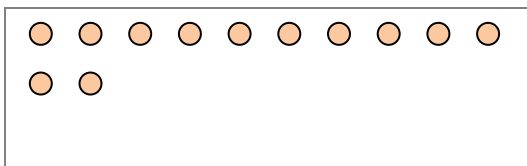
5) Cisono 13 figure qui sotto. Quanti gruppi di 8 puoi fare? Quanti ne restano fuori?



6) Cisono 12 figure qui sotto. Quanti gruppi di 4 puoi fare? Quanti ne restano fuori?




7) Cisono 12 figure qui sotto. Quanti gruppi di 3 puoi fare? Quanti ne restano fuori?



8) Cisono 18 figure qui sotto. Quanti gruppi di 3 puoi fare? Quanti ne restano fuori?



9) Cisono 21 figure qui sotto. Quanti gruppi di 7 puoi fare? Quanti ne restano fuori?



**Risposte**

Es. 2

Es. 3

1a. \_\_\_\_\_

1b. \_\_\_\_\_

2a. \_\_\_\_\_

2b. \_\_\_\_\_

3a. \_\_\_\_\_

3b. \_\_\_\_\_

4a. \_\_\_\_\_

4b. \_\_\_\_\_

5a. \_\_\_\_\_

5b. \_\_\_\_\_

6a. \_\_\_\_\_

6b. \_\_\_\_\_

7a. \_\_\_\_\_

7b. \_\_\_\_\_

8a. \_\_\_\_\_

8b. \_\_\_\_\_

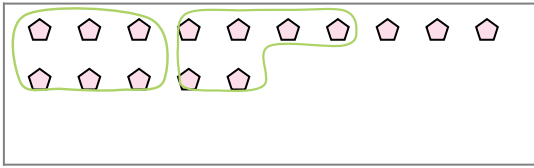
9a. \_\_\_\_\_

9b. \_\_\_\_\_

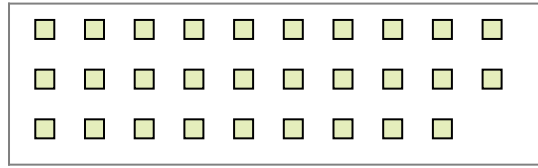


Segui l'esempio per rispondere alle domande.

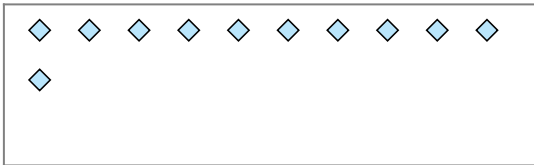
Es) Cisono 15 figure qui sotto. Quanti gruppi di 6 puoi fare? Quanti ne restano fuori?



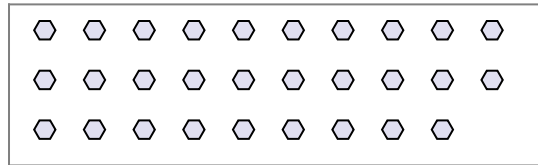
1) Cisono 29 figure qui sotto. Quanti gruppi di 6 puoi fare? Quanti ne restano fuori?




2) Cisono 11 figure qui sotto. Quanti gruppi di 6 puoi fare? Quanti ne restano fuori?



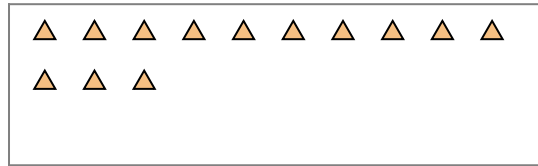
3) Cisono 29 figure qui sotto. Quanti gruppi di 3 puoi fare? Quanti ne restano fuori?



4) Cisono 24 figure qui sotto. Quanti gruppi di 9 puoi fare? Quanti ne restano fuori?



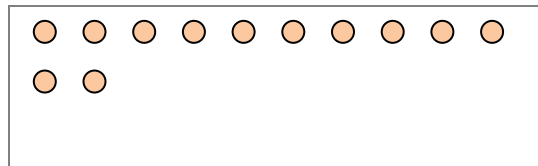
5) Cisono 13 figure qui sotto. Quanti gruppi di 8 puoi fare? Quanti ne restano fuori?



6) Cisono 12 figure qui sotto. Quanti gruppi di 4 puoi fare? Quanti ne restano fuori?




7) Cisono 12 figure qui sotto. Quanti gruppi di 3 puoi fare? Quanti ne restano fuori?



8) Cisono 18 figure qui sotto. Quanti gruppi di 3 puoi fare? Quanti ne restano fuori?



9) Cisono 21 figure qui sotto. Quanti gruppi di 7 puoi fare? Quanti ne restano fuori?



**Risposte**

Es. 2

Es. 3

1a. 4

1b. 5

2a. 1

2b. 5

3a. 9

3b. 2

4a. 2

4b. 6

5a. 1

5b. 5

6a. 3

6b. 0

7a. 4

7b. 0

8a. 6

8b. 0

9a. 3

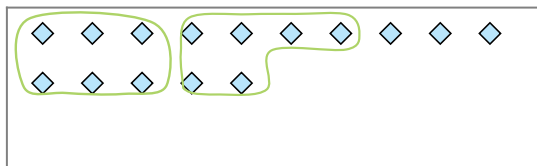
9b. 0





Segui l'esempio per rispondere alle domande.

Es) Cisono 15 figure qui sotto. Quanti gruppi di 6 puoi fare? Quanti ne restano fuori?



1) Cisono 18 figure qui sotto. Quanti gruppi di 4 puoi fare? Quanti ne restano fuori?



**Risposte**

Es. 2

Es. 3

1a. \_\_\_\_\_

1b. \_\_\_\_\_

2a. \_\_\_\_\_

2b. \_\_\_\_\_

3a. \_\_\_\_\_

3b. \_\_\_\_\_

4a. \_\_\_\_\_

4b. \_\_\_\_\_

5a. \_\_\_\_\_

5b. \_\_\_\_\_

6a. \_\_\_\_\_

6b. \_\_\_\_\_

7a. \_\_\_\_\_

7b. \_\_\_\_\_

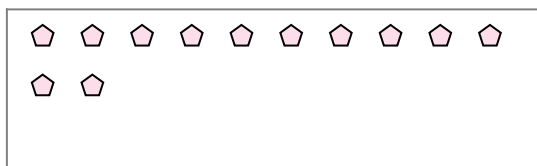
8a. \_\_\_\_\_

8b. \_\_\_\_\_

9a. \_\_\_\_\_

9b. \_\_\_\_\_

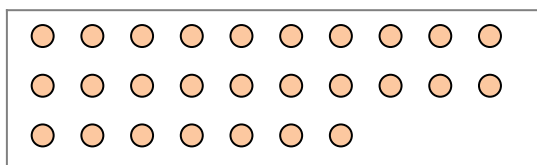
2) Cisono 12 figure qui sotto. Quanti gruppi di 5 puoi fare? Quanti ne restano fuori?



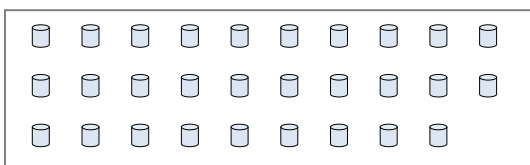
3) Cisono 21 figure qui sotto. Quanti gruppi di 7 puoi fare? Quanti ne restano fuori?



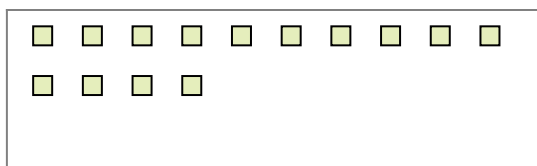
4) Cisono 27 figure qui sotto. Quanti gruppi di 2 puoi fare? Quanti ne restano fuori?




5) Cisono 29 figure qui sotto. Quanti gruppi di 4 puoi fare? Quanti ne restano fuori?



6) Cisono 14 figure qui sotto. Quanti gruppi di 4 puoi fare? Quanti ne restano fuori?



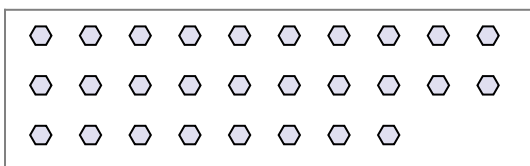
7) Cisono 16 figure qui sotto. Quanti gruppi di 6 puoi fare? Quanti ne restano fuori?



8) Cisono 25 figure qui sotto. Quanti gruppi di 8 puoi fare? Quanti ne restano fuori?



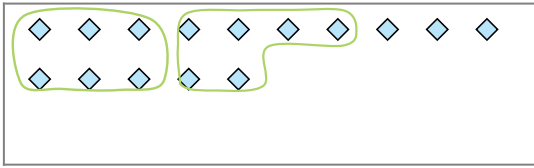
9) Cisono 28 figure qui sotto. Quanti gruppi di 7 puoi fare? Quanti ne restano fuori?



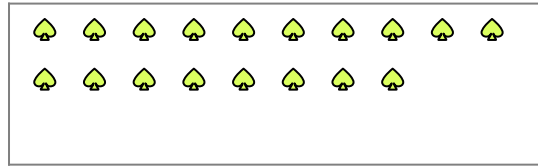


Segui l'esempio per rispondere alle domande.

Es) Cisono 15 figure qui sotto. Quanti gruppi di 6 puoi fare? Quanti ne restano fuori?



1) Cisono 18 figure qui sotto. Quanti gruppi di 4 puoi fare? Quanti ne restano fuori?



**Risposte**

Es. 2

Es. 3

1a. 4

1b. 2

2a. 2

2b. 2

3a. 3

3b. 0

4a. 13

4b. 1

5a. 7

5b. 1

6a. 3

6b. 2

7a. 2

7b. 4

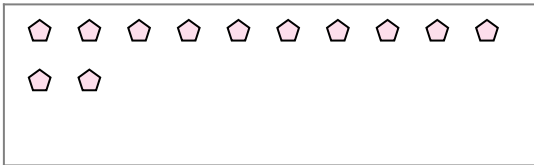
8a. 3

8b. 1


9a. 4

9b. 0

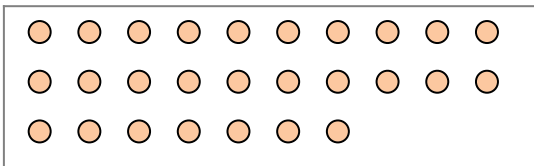
2) Cisono 12 figure qui sotto. Quanti gruppi di 5 puoi fare? Quanti ne restano fuori?



3) Cisono 21 figure qui sotto. Quanti gruppi di 7 puoi fare? Quanti ne restano fuori?



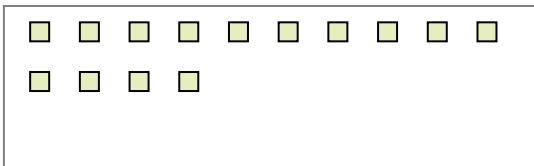
4) Cisono 27 figure qui sotto. Quanti gruppi di 2 puoi fare? Quanti ne restano fuori?




5) Cisono 29 figure qui sotto. Quanti gruppi di 4 puoi fare? Quanti ne restano fuori?



6) Cisono 14 figure qui sotto. Quanti gruppi di 4 puoi fare? Quanti ne restano fuori?



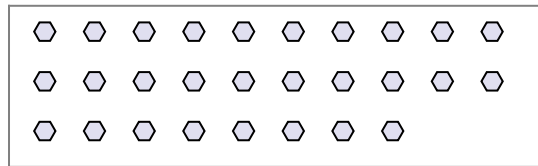
7) Cisono 16 figure qui sotto. Quanti gruppi di 6 puoi fare? Quanti ne restano fuori?



8) Cisono 25 figure qui sotto. Quanti gruppi di 8 puoi fare? Quanti ne restano fuori?



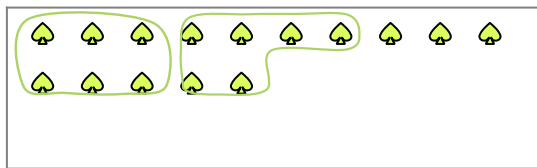
9) Cisono 28 figure qui sotto. Quanti gruppi di 7 puoi fare? Quanti ne restano fuori?



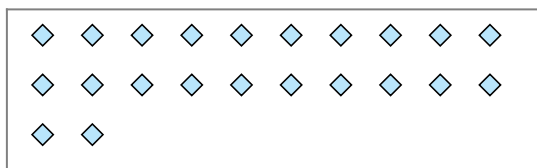


Segui l'esempio per rispondere alle domande.

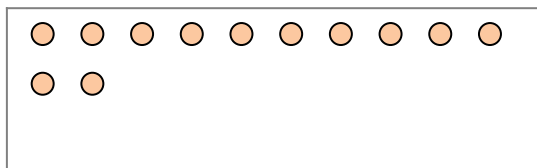
Es) Cisono 15 figure qui sotto. Quanti gruppi di 6 puoi fare? Quanti ne restano fuori?



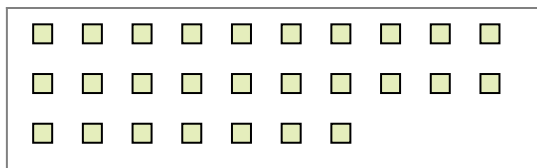
2) Cisono 22 figure qui sotto. Quanti gruppi di 2 puoi fare? Quanti ne restano fuori?



4) Cisono 12 figure qui sotto. Quanti gruppi di 7 puoi fare? Quanti ne restano fuori?



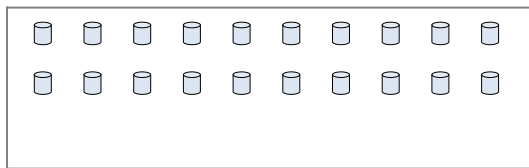
6) Cisono 27 figure qui sotto. Quanti gruppi di 7 puoi fare? Quanti ne restano fuori?




8) Cisono 11 figure qui sotto. Quanti gruppi di 9 puoi fare? Quanti ne restano fuori?



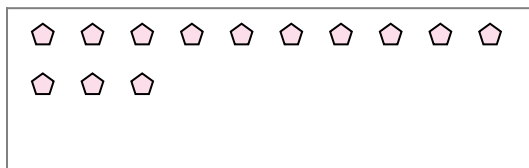
1) Cisono 20 figure qui sotto. Quanti gruppi di 4 puoi fare? Quanti ne restano fuori?




3) Cisono 16 figure qui sotto. Quanti gruppi di 8 puoi fare? Quanti ne restano fuori?



5) Cisono 13 figure qui sotto. Quanti gruppi di 7 puoi fare? Quanti ne restano fuori?



7) Cisono 24 figure qui sotto. Quanti gruppi di 9 puoi fare? Quanti ne restano fuori?



9) Cisono 29 figure qui sotto. Quanti gruppi di 2 puoi fare? Quanti ne restano fuori?



**Risposte**

Es. 2

Es. 3

1a. \_\_\_\_\_

1b. \_\_\_\_\_

2a. \_\_\_\_\_

2b. \_\_\_\_\_

3a. \_\_\_\_\_

3b. \_\_\_\_\_

4a. \_\_\_\_\_

4b. \_\_\_\_\_

5a. \_\_\_\_\_

5b. \_\_\_\_\_

6a. \_\_\_\_\_

6b. \_\_\_\_\_

7a. \_\_\_\_\_

7b. \_\_\_\_\_

8a. \_\_\_\_\_

8b. \_\_\_\_\_

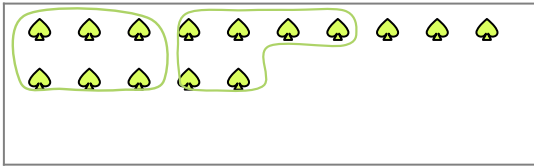
9a. \_\_\_\_\_

9b. \_\_\_\_\_

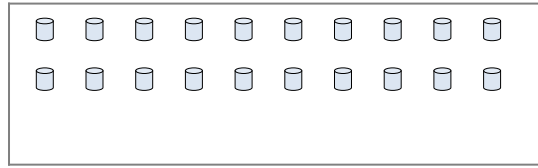


Segui l'esempio per rispondere alle domande.

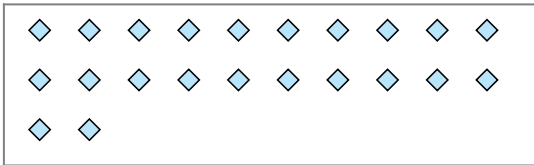
Es) Cisono 15 figure qui sotto. Quanti gruppi di 6 puoi fare? Quanti ne restano fuori?




1) Cisono 20 figure qui sotto. Quanti gruppi di 4 puoi fare? Quanti ne restano fuori?



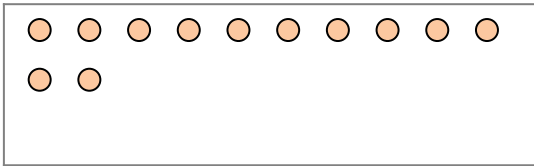
2) Cisono 22 figure qui sotto. Quanti gruppi di 2 puoi fare? Quanti ne restano fuori?



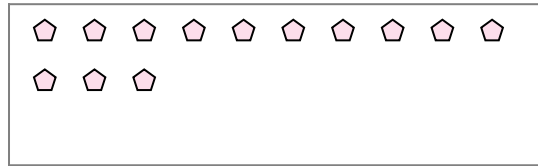
3) Cisono 16 figure qui sotto. Quanti gruppi di 8 puoi fare? Quanti ne restano fuori?



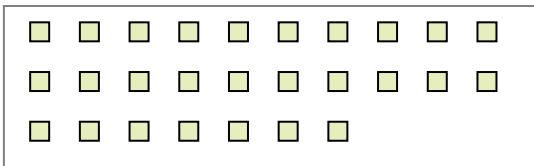
4) Cisono 12 figure qui sotto. Quanti gruppi di 7 puoi fare? Quanti ne restano fuori?




5) Cisono 13 figure qui sotto. Quanti gruppi di 7 puoi fare? Quanti ne restano fuori?



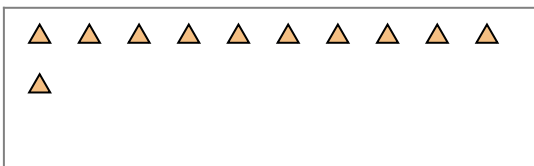
6) Cisono 27 figure qui sotto. Quanti gruppi di 7 puoi fare? Quanti ne restano fuori?



7) Cisono 24 figure qui sotto. Quanti gruppi di 9 puoi fare? Quanti ne restano fuori?



8) Cisono 11 figure qui sotto. Quanti gruppi di 9 puoi fare? Quanti ne restano fuori?



9) Cisono 29 figure qui sotto. Quanti gruppi di 2 puoi fare? Quanti ne restano fuori?



**Risposte**

Es. 2

Es. 3

1a. 5

1b. 0

2a. 11

2b. 0

3a. 2

3b. 0

4a. 1

4b. 5

5a. 1

5b. 6

6a. 3

6b. 6

7a. 2

7b. 6

8a. 1

8b. 2

9a. 14

9b. 1