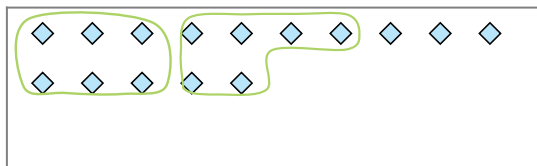




Segui l'esempio per rispondere alle domande.

Es) Cisono 15 figure qui sotto. Quanti gruppi di 6 puoi fare? Quanti ne restano fuori?



1) Cisono 18 figure qui sotto. Quanti gruppi di 4 puoi fare? Quanti ne restano fuori?



Risposte

Es. 2

Es. 3

1a. _____

1b. _____

2a. _____

2b. _____

3a. _____

3b. _____

4a. _____

4b. _____

5a. _____

5b. _____

6a. _____

6b. _____

7a. _____

7b. _____

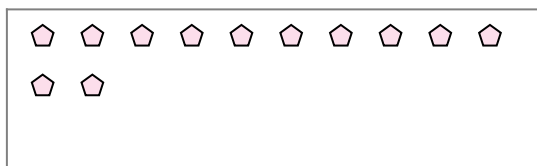
8a. _____

8b. _____

9a. _____

9b. _____

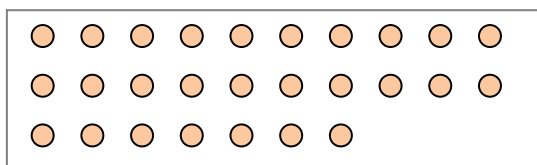
2) Cisono 12 figure qui sotto. Quanti gruppi di 5 puoi fare? Quanti ne restano fuori?



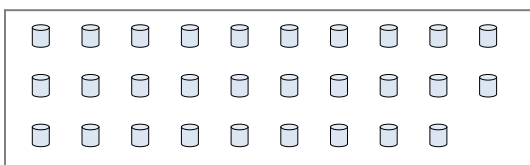
3) Cisono 21 figure qui sotto. Quanti gruppi di 7 puoi fare? Quanti ne restano fuori?



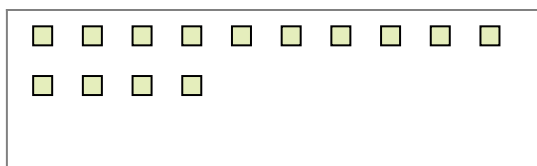
4) Cisono 27 figure qui sotto. Quanti gruppi di 2 puoi fare? Quanti ne restano fuori?




5) Cisono 29 figure qui sotto. Quanti gruppi di 4 puoi fare? Quanti ne restano fuori?



6) Cisono 14 figure qui sotto. Quanti gruppi di 4 puoi fare? Quanti ne restano fuori?



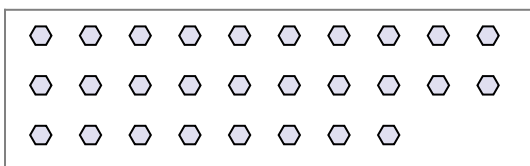
7) Cisono 16 figure qui sotto. Quanti gruppi di 6 puoi fare? Quanti ne restano fuori?



8) Cisono 25 figure qui sotto. Quanti gruppi di 8 puoi fare? Quanti ne restano fuori?



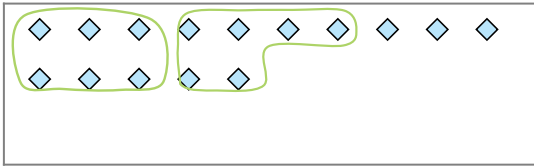
9) Cisono 28 figure qui sotto. Quanti gruppi di 7 puoi fare? Quanti ne restano fuori?



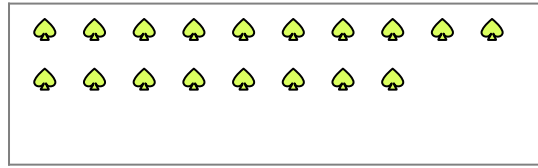


Segui l'esempio per rispondere alle domande.

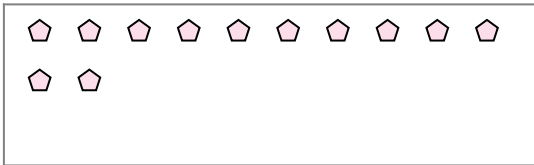
Es) Cisono 15 figure qui sotto. Quanti gruppi di 6 puoi fare? Quanti ne restano fuori?




1) Cisono 18 figure qui sotto. Quanti gruppi di 4 puoi fare? Quanti ne restano fuori?



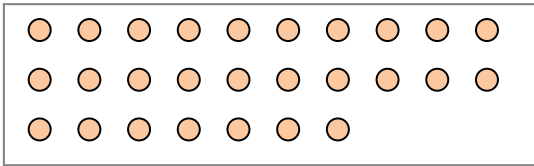
2) Cisono 12 figure qui sotto. Quanti gruppi di 5 puoi fare? Quanti ne restano fuori?



3) Cisono 21 figure qui sotto. Quanti gruppi di 7 puoi fare? Quanti ne restano fuori?



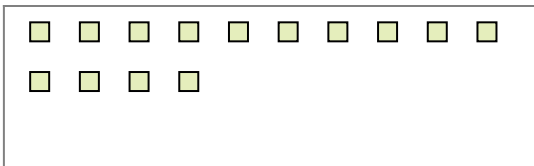
4) Cisono 27 figure qui sotto. Quanti gruppi di 2 puoi fare? Quanti ne restano fuori?




5) Cisono 29 figure qui sotto. Quanti gruppi di 4 puoi fare? Quanti ne restano fuori?



6) Cisono 14 figure qui sotto. Quanti gruppi di 4 puoi fare? Quanti ne restano fuori?



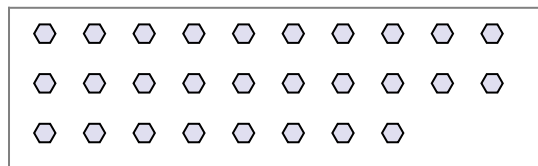
7) Cisono 16 figure qui sotto. Quanti gruppi di 6 puoi fare? Quanti ne restano fuori?



8) Cisono 25 figure qui sotto. Quanti gruppi di 8 puoi fare? Quanti ne restano fuori?



9) Cisono 28 figure qui sotto. Quanti gruppi di 7 puoi fare? Quanti ne restano fuori?



Risposte

Es. 2

Es. 3

1a. 4

1b. 2

2a. 2

2b. 2

3a. 3

3b. 0

4a. 13

4b. 1

5a. 7

5b. 1

6a. 3

6b. 2

7a. 2

7b. 4

8a. 3

8b. 1

9a. 4

9b. 0