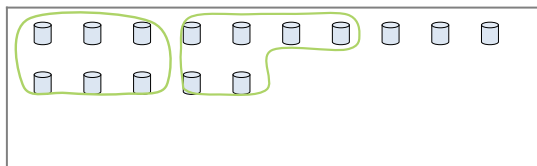





Segui l'esempio per rispondere alle domande.

Es) Cisono 15 figure qui sotto. Quanti gruppi di 6 puoi fare? Quanti ne restano fuori?



1) Cisono 14 figure qui sotto. Quanti gruppi di 3 puoi fare? Quanti ne restano fuori?

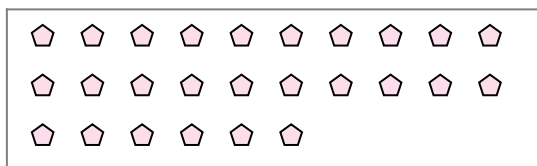


**Risposte**

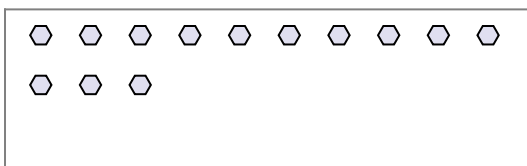
Es. 2

Es. 3

2) Cisono 26 figure qui sotto. Quanti gruppi di 7 puoi fare? Quanti ne restano fuori?



3) Cisono 13 figure qui sotto. Quanti gruppi di 9 puoi fare? Quanti ne restano fuori?



1a. \_\_\_\_\_

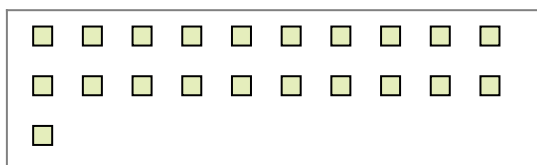
1b. \_\_\_\_\_

2a. \_\_\_\_\_


2b. \_\_\_\_\_

3a. \_\_\_\_\_

4) Cisono 21 figure qui sotto. Quanti gruppi di 7 puoi fare? Quanti ne restano fuori?



5) Cisono 20 figure qui sotto. Quanti gruppi di 6 puoi fare? Quanti ne restano fuori?



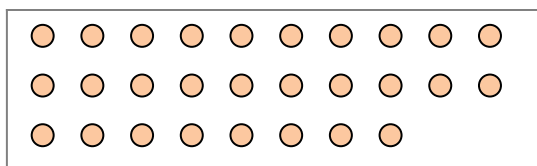
3b. \_\_\_\_\_

4a. \_\_\_\_\_

4b. \_\_\_\_\_

5a. \_\_\_\_\_

6) Cisono 28 figure qui sotto. Quanti gruppi di 7 puoi fare? Quanti ne restano fuori?



7) Cisono 21 figure qui sotto. Quanti gruppi di 4 puoi fare? Quanti ne restano fuori?



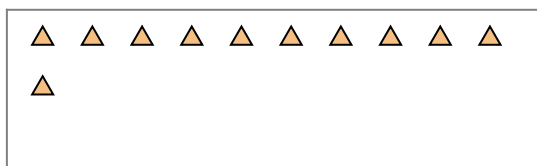
5b. \_\_\_\_\_

6a. \_\_\_\_\_

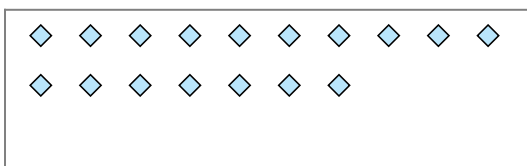
6b. \_\_\_\_\_

7a. \_\_\_\_\_

8) Cisono 11 figure qui sotto. Quanti gruppi di 6 puoi fare? Quanti ne restano fuori?



9) Cisono 17 figure qui sotto. Quanti gruppi di 4 puoi fare? Quanti ne restano fuori?



7b. \_\_\_\_\_

8a. \_\_\_\_\_

8b. \_\_\_\_\_

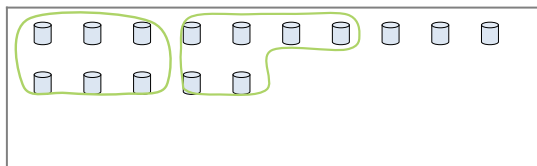
9a. \_\_\_\_\_

9b. \_\_\_\_\_




Segui l'esempio per rispondere alle domande.

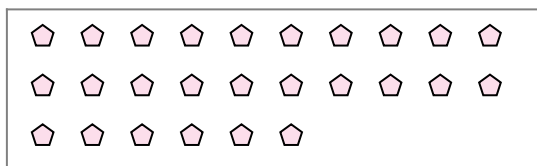
Es) Cisono 15 figure qui sotto. Quanti gruppi di 6 puoi fare? Quanti ne restano fuori?



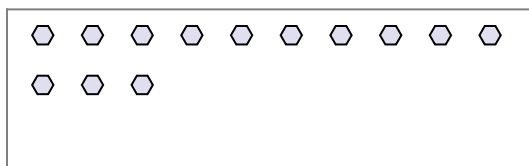
1) Cisono 14 figure qui sotto. Quanti gruppi di 3 puoi fare? Quanti ne restano fuori?



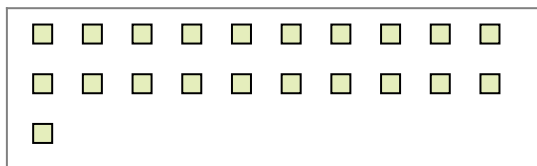
2) Cisono 26 figure qui sotto. Quanti gruppi di 7 puoi fare? Quanti ne restano fuori?




3) Cisono 13 figure qui sotto. Quanti gruppi di 9 puoi fare? Quanti ne restano fuori?



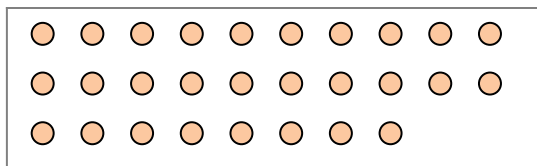
4) Cisono 21 figure qui sotto. Quanti gruppi di 7 puoi fare? Quanti ne restano fuori?



5) Cisono 20 figure qui sotto. Quanti gruppi di 6 puoi fare? Quanti ne restano fuori?



6) Cisono 28 figure qui sotto. Quanti gruppi di 7 puoi fare? Quanti ne restano fuori?



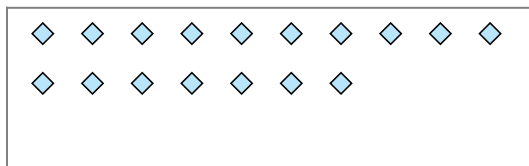
7) Cisono 21 figure qui sotto. Quanti gruppi di 4 puoi fare? Quanti ne restano fuori?



8) Cisono 11 figure qui sotto. Quanti gruppi di 6 puoi fare? Quanti ne restano fuori?



9) Cisono 17 figure qui sotto. Quanti gruppi di 4 puoi fare? Quanti ne restano fuori?



**Risposte**

Es. 2

Es. 3

1a. 4

1b. 2

2a. 3

2b. 5

3a. 1

3b. 4

4a. 3

4b. 0

5a. 3

5b. 2

6a. 4

6b. 0

7a. 5

7b. 1

8a. 1

8b. 5

9a. 4

9b. 1