





Segui l'esempio per rispondere alle domande.

Es) Cisono 15 figure qui sotto. Quanti gruppi di 6 puoi fare? Quanti ne restano fuori?



1) Cisono 25 figure qui sotto. Quanti gruppi di 5 puoi fare? Quanti ne restano fuori?

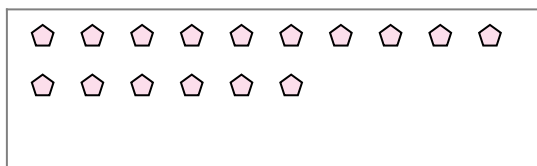


**Risposte**

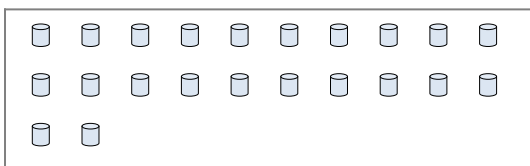
Es. 2

Es. 3

2) Cisono 16 figure qui sotto. Quanti gruppi di 7 puoi fare? Quanti ne restano fuori?



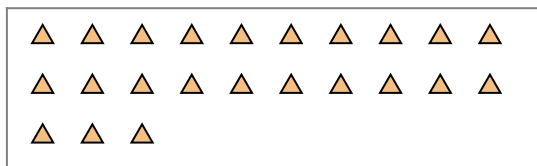
3) Cisono 22 figure qui sotto. Quanti gruppi di 9 puoi fare? Quanti ne restano fuori?




1a. \_\_\_\_\_

1b. \_\_\_\_\_

4) Cisono 23 figure qui sotto. Quanti gruppi di 5 puoi fare? Quanti ne restano fuori?



5) Cisono 18 figure qui sotto. Quanti gruppi di 9 puoi fare? Quanti ne restano fuori?



2a. \_\_\_\_\_

2b. \_\_\_\_\_

3a. \_\_\_\_\_

3b. \_\_\_\_\_

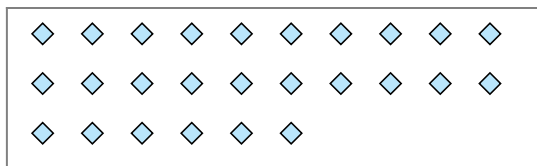
4a. \_\_\_\_\_

4b. \_\_\_\_\_


5a. \_\_\_\_\_

5b. \_\_\_\_\_

6) Cisono 26 figure qui sotto. Quanti gruppi di 6 puoi fare? Quanti ne restano fuori?



7) Cisono 14 figure qui sotto. Quanti gruppi di 2 puoi fare? Quanti ne restano fuori?



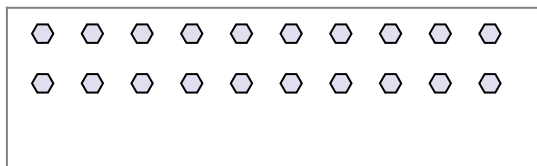
6a. \_\_\_\_\_

6b. \_\_\_\_\_

7a. \_\_\_\_\_

7b. \_\_\_\_\_

8) Cisono 20 figure qui sotto. Quanti gruppi di 4 puoi fare? Quanti ne restano fuori?



9) Cisono 22 figure qui sotto. Quanti gruppi di 4 puoi fare? Quanti ne restano fuori?



8a. \_\_\_\_\_

8b. \_\_\_\_\_


9a. \_\_\_\_\_

9b. \_\_\_\_\_




Segui l'esempio per rispondere alle domande.

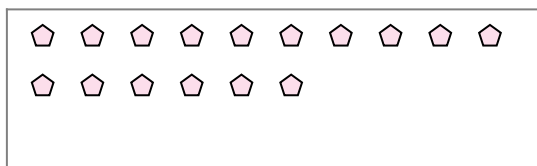
Es) Cisono 15 figure qui sotto. Quanti gruppi di 6 puoi fare? Quanti ne restano fuori?



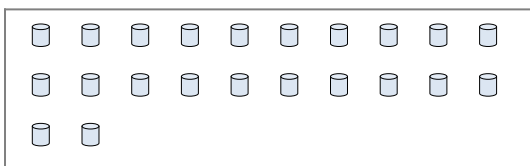
1) Cisono 25 figure qui sotto. Quanti gruppi di 5 puoi fare? Quanti ne restano fuori?



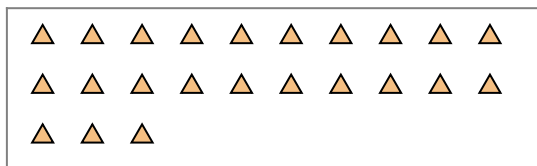
2) Cisono 16 figure qui sotto. Quanti gruppi di 7 puoi fare? Quanti ne restano fuori?




3) Cisono 22 figure qui sotto. Quanti gruppi di 9 puoi fare? Quanti ne restano fuori?



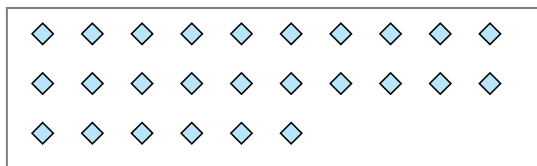
4) Cisono 23 figure qui sotto. Quanti gruppi di 5 puoi fare? Quanti ne restano fuori?



5) Cisono 18 figure qui sotto. Quanti gruppi di 9 puoi fare? Quanti ne restano fuori?



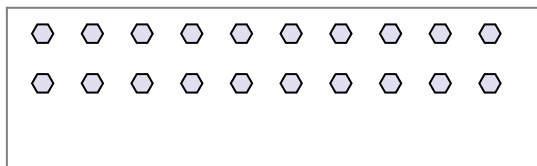
6) Cisono 26 figure qui sotto. Quanti gruppi di 6 puoi fare? Quanti ne restano fuori?



7) Cisono 14 figure qui sotto. Quanti gruppi di 2 puoi fare? Quanti ne restano fuori?



8) Cisono 20 figure qui sotto. Quanti gruppi di 4 puoi fare? Quanti ne restano fuori?



9) Cisono 22 figure qui sotto. Quanti gruppi di 4 puoi fare? Quanti ne restano fuori?



**Risposte**

Es. 2

Es. 3

1a. 5

1b. 0

2a. 2

2b. 2

3a. 2

3b. 4

4a. 4

4b. 3

5a. 2

5b. 0

6a. 4

6b. 2

7a. 7

7b. 0

8a. 5

8b. 0

9a. 5

9b. 2