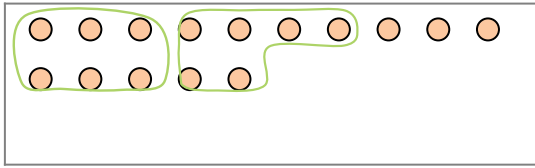


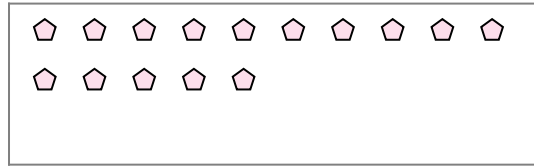


Segui l'esempio per rispondere alle domande.

Es) Cisono 15 figure qui sotto. Quanti gruppi di 6 puoi fare? Quanti ne restano fuori?



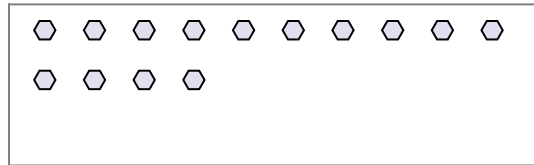
1) Cisono 15 figure qui sotto. Quanti gruppi di 2 puoi fare? Quanti ne restano fuori?



2) Cisono 28 figure qui sotto. Quanti gruppi di 6 puoi fare? Quanti ne restano fuori?



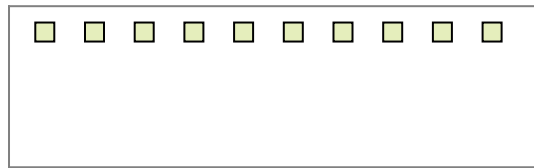
3) Cisono 14 figure qui sotto. Quanti gruppi di 5 puoi fare? Quanti ne restano fuori?



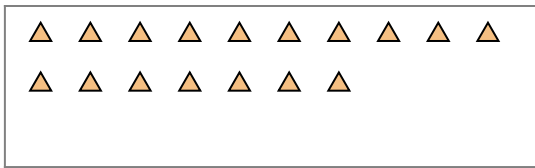
4) Cisono 21 figure qui sotto. Quanti gruppi di 8 puoi fare? Quanti ne restano fuori?




5) Cisono 10 figure qui sotto. Quanti gruppi di 8 puoi fare? Quanti ne restano fuori?



6) Cisono 17 figure qui sotto. Quanti gruppi di 7 puoi fare? Quanti ne restano fuori?




7) Cisono 22 figure qui sotto. Quanti gruppi di 5 puoi fare? Quanti ne restano fuori?



8) Cisono 28 figure qui sotto. Quanti gruppi di 4 puoi fare? Quanti ne restano fuori?



9) Cisono 14 figure qui sotto. Quanti gruppi di 2 puoi fare? Quanti ne restano fuori?



Risposte

Es. 2

Es. 3

1a. _____

1b. _____

2a. _____

2b. _____

3a. _____

3b. _____

4a. _____

4b. _____

5a. _____

5b. _____

6a. _____

6b. _____

7a. _____

7b. _____

8a. _____

8b. _____

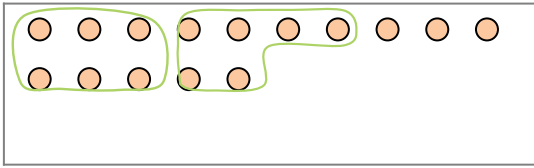
9a. _____

9b. _____

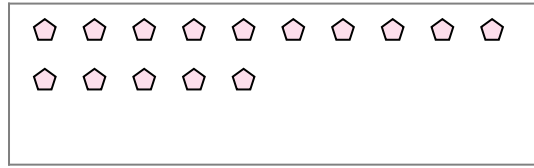


Segui l'esempio per rispondere alle domande.

Es) Cisono 15 figure qui sotto. Quanti gruppi di 6 puoi fare? Quanti ne restano fuori?



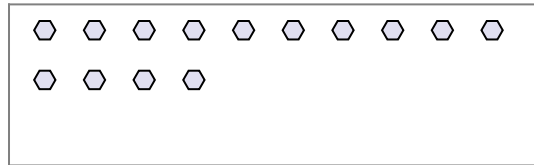
1) Cisono 15 figure qui sotto. Quanti gruppi di 2 puoi fare? Quanti ne restano fuori?




2) Cisono 28 figure qui sotto. Quanti gruppi di 6 puoi fare? Quanti ne restano fuori?



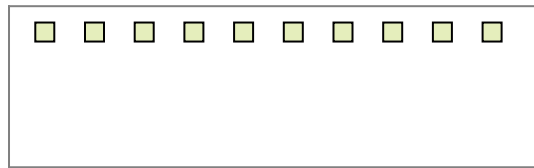
3) Cisono 14 figure qui sotto. Quanti gruppi di 5 puoi fare? Quanti ne restano fuori?



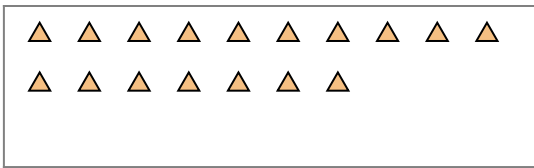
4) Cisono 21 figure qui sotto. Quanti gruppi di 8 puoi fare? Quanti ne restano fuori?




5) Cisono 10 figure qui sotto. Quanti gruppi di 8 puoi fare? Quanti ne restano fuori?



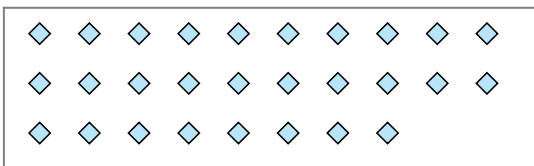
6) Cisono 17 figure qui sotto. Quanti gruppi di 7 puoi fare? Quanti ne restano fuori?




7) Cisono 22 figure qui sotto. Quanti gruppi di 5 puoi fare? Quanti ne restano fuori?



8) Cisono 28 figure qui sotto. Quanti gruppi di 4 puoi fare? Quanti ne restano fuori?



9) Cisono 14 figure qui sotto. Quanti gruppi di 2 puoi fare? Quanti ne restano fuori?



Risposte

Es. 2

Es. 3

1a. 7

1b. 1

2a. 4

2b. 4

3a. 2

3b. 4

4a. 2

4b. 5

5a. 1

5b. 2

6a. 2

6b. 3

7a. 4

7b. 2

8a. 7

8b. 0

9a. 7

9b. 0