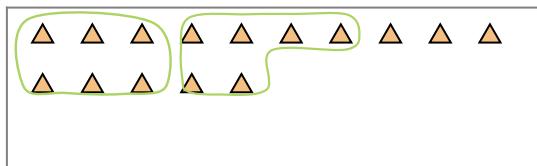


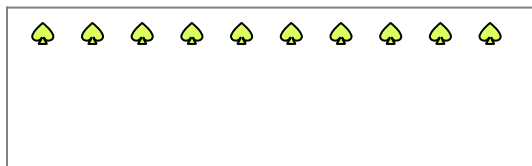


Segui l'esempio per rispondere alle domande.


Es) Cisono 15 figure qui sotto. Quanti gruppi di 6 puoi fare? Quanti ne restano fuori?




1) Cisono 10 figure qui sotto. Quanti gruppi di 4 puoi fare? Quanti ne restano fuori?



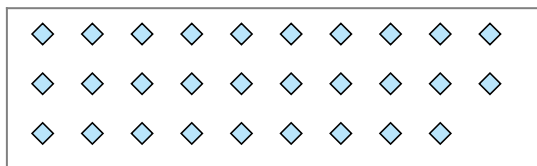
2) Cisono 12 figure qui sotto. Quanti gruppi di 7 puoi fare? Quanti ne restano fuori?



3) Cisono 23 figure qui sotto. Quanti gruppi di 3 puoi fare? Quanti ne restano fuori?



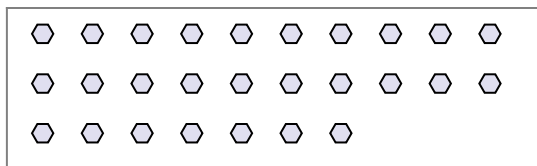
4) Cisono 29 figure qui sotto. Quanti gruppi di 5 puoi fare? Quanti ne restano fuori?



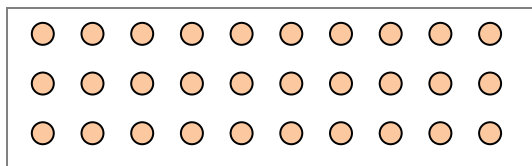
5) Cisono 16 figure qui sotto. Quanti gruppi di 4 puoi fare? Quanti ne restano fuori?



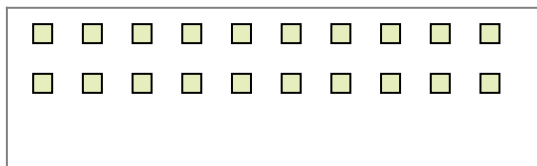
6) Cisono 27 figure qui sotto. Quanti gruppi di 4 puoi fare? Quanti ne restano fuori?



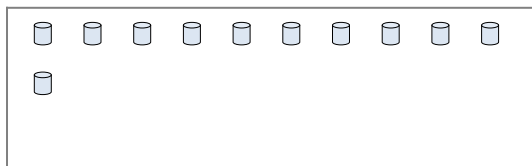
7) Cisono 30 figure qui sotto. Quanti gruppi di 9 puoi fare? Quanti ne restano fuori?



8) Cisono 20 figure qui sotto. Quanti gruppi di 9 puoi fare? Quanti ne restano fuori?



9) Cisono 11 figure qui sotto. Quanti gruppi di 2 puoi fare? Quanti ne restano fuori?



Risposte

Es. 2

Es. 3

1a. _____

1b. _____

2a. _____

2b. _____

3a. _____

3b. _____

4a. _____

4b. _____

5a. _____

5b. _____

6a. _____

6b. _____

7a. _____

7b. _____

8a. _____

8b. _____

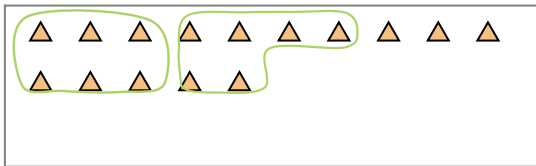
9a. _____

9b. _____




Segui l'esempio per rispondere alle domande.

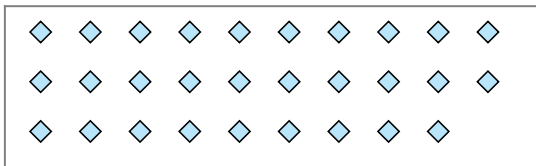
Es) Cisono 15 figure qui sotto. Quanti gruppi di 6 puoi fare? Quanti ne restano fuori?



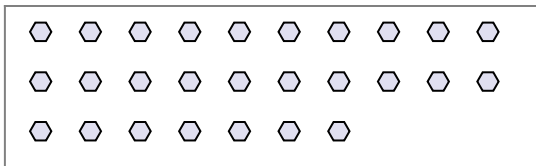
2) Cisono 12 figure qui sotto. Quanti gruppi di 7 puoi fare? Quanti ne restano fuori?



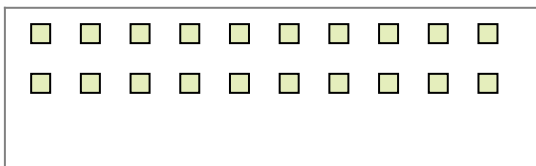
4) Cisono 29 figure qui sotto. Quanti gruppi di 5 puoi fare? Quanti ne restano fuori?



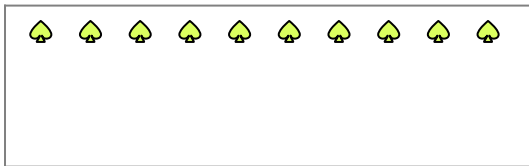
6) Cisono 27 figure qui sotto. Quanti gruppi di 4 puoi fare? Quanti ne restano fuori?




8) Cisono 20 figure qui sotto. Quanti gruppi di 9 puoi fare? Quanti ne restano fuori?




1) Cisono 10 figure qui sotto. Quanti gruppi di 4 puoi fare? Quanti ne restano fuori?



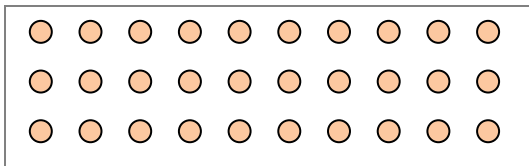
3) Cisono 23 figure qui sotto. Quanti gruppi di 3 puoi fare? Quanti ne restano fuori?



5) Cisono 16 figure qui sotto. Quanti gruppi di 4 puoi fare? Quanti ne restano fuori?



7) Cisono 30 figure qui sotto. Quanti gruppi di 9 puoi fare? Quanti ne restano fuori?



9) Cisono 11 figure qui sotto. Quanti gruppi di 2 puoi fare? Quanti ne restano fuori?



Risposte

Es. 2

Es. 3

1a. 2

1b. 2

2a. 1

2b. 5

3a. 7

3b. 2

4a. 5

4b. 4

5a. 4

5b. 0

6a. 6

6b. 3

7a. 3

7b. 3

8a. 2

8b. 2

9a. 5

9b. 1