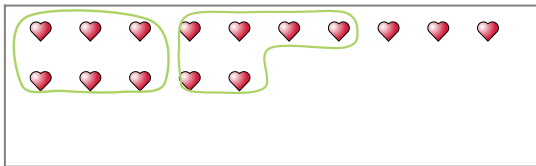


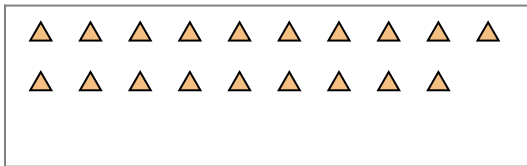


Segui l'esempio per rispondere alle domande.

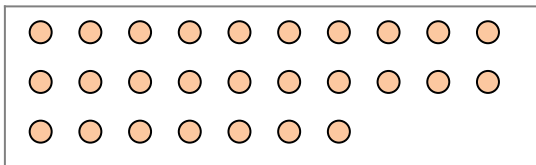
Es) Cisono 15 figure qui sotto. Quanti gruppi di 6 puoi fare? Quanti ne restano fuori?



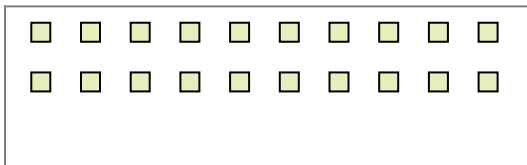
1) Cisono 19 figure qui sotto. Quanti gruppi di 9 puoi fare? Quanti ne restano fuori?



2) Cisono 27 figure qui sotto. Quanti gruppi di 9 puoi fare? Quanti ne restano fuori?



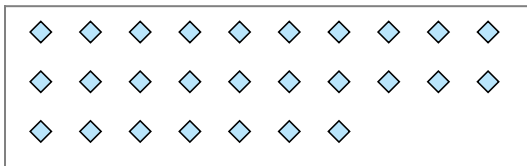
3) Cisono 20 figure qui sotto. Quanti gruppi di 8 puoi fare? Quanti ne restano fuori?



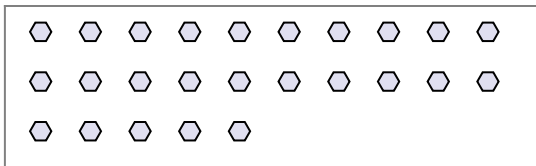
4) Cisono 27 figure qui sotto. Quanti gruppi di 2 puoi fare? Quanti ne restano fuori?



5) Cisono 27 figure qui sotto. Quanti gruppi di 2 puoi fare? Quanti ne restano fuori?



6) Cisono 25 figure qui sotto. Quanti gruppi di 2 puoi fare? Quanti ne restano fuori?




7) Cisono 30 figure qui sotto. Quanti gruppi di 6 puoi fare? Quanti ne restano fuori?



8) Cisono 27 figure qui sotto. Quanti gruppi di 7 puoi fare? Quanti ne restano fuori?



9) Cisono 11 figure qui sotto. Quanti gruppi di 9 puoi fare? Quanti ne restano fuori?



Risposte

Es. 2

Es. 3

1a. _____

1b. _____

2a. _____

2b. _____

3a. _____

3b. _____

4a. _____

4b. _____

5a. _____

5b. _____

6a. _____

6b. _____

7a. _____

7b. _____

8a. _____

8b. _____

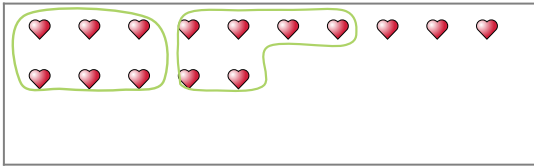
9a. _____

9b. _____

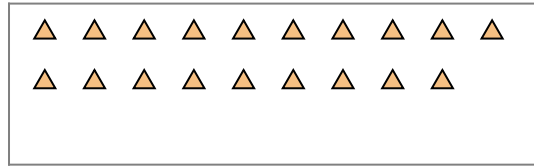


Segui l'esempio per rispondere alle domande.

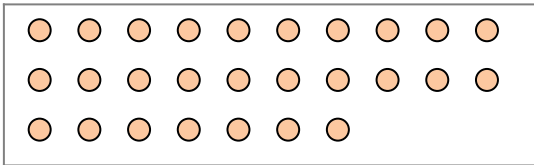
Es) Cisono 15 figure qui sotto. Quanti gruppi di 6 puoi fare? Quanti ne restano fuori?



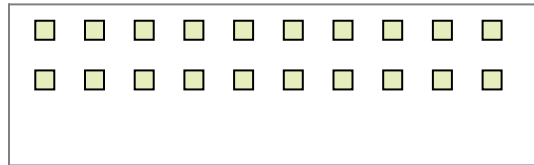
1) Cisono 19 figure qui sotto. Quanti gruppi di 9 puoi fare? Quanti ne restano fuori?



2) Cisono 27 figure qui sotto. Quanti gruppi di 9 puoi fare? Quanti ne restano fuori?



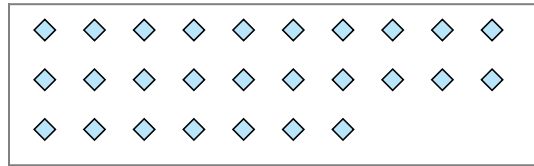
3) Cisono 20 figure qui sotto. Quanti gruppi di 8 puoi fare? Quanti ne restano fuori?



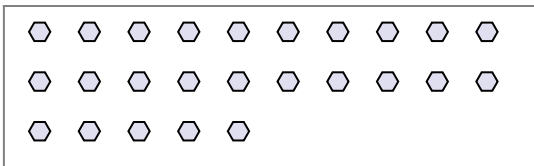
4) Cisono 27 figure qui sotto. Quanti gruppi di 2 puoi fare? Quanti ne restano fuori?




5) Cisono 27 figure qui sotto. Quanti gruppi di 2 puoi fare? Quanti ne restano fuori?



6) Cisono 25 figure qui sotto. Quanti gruppi di 2 puoi fare? Quanti ne restano fuori?




7) Cisono 30 figure qui sotto. Quanti gruppi di 6 puoi fare? Quanti ne restano fuori?



8) Cisono 27 figure qui sotto. Quanti gruppi di 7 puoi fare? Quanti ne restano fuori?



9) Cisono 11 figure qui sotto. Quanti gruppi di 9 puoi fare? Quanti ne restano fuori?



Risposte

Es. 2

Es. 3

1a. 2

1b. 1

2a. 3

2b. 0

3a. 2

3b. 4

4a. 13

4b. 1

5a. 13

5b. 1

6a. 12

6b. 1

7a. 5

7b. 0

8a. 3

8b. 6

9a. 1

9b. 2