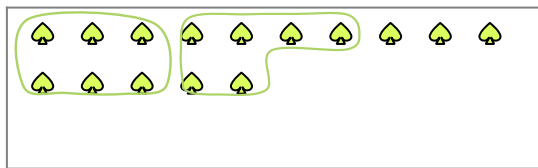


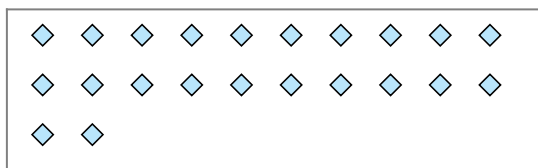


Segui l'esempio per rispondere alle domande.

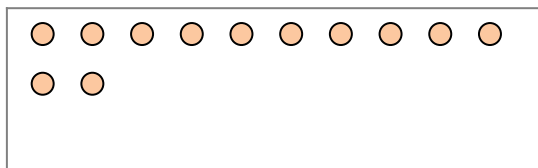
Es) Cisono 15 figure qui sotto. Quanti gruppi di 6 puoi fare? Quanti ne restano fuori?



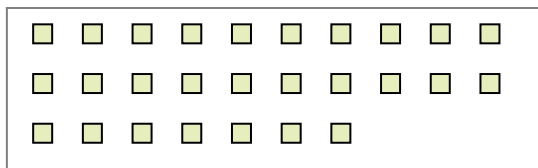
2) Cisono 22 figure qui sotto. Quanti gruppi di 2 puoi fare? Quanti ne restano fuori?



4) Cisono 12 figure qui sotto. Quanti gruppi di 7 puoi fare? Quanti ne restano fuori?



6) Cisono 27 figure qui sotto. Quanti gruppi di 7 puoi fare? Quanti ne restano fuori?




8) Cisono 11 figure qui sotto. Quanti gruppi di 9 puoi fare? Quanti ne restano fuori?



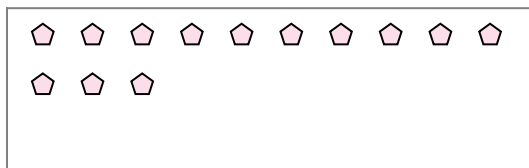
1) Cisono 20 figure qui sotto. Quanti gruppi di 4 puoi fare? Quanti ne restano fuori?




3) Cisono 16 figure qui sotto. Quanti gruppi di 8 puoi fare? Quanti ne restano fuori?



5) Cisono 13 figure qui sotto. Quanti gruppi di 7 puoi fare? Quanti ne restano fuori?



7) Cisono 24 figure qui sotto. Quanti gruppi di 9 puoi fare? Quanti ne restano fuori?



9) Cisono 29 figure qui sotto. Quanti gruppi di 2 puoi fare? Quanti ne restano fuori?



Risposte

Es. 2

Es. 3

1a. _____

1b. _____

2a. _____

2b. _____

3a. _____

3b. _____

4a. _____

4b. _____

5a. _____

5b. _____

6a. _____

6b. _____

7a. _____

7b. _____

8a. _____

8b. _____

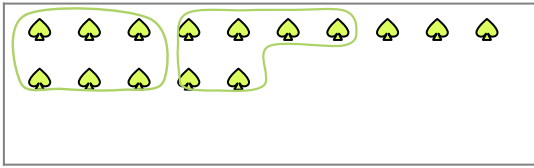
9a. _____

9b. _____

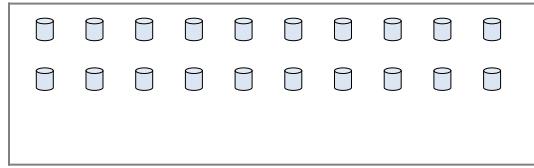


Segui l'esempio per rispondere alle domande.

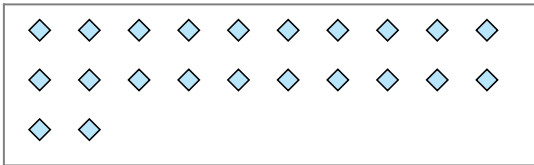
Es) Cisono 15 figure qui sotto. Quanti gruppi di 6 puoi fare? Quanti ne restano fuori?




1) Cisono 20 figure qui sotto. Quanti gruppi di 4 puoi fare? Quanti ne restano fuori?



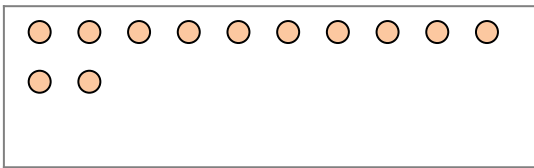
2) Cisono 22 figure qui sotto. Quanti gruppi di 2 puoi fare? Quanti ne restano fuori?



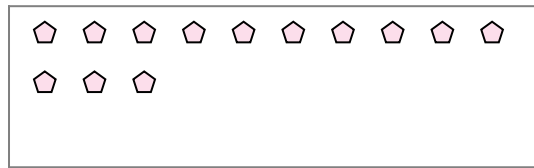
3) Cisono 16 figure qui sotto. Quanti gruppi di 8 puoi fare? Quanti ne restano fuori?



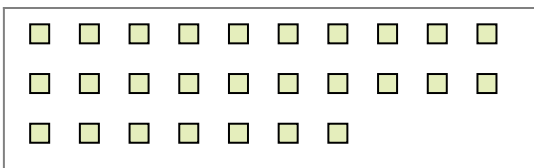
4) Cisono 12 figure qui sotto. Quanti gruppi di 7 puoi fare? Quanti ne restano fuori?




5) Cisono 13 figure qui sotto. Quanti gruppi di 7 puoi fare? Quanti ne restano fuori?



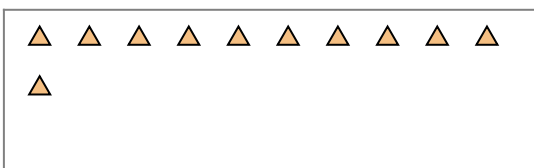
6) Cisono 27 figure qui sotto. Quanti gruppi di 7 puoi fare? Quanti ne restano fuori?



7) Cisono 24 figure qui sotto. Quanti gruppi di 9 puoi fare? Quanti ne restano fuori?



8) Cisono 11 figure qui sotto. Quanti gruppi di 9 puoi fare? Quanti ne restano fuori?



9) Cisono 29 figure qui sotto. Quanti gruppi di 2 puoi fare? Quanti ne restano fuori?



Risposte

Es. 2

Es. 3

1a. 5

1b. 0

2a. 11

2b. 0

3a. 2

3b. 0

4a. 1

4b. 5

5a. 1

5b. 6

6a. 3

6b. 6

7a. 2

7b. 6

8a. 1

8b. 2

9a. 14

9b. 1