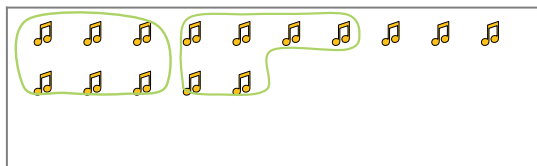




Segui l'esempio per rispondere alle domande.

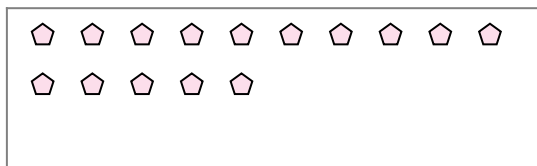
Es) Cisono 15 figure qui sotto. Quanti gruppi di 6 puoi fare? Quanti ne restano fuori?



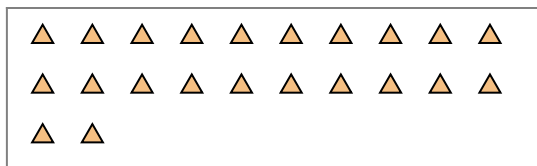
2) Cisono 22 figure qui sotto. Quanti gruppi di 6 puoi fare? Quanti ne restano fuori?



4) Cisono 15 figure qui sotto. Quanti gruppi di 7 puoi fare? Quanti ne restano fuori?



6) Cisono 22 figure qui sotto. Quanti gruppi di 4 puoi fare? Quanti ne restano fuori?



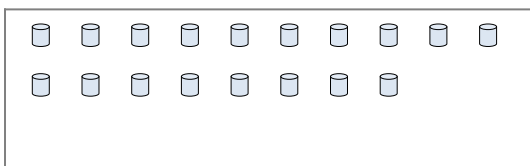
8) Cisono 30 figure qui sotto. Quanti gruppi di 7 puoi fare? Quanti ne restano fuori?



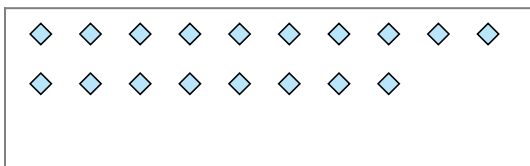
1) Cisono 13 figure qui sotto. Quanti gruppi di 4 puoi fare? Quanti ne restano fuori?



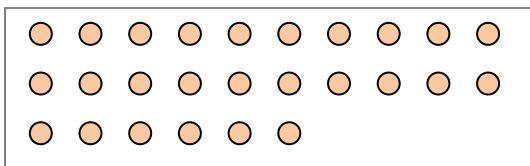
3) Cisono 18 figure qui sotto. Quanti gruppi di 2 puoi fare? Quanti ne restano fuori?




5) Cisono 18 figure qui sotto. Quanti gruppi di 3 puoi fare? Quanti ne restano fuori?



7) Cisono 26 figure qui sotto. Quanti gruppi di 3 puoi fare? Quanti ne restano fuori?



9) Cisono 27 figure qui sotto. Quanti gruppi di 4 puoi fare? Quanti ne restano fuori?



Risposte

Es. 2

Es. 3

1a. _____

1b. _____

2a. _____

2b. _____

3a. _____

3b. _____

4a. _____

4b. _____

5a. _____

5b. _____

6a. _____

6b. _____

7a. _____

7b. _____

8a. _____

8b. _____

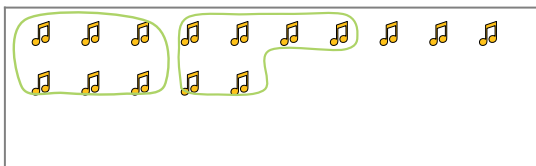
9a. _____

9b. _____

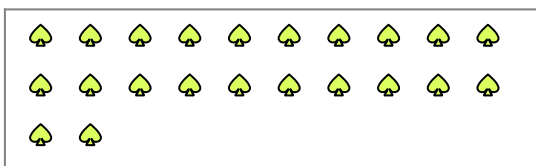


Segui l'esempio per rispondere alle domande.

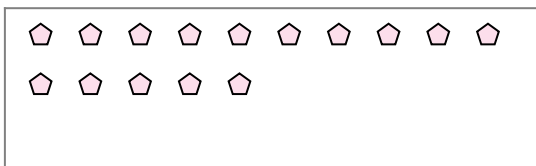
Es) Cisono 15 figure qui sotto. Quanti gruppi di 6 puoi fare? Quanti ne restano fuori?



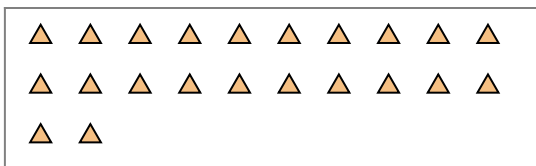
2) Cisono 22 figure qui sotto. Quanti gruppi di 6 puoi fare? Quanti ne restano fuori?



4) Cisono 15 figure qui sotto. Quanti gruppi di 7 puoi fare? Quanti ne restano fuori?



6) Cisono 22 figure qui sotto. Quanti gruppi di 4 puoi fare? Quanti ne restano fuori?



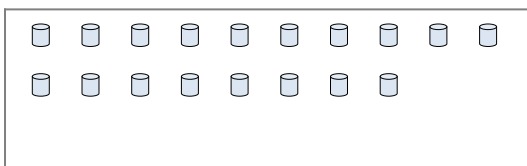
8) Cisono 30 figure qui sotto. Quanti gruppi di 7 puoi fare? Quanti ne restano fuori?



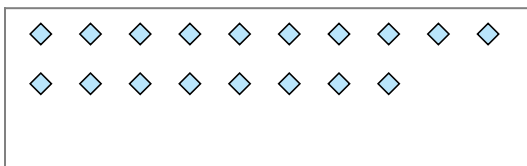
1) Cisono 13 figure qui sotto. Quanti gruppi di 4 puoi fare? Quanti ne restano fuori?



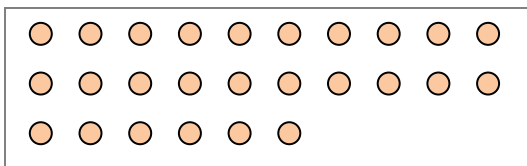
3) Cisono 18 figure qui sotto. Quanti gruppi di 2 puoi fare? Quanti ne restano fuori?




5) Cisono 18 figure qui sotto. Quanti gruppi di 3 puoi fare? Quanti ne restano fuori?



7) Cisono 26 figure qui sotto. Quanti gruppi di 3 puoi fare? Quanti ne restano fuori?



9) Cisono 27 figure qui sotto. Quanti gruppi di 4 puoi fare? Quanti ne restano fuori?



Risposte

Es. 2

Es. 3

1a. 3

1b. 1

2a. 3

2b. 4

3a. 9

3b. 0

4a. 2

4b. 1

5a. 6

5b. 0

6a. 5

6b. 2

7a. 8

7b. 2

8a. 4

8b. 2

9a. 6

9b. 3