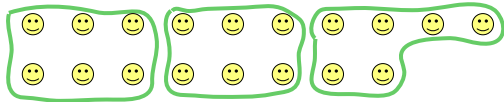


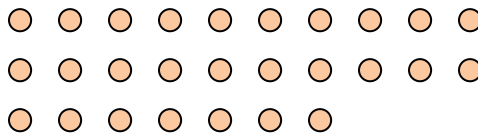


Usa le forme per risopndere alle domande.

Es) Quanti gruppi di 6 puoi fare con le 18 forme qui sotto?



1) Quanti gruppi di 3 puoi fare con le 27 forme qui sotto?



Risposte

Es. 3

1. 9

2. 5

3. 12

4. 5

5. 2

6. 3

7. 6

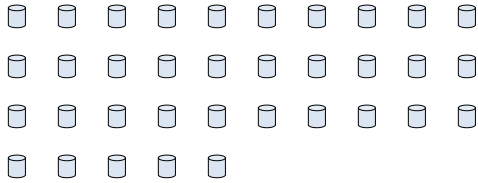
8. 9

9. 6


10. 3

11. 4

2) Quanti gruppi di 7 puoi fare con le 35 forme qui sotto?



3) Quanti gruppi di 3 puoi fare con le 36 forme qui sotto?



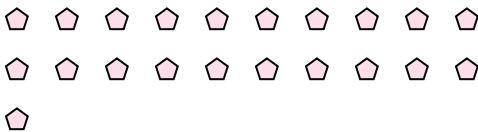
4) Quanti gruppi di 3 puoi fare con le 15 forme qui sotto?



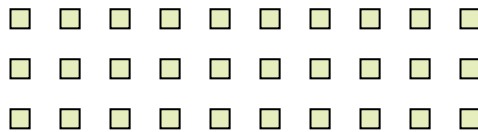
5) Quanti gruppi di 3 puoi fare con le 6 forme qui sotto?



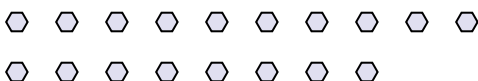
6) Quanti gruppi di 7 puoi fare con le 21 forme qui sotto?



7) Quanti gruppi di 5 puoi fare con le 30 forme qui sotto?



8) Quanti gruppi di 2 puoi fare con le 18 forme qui sotto?



9) Quanti gruppi di 3 puoi fare con le 18 forme qui sotto?



10) Quanti gruppi di 4 puoi fare con le 12 forme qui sotto?



11) Quanti gruppi di 9 puoi fare con le 36 forme qui sotto?

