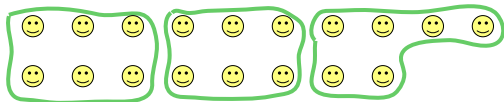


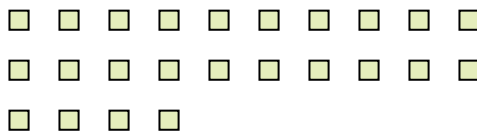


Usa le forme per risopndere alle domande.

Es) Quanti gruppi di 6 puoi fare con le 18 forme qui sotto?

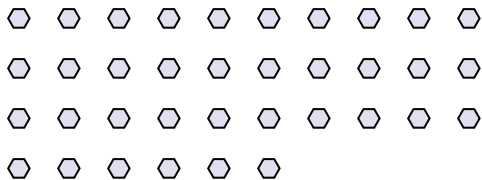


1) Quanti gruppi di 3 puoi fare con le 24 forme qui sotto?




Risposte
Es. 3

2) Quanti gruppi di 2 puoi fare con le 36 forme qui sotto?



3) Quanti gruppi di 8 puoi fare con le 40 forme qui sotto?



1. 8


2. 18

3. 5


4. 3

5. 4

4) Quanti gruppi di 8 puoi fare con le 24 forme qui sotto?



5) Quanti gruppi di 6 puoi fare con le 24 forme qui sotto?




6. 3

7. 2

8. 5

6) Quanti gruppi di 9 puoi fare con le 27 forme qui sotto?



7) Quanti gruppi di 7 puoi fare con le 14 forme qui sotto?

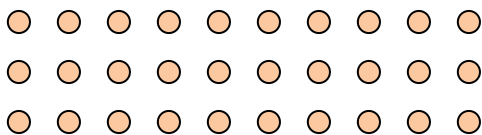


9. 2

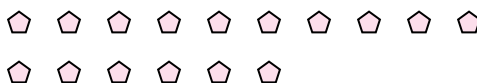
10. 2

11. 2

8) Quanti gruppi di 6 puoi fare con le 30 forme qui sotto?



9) Quanti gruppi di 8 puoi fare con le 16 forme qui sotto?



10) Quanti gruppi di 9 puoi fare con le 18 forme qui sotto?



11) Quanti gruppi di 7 puoi fare con le 14 forme qui sotto?

