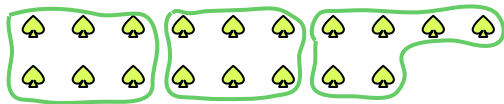




Usa le forme per risopndere alle domande.


Es) Quanti gruppi di 6 puoi fare con le 18 forme qui sotto?




1) Quanti gruppi di 9 puoi fare con le 27 forme qui sotto?



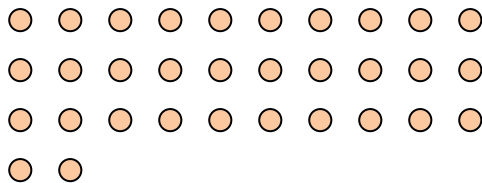
2) Quanti gruppi di 3 puoi fare con le 39 forme qui sotto?



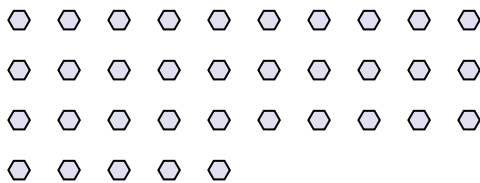
3) Quanti gruppi di 6 puoi fare con le 30 forme qui sotto?



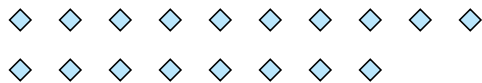
4) Quanti gruppi di 4 puoi fare con le 32 forme qui sotto?



5) Quanti gruppi di 7 puoi fare con le 35 forme qui sotto?



6) Quanti gruppi di 9 puoi fare con le 18 forme qui sotto?



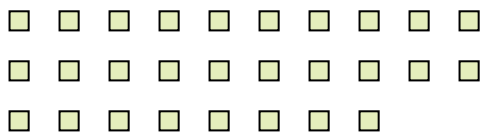
7) Quanti gruppi di 3 puoi fare con le 27 forme qui sotto?



8) Quanti gruppi di 2 puoi fare con le 40 forme qui sotto?



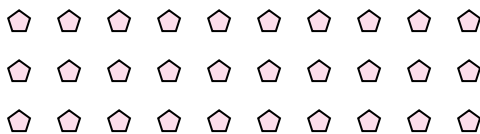
9) Quanti gruppi di 2 puoi fare con le 28 forme qui sotto?



10) Quanti gruppi di 3 puoi fare con le 6 forme qui sotto?



11) Quanti gruppi di 6 puoi fare con le 30 forme qui sotto?



Risposte

Es. 3

1. _____

2. _____

3. _____

4. _____

5. _____

6. _____

7. _____

8. _____

9. _____

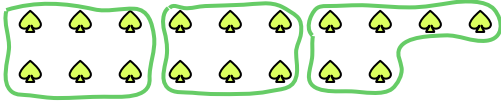
10. _____

11. _____



Usa le forme per risopndere alle domande.


Es) Quanti gruppi di 6 puoi fare con le 18 forme qui sotto?



1) Quanti gruppi di 9 puoi fare con le 27 forme qui sotto?



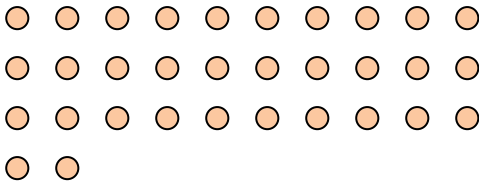
2) Quanti gruppi di 3 puoi fare con le 39 forme qui sotto?



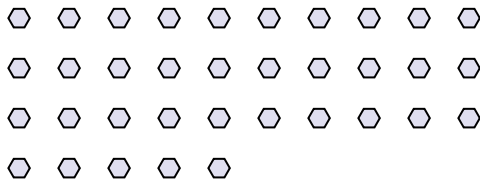
3) Quanti gruppi di 6 puoi fare con le 30 forme qui sotto?



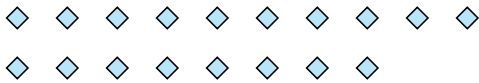
4) Quanti gruppi di 4 puoi fare con le 32 forme qui sotto?



5) Quanti gruppi di 7 puoi fare con le 35 forme qui sotto?



6) Quanti gruppi di 9 puoi fare con le 18 forme qui sotto?



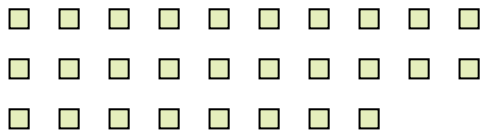
7) Quanti gruppi di 3 puoi fare con le 27 forme qui sotto?



8) Quanti gruppi di 2 puoi fare con le 40 forme qui sotto?



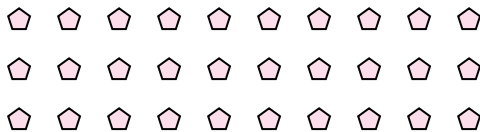
9) Quanti gruppi di 2 puoi fare con le 28 forme qui sotto?



10) Quanti gruppi di 3 puoi fare con le 6 forme qui sotto?



11) Quanti gruppi di 6 puoi fare con le 30 forme qui sotto?



Risposte

Es. 3

1. 3

2. 13

3. 5

4. 8

5. 5

6. 2

7. 9

8. 20

9. 14

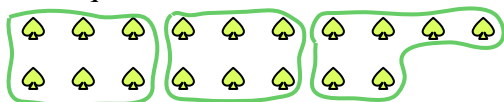
10. 2

11. 5




Usa le forme per risopndere alle domande.

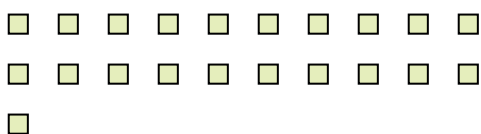
Es) Quanti gruppi di 6 puoi fare con le 18 forme qui sotto?



2) Quanti gruppi di 6 puoi fare con le 24 forme qui sotto?



4) Quanti gruppi di 7 puoi fare con le 21 forme qui sotto?



6) Quanti gruppi di 7 puoi fare con le 21 forme qui sotto?




8) Quanti gruppi di 9 puoi fare con le 27 forme qui sotto?



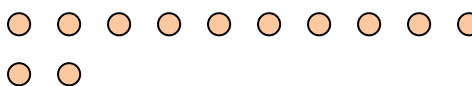
10) Quanti gruppi di 3 puoi fare con le 9 forme qui sotto?




1) Quanti gruppi di 9 puoi fare con le 27 forme qui sotto?



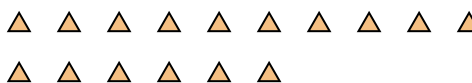
3) Quanti gruppi di 2 puoi fare con le 12 forme qui sotto?



5) Quanti gruppi di 6 puoi fare con le 36 forme qui sotto?



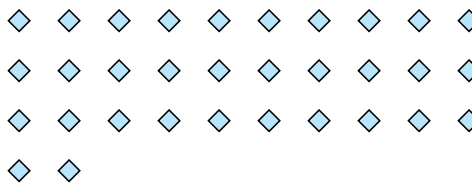
7) Quanti gruppi di 8 puoi fare con le 16 forme qui sotto?



9) Quanti gruppi di 2 puoi fare con le 8 forme qui sotto?



11) Quanti gruppi di 8 puoi fare con le 32 forme qui sotto?



Risposte

Es. 3

1. 3

2. 4

3. 6

4. 3

5. 6

6. 3

7. 2

8. 3

9. 4

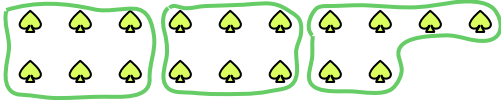
10. 3

11. 4




Usa le forme per risopndere alle domande.

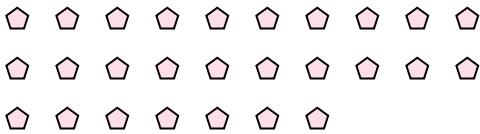
Es) Quanti gruppi di 6 puoi fare con le 18 forme qui sotto?




2) Quanti gruppi di 5 puoi fare con le 40 forme qui sotto?



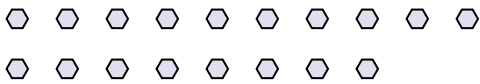
4) Quanti gruppi di 9 puoi fare con le 27 forme qui sotto?



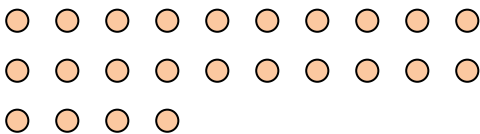
6) Quanti gruppi di 4 puoi fare con le 16 forme qui sotto?




8) Quanti gruppi di 9 puoi fare con le 18 forme qui sotto?




10) Quanti gruppi di 4 puoi fare con le 24 forme qui sotto?



1) Quanti gruppi di 5 puoi fare con le 35 forme qui sotto?




3) Quanti gruppi di 5 puoi fare con le 25 forme qui sotto?



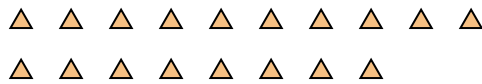
5) Quanti gruppi di 6 puoi fare con le 30 forme qui sotto?



7) Quanti gruppi di 4 puoi fare con le 20 forme qui sotto?



9) Quanti gruppi di 6 puoi fare con le 18 forme qui sotto?



11) Quanti gruppi di 8 puoi fare con le 16 forme qui sotto?



Risposte

Es. 3

1. 7

2. 8

3. 5

4. 3

5. 5

6. 4

7. 5

8. 2

9. 3

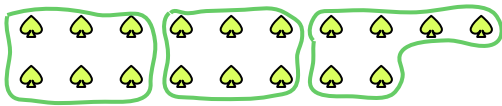
10. 6

11. 2

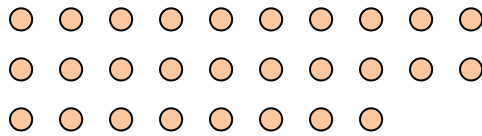


Usa le forme per risopndere alle domande.


Es) Quanti gruppi di 6 puoi fare con le 18 forme qui sotto?



1) Quanti gruppi di 7 puoi fare con le 28 forme qui sotto?



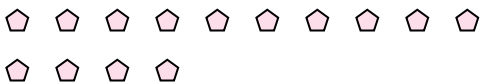
2) Quanti gruppi di 6 puoi fare con le 30 forme qui sotto?




3) Quanti gruppi di 2 puoi fare con le 26 forme qui sotto?



4) Quanti gruppi di 2 puoi fare con le 14 forme qui sotto?




5) Quanti gruppi di 8 puoi fare con le 40 forme qui sotto?



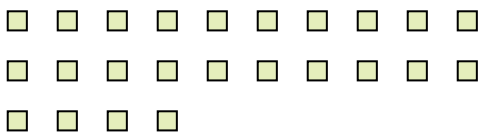
6) Quanti gruppi di 6 puoi fare con le 18 forme qui sotto?



7) Quanti gruppi di 7 puoi fare con le 28 forme qui sotto?



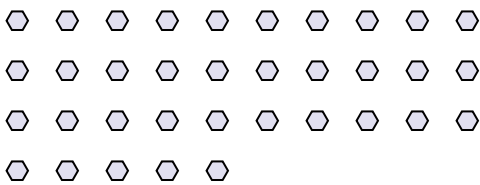
8) Quanti gruppi di 8 puoi fare con le 24 forme qui sotto?




9) Quanti gruppi di 3 puoi fare con le 9 forme qui sotto?



10) Quanti gruppi di 7 puoi fare con le 35 forme qui sotto?



11) Quanti gruppi di 9 puoi fare con le 27 forme qui sotto?



Risposte

Es. 3

1. _____

2. _____

3. _____

4. _____

5. _____

6. _____

7. _____

8. _____

9. _____

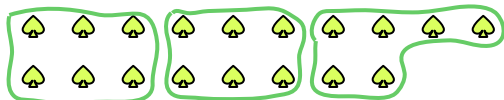
10. _____

11. _____




Usa le forme per risopndere alle domande.


Es) Quanti gruppi di 6 puoi fare con le 18 forme qui sotto?




2) Quanti gruppi di 8 puoi fare con le 40 forme qui sotto?



4) Quanti gruppi di 6 puoi fare con le 30 forme qui sotto?



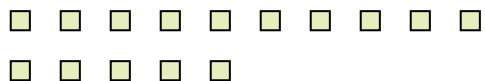
6) Quanti gruppi di 6 puoi fare con le 30 forme qui sotto?



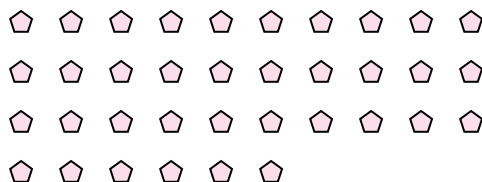
8) Quanti gruppi di 3 puoi fare con le 39 forme qui sotto?




10) Quanti gruppi di 5 puoi fare con le 15 forme qui sotto?



1) Quanti gruppi di 6 puoi fare con le 36 forme qui sotto?



3) Quanti gruppi di 2 puoi fare con le 38 forme qui sotto?



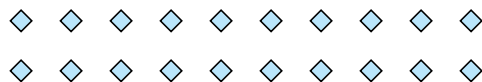
5) Quanti gruppi di 4 puoi fare con le 12 forme qui sotto?



7) Quanti gruppi di 2 puoi fare con le 4 forme qui sotto?



9) Quanti gruppi di 5 puoi fare con le 20 forme qui sotto?



11) Quanti gruppi di 4 puoi fare con le 20 forme qui sotto?



Risposte

Es. 3

1. _____

2. _____

3. _____

4. _____

5. _____

6. _____

7. _____

8. _____

9. _____

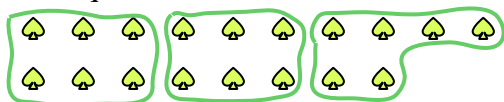
10. _____

11. _____




Usa le forme per risopndere alle domande.


Es) Quanti gruppi di 6 puoi fare con le 18 forme qui sotto?




2) Quanti gruppi di 8 puoi fare con le 40 forme qui sotto?



4) Quanti gruppi di 6 puoi fare con le 30 forme qui sotto?



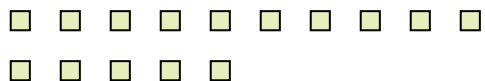
6) Quanti gruppi di 6 puoi fare con le 30 forme qui sotto?



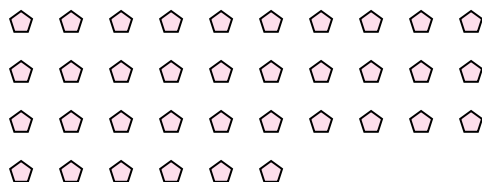
8) Quanti gruppi di 3 puoi fare con le 39 forme qui sotto?




10) Quanti gruppi di 5 puoi fare con le 15 forme qui sotto?



1) Quanti gruppi di 6 puoi fare con le 36 forme qui sotto?



3) Quanti gruppi di 2 puoi fare con le 38 forme qui sotto?



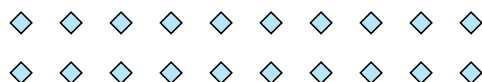
5) Quanti gruppi di 4 puoi fare con le 12 forme qui sotto?



7) Quanti gruppi di 2 puoi fare con le 4 forme qui sotto?



9) Quanti gruppi di 5 puoi fare con le 20 forme qui sotto?



11) Quanti gruppi di 4 puoi fare con le 20 forme qui sotto?



Risposte

Es. 3

1. 6

2. 5

3. 19

4. 5

5. 3

6. 5

7. 2

8. 13

9. 4

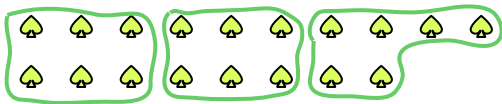
10. 3

11. 5




Usa le forme per risopndere alle domande.


Es) Quanti gruppi di 6 puoi fare con le 18 forme qui sotto?



1) Quanti gruppi di 3 puoi fare con le 30 forme qui sotto?



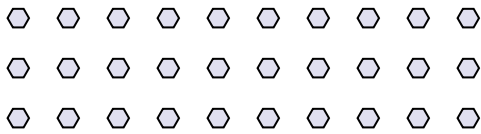
2) Quanti gruppi di 7 puoi fare con le 35 forme qui sotto?




3) Quanti gruppi di 4 puoi fare con le 20 forme qui sotto?



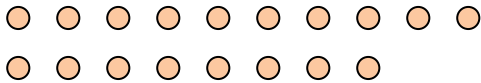
4) Quanti gruppi di 3 puoi fare con le 30 forme qui sotto?




5) Quanti gruppi di 8 puoi fare con le 32 forme qui sotto?



6) Quanti gruppi di 9 puoi fare con le 18 forme qui sotto?



7) Quanti gruppi di 6 puoi fare con le 30 forme qui sotto?



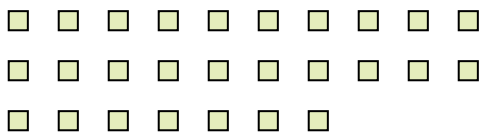
8) Quanti gruppi di 8 puoi fare con le 24 forme qui sotto?



9) Quanti gruppi di 2 puoi fare con le 40 forme qui sotto?



10) Quanti gruppi di 9 puoi fare con le 27 forme qui sotto?



11) Quanti gruppi di 3 puoi fare con le 6 forme qui sotto?



Risposte

Es. 3

1. _____

2. _____

3. _____

4. _____

5. _____

6. _____

7. _____

8. _____

9. _____

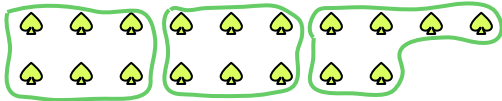
10. _____

11. _____




Usa le forme per risopndere alle domande.

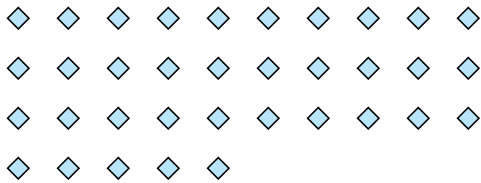
Es) Quanti gruppi di 6 puoi fare con le 18 forme qui sotto?



1) Quanti gruppi di 3 puoi fare con le 30 forme qui sotto?



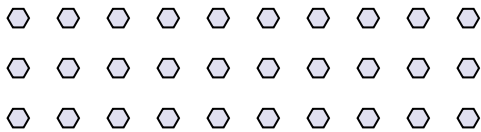
2) Quanti gruppi di 7 puoi fare con le 35 forme qui sotto?




3) Quanti gruppi di 4 puoi fare con le 20 forme qui sotto?



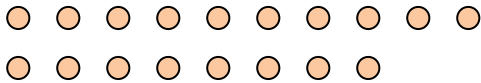
4) Quanti gruppi di 3 puoi fare con le 30 forme qui sotto?




5) Quanti gruppi di 8 puoi fare con le 32 forme qui sotto?



6) Quanti gruppi di 9 puoi fare con le 18 forme qui sotto?



7) Quanti gruppi di 6 puoi fare con le 30 forme qui sotto?



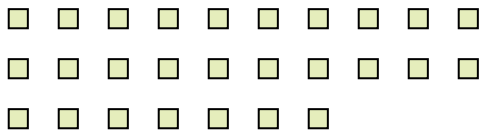
8) Quanti gruppi di 8 puoi fare con le 24 forme qui sotto?



9) Quanti gruppi di 2 puoi fare con le 40 forme qui sotto?



10) Quanti gruppi di 9 puoi fare con le 27 forme qui sotto?



11) Quanti gruppi di 3 puoi fare con le 6 forme qui sotto?



Risposte

Es. 3

1. 10

2. 5

3. 5

4. 10

5. 4

6. 2

7. 5

8. 3

9. 20

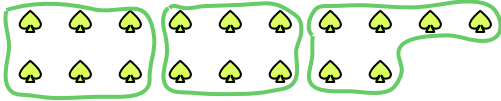
10. 3

11. 2



Usa le forme per risopndere alle domande.

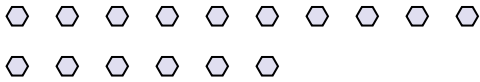
Es) Quanti gruppi di 6 puoi fare con le 18 forme qui sotto?



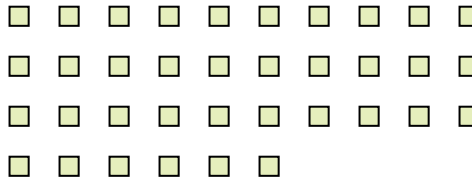
1) Quanti gruppi di 5 puoi fare con le 30 forme qui sotto?



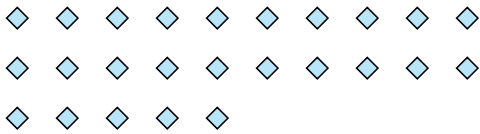
2) Quanti gruppi di 8 puoi fare con le 16 forme qui sotto?




3) Quanti gruppi di 9 puoi fare con le 36 forme qui sotto?



4) Quanti gruppi di 5 puoi fare con le 25 forme qui sotto?




5) Quanti gruppi di 9 puoi fare con le 18 forme qui sotto?




6) Quanti gruppi di 6 puoi fare con le 12 forme qui sotto?



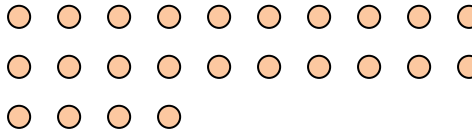
7) Quanti gruppi di 9 puoi fare con le 36 forme qui sotto?




8) Quanti gruppi di 5 puoi fare con le 25 forme qui sotto?



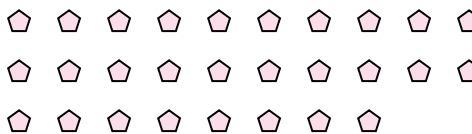
9) Quanti gruppi di 8 puoi fare con le 24 forme qui sotto?



10) Quanti gruppi di 7 puoi fare con le 14 forme qui sotto?



11) Quanti gruppi di 7 puoi fare con le 28 forme qui sotto?



Risposte

Es. 3

1. _____

2. _____

3. _____

4. _____

5. _____

6. _____

7. _____

8. _____

9. _____

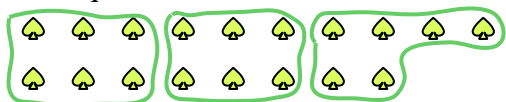
10. _____

11. _____

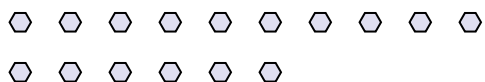


Usa le forme per risopndere alle domande.

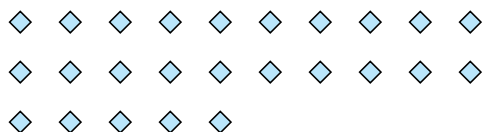
Es) Quanti gruppi di 6 puoi fare con le 18 forme qui sotto?



2) Quanti gruppi di 8 puoi fare con le 16 forme qui sotto?




4) Quanti gruppi di 5 puoi fare con le 25 forme qui sotto?



6) Quanti gruppi di 6 puoi fare con le 12 forme qui sotto?



8) Quanti gruppi di 5 puoi fare con le 25 forme qui sotto?



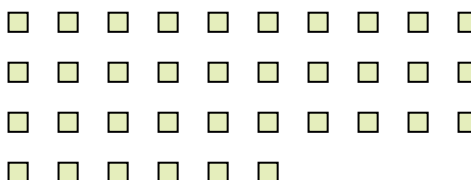
10) Quanti gruppi di 7 puoi fare con le 14 forme qui sotto?



1) Quanti gruppi di 5 puoi fare con le 30 forme qui sotto?




3) Quanti gruppi di 9 puoi fare con le 36 forme qui sotto?



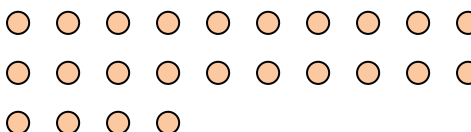
5) Quanti gruppi di 9 puoi fare con le 18 forme qui sotto?



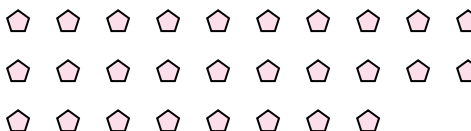
7) Quanti gruppi di 9 puoi fare con le 36 forme qui sotto?



9) Quanti gruppi di 8 puoi fare con le 24 forme qui sotto?



11) Quanti gruppi di 7 puoi fare con le 28 forme qui sotto?



Risposte

Es. 3

1. 6

2. 2

3. 4

4. 5

5. 2

6. 2

7. 4

8. 5

9. 3

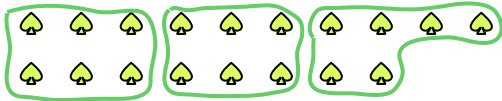
10. 2

11. 4

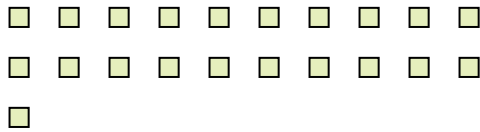


Usa le forme per risopndere alle domande.

Es) Quanti gruppi di 6 puoi fare con le 18 forme qui sotto?



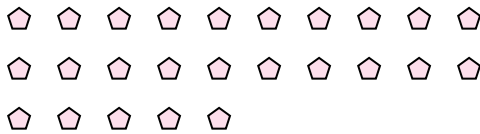
1) Quanti gruppi di 7 puoi fare con le 21 forme qui sotto?




2) Quanti gruppi di 7 puoi fare con le 35 forme qui sotto?



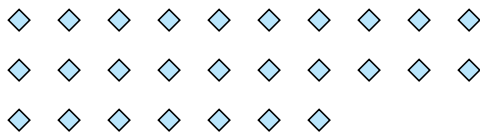
3) Quanti gruppi di 5 puoi fare con le 25 forme qui sotto?



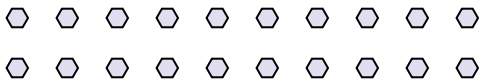
4) Quanti gruppi di 5 puoi fare con le 25 forme qui sotto?



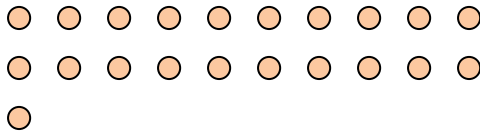
5) Quanti gruppi di 9 puoi fare con le 27 forme qui sotto?



6) Quanti gruppi di 5 puoi fare con le 20 forme qui sotto?




7) Quanti gruppi di 3 puoi fare con le 21 forme qui sotto?



8) Quanti gruppi di 8 puoi fare con le 16 forme qui sotto?




9) Quanti gruppi di 2 puoi fare con le 28 forme qui sotto?



10) Quanti gruppi di 9 puoi fare con le 36 forme qui sotto?



11) Quanti gruppi di 8 puoi fare con le 40 forme qui sotto?



Risposte

Es. 3

1. _____

2. _____

3. _____

4. _____

5. _____

6. _____

7. _____

8. _____

9. _____

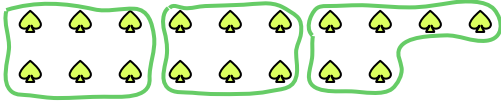
10. _____

11. _____

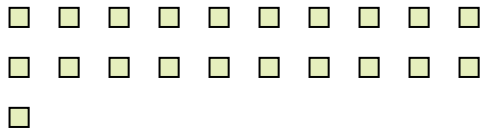


Usa le forme per risopndere alle domande.

Es) Quanti gruppi di 6 puoi fare con le 18 forme qui sotto?



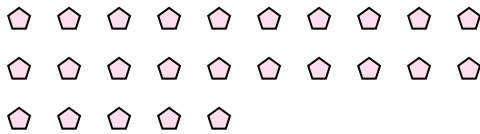
1) Quanti gruppi di 7 puoi fare con le 21 forme qui sotto?




2) Quanti gruppi di 7 puoi fare con le 35 forme qui sotto?



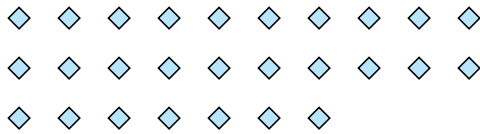
3) Quanti gruppi di 5 puoi fare con le 25 forme qui sotto?



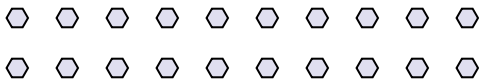
4) Quanti gruppi di 5 puoi fare con le 25 forme qui sotto?



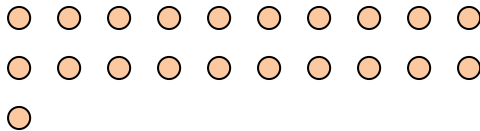
5) Quanti gruppi di 9 puoi fare con le 27 forme qui sotto?



6) Quanti gruppi di 5 puoi fare con le 20 forme qui sotto?




7) Quanti gruppi di 3 puoi fare con le 21 forme qui sotto?



8) Quanti gruppi di 8 puoi fare con le 16 forme qui sotto?




9) Quanti gruppi di 2 puoi fare con le 28 forme qui sotto?



10) Quanti gruppi di 9 puoi fare con le 36 forme qui sotto?



11) Quanti gruppi di 8 puoi fare con le 40 forme qui sotto?



Risposte

Es. 3

1. 3

2. 5

3. 5

4. 5

5. 3

6. 4

7. 7

8. 2

9. 14

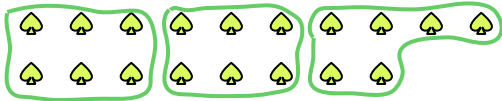
10. 4

11. 5

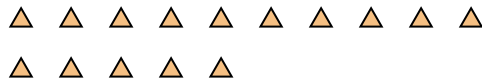


Usa le forme per risopndere alle domande.

Es) Quanti gruppi di 6 puoi fare con le 18 forme qui sotto?



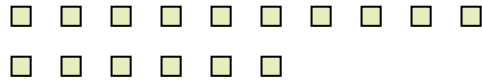
1) Quanti gruppi di 5 puoi fare con le 15 forme qui sotto?




2) Quanti gruppi di 9 puoi fare con le 27 forme qui sotto?



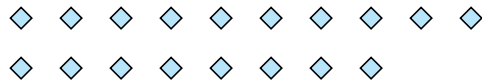
3) Quanti gruppi di 8 puoi fare con le 16 forme qui sotto?



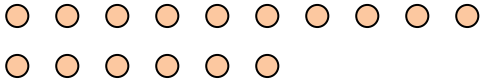
4) Quanti gruppi di 5 puoi fare con le 35 forme qui sotto?



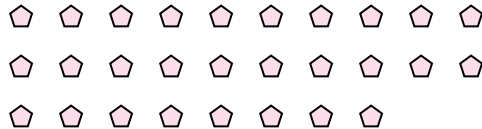
5) Quanti gruppi di 2 puoi fare con le 18 forme qui sotto?




6) Quanti gruppi di 8 puoi fare con le 16 forme qui sotto?




7) Quanti gruppi di 7 puoi fare con le 28 forme qui sotto?



8) Quanti gruppi di 6 puoi fare con le 36 forme qui sotto?



9) Quanti gruppi di 8 puoi fare con le 40 forme qui sotto?



10) Quanti gruppi di 5 puoi fare con le 20 forme qui sotto?



11) Quanti gruppi di 2 puoi fare con le 38 forme qui sotto?



Risposte

Es. 3

1. _____

2. _____

3. _____

4. _____

5. _____

6. _____

7. _____

8. _____

9. _____

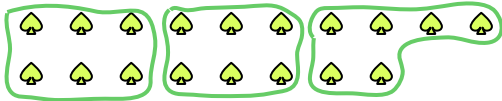
10. _____

11. _____

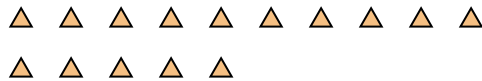


Usa le forme per risopndere alle domande.

Es) Quanti gruppi di 6 puoi fare con le 18 forme qui sotto?



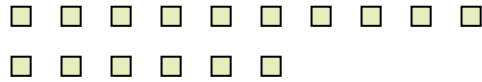
1) Quanti gruppi di 5 puoi fare con le 15 forme qui sotto?




2) Quanti gruppi di 9 puoi fare con le 27 forme qui sotto?



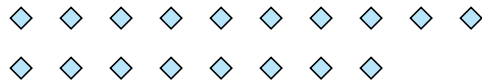
3) Quanti gruppi di 8 puoi fare con le 16 forme qui sotto?



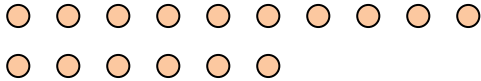
4) Quanti gruppi di 5 puoi fare con le 35 forme qui sotto?



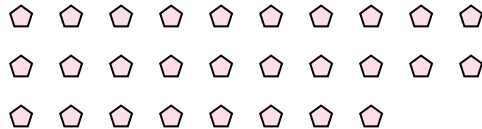
5) Quanti gruppi di 2 puoi fare con le 18 forme qui sotto?




6) Quanti gruppi di 8 puoi fare con le 16 forme qui sotto?




7) Quanti gruppi di 7 puoi fare con le 28 forme qui sotto?



8) Quanti gruppi di 6 puoi fare con le 36 forme qui sotto?



9) Quanti gruppi di 8 puoi fare con le 40 forme qui sotto?



10) Quanti gruppi di 5 puoi fare con le 20 forme qui sotto?



11) Quanti gruppi di 2 puoi fare con le 38 forme qui sotto?



Risposte

Es. 3

1. 3

2. 3

3. 2

4. 7

5. 9

6. 2

7. 4

8. 6

9. 5

10. 4

11. 19