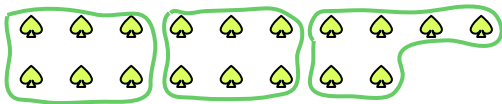




Usa le forme per risopndere alle domande.

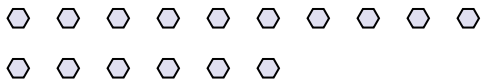
Es) Quanti gruppi di 6 puoi fare con le 18 forme qui sotto?



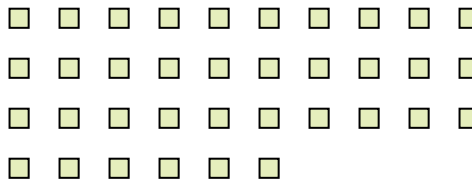
1) Quanti gruppi di 5 puoi fare con le 30 forme qui sotto?



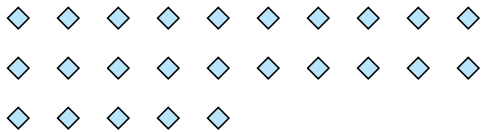
2) Quanti gruppi di 8 puoi fare con le 16 forme qui sotto?




3) Quanti gruppi di 9 puoi fare con le 36 forme qui sotto?



4) Quanti gruppi di 5 puoi fare con le 25 forme qui sotto?




5) Quanti gruppi di 9 puoi fare con le 18 forme qui sotto?




6) Quanti gruppi di 6 puoi fare con le 12 forme qui sotto?



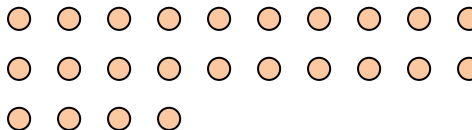
7) Quanti gruppi di 9 puoi fare con le 36 forme qui sotto?




8) Quanti gruppi di 5 puoi fare con le 25 forme qui sotto?



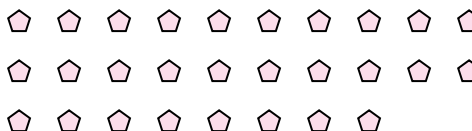
9) Quanti gruppi di 8 puoi fare con le 24 forme qui sotto?



10) Quanti gruppi di 7 puoi fare con le 14 forme qui sotto?



11) Quanti gruppi di 7 puoi fare con le 28 forme qui sotto?



Risposte

Es. 3

1. _____

2. _____

3. _____

4. _____

5. _____

6. _____

7. _____

8. _____

9. _____

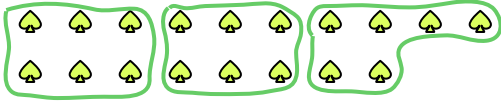
10. _____

11. _____



Usa le forme per risopndere alle domande.

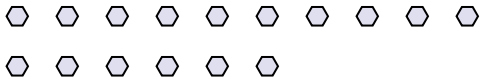
Es) Quanti gruppi di 6 puoi fare con le 18 forme qui sotto?



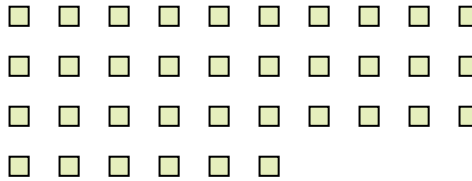
1) Quanti gruppi di 5 puoi fare con le 30 forme qui sotto?



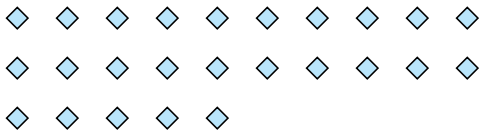
2) Quanti gruppi di 8 puoi fare con le 16 forme qui sotto?




3) Quanti gruppi di 9 puoi fare con le 36 forme qui sotto?



4) Quanti gruppi di 5 puoi fare con le 25 forme qui sotto?




5) Quanti gruppi di 9 puoi fare con le 18 forme qui sotto?




6) Quanti gruppi di 6 puoi fare con le 12 forme qui sotto?



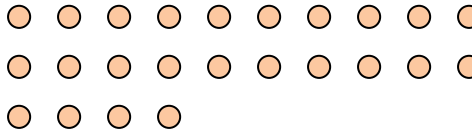
7) Quanti gruppi di 9 puoi fare con le 36 forme qui sotto?




8) Quanti gruppi di 5 puoi fare con le 25 forme qui sotto?



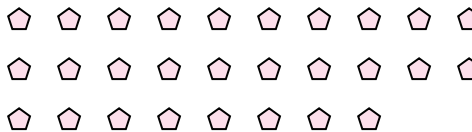
9) Quanti gruppi di 8 puoi fare con le 24 forme qui sotto?



10) Quanti gruppi di 7 puoi fare con le 14 forme qui sotto?



11) Quanti gruppi di 7 puoi fare con le 28 forme qui sotto?



Risposte

Es. 3

1. 6

2. 2

3. 4

4. 5

5. 2

6. 2

7. 4

8. 5

9. 3

10. 2

11. 4