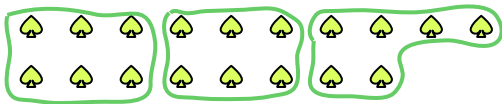





Usa le forme per risopndere alle domande.


Es) Quanti gruppi di 6 puoi fare con le 18 forme qui sotto?



1) Quanti gruppi di 3 puoi fare con le 30 forme qui sotto?



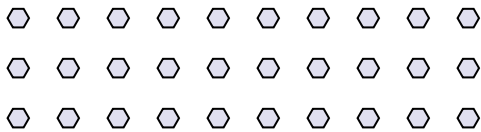
2) Quanti gruppi di 7 puoi fare con le 35 forme qui sotto?




3) Quanti gruppi di 4 puoi fare con le 20 forme qui sotto?



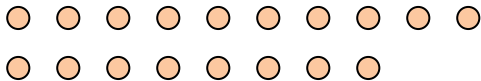
4) Quanti gruppi di 3 puoi fare con le 30 forme qui sotto?




5) Quanti gruppi di 8 puoi fare con le 32 forme qui sotto?



6) Quanti gruppi di 9 puoi fare con le 18 forme qui sotto?



7) Quanti gruppi di 6 puoi fare con le 30 forme qui sotto?



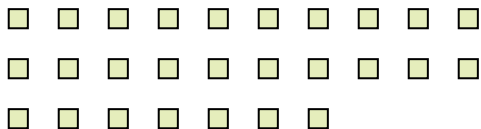
8) Quanti gruppi di 8 puoi fare con le 24 forme qui sotto?



9) Quanti gruppi di 2 puoi fare con le 40 forme qui sotto?



10) Quanti gruppi di 9 puoi fare con le 27 forme qui sotto?



11) Quanti gruppi di 3 puoi fare con le 6 forme qui sotto?



Risposte

Es. 3

1. _____

2. _____

3. _____

4. _____

5. _____

6. _____

7. _____

8. _____

9. _____

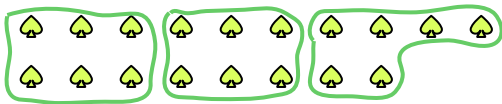
10. _____

11. _____




Usa le forme per risopndere alle domande.


Es) Quanti gruppi di 6 puoi fare con le 18 forme qui sotto?



1) Quanti gruppi di 3 puoi fare con le 30 forme qui sotto?



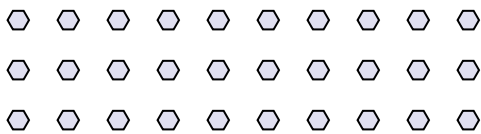
2) Quanti gruppi di 7 puoi fare con le 35 forme qui sotto?




3) Quanti gruppi di 4 puoi fare con le 20 forme qui sotto?



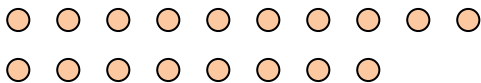
4) Quanti gruppi di 3 puoi fare con le 30 forme qui sotto?




5) Quanti gruppi di 8 puoi fare con le 32 forme qui sotto?



6) Quanti gruppi di 9 puoi fare con le 18 forme qui sotto?



7) Quanti gruppi di 6 puoi fare con le 30 forme qui sotto?



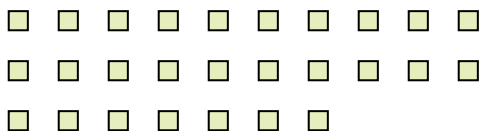
8) Quanti gruppi di 8 puoi fare con le 24 forme qui sotto?



9) Quanti gruppi di 2 puoi fare con le 40 forme qui sotto?



10) Quanti gruppi di 9 puoi fare con le 27 forme qui sotto?



11) Quanti gruppi di 3 puoi fare con le 6 forme qui sotto?



Risposte

Es. 3

1. 10

2. 5

3. 5

4. 10

5. 4

6. 2

7. 5

8. 3

9. 20

10. 3

11. 2