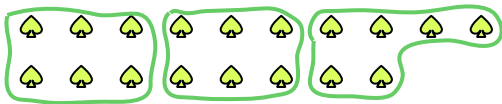


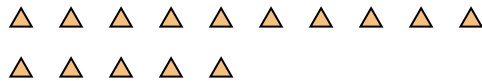


Usa le forme per risopndere alle domande.

Es) Quanti gruppi di 6 puoi fare con le 18 forme qui sotto?



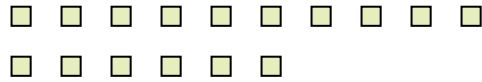
1) Quanti gruppi di 5 puoi fare con le 15 forme qui sotto?




2) Quanti gruppi di 9 puoi fare con le 27 forme qui sotto?



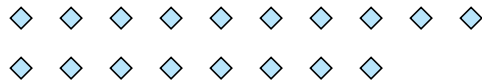
3) Quanti gruppi di 8 puoi fare con le 16 forme qui sotto?



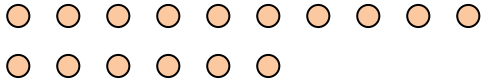
4) Quanti gruppi di 5 puoi fare con le 35 forme qui sotto?



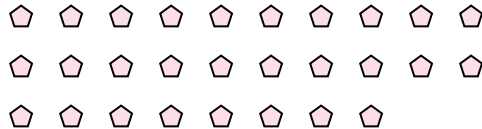
5) Quanti gruppi di 2 puoi fare con le 18 forme qui sotto?




6) Quanti gruppi di 8 puoi fare con le 16 forme qui sotto?




7) Quanti gruppi di 7 puoi fare con le 28 forme qui sotto?



8) Quanti gruppi di 6 puoi fare con le 36 forme qui sotto?



9) Quanti gruppi di 8 puoi fare con le 40 forme qui sotto?



10) Quanti gruppi di 5 puoi fare con le 20 forme qui sotto?



11) Quanti gruppi di 2 puoi fare con le 38 forme qui sotto?



Risposte

Es. 3

1. _____

2. _____

3. _____

4. _____

5. _____

6. _____

7. _____

8. _____

9. _____

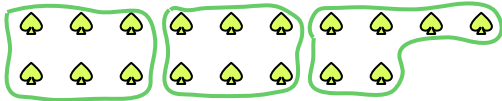
10. _____

11. _____

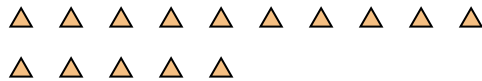


Usa le forme per risopndere alle domande.

Es) Quanti gruppi di 6 puoi fare con le 18 forme qui sotto?



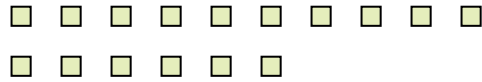
1) Quanti gruppi di 5 puoi fare con le 15 forme qui sotto?




2) Quanti gruppi di 9 puoi fare con le 27 forme qui sotto?



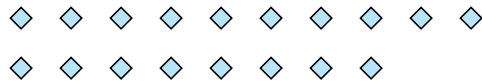
3) Quanti gruppi di 8 puoi fare con le 16 forme qui sotto?



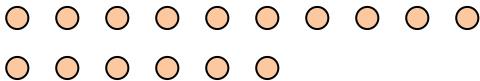
4) Quanti gruppi di 5 puoi fare con le 35 forme qui sotto?



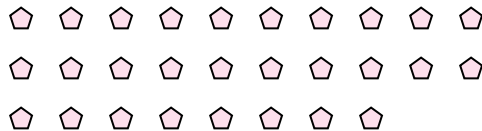
5) Quanti gruppi di 2 puoi fare con le 18 forme qui sotto?




6) Quanti gruppi di 8 puoi fare con le 16 forme qui sotto?




7) Quanti gruppi di 7 puoi fare con le 28 forme qui sotto?



8) Quanti gruppi di 6 puoi fare con le 36 forme qui sotto?



9) Quanti gruppi di 8 puoi fare con le 40 forme qui sotto?



10) Quanti gruppi di 5 puoi fare con le 20 forme qui sotto?



11) Quanti gruppi di 2 puoi fare con le 38 forme qui sotto?



Risposte

Es. 3

1. 3

2. 3

3. 2

4. 7

5. 9

6. 2

7. 4

8. 6

9. 5

10. 4

11. 19