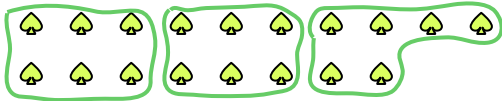




Usa le forme per risopndere alle domande.


Es) Quanti gruppi di 6 puoi fare con le 18 forme qui sotto?




1) Quanti gruppi di 9 puoi fare con le 27 forme qui sotto?



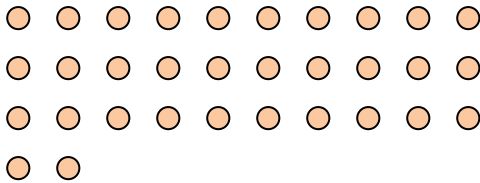
2) Quanti gruppi di 3 puoi fare con le 39 forme qui sotto?



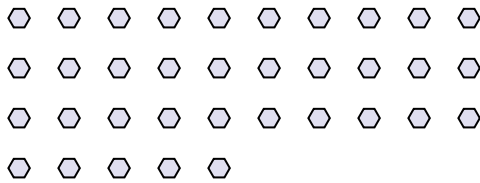
3) Quanti gruppi di 6 puoi fare con le 30 forme qui sotto?



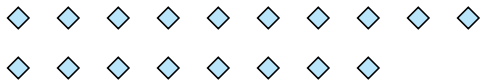
4) Quanti gruppi di 4 puoi fare con le 32 forme qui sotto?



5) Quanti gruppi di 7 puoi fare con le 35 forme qui sotto?



6) Quanti gruppi di 9 puoi fare con le 18 forme qui sotto?



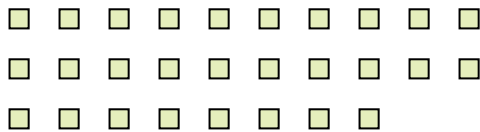
7) Quanti gruppi di 3 puoi fare con le 27 forme qui sotto?



8) Quanti gruppi di 2 puoi fare con le 40 forme qui sotto?



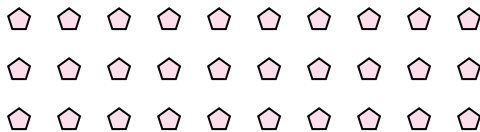
9) Quanti gruppi di 2 puoi fare con le 28 forme qui sotto?



10) Quanti gruppi di 3 puoi fare con le 6 forme qui sotto?



11) Quanti gruppi di 6 puoi fare con le 30 forme qui sotto?



Risposte

Es. 3

1. _____

2. _____

3. _____

4. _____

5. _____

6. _____

7. _____

8. _____

9. _____

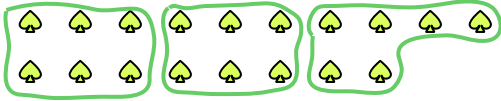
10. _____

11. _____




Usa le forme per rispondere alle domande.

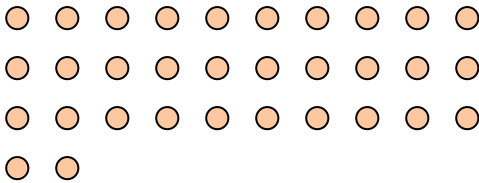
Es) Quanti gruppi di 6 puoi fare con le 18 forme qui sotto?



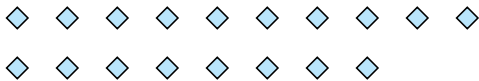
2) Quanti gruppi di 3 puoi fare con le 39 forme qui sotto?



4) Quanti gruppi di 4 puoi fare con le 32 forme qui sotto?



6) Quanti gruppi di 9 puoi fare con le 18 forme qui sotto?




8) Quanti gruppi di 2 puoi fare con le 40 forme qui sotto?




10) Quanti gruppi di 3 puoi fare con le 6 forme qui sotto?



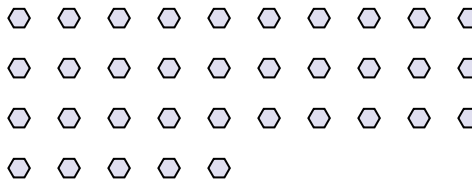
1) Quanti gruppi di 9 puoi fare con le 27 forme qui sotto?



3) Quanti gruppi di 6 puoi fare con le 30 forme qui sotto?



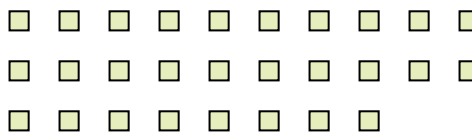
5) Quanti gruppi di 7 puoi fare con le 35 forme qui sotto?



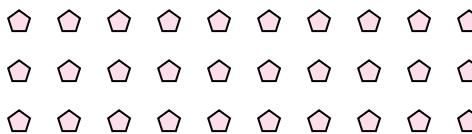
7) Quanti gruppi di 3 puoi fare con le 27 forme qui sotto?



9) Quanti gruppi di 2 puoi fare con le 28 forme qui sotto?



11) Quanti gruppi di 6 puoi fare con le 30 forme qui sotto?

**Risposte**Es. 31. 32. 133. 54. 85. 56. 27. 98. 209. 1410. 211. 5