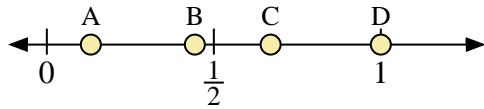
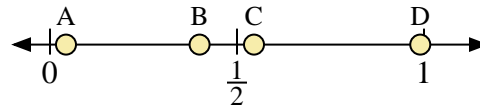




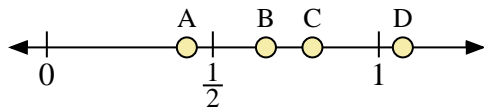
Usa la linea numerata per rispondere alle domande.



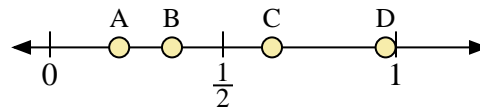
- 1) Quale lettera rappresenta correttamente la posizione di 1,00?
- 2) Quale lettera rappresenta correttamente la posizione di 0,67?



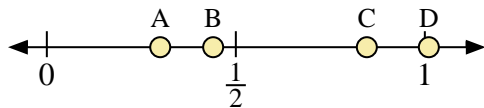
- 3) Quale lettera rappresenta correttamente la posizione di 0,4?
- 4) Quale lettera rappresenta correttamente la posizione di 0,99?



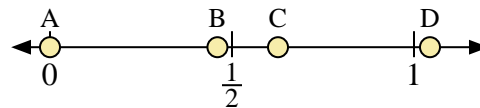
- 5) Quale lettera rappresenta correttamente la posizione di 0,80?
- 6) Quale lettera rappresenta correttamente la posizione di 0,66?



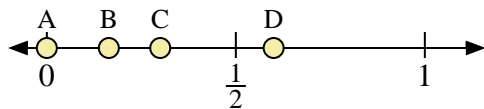
- 7) Quale lettera rappresenta correttamente la posizione di 0,2?
- 8) Quale lettera rappresenta correttamente la posizione di 0,97?



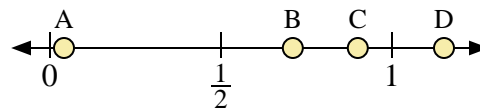
- 9) Quale lettera rappresenta correttamente la posizione di 0,3?
- 10) Quale lettera rappresenta correttamente la posizione di 0,44?



- 11) Quale lettera rappresenta correttamente la posizione di 0,0?
- 12) Quale lettera rappresenta correttamente la posizione di 0,46?



- 13) Quale lettera rappresenta correttamente la posizione di 0,60?
- 14) Quale lettera rappresenta correttamente la posizione di 0,30?



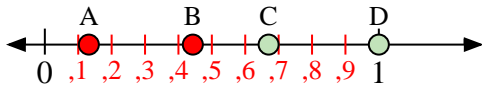
- 15) Quale lettera rappresenta correttamente la posizione di 0,90?
- 16) Quale lettera rappresenta correttamente la posizione di 0,71?

**Risposte**

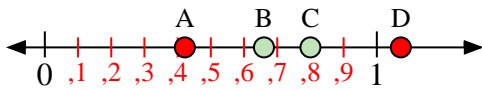
1. \_\_\_\_\_
2. \_\_\_\_\_
3. \_\_\_\_\_
4. \_\_\_\_\_
5. \_\_\_\_\_
6. \_\_\_\_\_
7. \_\_\_\_\_
8. \_\_\_\_\_
9. \_\_\_\_\_
10. \_\_\_\_\_
11. \_\_\_\_\_
12. \_\_\_\_\_
13. \_\_\_\_\_
14. \_\_\_\_\_
15. \_\_\_\_\_
16. \_\_\_\_\_



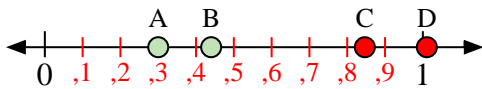
Usa la linea numerata per rispondere alle domande.



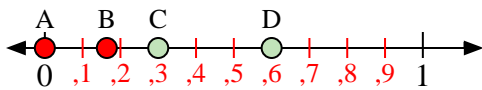
- 1) Quale lettera rappresenta correttamente la posizione di 1,00?
- 2) Quale lettera rappresenta correttamente la posizione di 0,67?



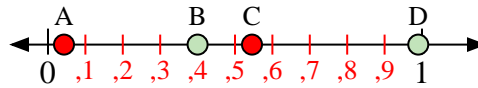
- 5) Quale lettera rappresenta correttamente la posizione di 0,80?
- 6) Quale lettera rappresenta correttamente la posizione di 0,66?



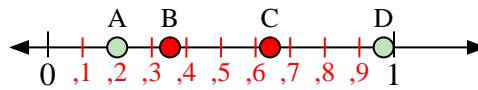
- 9) Quale lettera rappresenta correttamente la posizione di 0,3?
- 10) Quale lettera rappresenta correttamente la posizione di 0,44?



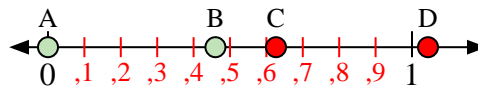
- 13) Quale lettera rappresenta correttamente la posizione di 0,60?
- 14) Quale lettera rappresenta correttamente la posizione di 0,30?



- 3) Quale lettera rappresenta correttamente la posizione di 0,4?
- 4) Quale lettera rappresenta correttamente la posizione di 0,99?



- 7) Quale lettera rappresenta correttamente la posizione di 0,2?
- 8) Quale lettera rappresenta correttamente la posizione di 0,97?



- 11) Quale lettera rappresenta correttamente la posizione di 0,0?
- 12) Quale lettera rappresenta correttamente la posizione di 0,46?



- 15) Quale lettera rappresenta correttamente la posizione di 0,90?
- 16) Quale lettera rappresenta correttamente la posizione di 0,71?

**Risposte**

1.     D
2.     C
3.     B
4.     D
5.     C
6.     B
7.     A
8.     D
9.     A
10.    B
11.    A
12.    B
13.    D
14.    C
15.    C
16.    B