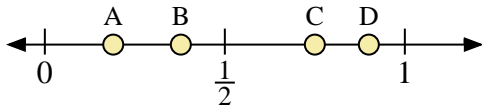
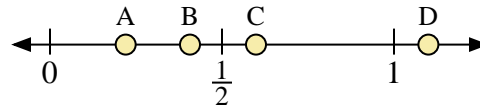




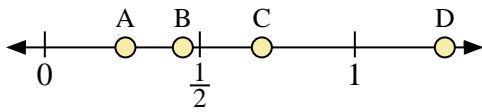
Usa la linea numerata per rispondere alle domande.



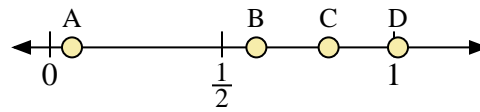
- 1) Quale lettera rappresenta correttamente la posizione di 0,90?
- 2) Quale lettera rappresenta correttamente la posizione di 0,19?



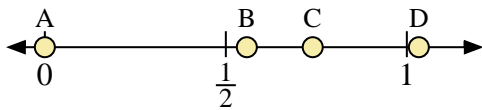
- 3) Quale lettera rappresenta correttamente la posizione di 1,10?
- 4) Quale lettera rappresenta correttamente la posizione di 0,22?



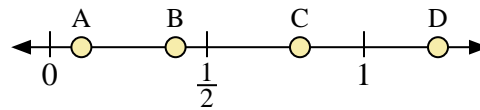
- 5) Quale lettera rappresenta correttamente la posizione di 0,7?
- 6) Quale lettera rappresenta correttamente la posizione di 0,26?



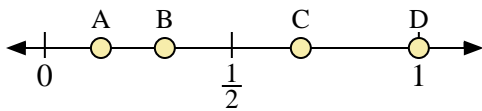
- 7) Quale lettera rappresenta correttamente la posizione di 0,60?
- 8) Quale lettera rappresenta correttamente la posizione di 0,81?



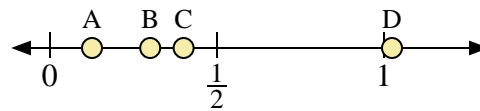
- 9) Quale lettera rappresenta correttamente la posizione di 0,0?
- 10) Quale lettera rappresenta correttamente la posizione di 0,74?



- 11) Quale lettera rappresenta correttamente la posizione di 0,10?
- 12) Quale lettera rappresenta correttamente la posizione di 0,40?



- 13) Quale lettera rappresenta correttamente la posizione di 1,0?
- 14) Quale lettera rappresenta correttamente la posizione di 0,15?



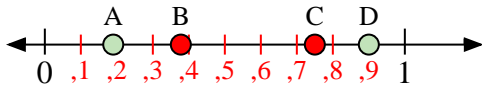
- 15) Quale lettera rappresenta correttamente la posizione di 0,4?
- 16) Quale lettera rappresenta correttamente la posizione di 0,30?

**Risposte**

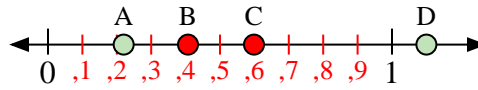
1. \_\_\_\_\_
2. \_\_\_\_\_
3. \_\_\_\_\_
4. \_\_\_\_\_
5. \_\_\_\_\_
6. \_\_\_\_\_
7. \_\_\_\_\_
8. \_\_\_\_\_
9. \_\_\_\_\_
10. \_\_\_\_\_
11. \_\_\_\_\_
12. \_\_\_\_\_
13. \_\_\_\_\_
14. \_\_\_\_\_
15. \_\_\_\_\_
16. \_\_\_\_\_



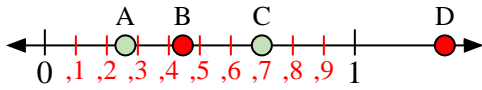
Usa la linea numerata per rispondere alle domande.



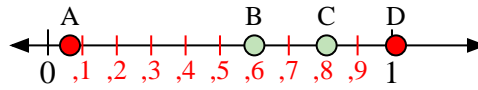
- 1) Quale lettera rappresenta correttamente la posizione di 0,90?
- 2) Quale lettera rappresenta correttamente la posizione di 0,19?



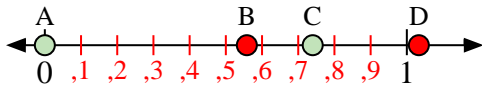
- 3) Quale lettera rappresenta correttamente la posizione di 1,10?
- 4) Quale lettera rappresenta correttamente la posizione di 0,22?



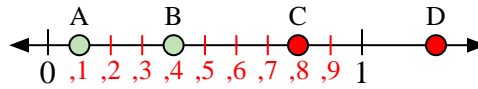
- 5) Quale lettera rappresenta correttamente la posizione di 0,7?
- 6) Quale lettera rappresenta correttamente la posizione di 0,26?



- 7) Quale lettera rappresenta correttamente la posizione di 0,60?
- 8) Quale lettera rappresenta correttamente la posizione di 0,81?



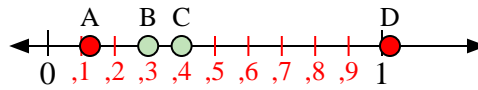
- 9) Quale lettera rappresenta correttamente la posizione di 0,0?
- 10) Quale lettera rappresenta correttamente la posizione di 0,74?



- 11) Quale lettera rappresenta correttamente la posizione di 0,10?
- 12) Quale lettera rappresenta correttamente la posizione di 0,40?



- 13) Quale lettera rappresenta correttamente la posizione di 1,0?
- 14) Quale lettera rappresenta correttamente la posizione di 0,15?



- 15) Quale lettera rappresenta correttamente la posizione di 0,4?
- 16) Quale lettera rappresenta correttamente la posizione di 0,30?

**Risposte**

1.     **D**
2.     **A**
3.     **D**
4.     **A**
5.     **C**
6.     **A**
7.     **B**
8.     **C**
9.     **A**
10.     **C**
11.     **A**
12.     **B**
13.     **D**
14.     **A**
15.     **C**
16.     **B**