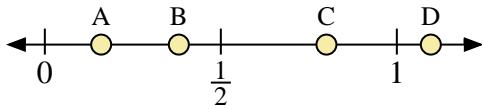
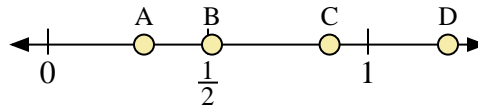




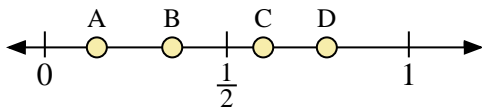
Usa la linea numerata per rispondere alle domande.



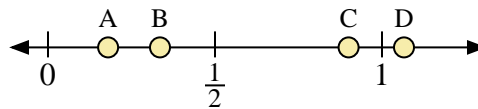
- 1) Quale lettera rappresenta correttamente la posizione di 0,8?
- 2) Quale lettera rappresenta correttamente la posizione di 0,16?



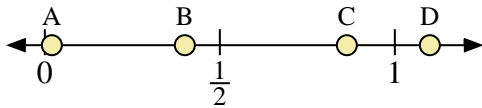
- 3) Quale lettera rappresenta correttamente la posizione di 0,30?
- 4) Quale lettera rappresenta correttamente la posizione di 0,88?



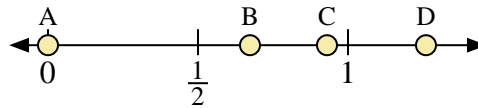
- 5) Quale lettera rappresenta correttamente la posizione di 0,60?
- 6) Quale lettera rappresenta correttamente la posizione di 0,35?



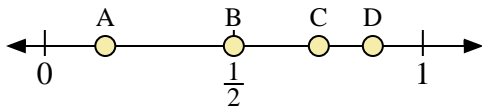
- 7) Quale lettera rappresenta correttamente la posizione di 0,90?
- 8) Quale lettera rappresenta correttamente la posizione di 0,18?



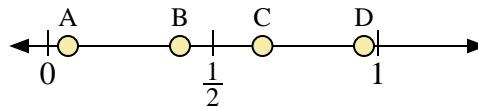
- 9) Quale lettera rappresenta correttamente la posizione di 1,1?
- 10) Quale lettera rappresenta correttamente la posizione di 0,02?



- 11) Quale lettera rappresenta correttamente la posizione di 0,0?
- 12) Quale lettera rappresenta correttamente la posizione di 0,93?



- 13) Quale lettera rappresenta correttamente la posizione di 0,50?
- 14) Quale lettera rappresenta correttamente la posizione di 0,16?



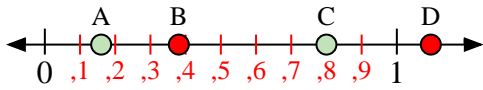
- 15) Quale lettera rappresenta correttamente la posizione di 0,40?
- 16) Quale lettera rappresenta correttamente la posizione di 0,65?

Risposte

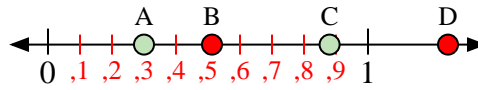
1. _____
2. _____
3. _____
4. _____
5. _____
6. _____
7. _____
8. _____
9. _____
10. _____
11. _____
12. _____
13. _____
14. _____
15. _____
16. _____



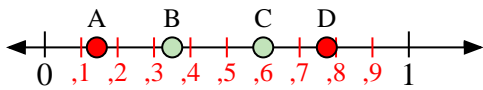
Usa la linea numerata per rispondere alle domande.



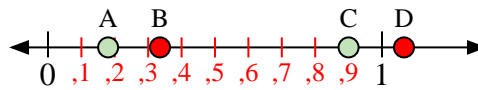
- 1) Quale lettera rappresenta correttamente la posizione di 0,8?
- 2) Quale lettera rappresenta correttamente la posizione di 0,16?



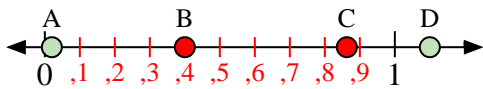
- 3) Quale lettera rappresenta correttamente la posizione di 0,30?
- 4) Quale lettera rappresenta correttamente la posizione di 0,88?



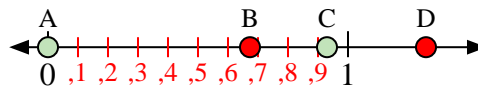
- 5) Quale lettera rappresenta correttamente la posizione di 0,60?
- 6) Quale lettera rappresenta correttamente la posizione di 0,35?



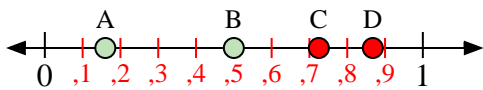
- 7) Quale lettera rappresenta correttamente la posizione di 0,90?
- 8) Quale lettera rappresenta correttamente la posizione di 0,18?



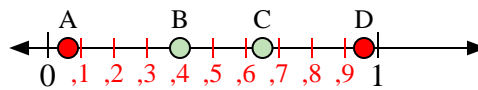
- 9) Quale lettera rappresenta correttamente la posizione di 1,1?
- 10) Quale lettera rappresenta correttamente la posizione di 0,02?



- 11) Quale lettera rappresenta correttamente la posizione di 0,0?
- 12) Quale lettera rappresenta correttamente la posizione di 0,93?



- 13) Quale lettera rappresenta correttamente la posizione di 0,50?
- 14) Quale lettera rappresenta correttamente la posizione di 0,16?



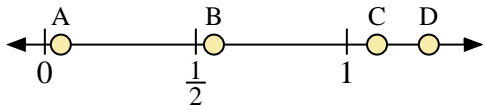
- 15) Quale lettera rappresenta correttamente la posizione di 0,40?
- 16) Quale lettera rappresenta correttamente la posizione di 0,65?

Risposte

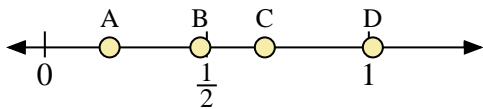
1. **C**
2. **A**
3. **A**
4. **C**
5. **C**
6. **B**
7. **C**
8. **A**
9. **D**
10. **A**
11. **A**
12. **C**
13. **B**
14. **A**
15. **B**
16. **C**



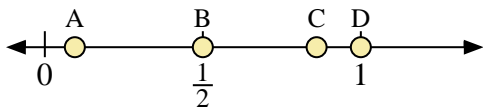
Usa la linea numerata per rispondere alle domande.



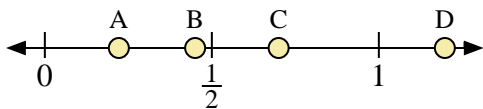
- 1) Quale lettera rappresenta correttamente la posizione di 1,1?
- 2) Quale lettera rappresenta correttamente la posizione di 0,56?



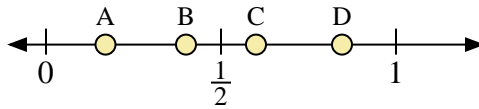
- 5) Quale lettera rappresenta correttamente la posizione di 0,20?
- 6) Quale lettera rappresenta correttamente la posizione di 0,48?



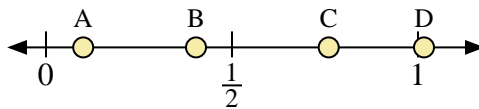
- 9) Quale lettera rappresenta correttamente la posizione di 1,0?
- 10) Quale lettera rappresenta correttamente la posizione di 0,86?



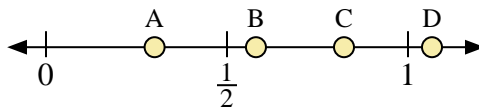
- 13) Quale lettera rappresenta correttamente la posizione di 0,7?
- 14) Quale lettera rappresenta correttamente la posizione di 0,45?



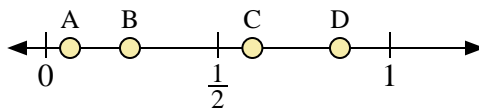
- 3) Quale lettera rappresenta correttamente la posizione di 0,40?
- 4) Quale lettera rappresenta correttamente la posizione di 0,17?



- 7) Quale lettera rappresenta correttamente la posizione di 0,1?
- 8) Quale lettera rappresenta correttamente la posizione di 0,76?



- 11) Quale lettera rappresenta correttamente la posizione di 0,30?
- 12) Quale lettera rappresenta correttamente la posizione di 0,58?



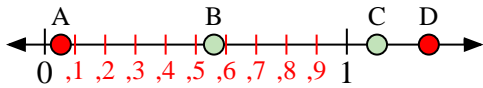
- 15) Quale lettera rappresenta correttamente la posizione di 0,60?
- 16) Quale lettera rappresenta correttamente la posizione di 0,07?

Risposte

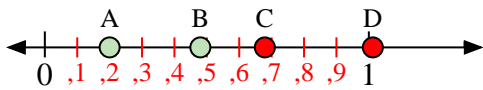
1. _____
2. _____
3. _____
4. _____
5. _____
6. _____
7. _____
8. _____
9. _____
10. _____
11. _____
12. _____
13. _____
14. _____
15. _____
16. _____



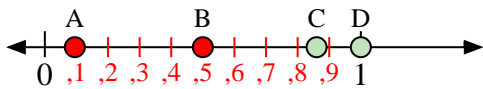
Usa la linea numerata per rispondere alle domande.



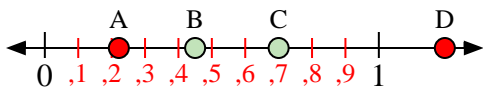
- 1) Quale lettera rappresenta correttamente la posizione di 1,1?
- 2) Quale lettera rappresenta correttamente la posizione di 0,56?



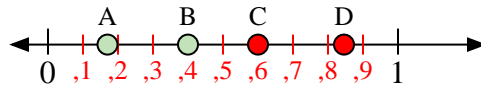
- 5) Quale lettera rappresenta correttamente la posizione di 0,20?
- 6) Quale lettera rappresenta correttamente la posizione di 0,48?



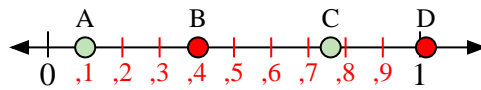
- 9) Quale lettera rappresenta correttamente la posizione di 1,0?
- 10) Quale lettera rappresenta correttamente la posizione di 0,86?



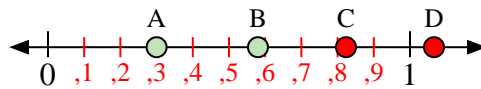
- 13) Quale lettera rappresenta correttamente la posizione di 0,7?
- 14) Quale lettera rappresenta correttamente la posizione di 0,45?



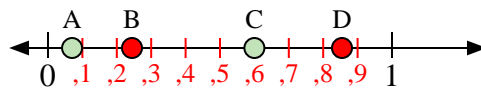
- 3) Quale lettera rappresenta correttamente la posizione di 0,40?
- 4) Quale lettera rappresenta correttamente la posizione di 0,17?



- 7) Quale lettera rappresenta correttamente la posizione di 0,1?
- 8) Quale lettera rappresenta correttamente la posizione di 0,76?



- 11) Quale lettera rappresenta correttamente la posizione di 0,30?
- 12) Quale lettera rappresenta correttamente la posizione di 0,58?



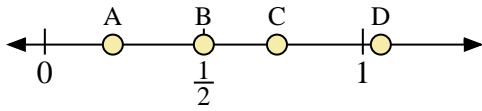
- 15) Quale lettera rappresenta correttamente la posizione di 0,60?
- 16) Quale lettera rappresenta correttamente la posizione di 0,07?

Risposte

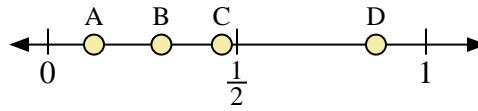
1. **C**
2. **B**
3. **B**
4. **A**
5. **A**
6. **B**
7. **A**
8. **C**
9. **D**
10. **C**
11. **A**
12. **B**
13. **C**
14. **B**
15. **C**
16. **A**



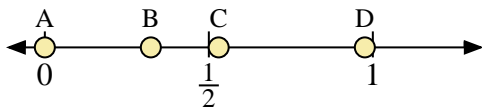
Usa la linea numerata per rispondere alle domande.



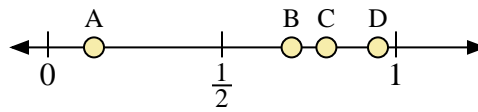
- 1) Quale lettera rappresenta correttamente la posizione di 0,50?
- 2) Quale lettera rappresenta correttamente la posizione di 0,73?



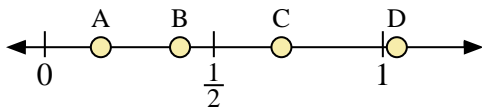
- 3) Quale lettera rappresenta correttamente la posizione di 0,30?
- 4) Quale lettera rappresenta correttamente la posizione di 0,46?



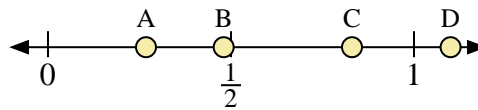
- 5) Quale lettera rappresenta correttamente la posizione di 0,0?
- 6) Quale lettera rappresenta correttamente la posizione di 0,53?



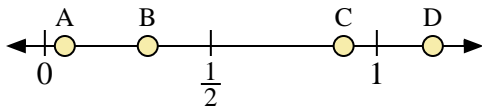
- 7) Quale lettera rappresenta correttamente la posizione di 0,80?
- 8) Quale lettera rappresenta correttamente la posizione di 0,70?



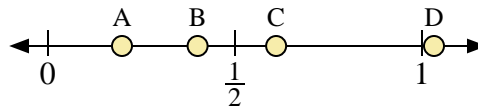
- 9) Quale lettera rappresenta correttamente la posizione di 0,7?
- 10) Quale lettera rappresenta correttamente la posizione di 0,40?



- 11) Quale lettera rappresenta correttamente la posizione di 1,1?
- 12) Quale lettera rappresenta correttamente la posizione di 0,48?



- 13) Quale lettera rappresenta correttamente la posizione di 0,9?
- 14) Quale lettera rappresenta correttamente la posizione di 0,31?



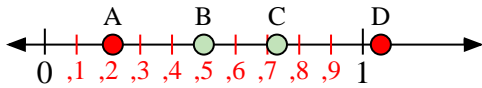
- 15) Quale lettera rappresenta correttamente la posizione di 0,4?
- 16) Quale lettera rappresenta correttamente la posizione di 0,61?

Risposte

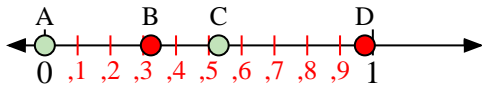
1. _____
2. _____
3. _____
4. _____
5. _____
6. _____
7. _____
8. _____
9. _____
10. _____
11. _____
12. _____
13. _____
14. _____
15. _____
16. _____



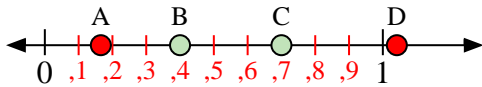
Usa la linea numerata per rispondere alle domande.



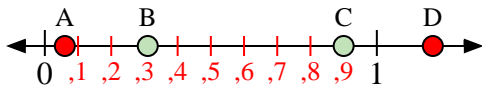
- 1) Quale lettera rappresenta correttamente la posizione di 0,50?
- 2) Quale lettera rappresenta correttamente la posizione di 0,73?



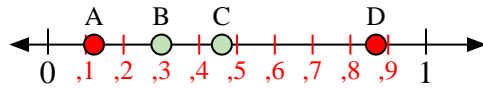
- 5) Quale lettera rappresenta correttamente la posizione di 0,0?
- 6) Quale lettera rappresenta correttamente la posizione di 0,53?



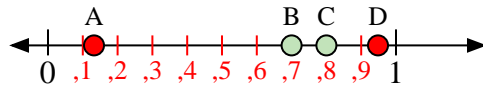
- 9) Quale lettera rappresenta correttamente la posizione di 0,7?
- 10) Quale lettera rappresenta correttamente la posizione di 0,40?



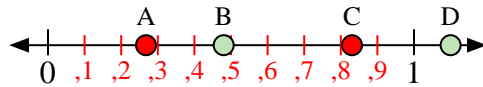
- 13) Quale lettera rappresenta correttamente la posizione di 0,9?
- 14) Quale lettera rappresenta correttamente la posizione di 0,31?



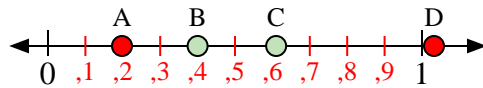
- 3) Quale lettera rappresenta correttamente la posizione di 0,30?
- 4) Quale lettera rappresenta correttamente la posizione di 0,46?



- 7) Quale lettera rappresenta correttamente la posizione di 0,80?
- 8) Quale lettera rappresenta correttamente la posizione di 0,70?



- 11) Quale lettera rappresenta correttamente la posizione di 1,1?
- 12) Quale lettera rappresenta correttamente la posizione di 0,48?



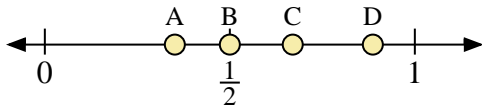
- 15) Quale lettera rappresenta correttamente la posizione di 0,4?
- 16) Quale lettera rappresenta correttamente la posizione di 0,61?

Risposte

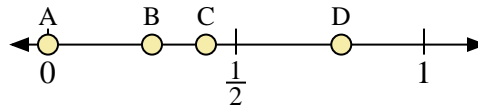
1. **B**
2. **C**
3. **B**
4. **C**
5. **A**
6. **C**
7. **C**
8. **B**
9. **C**
10. **B**
11. **D**
12. **B**
13. **C**
14. **B**
15. **B**
16. **C**



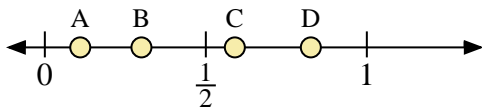
Usa la linea numerata per rispondere alle domande.



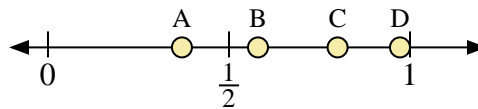
- 1) Quale lettera rappresenta correttamente la posizione di 0,5?
- 2) Quale lettera rappresenta correttamente la posizione di 0,67?



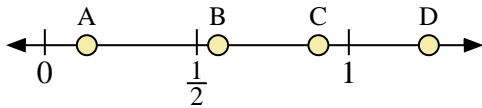
- 3) Quale lettera rappresenta correttamente la posizione di 0,00?
- 4) Quale lettera rappresenta correttamente la posizione di 0,78?



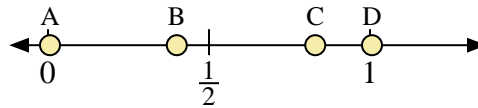
- 5) Quale lettera rappresenta correttamente la posizione di 0,30?
- 6) Quale lettera rappresenta correttamente la posizione di 0,11?



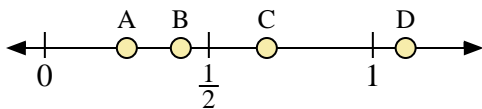
- 7) Quale lettera rappresenta correttamente la posizione di 0,80?
- 8) Quale lettera rappresenta correttamente la posizione di 0,37?



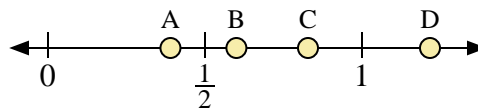
- 9) Quale lettera rappresenta correttamente la posizione di 0,90?
- 10) Quale lettera rappresenta correttamente la posizione di 0,57?



- 11) Quale lettera rappresenta correttamente la posizione di 0,4?
- 12) Quale lettera rappresenta correttamente la posizione di 0,83?



- 13) Quale lettera rappresenta correttamente la posizione di 1,1?
- 14) Quale lettera rappresenta correttamente la posizione di 0,25?



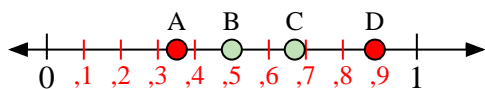
- 15) Quale lettera rappresenta correttamente la posizione di 0,6?
- 16) Quale lettera rappresenta correttamente la posizione di 0,39?

Risposte

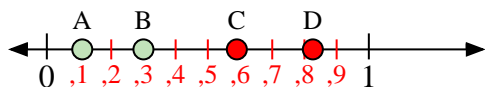
1. _____
2. _____
3. _____
4. _____
5. _____
6. _____
7. _____
8. _____
9. _____
10. _____
11. _____
12. _____
13. _____
14. _____
15. _____
16. _____



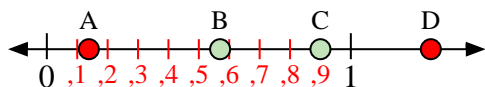
Usa la linea numerata per rispondere alle domande.



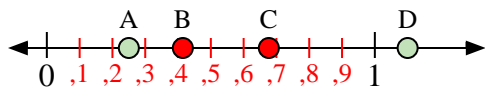
- 1) Quale lettera rappresenta correttamente la posizione di 0,5?
- 2) Quale lettera rappresenta correttamente la posizione di 0,67?



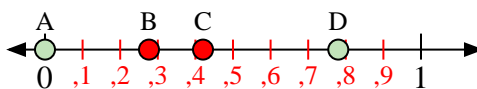
- 5) Quale lettera rappresenta correttamente la posizione di 0,30?
- 6) Quale lettera rappresenta correttamente la posizione di 0,11?



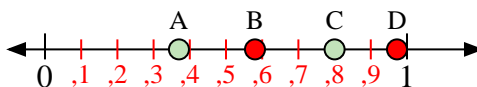
- 9) Quale lettera rappresenta correttamente la posizione di 0,90?
- 10) Quale lettera rappresenta correttamente la posizione di 0,57?




- 13) Quale lettera rappresenta correttamente la posizione di 1,1?
- 14) Quale lettera rappresenta correttamente la posizione di 0,25?



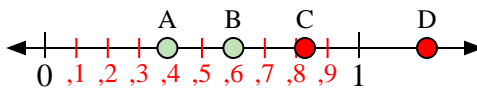
- 3) Quale lettera rappresenta correttamente la posizione di 0,00?
- 4) Quale lettera rappresenta correttamente la posizione di 0,78?



- 7) Quale lettera rappresenta correttamente la posizione di 0,80?
- 8) Quale lettera rappresenta correttamente la posizione di 0,37?



- 11) Quale lettera rappresenta correttamente la posizione di 0,4?
- 12) Quale lettera rappresenta correttamente la posizione di 0,83?



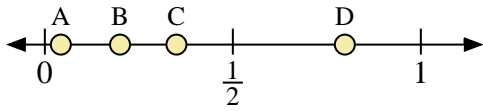
- 15) Quale lettera rappresenta correttamente la posizione di 0,6?
- 16) Quale lettera rappresenta correttamente la posizione di 0,39?

Risposte

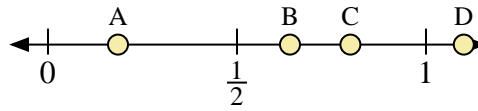
1. **B**
2. **C**
3. **A**
4. **D**
5. **B**
6. **A**
7. **C**
8. **A**
9. **C**
10. **B**
11. **B**
12. **C**
13. **D**
14. **A**
15. **B**
16. **A**



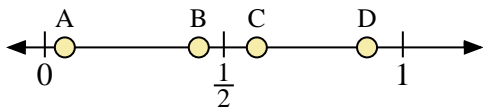
Usa la linea numerata per rispondere alle domande.



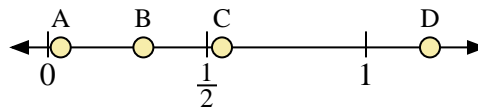
- 1) Quale lettera rappresenta correttamente la posizione di 0,2?
- 2) Quale lettera rappresenta correttamente la posizione di 0,35?



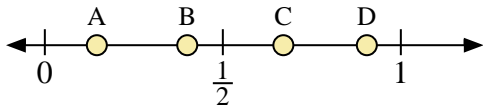
- 3) Quale lettera rappresenta correttamente la posizione di 1,10?
- 4) Quale lettera rappresenta correttamente la posizione di 0,80?



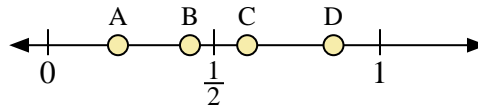
- 5) Quale lettera rappresenta correttamente la posizione di 0,9?
- 6) Quale lettera rappresenta correttamente la posizione di 0,43?



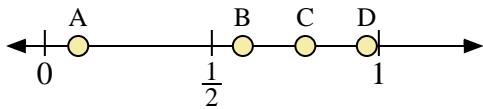
- 7) Quale lettera rappresenta correttamente la posizione di 0,30?
- 8) Quale lettera rappresenta correttamente la posizione di 0,04?



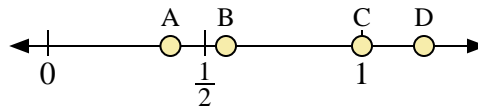
- 9) Quale lettera rappresenta correttamente la posizione di 0,4?
- 10) Quale lettera rappresenta correttamente la posizione di 0,67?



- 11) Quale lettera rappresenta correttamente la posizione di 0,60?
- 12) Quale lettera rappresenta correttamente la posizione di 0,86?



- 13) Quale lettera rappresenta correttamente la posizione di 0,10?
- 14) Quale lettera rappresenta correttamente la posizione di 0,78?



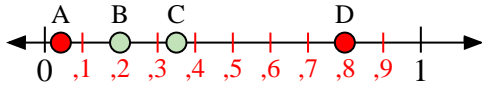
- 15) Quale lettera rappresenta correttamente la posizione di 1,00?
- 16) Quale lettera rappresenta correttamente la posizione di 0,39?

Risposte

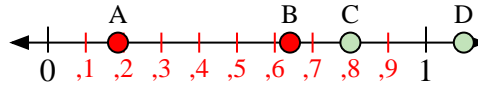
1. _____
2. _____
3. _____
4. _____
5. _____
6. _____
7. _____
8. _____
9. _____
10. _____
11. _____
12. _____
13. _____
14. _____
15. _____
16. _____



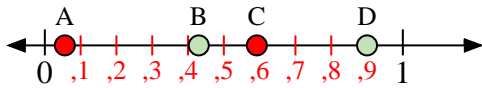
Usa la linea numerata per rispondere alle domande.



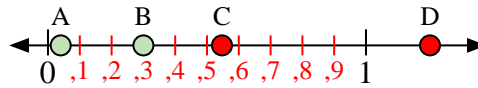
- 1) Quale lettera rappresenta correttamente la posizione di 0,2?
- 2) Quale lettera rappresenta correttamente la posizione di 0,35?



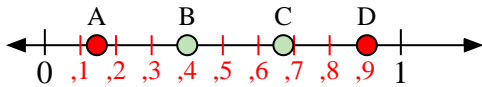
- 3) Quale lettera rappresenta correttamente la posizione di 1,10?
- 4) Quale lettera rappresenta correttamente la posizione di 0,80?



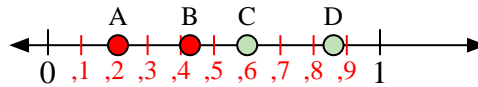
- 5) Quale lettera rappresenta correttamente la posizione di 0,9?
- 6) Quale lettera rappresenta correttamente la posizione di 0,43?



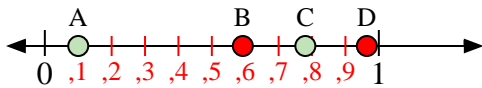
- 7) Quale lettera rappresenta correttamente la posizione di 0,30?
- 8) Quale lettera rappresenta correttamente la posizione di 0,04?



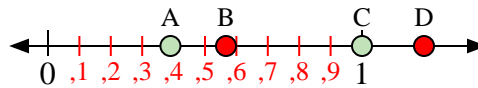
- 9) Quale lettera rappresenta correttamente la posizione di 0,4?
- 10) Quale lettera rappresenta correttamente la posizione di 0,67?



- 11) Quale lettera rappresenta correttamente la posizione di 0,60?
- 12) Quale lettera rappresenta correttamente la posizione di 0,86?



- 13) Quale lettera rappresenta correttamente la posizione di 0,10?
- 14) Quale lettera rappresenta correttamente la posizione di 0,78?



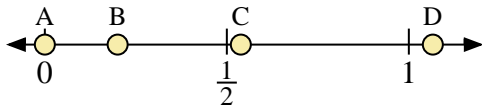
- 15) Quale lettera rappresenta correttamente la posizione di 1,00?
- 16) Quale lettera rappresenta correttamente la posizione di 0,39?

Risposte

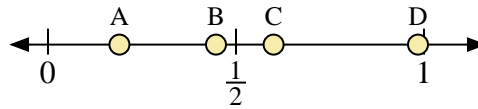
1. **B**
2. **C**
3. **D**
4. **C**
5. **D**
6. **B**
7. **B**
8. **A**
9. **B**
10. **C**
11. **C**
12. **D**
13. **A**
14. **C**
15. **C**
16. **A**



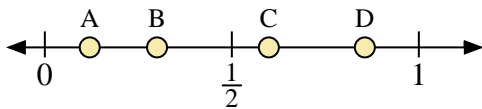
Usa la linea numerata per rispondere alle domande.



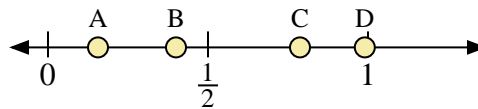
- 1) Quale lettera rappresenta correttamente la posizione di 0,0?
- 2) Quale lettera rappresenta correttamente la posizione di 0,20?



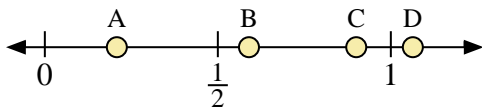
- 3) Quale lettera rappresenta correttamente la posizione di 0,60?
- 4) Quale lettera rappresenta correttamente la posizione di 0,19?



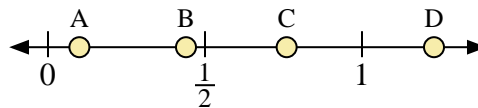
- 5) Quale lettera rappresenta correttamente la posizione di 0,3?
- 6) Quale lettera rappresenta correttamente la posizione di 0,12?



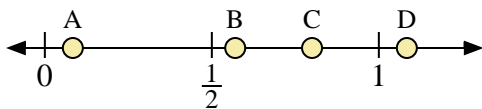
- 7) Quale lettera rappresenta correttamente la posizione di 0,40?
- 8) Quale lettera rappresenta correttamente la posizione di 0,99?



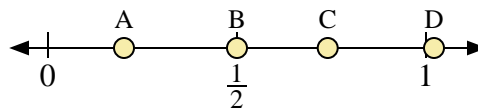
- 9) Quale lettera rappresenta correttamente la posizione di 0,9?
- 10) Quale lettera rappresenta correttamente la posizione di 0,59?



- 11) Quale lettera rappresenta correttamente la posizione di 0,10?
- 12) Quale lettera rappresenta correttamente la posizione di 0,76?



- 13) Quale lettera rappresenta correttamente la posizione di 0,80?
- 14) Quale lettera rappresenta correttamente la posizione di 0,57?



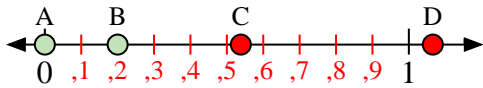
- 15) Quale lettera rappresenta correttamente la posizione di 0,50?
- 16) Quale lettera rappresenta correttamente la posizione di 0,74?

Risposte

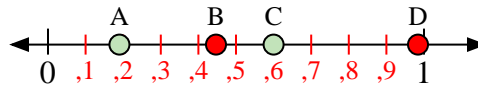
1. _____
2. _____
3. _____
4. _____
5. _____
6. _____
7. _____
8. _____
9. _____
10. _____
11. _____
12. _____
13. _____
14. _____
15. _____
16. _____



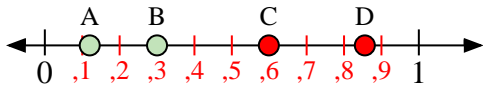
Usa la linea numerata per rispondere alle domande.



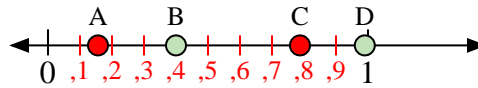
- 1) Quale lettera rappresenta correttamente la posizione di 0,0?
- 2) Quale lettera rappresenta correttamente la posizione di 0,20?



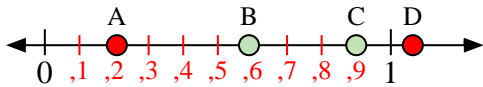
- 3) Quale lettera rappresenta correttamente la posizione di 0,60?
- 4) Quale lettera rappresenta correttamente la posizione di 0,19?



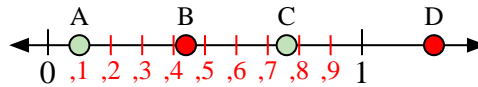
- 5) Quale lettera rappresenta correttamente la posizione di 0,3?
- 6) Quale lettera rappresenta correttamente la posizione di 0,12?



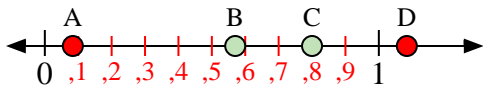
- 7) Quale lettera rappresenta correttamente la posizione di 0,40?
- 8) Quale lettera rappresenta correttamente la posizione di 0,99?



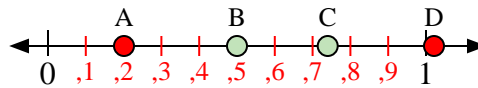
- 9) Quale lettera rappresenta correttamente la posizione di 0,9?
- 10) Quale lettera rappresenta correttamente la posizione di 0,59?



- 11) Quale lettera rappresenta correttamente la posizione di 0,10?
- 12) Quale lettera rappresenta correttamente la posizione di 0,76?



- 13) Quale lettera rappresenta correttamente la posizione di 0,80?
- 14) Quale lettera rappresenta correttamente la posizione di 0,57?



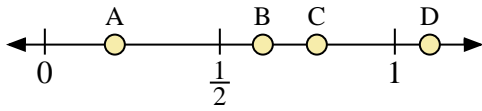
- 15) Quale lettera rappresenta correttamente la posizione di 0,50?
- 16) Quale lettera rappresenta correttamente la posizione di 0,74?

Risposte

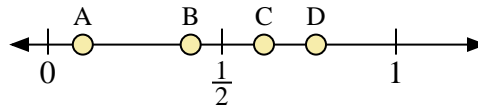
1. **A**
2. **B**
3. **C**
4. **A**
5. **B**
6. **A**
7. **B**
8. **D**
9. **C**
10. **B**
11. **A**
12. **C**
13. **C**
14. **B**
15. **B**
16. **C**



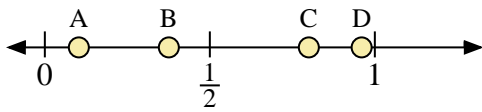
Usa la linea numerata per rispondere alle domande.



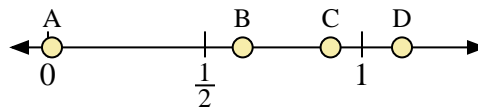
- 1) Quale lettera rappresenta correttamente la posizione di 1,10?
- 2) Quale lettera rappresenta correttamente la posizione di 0,20?



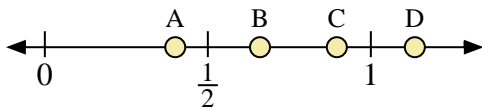
- 3) Quale lettera rappresenta correttamente la posizione di 0,1?
- 4) Quale lettera rappresenta correttamente la posizione di 0,41?



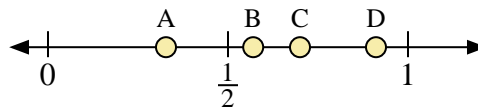
- 5) Quale lettera rappresenta correttamente la posizione di 0,8?
- 6) Quale lettera rappresenta correttamente la posizione di 0,96?



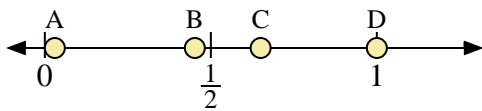
- 7) Quale lettera rappresenta correttamente la posizione di 0,90?
- 8) Quale lettera rappresenta correttamente la posizione di 0,62?



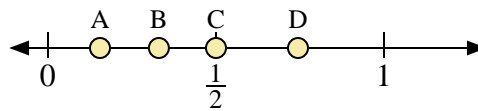
- 9) Quale lettera rappresenta correttamente la posizione di 0,4?
- 10) Quale lettera rappresenta correttamente la posizione di 0,66?



- 11) Quale lettera rappresenta correttamente la posizione di 0,70?
- 12) Quale lettera rappresenta correttamente la posizione di 0,57?



- 13) Quale lettera rappresenta correttamente la posizione di 1,0?
- 14) Quale lettera rappresenta correttamente la posizione di 0,65?



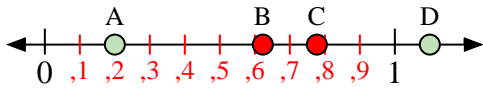
- 15) Quale lettera rappresenta correttamente la posizione di 0,5?
- 16) Quale lettera rappresenta correttamente la posizione di 0,33?

Risposte

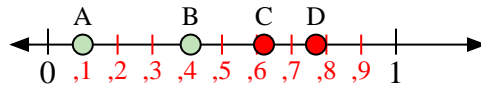
1. _____
2. _____
3. _____
4. _____
5. _____
6. _____
7. _____
8. _____
9. _____
10. _____
11. _____
12. _____
13. _____
14. _____
15. _____
16. _____



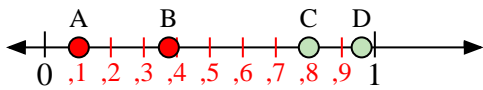
Usa la linea numerata per rispondere alle domande.



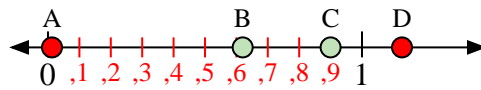
- 1) Quale lettera rappresenta correttamente la posizione di 1,10?
- 2) Quale lettera rappresenta correttamente la posizione di 0,20?



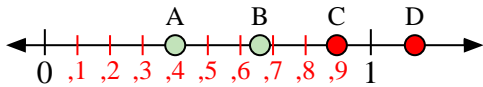
- 3) Quale lettera rappresenta correttamente la posizione di 0,1?
- 4) Quale lettera rappresenta correttamente la posizione di 0,41?



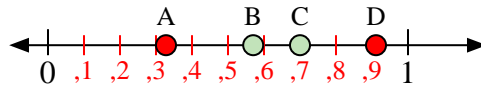
- 5) Quale lettera rappresenta correttamente la posizione di 0,8?
- 6) Quale lettera rappresenta correttamente la posizione di 0,96?



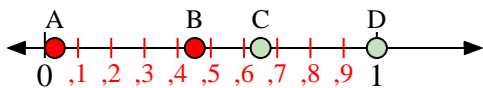
- 7) Quale lettera rappresenta correttamente la posizione di 0,90?
- 8) Quale lettera rappresenta correttamente la posizione di 0,62?



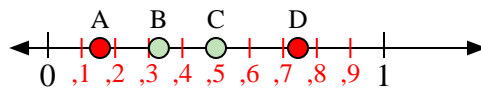
- 9) Quale lettera rappresenta correttamente la posizione di 0,4?
- 10) Quale lettera rappresenta correttamente la posizione di 0,66?



- 11) Quale lettera rappresenta correttamente la posizione di 0,70?
- 12) Quale lettera rappresenta correttamente la posizione di 0,57?



- 13) Quale lettera rappresenta correttamente la posizione di 1,0?
- 14) Quale lettera rappresenta correttamente la posizione di 0,65?



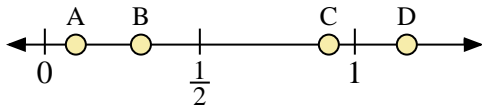
- 15) Quale lettera rappresenta correttamente la posizione di 0,5?
- 16) Quale lettera rappresenta correttamente la posizione di 0,33?

Risposte

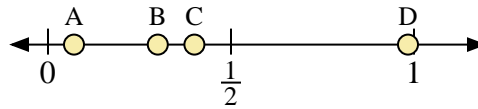
1. **D**
2. **A**
3. **A**
4. **B**
5. **C**
6. **D**
7. **C**
8. **B**
9. **A**
10. **B**
11. **C**
12. **B**
13. **D**
14. **C**
15. **C**
16. **B**



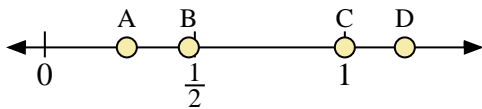
Usa la linea numerata per rispondere alle domande.



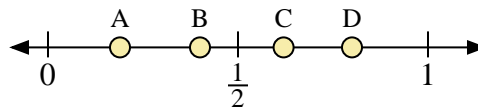
- 1) Quale lettera rappresenta correttamente la posizione di 0,10?
- 2) Quale lettera rappresenta correttamente la posizione di 0,31?



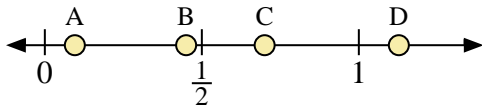
- 3) Quale lettera rappresenta correttamente la posizione di 0,3?
- 4) Quale lettera rappresenta correttamente la posizione di 0,40?



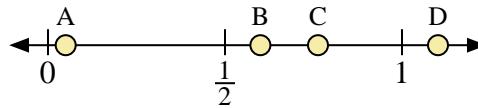
- 5) Quale lettera rappresenta correttamente la posizione di 1,0?
- 6) Quale lettera rappresenta correttamente la posizione di 0,48?



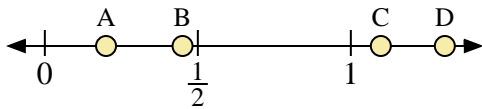
- 7) Quale lettera rappresenta correttamente la posizione di 0,40?
- 8) Quale lettera rappresenta correttamente la posizione di 0,62?



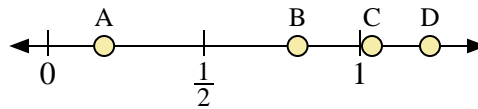
- 9) Quale lettera rappresenta correttamente la posizione di 0,7?
- 10) Quale lettera rappresenta correttamente la posizione di 0,45?



- 11) Quale lettera rappresenta correttamente la posizione di 0,6?
- 12) Quale lettera rappresenta correttamente la posizione di 0,05?



- 13) Quale lettera rappresenta correttamente la posizione di 0,20?
- 14) Quale lettera rappresenta correttamente la posizione di 0,45?



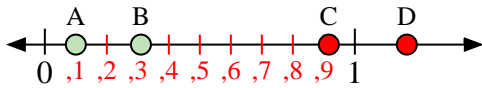
- 15) Quale lettera rappresenta correttamente la posizione di 0,80?
- 16) Quale lettera rappresenta correttamente la posizione di 0,18?

Risposte

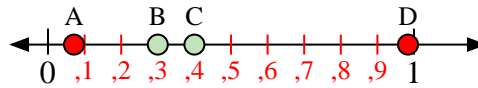
1. _____
2. _____
3. _____
4. _____
5. _____
6. _____
7. _____
8. _____
9. _____
10. _____
11. _____
12. _____
13. _____
14. _____
15. _____
16. _____



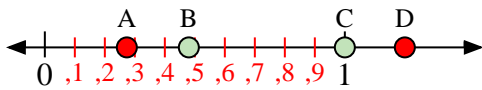
Usa la linea numerata per rispondere alle domande.



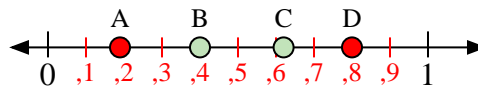
- 1) Quale lettera rappresenta correttamente la posizione di 0,10?
- 2) Quale lettera rappresenta correttamente la posizione di 0,31?



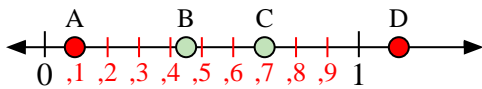
- 3) Quale lettera rappresenta correttamente la posizione di 0,3?
- 4) Quale lettera rappresenta correttamente la posizione di 0,40?



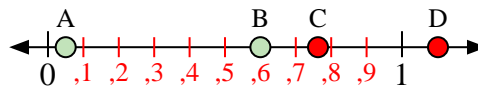
- 5) Quale lettera rappresenta correttamente la posizione di 1,0?
- 6) Quale lettera rappresenta correttamente la posizione di 0,48?



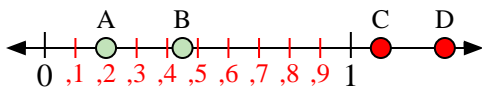
- 7) Quale lettera rappresenta correttamente la posizione di 0,40?
- 8) Quale lettera rappresenta correttamente la posizione di 0,62?



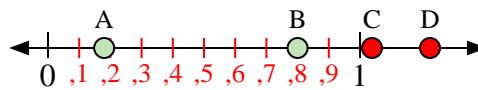
- 9) Quale lettera rappresenta correttamente la posizione di 0,7?
- 10) Quale lettera rappresenta correttamente la posizione di 0,45?



- 11) Quale lettera rappresenta correttamente la posizione di 0,6?
- 12) Quale lettera rappresenta correttamente la posizione di 0,05?



- 13) Quale lettera rappresenta correttamente la posizione di 0,20?
- 14) Quale lettera rappresenta correttamente la posizione di 0,45?



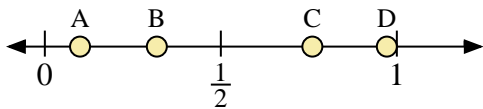
- 15) Quale lettera rappresenta correttamente la posizione di 0,80?
- 16) Quale lettera rappresenta correttamente la posizione di 0,18?

Risposte

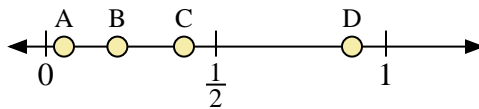
1. **A**
2. **B**
3. **B**
4. **C**
5. **C**
6. **B**
7. **B**
8. **C**
9. **C**
10. **B**
11. **B**
12. **A**
13. **A**
14. **B**
15. **B**
16. **A**



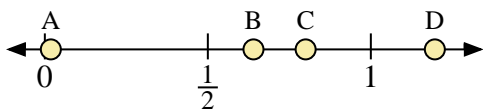
Usa la linea numerata per rispondere alle domande.



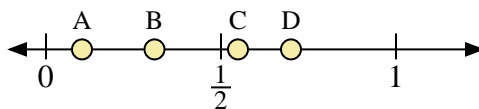
- 1) Quale lettera rappresenta correttamente la posizione di 0,1?
- 2) Quale lettera rappresenta correttamente la posizione di 0,76?



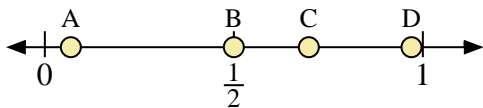
- 3) Quale lettera rappresenta correttamente la posizione di 0,90?
- 4) Quale lettera rappresenta correttamente la posizione di 0,21?



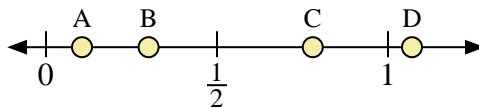
- 5) Quale lettera rappresenta correttamente la posizione di 0,8?
- 6) Quale lettera rappresenta correttamente la posizione di 0,64?



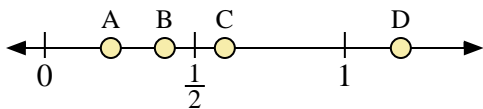
- 7) Quale lettera rappresenta correttamente la posizione di 0,7?
- 8) Quale lettera rappresenta correttamente la posizione di 0,31?



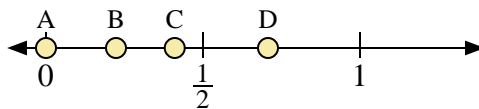
- 9) Quale lettera rappresenta correttamente la posizione di 0,50?
- 10) Quale lettera rappresenta correttamente la posizione di 0,97?



- 11) Quale lettera rappresenta correttamente la posizione di 0,3?
- 12) Quale lettera rappresenta correttamente la posizione di 0,78?



- 13) Quale lettera rappresenta correttamente la posizione di 0,60?
- 14) Quale lettera rappresenta correttamente la posizione di 0,40?



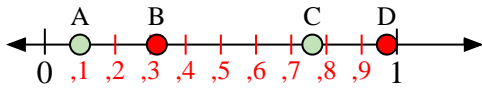
- 15) Quale lettera rappresenta correttamente la posizione di 0,0?
- 16) Quale lettera rappresenta correttamente la posizione di 0,41?

Risposte

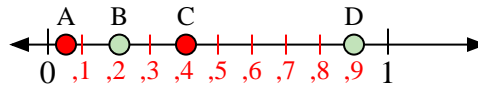
1. _____
2. _____
3. _____
4. _____
5. _____
6. _____
7. _____
8. _____
9. _____
10. _____
11. _____
12. _____
13. _____
14. _____
15. _____
16. _____



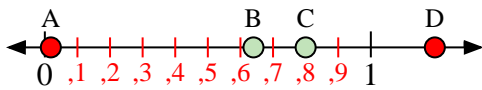
Usa la linea numerata per rispondere alle domande.



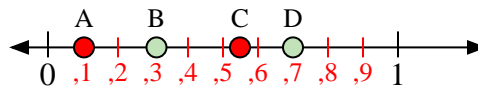
- 1) Quale lettera rappresenta correttamente la posizione di 0,1?
- 2) Quale lettera rappresenta correttamente la posizione di 0,76?



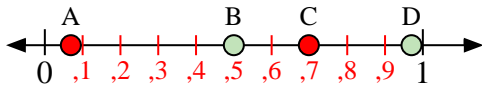
- 3) Quale lettera rappresenta correttamente la posizione di 0,90?
- 4) Quale lettera rappresenta correttamente la posizione di 0,21?



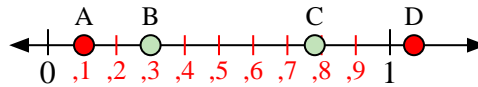
- 5) Quale lettera rappresenta correttamente la posizione di 0,8?
- 6) Quale lettera rappresenta correttamente la posizione di 0,64?



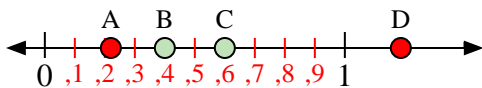
- 7) Quale lettera rappresenta correttamente la posizione di 0,7?
- 8) Quale lettera rappresenta correttamente la posizione di 0,31?



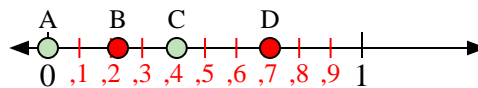
- 9) Quale lettera rappresenta correttamente la posizione di 0,50?
- 10) Quale lettera rappresenta correttamente la posizione di 0,97?



- 11) Quale lettera rappresenta correttamente la posizione di 0,3?
- 12) Quale lettera rappresenta correttamente la posizione di 0,78?



- 13) Quale lettera rappresenta correttamente la posizione di 0,60?
- 14) Quale lettera rappresenta correttamente la posizione di 0,40?



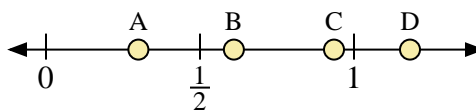
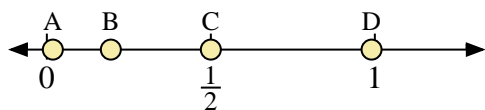
- 15) Quale lettera rappresenta correttamente la posizione di 0,0?
- 16) Quale lettera rappresenta correttamente la posizione di 0,41?

Risposte

1. **A**
2. **C**
3. **D**
4. **B**
5. **C**
6. **B**
7. **D**
8. **B**
9. **B**
10. **D**
11. **B**
12. **C**
13. **C**
14. **B**
15. **A**
16. **C**

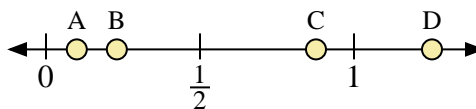
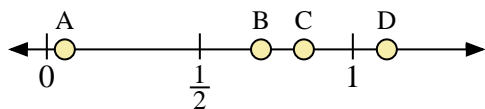


Usa la linea numerata per rispondere alle domande.



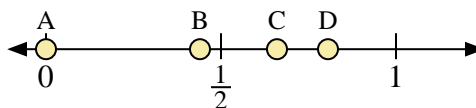
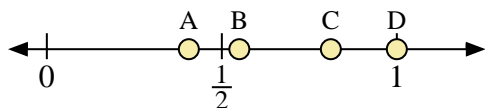
- 1) Quale lettera rappresenta correttamente la posizione di 0,50?
- 2) Quale lettera rappresenta correttamente la posizione di 0,99?

- 3) Quale lettera rappresenta correttamente la posizione di 0,30?
- 4) Quale lettera rappresenta correttamente la posizione di 0,61?



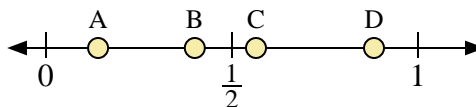
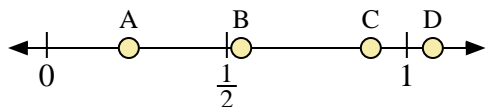
- 5) Quale lettera rappresenta correttamente la posizione di 0,7?
- 6) Quale lettera rappresenta correttamente la posizione di 0,84?

- 7) Quale lettera rappresenta correttamente la posizione di 0,10?
- 8) Quale lettera rappresenta correttamente la posizione di 0,23?



- 9) Quale lettera rappresenta correttamente la posizione di 1,0?
- 10) Quale lettera rappresenta correttamente la posizione di 0,55?

- 11) Quale lettera rappresenta correttamente la posizione di 0,00?
- 12) Quale lettera rappresenta correttamente la posizione di 0,66?



- 13) Quale lettera rappresenta correttamente la posizione di 0,9?
- 14) Quale lettera rappresenta correttamente la posizione di 0,54?

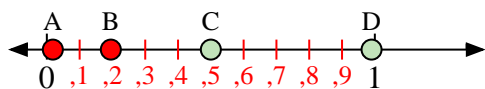
- 15) Quale lettera rappresenta correttamente la posizione di 0,4?
- 16) Quale lettera rappresenta correttamente la posizione di 0,14?

Risposte

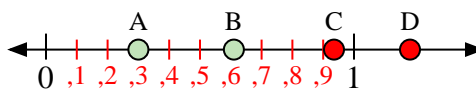
1. _____
2. _____
3. _____
4. _____
5. _____
6. _____
7. _____
8. _____
9. _____
10. _____
11. _____
12. _____
13. _____
14. _____
15. _____
16. _____



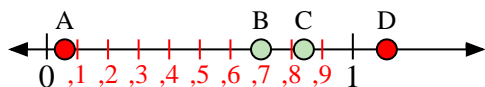
Usa la linea numerata per rispondere alle domande.




- 1) Quale lettera rappresenta correttamente la posizione di 0,50?
- 2) Quale lettera rappresenta correttamente la posizione di 0,99?



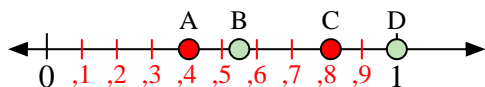
- 3) Quale lettera rappresenta correttamente la posizione di 0,30?
- 4) Quale lettera rappresenta correttamente la posizione di 0,61?



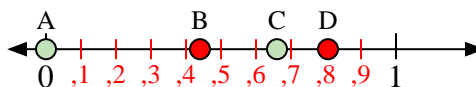
- 5) Quale lettera rappresenta correttamente la posizione di 0,7?
- 6) Quale lettera rappresenta correttamente la posizione di 0,84?



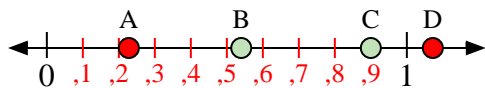
- 7) Quale lettera rappresenta correttamente la posizione di 0,10?
- 8) Quale lettera rappresenta correttamente la posizione di 0,23?



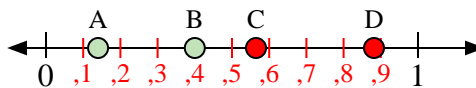
- 9) Quale lettera rappresenta correttamente la posizione di 1,0?
- 10) Quale lettera rappresenta correttamente la posizione di 0,55?



- 11) Quale lettera rappresenta correttamente la posizione di 0,00?
- 12) Quale lettera rappresenta correttamente la posizione di 0,66?



- 13) Quale lettera rappresenta correttamente la posizione di 0,9?
- 14) Quale lettera rappresenta correttamente la posizione di 0,54?



- 15) Quale lettera rappresenta correttamente la posizione di 0,4?
- 16) Quale lettera rappresenta correttamente la posizione di 0,14?

Risposte

1. **C**
2. **D**
3. **A**
4. **B**
5. **B**
6. **C**
7. **A**
8. **B**
9. **D**
10. **B**
11. **A**
12. **C**
13. **C**
14. **B**
15. **B**
16. **A**