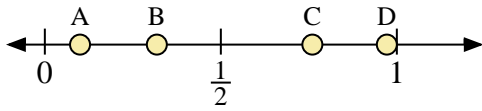
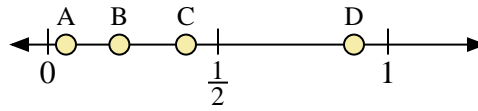




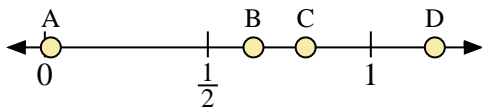
Usa la linea numerata per rispondere alle domande.



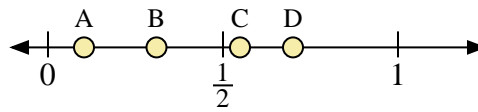
- 1) Quale lettera rappresenta correttamente la posizione di 0,1?
- 2) Quale lettera rappresenta correttamente la posizione di 0,76?



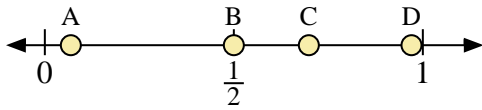
- 3) Quale lettera rappresenta correttamente la posizione di 0,90?
- 4) Quale lettera rappresenta correttamente la posizione di 0,21?



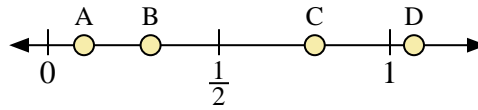
- 5) Quale lettera rappresenta correttamente la posizione di 0,8?
- 6) Quale lettera rappresenta correttamente la posizione di 0,64?



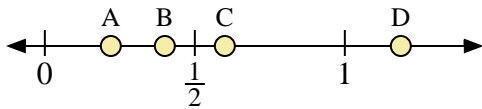
- 7) Quale lettera rappresenta correttamente la posizione di 0,7?
- 8) Quale lettera rappresenta correttamente la posizione di 0,31?



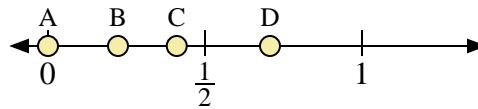
- 9) Quale lettera rappresenta correttamente la posizione di 0,50?
- 10) Quale lettera rappresenta correttamente la posizione di 0,97?



- 11) Quale lettera rappresenta correttamente la posizione di 0,3?
- 12) Quale lettera rappresenta correttamente la posizione di 0,78?



- 13) Quale lettera rappresenta correttamente la posizione di 0,60?
- 14) Quale lettera rappresenta correttamente la posizione di 0,40?



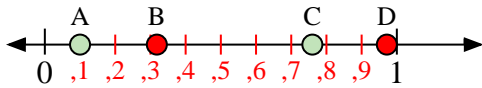
- 15) Quale lettera rappresenta correttamente la posizione di 0,0?
- 16) Quale lettera rappresenta correttamente la posizione di 0,41?

Risposte

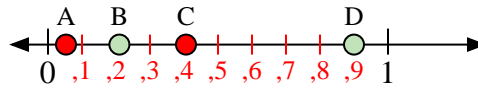
1. _____
2. _____
3. _____
4. _____
5. _____
6. _____
7. _____
8. _____
9. _____
10. _____
11. _____
12. _____
13. _____
14. _____
15. _____
16. _____



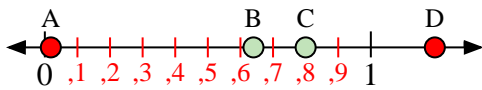
Usa la linea numerata per rispondere alle domande.



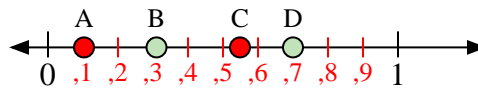
- 1) Quale lettera rappresenta correttamente la posizione di 0,1?
- 2) Quale lettera rappresenta correttamente la posizione di 0,76?



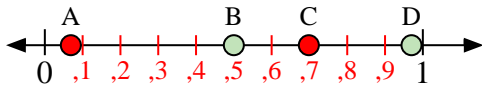
- 3) Quale lettera rappresenta correttamente la posizione di 0,90?
- 4) Quale lettera rappresenta correttamente la posizione di 0,21?



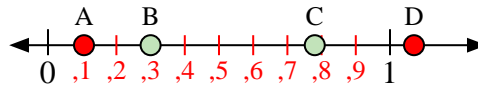
- 5) Quale lettera rappresenta correttamente la posizione di 0,8?
- 6) Quale lettera rappresenta correttamente la posizione di 0,64?



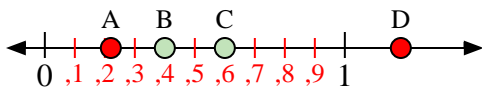
- 7) Quale lettera rappresenta correttamente la posizione di 0,7?
- 8) Quale lettera rappresenta correttamente la posizione di 0,31?



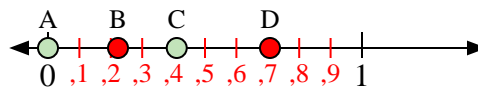
- 9) Quale lettera rappresenta correttamente la posizione di 0,50?
- 10) Quale lettera rappresenta correttamente la posizione di 0,97?



- 11) Quale lettera rappresenta correttamente la posizione di 0,3?
- 12) Quale lettera rappresenta correttamente la posizione di 0,78?



- 13) Quale lettera rappresenta correttamente la posizione di 0,60?
- 14) Quale lettera rappresenta correttamente la posizione di 0,40?



- 15) Quale lettera rappresenta correttamente la posizione di 0,0?
- 16) Quale lettera rappresenta correttamente la posizione di 0,41?

Risposte

1. **A**
2. **C**
3. **D**
4. **B**
5. **C**
6. **B**
7. **D**
8. **B**
9. **B**
10. **D**
11. **B**
12. **C**
13. **C**
14. **B**
15. **A**
16. **C**