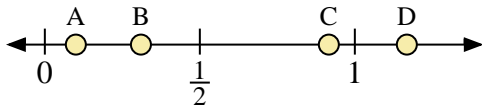
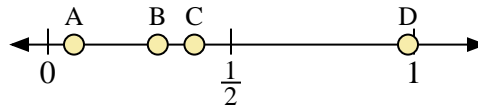




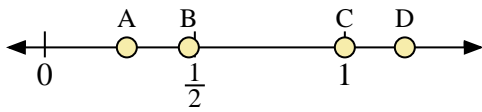
Usa la linea numerata per rispondere alle domande.



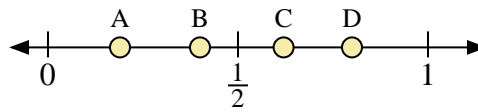
- 1) Quale lettera rappresenta correttamente la posizione di 0,10?
- 2) Quale lettera rappresenta correttamente la posizione di 0,31?



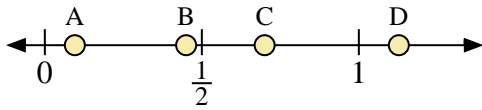
- 3) Quale lettera rappresenta correttamente la posizione di 0,3?
- 4) Quale lettera rappresenta correttamente la posizione di 0,40?



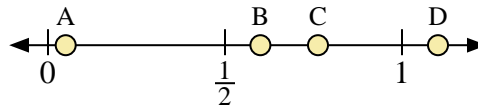
- 5) Quale lettera rappresenta correttamente la posizione di 1,0?
- 6) Quale lettera rappresenta correttamente la posizione di 0,48?



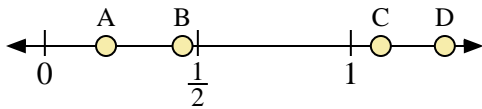
- 7) Quale lettera rappresenta correttamente la posizione di 0,40?
- 8) Quale lettera rappresenta correttamente la posizione di 0,62?



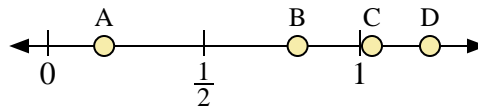
- 9) Quale lettera rappresenta correttamente la posizione di 0,7?
- 10) Quale lettera rappresenta correttamente la posizione di 0,45?



- 11) Quale lettera rappresenta correttamente la posizione di 0,6?
- 12) Quale lettera rappresenta correttamente la posizione di 0,05?



- 13) Quale lettera rappresenta correttamente la posizione di 0,20?
- 14) Quale lettera rappresenta correttamente la posizione di 0,45?



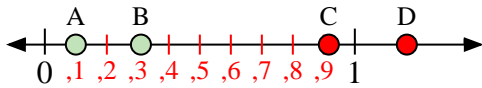
- 15) Quale lettera rappresenta correttamente la posizione di 0,80?
- 16) Quale lettera rappresenta correttamente la posizione di 0,18?

Risposte

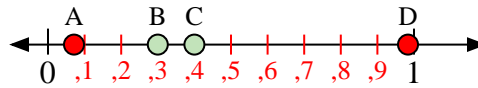
1. _____
2. _____
3. _____
4. _____
5. _____
6. _____
7. _____
8. _____
9. _____
10. _____
11. _____
12. _____
13. _____
14. _____
15. _____
16. _____



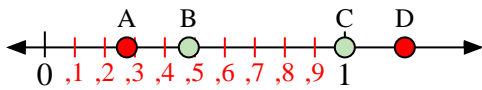
Usa la linea numerata per rispondere alle domande.



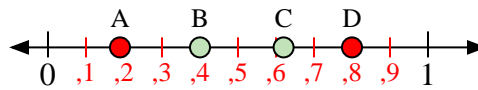
- 1) Quale lettera rappresenta correttamente la posizione di 0,10?
- 2) Quale lettera rappresenta correttamente la posizione di 0,31?



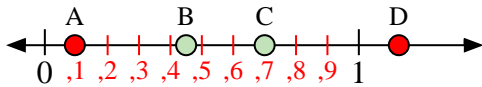
- 3) Quale lettera rappresenta correttamente la posizione di 0,3?
- 4) Quale lettera rappresenta correttamente la posizione di 0,40?



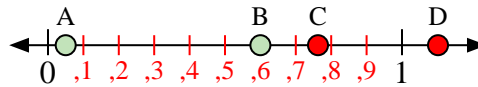
- 5) Quale lettera rappresenta correttamente la posizione di 1,0?
- 6) Quale lettera rappresenta correttamente la posizione di 0,48?



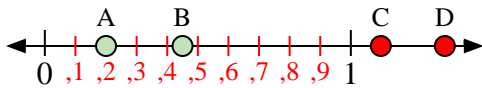
- 7) Quale lettera rappresenta correttamente la posizione di 0,40?
- 8) Quale lettera rappresenta correttamente la posizione di 0,62?



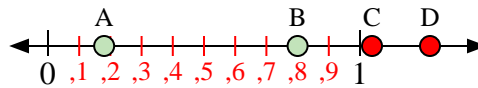
- 9) Quale lettera rappresenta correttamente la posizione di 0,7?
- 10) Quale lettera rappresenta correttamente la posizione di 0,45?



- 11) Quale lettera rappresenta correttamente la posizione di 0,6?
- 12) Quale lettera rappresenta correttamente la posizione di 0,05?



- 13) Quale lettera rappresenta correttamente la posizione di 0,20?
- 14) Quale lettera rappresenta correttamente la posizione di 0,45?



- 15) Quale lettera rappresenta correttamente la posizione di 0,80?
- 16) Quale lettera rappresenta correttamente la posizione di 0,18?

Risposte

1. **A**
2. **B**
3. **B**
4. **C**
5. **C**
6. **B**
7. **B**
8. **C**
9. **C**
10. **B**
11. **B**
12. **A**
13. **A**
14. **B**
15. **B**
16. **A**