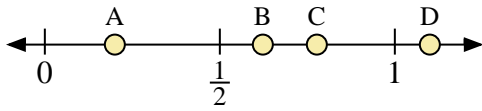
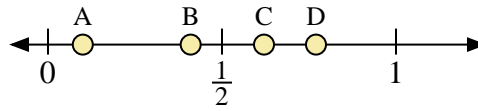




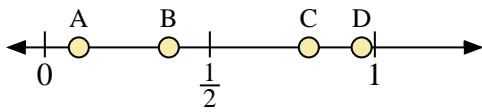
Usa la linea numerata per rispondere alle domande.



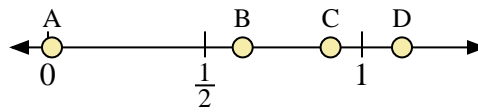
- 1) Quale lettera rappresenta correttamente la posizione di 1,10?
- 2) Quale lettera rappresenta correttamente la posizione di 0,20?



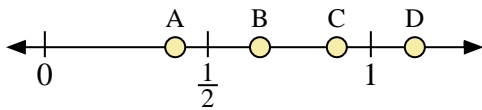
- 3) Quale lettera rappresenta correttamente la posizione di 0,1?
- 4) Quale lettera rappresenta correttamente la posizione di 0,41?



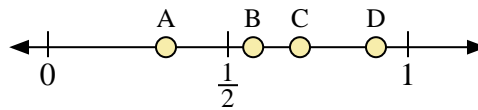
- 5) Quale lettera rappresenta correttamente la posizione di 0,8?
- 6) Quale lettera rappresenta correttamente la posizione di 0,96?



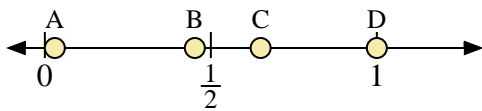
- 7) Quale lettera rappresenta correttamente la posizione di 0,90?
- 8) Quale lettera rappresenta correttamente la posizione di 0,62?



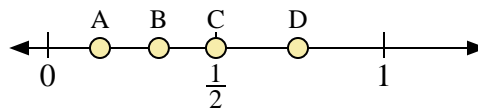
- 9) Quale lettera rappresenta correttamente la posizione di 0,4?
- 10) Quale lettera rappresenta correttamente la posizione di 0,66?



- 11) Quale lettera rappresenta correttamente la posizione di 0,70?
- 12) Quale lettera rappresenta correttamente la posizione di 0,57?



- 13) Quale lettera rappresenta correttamente la posizione di 1,0?
- 14) Quale lettera rappresenta correttamente la posizione di 0,65?



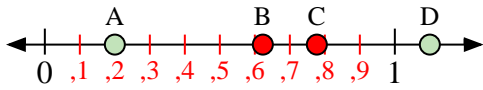
- 15) Quale lettera rappresenta correttamente la posizione di 0,5?
- 16) Quale lettera rappresenta correttamente la posizione di 0,33?

Risposte

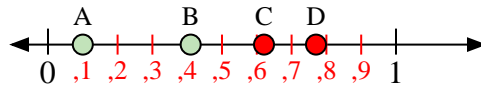
1. _____
2. _____
3. _____
4. _____
5. _____
6. _____
7. _____
8. _____
9. _____
10. _____
11. _____
12. _____
13. _____
14. _____
15. _____
16. _____



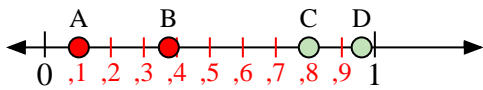
Usa la linea numerata per rispondere alle domande.



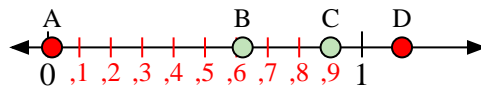
- 1) Quale lettera rappresenta correttamente la posizione di 1,10?
- 2) Quale lettera rappresenta correttamente la posizione di 0,20?



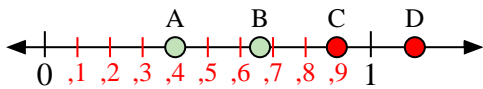
- 3) Quale lettera rappresenta correttamente la posizione di 0,1?
- 4) Quale lettera rappresenta correttamente la posizione di 0,41?



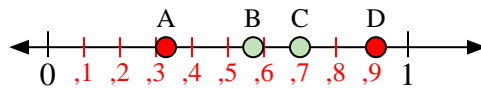
- 5) Quale lettera rappresenta correttamente la posizione di 0,8?
- 6) Quale lettera rappresenta correttamente la posizione di 0,96?



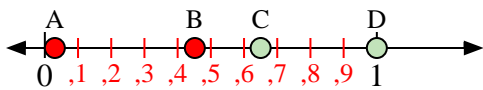
- 7) Quale lettera rappresenta correttamente la posizione di 0,90?
- 8) Quale lettera rappresenta correttamente la posizione di 0,62?



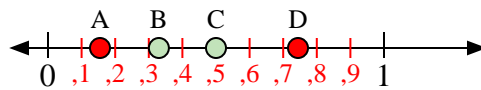
- 9) Quale lettera rappresenta correttamente la posizione di 0,4?
- 10) Quale lettera rappresenta correttamente la posizione di 0,66?



- 11) Quale lettera rappresenta correttamente la posizione di 0,70?
- 12) Quale lettera rappresenta correttamente la posizione di 0,57?



- 13) Quale lettera rappresenta correttamente la posizione di 1,0?
- 14) Quale lettera rappresenta correttamente la posizione di 0,65?



- 15) Quale lettera rappresenta correttamente la posizione di 0,5?
- 16) Quale lettera rappresenta correttamente la posizione di 0,33?

Risposte

1. **D**
2. **A**
3. **A**
4. **B**
5. **C**
6. **D**
7. **C**
8. **B**
9. **A**
10. **B**
11. **C**
12. **B**
13. **D**
14. **C**
15. **C**
16. **B**