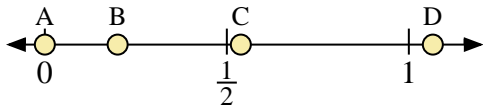
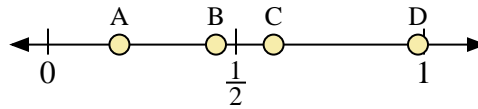




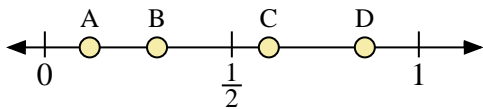
Usa la linea numerata per rispondere alle domande.



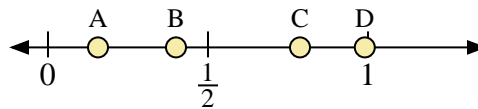
- 1) Quale lettera rappresenta correttamente la posizione di 0,0?
- 2) Quale lettera rappresenta correttamente la posizione di 0,20?



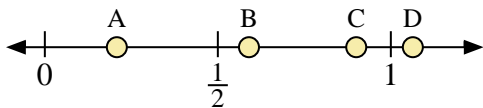
- 3) Quale lettera rappresenta correttamente la posizione di 0,60?
- 4) Quale lettera rappresenta correttamente la posizione di 0,19?



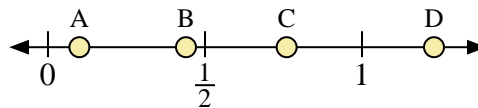
- 5) Quale lettera rappresenta correttamente la posizione di 0,3?
- 6) Quale lettera rappresenta correttamente la posizione di 0,12?



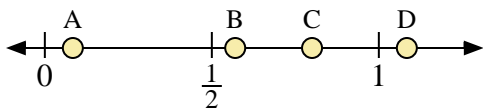
- 7) Quale lettera rappresenta correttamente la posizione di 0,40?
- 8) Quale lettera rappresenta correttamente la posizione di 0,99?



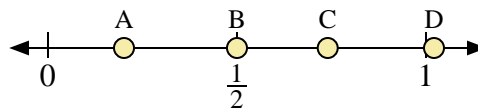
- 9) Quale lettera rappresenta correttamente la posizione di 0,9?
- 10) Quale lettera rappresenta correttamente la posizione di 0,59?



- 11) Quale lettera rappresenta correttamente la posizione di 0,10?
- 12) Quale lettera rappresenta correttamente la posizione di 0,76?



- 13) Quale lettera rappresenta correttamente la posizione di 0,80?
- 14) Quale lettera rappresenta correttamente la posizione di 0,57?



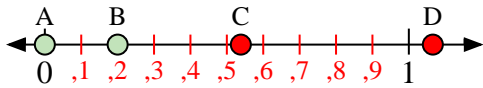
- 15) Quale lettera rappresenta correttamente la posizione di 0,50?
- 16) Quale lettera rappresenta correttamente la posizione di 0,74?

**Risposte**

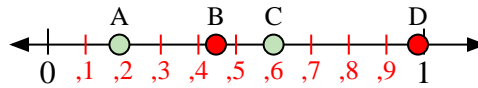
1. \_\_\_\_\_
2. \_\_\_\_\_
3. \_\_\_\_\_
4. \_\_\_\_\_
5. \_\_\_\_\_
6. \_\_\_\_\_
7. \_\_\_\_\_
8. \_\_\_\_\_
9. \_\_\_\_\_
10. \_\_\_\_\_
11. \_\_\_\_\_
12. \_\_\_\_\_
13. \_\_\_\_\_
14. \_\_\_\_\_
15. \_\_\_\_\_
16. \_\_\_\_\_



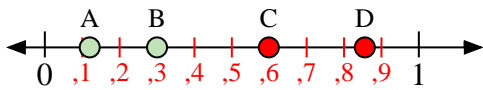
Usa la linea numerata per rispondere alle domande.



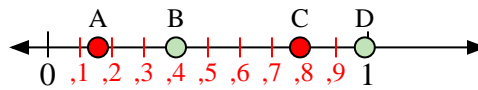
- 1) Quale lettera rappresenta correttamente la posizione di 0,0?
- 2) Quale lettera rappresenta correttamente la posizione di 0,20?



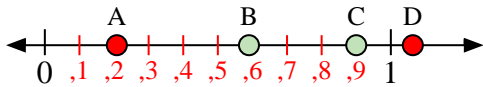
- 3) Quale lettera rappresenta correttamente la posizione di 0,60?
- 4) Quale lettera rappresenta correttamente la posizione di 0,19?



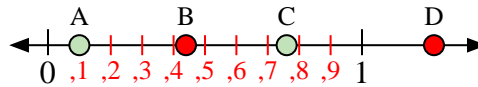
- 5) Quale lettera rappresenta correttamente la posizione di 0,3?
- 6) Quale lettera rappresenta correttamente la posizione di 0,12?



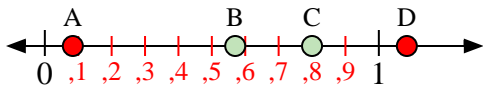
- 7) Quale lettera rappresenta correttamente la posizione di 0,40?
- 8) Quale lettera rappresenta correttamente la posizione di 0,99?



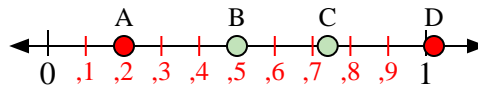
- 9) Quale lettera rappresenta correttamente la posizione di 0,9?
- 10) Quale lettera rappresenta correttamente la posizione di 0,59?



- 11) Quale lettera rappresenta correttamente la posizione di 0,10?
- 12) Quale lettera rappresenta correttamente la posizione di 0,76?



- 13) Quale lettera rappresenta correttamente la posizione di 0,80?
- 14) Quale lettera rappresenta correttamente la posizione di 0,57?



- 15) Quale lettera rappresenta correttamente la posizione di 0,50?
- 16) Quale lettera rappresenta correttamente la posizione di 0,74?

**Risposte**

1. **A**
2. **B**
3. **C**
4. **A**
5. **B**
6. **A**
7. **B**
8. **D**
9. **C**
10. **B**
11. **A**
12. **C**
13. **C**
14. **B**
15. **B**
16. **C**