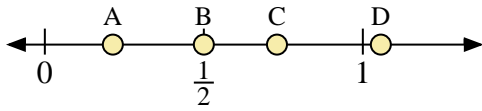
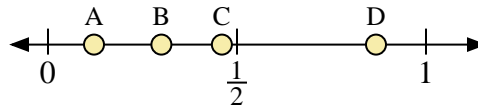




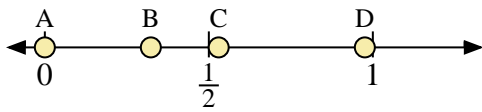
Usa la linea numerata per rispondere alle domande.



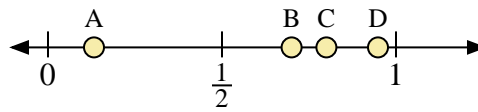
- 1) Quale lettera rappresenta correttamente la posizione di 0,50?
- 2) Quale lettera rappresenta correttamente la posizione di 0,73?



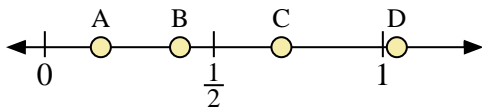
- 3) Quale lettera rappresenta correttamente la posizione di 0,30?
- 4) Quale lettera rappresenta correttamente la posizione di 0,46?



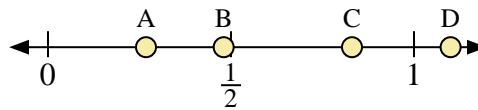
- 5) Quale lettera rappresenta correttamente la posizione di 0,0?
- 6) Quale lettera rappresenta correttamente la posizione di 0,53?



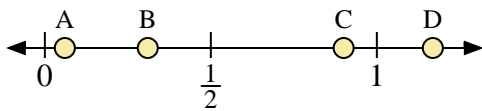
- 7) Quale lettera rappresenta correttamente la posizione di 0,80?
- 8) Quale lettera rappresenta correttamente la posizione di 0,70?



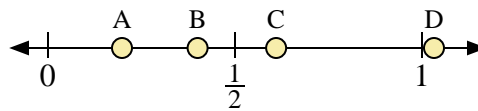
- 9) Quale lettera rappresenta correttamente la posizione di 0,7?
- 10) Quale lettera rappresenta correttamente la posizione di 0,40?



- 11) Quale lettera rappresenta correttamente la posizione di 1,1?
- 12) Quale lettera rappresenta correttamente la posizione di 0,48?



- 13) Quale lettera rappresenta correttamente la posizione di 0,9?
- 14) Quale lettera rappresenta correttamente la posizione di 0,31?



- 15) Quale lettera rappresenta correttamente la posizione di 0,4?
- 16) Quale lettera rappresenta correttamente la posizione di 0,61?

**Risposte**

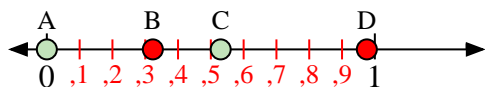
1. \_\_\_\_\_
2. \_\_\_\_\_
3. \_\_\_\_\_
4. \_\_\_\_\_
5. \_\_\_\_\_
6. \_\_\_\_\_
7. \_\_\_\_\_
8. \_\_\_\_\_
9. \_\_\_\_\_
10. \_\_\_\_\_
11. \_\_\_\_\_
12. \_\_\_\_\_
13. \_\_\_\_\_
14. \_\_\_\_\_
15. \_\_\_\_\_
16. \_\_\_\_\_



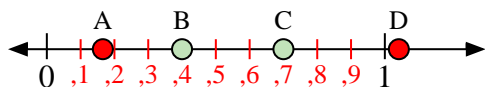
Usa la linea numerata per rispondere alle domande.



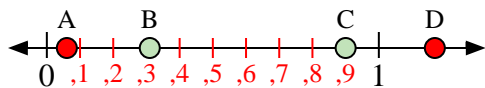
- 1) Quale lettera rappresenta correttamente la posizione di 0,50?
- 2) Quale lettera rappresenta correttamente la posizione di 0,73?



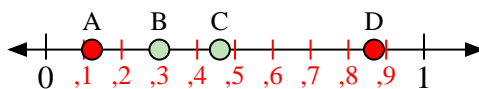
- 5) Quale lettera rappresenta correttamente la posizione di 0,0?
- 6) Quale lettera rappresenta correttamente la posizione di 0,53?



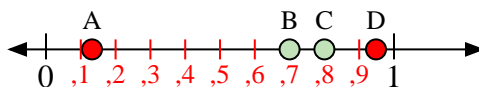
- 9) Quale lettera rappresenta correttamente la posizione di 0,7?
- 10) Quale lettera rappresenta correttamente la posizione di 0,40?



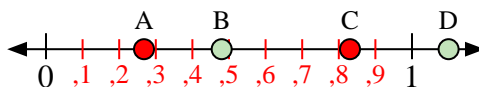
- 13) Quale lettera rappresenta correttamente la posizione di 0,9?
- 14) Quale lettera rappresenta correttamente la posizione di 0,31?



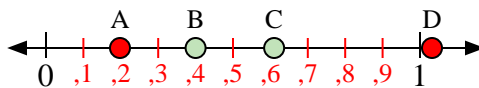
- 3) Quale lettera rappresenta correttamente la posizione di 0,30?
- 4) Quale lettera rappresenta correttamente la posizione di 0,46?



- 7) Quale lettera rappresenta correttamente la posizione di 0,80?
- 8) Quale lettera rappresenta correttamente la posizione di 0,70?



- 11) Quale lettera rappresenta correttamente la posizione di 1,1?
- 12) Quale lettera rappresenta correttamente la posizione di 0,48?



- 15) Quale lettera rappresenta correttamente la posizione di 0,4?
- 16) Quale lettera rappresenta correttamente la posizione di 0,61?

**Risposte**

1. **B**
2. **C**
3. **B**
4. **C**
5. **A**
6. **C**
7. **C**
8. **B**
9. **C**
10. **B**
11. **D**
12. **B**
13. **C**
14. **B**
15. **B**
16. **C**