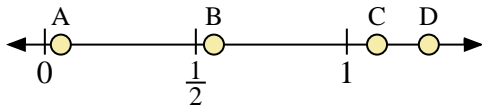
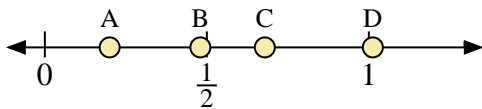




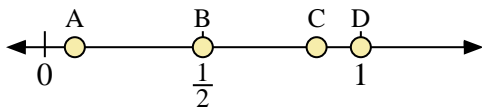
Usa la linea numerata per rispondere alle domande.



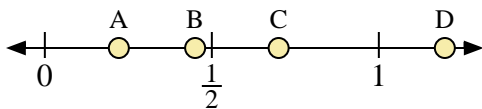
- 1) Quale lettera rappresenta correttamente la posizione di 1,1?
- 2) Quale lettera rappresenta correttamente la posizione di 0,56?



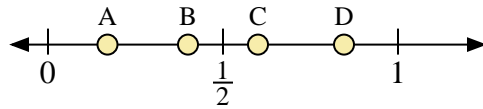
- 5) Quale lettera rappresenta correttamente la posizione di 0,20?
- 6) Quale lettera rappresenta correttamente la posizione di 0,48?



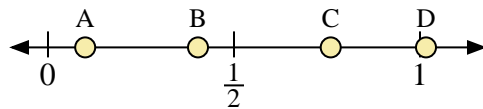
- 9) Quale lettera rappresenta correttamente la posizione di 1,0?
- 10) Quale lettera rappresenta correttamente la posizione di 0,86?



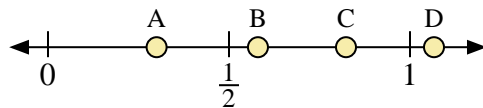
- 13) Quale lettera rappresenta correttamente la posizione di 0,7?
- 14) Quale lettera rappresenta correttamente la posizione di 0,45?



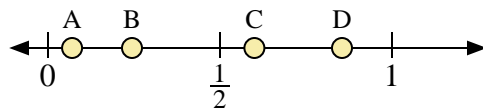
- 3) Quale lettera rappresenta correttamente la posizione di 0,40?
- 4) Quale lettera rappresenta correttamente la posizione di 0,17?



- 7) Quale lettera rappresenta correttamente la posizione di 0,1?
- 8) Quale lettera rappresenta correttamente la posizione di 0,76?



- 11) Quale lettera rappresenta correttamente la posizione di 0,30?
- 12) Quale lettera rappresenta correttamente la posizione di 0,58?



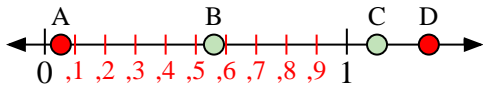
- 15) Quale lettera rappresenta correttamente la posizione di 0,60?
- 16) Quale lettera rappresenta correttamente la posizione di 0,07?

Risposte

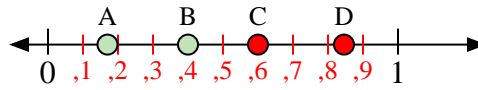
1. _____
2. _____
3. _____
4. _____
5. _____
6. _____
7. _____
8. _____
9. _____
10. _____
11. _____
12. _____
13. _____
14. _____
15. _____
16. _____



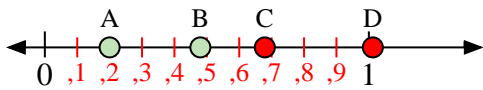
Usa la linea numerata per rispondere alle domande.



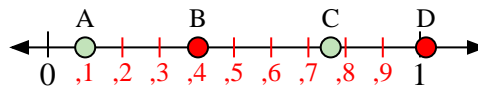
- 1) Quale lettera rappresenta correttamente la posizione di 1,1?
- 2) Quale lettera rappresenta correttamente la posizione di 0,56?



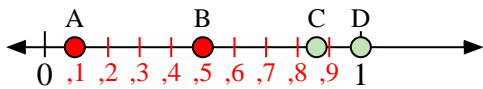
- 3) Quale lettera rappresenta correttamente la posizione di 0,40?
- 4) Quale lettera rappresenta correttamente la posizione di 0,17?



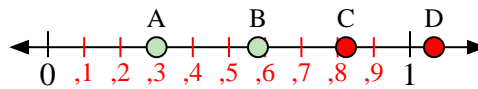
- 5) Quale lettera rappresenta correttamente la posizione di 0,20?
- 6) Quale lettera rappresenta correttamente la posizione di 0,48?



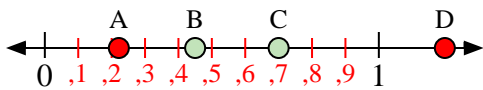
- 7) Quale lettera rappresenta correttamente la posizione di 0,1?
- 8) Quale lettera rappresenta correttamente la posizione di 0,76?



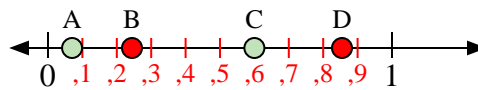
- 9) Quale lettera rappresenta correttamente la posizione di 1,0?
- 10) Quale lettera rappresenta correttamente la posizione di 0,86?



- 11) Quale lettera rappresenta correttamente la posizione di 0,30?
- 12) Quale lettera rappresenta correttamente la posizione di 0,58?



- 13) Quale lettera rappresenta correttamente la posizione di 0,7?
- 14) Quale lettera rappresenta correttamente la posizione di 0,45?



- 15) Quale lettera rappresenta correttamente la posizione di 0,60?
- 16) Quale lettera rappresenta correttamente la posizione di 0,07?

Risposte

1. **C**
2. **B**
3. **B**
4. **A**
5. **A**
6. **B**
7. **A**
8. **C**
9. **D**
10. **C**
11. **A**
12. **B**
13. **C**
14. **B**
15. **C**
16. **A**