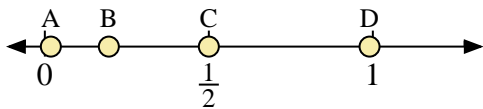
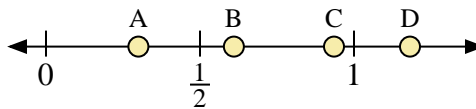




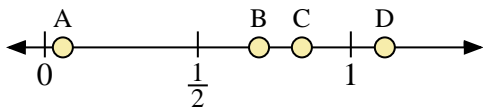
Usa la linea numerata per rispondere alle domande.



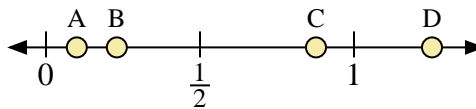
- 1) Quale lettera rappresenta correttamente la posizione di 0,50?
- 2) Quale lettera rappresenta correttamente la posizione di 0,99?



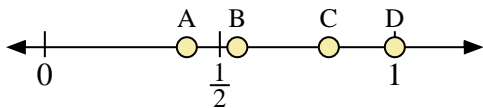
- 3) Quale lettera rappresenta correttamente la posizione di 0,30?
- 4) Quale lettera rappresenta correttamente la posizione di 0,61?



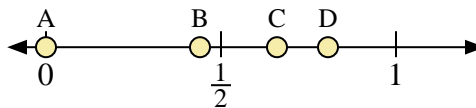
- 5) Quale lettera rappresenta correttamente la posizione di 0,7?
- 6) Quale lettera rappresenta correttamente la posizione di 0,84?



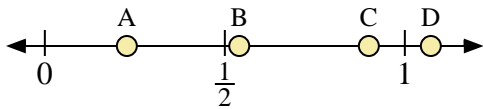
- 7) Quale lettera rappresenta correttamente la posizione di 0,10?
- 8) Quale lettera rappresenta correttamente la posizione di 0,23?



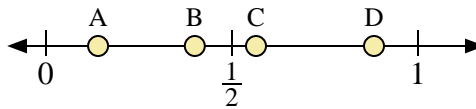
- 9) Quale lettera rappresenta correttamente la posizione di 1,0?
- 10) Quale lettera rappresenta correttamente la posizione di 0,55?



- 11) Quale lettera rappresenta correttamente la posizione di 0,00?
- 12) Quale lettera rappresenta correttamente la posizione di 0,66?



- 13) Quale lettera rappresenta correttamente la posizione di 0,9?
- 14) Quale lettera rappresenta correttamente la posizione di 0,54?



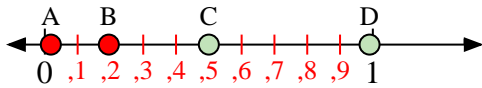
- 15) Quale lettera rappresenta correttamente la posizione di 0,4?
- 16) Quale lettera rappresenta correttamente la posizione di 0,14?

**Risposte**

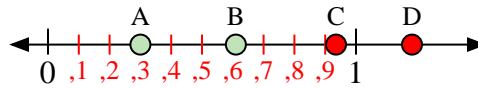
1. \_\_\_\_\_
2. \_\_\_\_\_
3. \_\_\_\_\_
4. \_\_\_\_\_
5. \_\_\_\_\_
6. \_\_\_\_\_
7. \_\_\_\_\_
8. \_\_\_\_\_
9. \_\_\_\_\_
10. \_\_\_\_\_
11. \_\_\_\_\_
12. \_\_\_\_\_
13. \_\_\_\_\_
14. \_\_\_\_\_
15. \_\_\_\_\_
16. \_\_\_\_\_



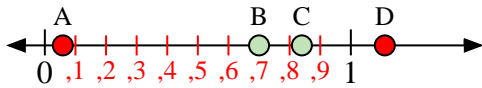
Usa la linea numerata per rispondere alle domande.



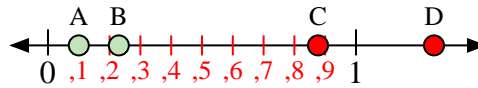
- 1) Quale lettera rappresenta correttamente la posizione di 0,50?
- 2) Quale lettera rappresenta correttamente la posizione di 0,99?



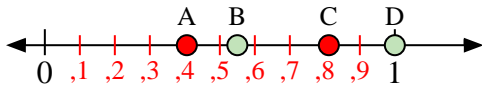
- 3) Quale lettera rappresenta correttamente la posizione di 0,30?
- 4) Quale lettera rappresenta correttamente la posizione di 0,61?



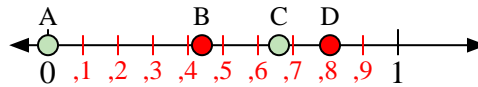
- 5) Quale lettera rappresenta correttamente la posizione di 0,7?
- 6) Quale lettera rappresenta correttamente la posizione di 0,84?



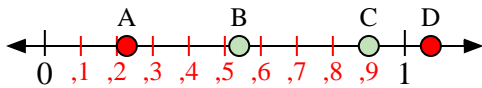
- 7) Quale lettera rappresenta correttamente la posizione di 0,10?
- 8) Quale lettera rappresenta correttamente la posizione di 0,23?



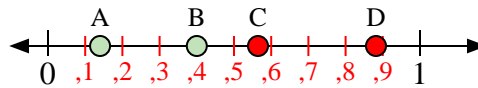
- 9) Quale lettera rappresenta correttamente la posizione di 1,0?
- 10) Quale lettera rappresenta correttamente la posizione di 0,55?



- 11) Quale lettera rappresenta correttamente la posizione di 0,00?
- 12) Quale lettera rappresenta correttamente la posizione di 0,66?



- 13) Quale lettera rappresenta correttamente la posizione di 0,9?
- 14) Quale lettera rappresenta correttamente la posizione di 0,54?



- 15) Quale lettera rappresenta correttamente la posizione di 0,4?
- 16) Quale lettera rappresenta correttamente la posizione di 0,14?

**Risposte**

1.     **C**
2.     **D**
3.     **A**
4.     **B**
5.     **B**
6.     **C**
7.     **A**
8.     **B**
9.     **D**
10.     **B**
11.     **A**
12.     **C**
13.     **C**
14.     **B**
15.     **B**
16.     **A**