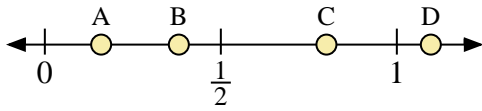
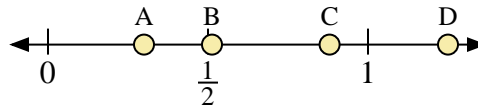




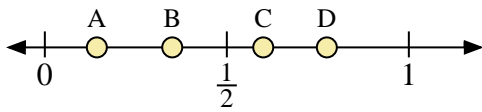
Usa la linea numerata per rispondere alle domande.



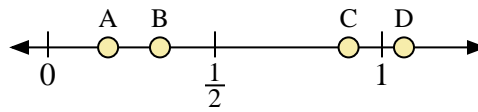
- 1) Quale lettera rappresenta correttamente la posizione di 0,8?
- 2) Quale lettera rappresenta correttamente la posizione di 0,16?



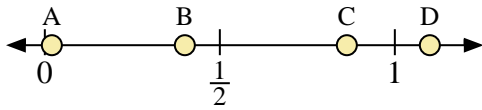
- 3) Quale lettera rappresenta correttamente la posizione di 0,30?
- 4) Quale lettera rappresenta correttamente la posizione di 0,88?



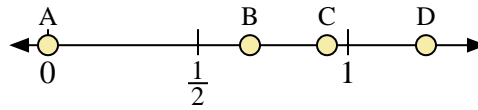
- 5) Quale lettera rappresenta correttamente la posizione di 0,60?
- 6) Quale lettera rappresenta correttamente la posizione di 0,35?



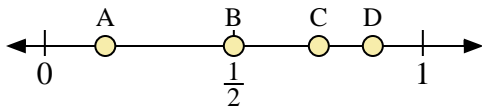
- 7) Quale lettera rappresenta correttamente la posizione di 0,90?
- 8) Quale lettera rappresenta correttamente la posizione di 0,18?



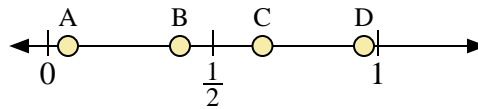
- 9) Quale lettera rappresenta correttamente la posizione di 1,1?
- 10) Quale lettera rappresenta correttamente la posizione di 0,02?



- 11) Quale lettera rappresenta correttamente la posizione di 0,0?
- 12) Quale lettera rappresenta correttamente la posizione di 0,93?



- 13) Quale lettera rappresenta correttamente la posizione di 0,50?
- 14) Quale lettera rappresenta correttamente la posizione di 0,16?



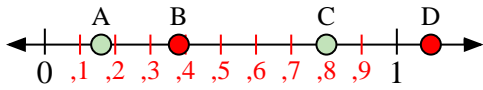
- 15) Quale lettera rappresenta correttamente la posizione di 0,40?
- 16) Quale lettera rappresenta correttamente la posizione di 0,65?

**Risposte**

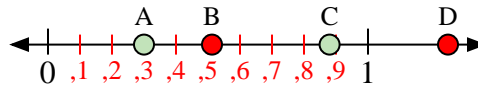
1. \_\_\_\_\_
2. \_\_\_\_\_
3. \_\_\_\_\_
4. \_\_\_\_\_
5. \_\_\_\_\_
6. \_\_\_\_\_
7. \_\_\_\_\_
8. \_\_\_\_\_
9. \_\_\_\_\_
10. \_\_\_\_\_
11. \_\_\_\_\_
12. \_\_\_\_\_
13. \_\_\_\_\_
14. \_\_\_\_\_
15. \_\_\_\_\_
16. \_\_\_\_\_



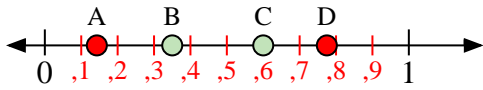
Usa la linea numerata per rispondere alle domande.



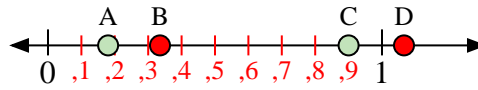
- 1) Quale lettera rappresenta correttamente la posizione di 0,8?
- 2) Quale lettera rappresenta correttamente la posizione di 0,16?



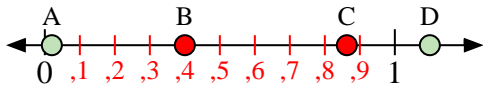
- 3) Quale lettera rappresenta correttamente la posizione di 0,30?
- 4) Quale lettera rappresenta correttamente la posizione di 0,88?



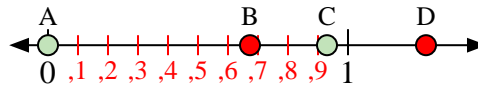
- 5) Quale lettera rappresenta correttamente la posizione di 0,60?
- 6) Quale lettera rappresenta correttamente la posizione di 0,35?



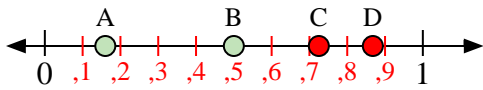
- 7) Quale lettera rappresenta correttamente la posizione di 0,90?
- 8) Quale lettera rappresenta correttamente la posizione di 0,18?



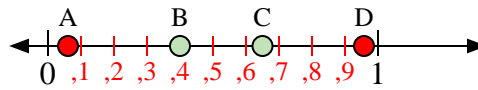
- 9) Quale lettera rappresenta correttamente la posizione di 1,1?
- 10) Quale lettera rappresenta correttamente la posizione di 0,02?



- 11) Quale lettera rappresenta correttamente la posizione di 0,0?
- 12) Quale lettera rappresenta correttamente la posizione di 0,93?



- 13) Quale lettera rappresenta correttamente la posizione di 0,50?
- 14) Quale lettera rappresenta correttamente la posizione di 0,16?



- 15) Quale lettera rappresenta correttamente la posizione di 0,40?
- 16) Quale lettera rappresenta correttamente la posizione di 0,65?

**Risposte**

1.     **C**
2.     **A**
3.     **A**
4.     **C**
5.     **C**
6.     **B**
7.     **C**
8.     **A**
9.     **D**
10.     **A**
11.     **A**
12.     **C**
13.     **B**
14.     **A**
15.     **B**
16.     **C**