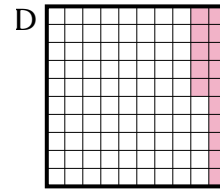
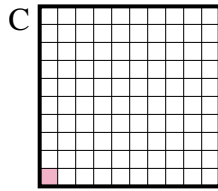
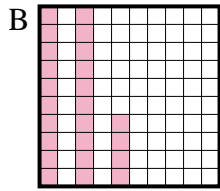
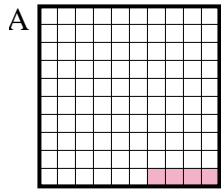




Determina quale lettera risponde correttamente alla domanda.

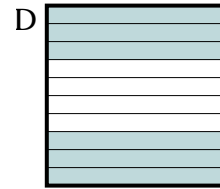
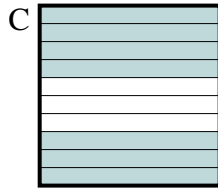
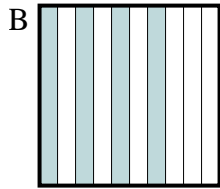
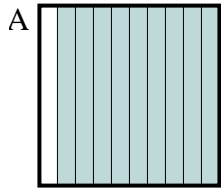
Risposte

1) Quale griglia 10×10 è colorata in modo da rappresentare un numero decimale, che sommato a 0,96 fa 1,00?



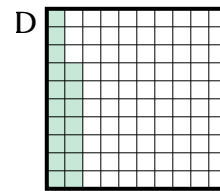
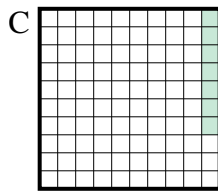
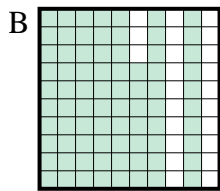
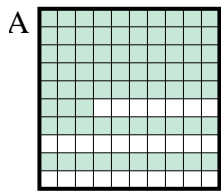
1. _____

2) Quale griglia 10×1 è colorata in modo da rappresentare un numero decimale, che sommato a 0,3 fa 1,00?




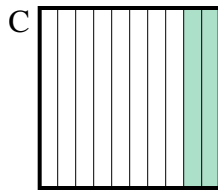
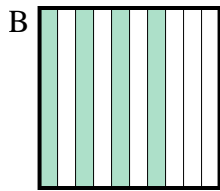
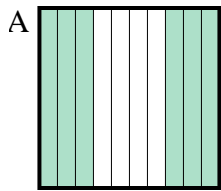
2. _____

3) Quale griglia 10×10 è colorata in modo da rappresentare un numero decimale, che sommato a 0,93 fa 1,00?



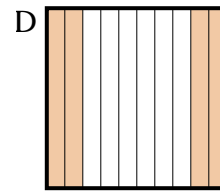
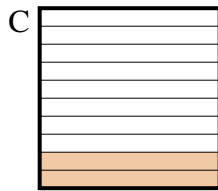
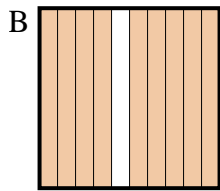
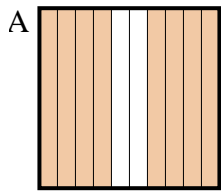
3. _____

4) Quale griglia 10×1 è colorata in modo da rappresentare un numero decimale, che sommato a 0,9 fa 1,00?



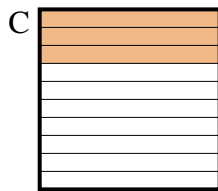
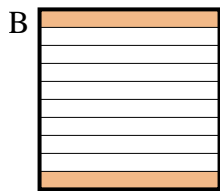
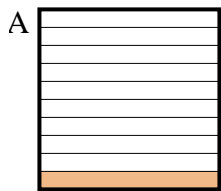
4. _____

5) Quale griglia 10×1 è colorata in modo da rappresentare un numero decimale, che sommato a 0,1 fa 1,00?



5. _____

6) Quale griglia 10×1 è colorata in modo da rappresentare un numero decimale, che sommato a 0,6 fa 1,00?

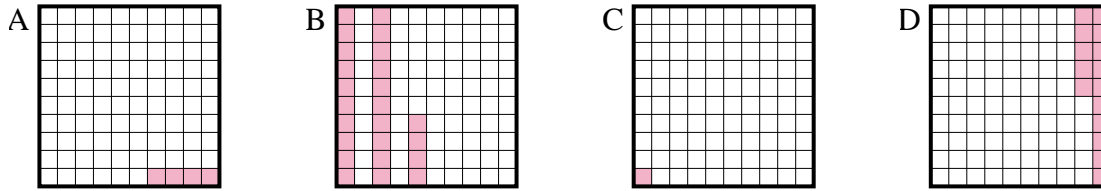


6. _____

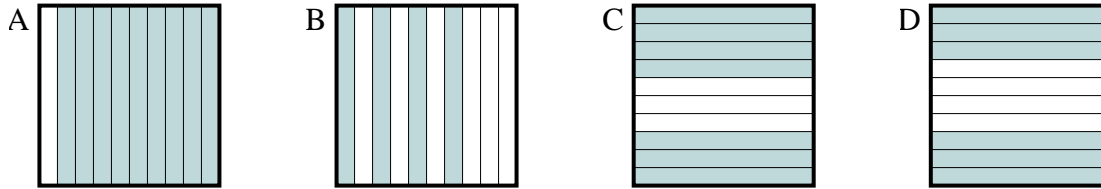


Determina quale lettera risponde correttamente alla domanda.

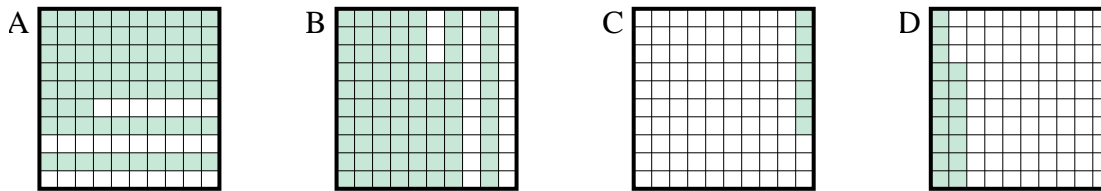
1) Quale griglia 10×10 è colorata in modo da rappresentare un numero decimale, che sommato a 0,96 fa 1,00?



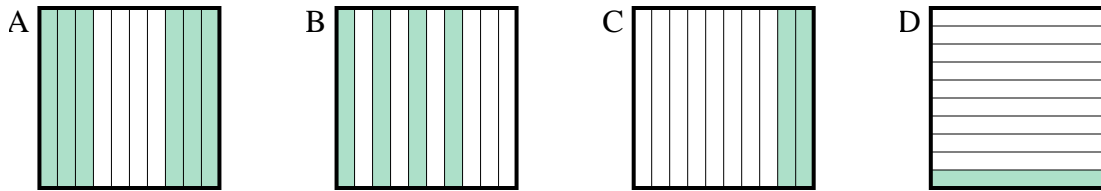
2) Quale griglia 10×1 è colorata in modo da rappresentare un numero decimale, che sommato a 0,3 fa 1,00?



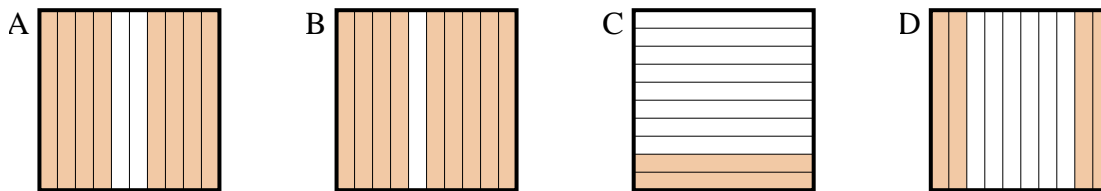
3) Quale griglia 10×10 è colorata in modo da rappresentare un numero decimale, che sommato a 0,93 fa 1,00?



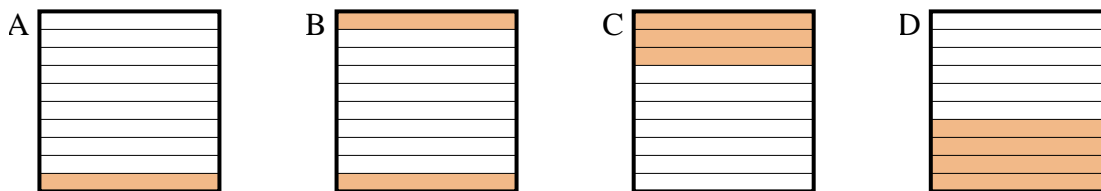
4) Quale griglia 10×1 è colorata in modo da rappresentare un numero decimale, che sommato a 0,9 fa 1,00?



5) Quale griglia 10×1 è colorata in modo da rappresentare un numero decimale, che sommato a 0,1 fa 1,00?



6) Quale griglia 10×1 è colorata in modo da rappresentare un numero decimale, che sommato a 0,6 fa 1,00?



Risposte

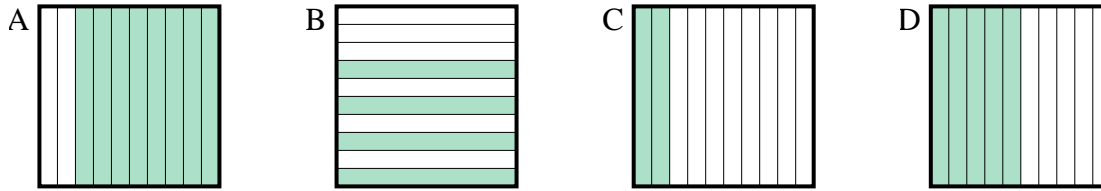
1. **A**
2. **C**
3. **C**
4. **D**
5. **B**
6. **D**



Determina quale lettera risponde correttamente alla domanda.

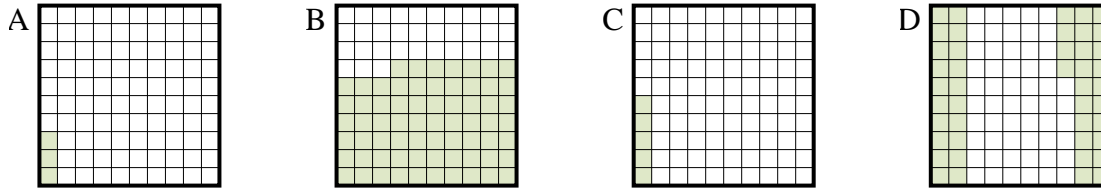
Risposte

1) Quale griglia 10×1 è colorata in modo da rappresentare un numero decimale, che sommato a 0,2 fa 1,00?



1. _____

2) Quale griglia 10×10 è colorata in modo da rappresentare un numero decimale, che sommato a 0,95 fa 1,00?



2. _____

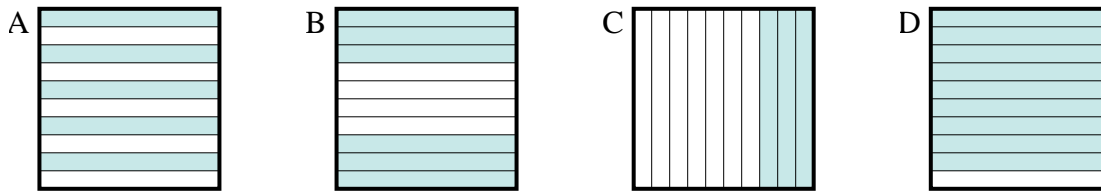
3. _____

4. _____

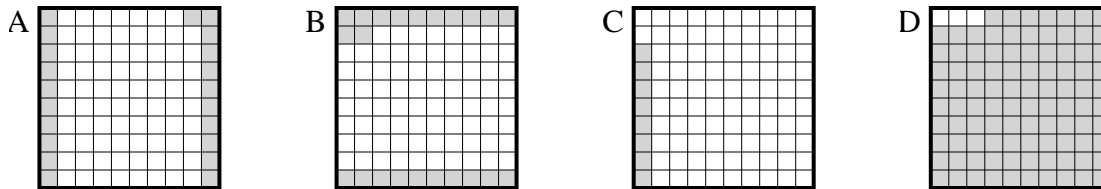
5. _____

6. _____

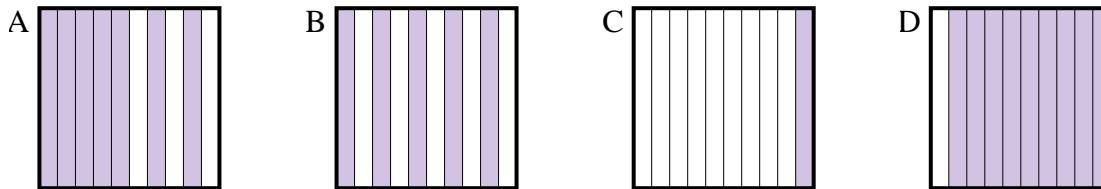
3) Quale griglia 10×1 è colorata in modo da rappresentare un numero decimale, che sommato a 0,7 fa 1,00?



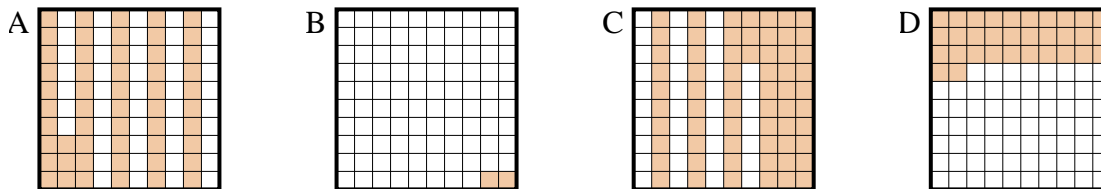
4) Quale griglia 10×10 è colorata in modo da rappresentare un numero decimale, che sommato a 0,92 fa 1,00?



5) Quale griglia 10×1 è colorata in modo da rappresentare un numero decimale, che sommato a 0,5 fa 1,00?



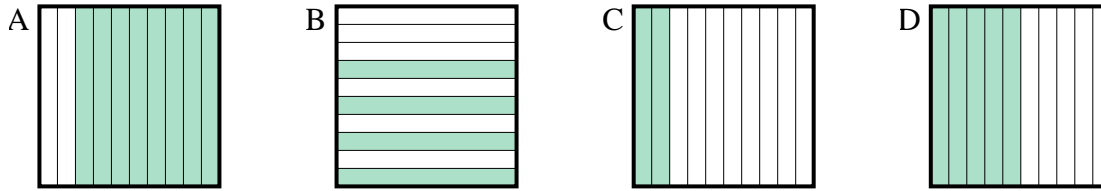
6) Quale griglia 10×10 è colorata in modo da rappresentare un numero decimale, che sommato a 0,98 fa 1,00?



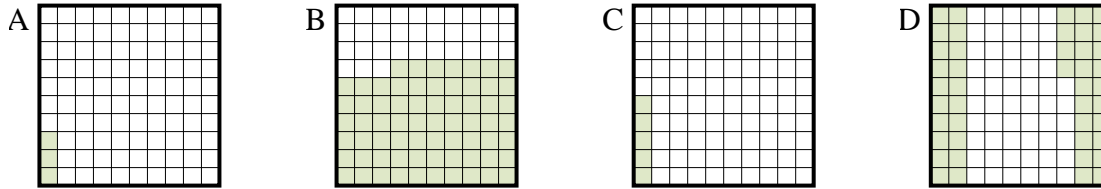


Determina quale lettera risponde correttamente alla domanda.

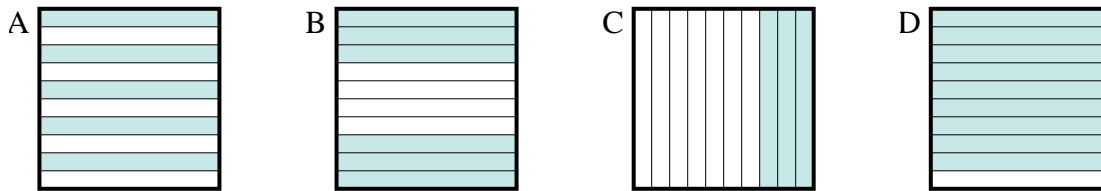
1) Quale griglia 10×1 è colorata in modo da rappresentare un numero decimale, che sommato a 0,2 fa 1,00?



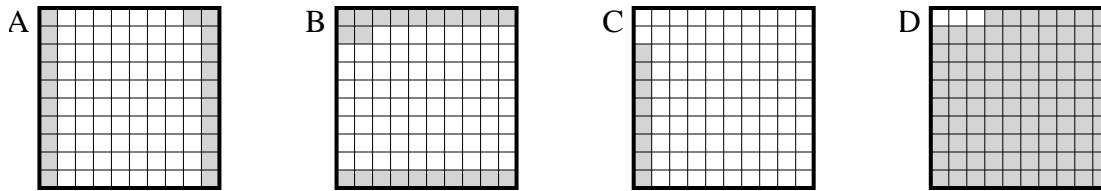
2) Quale griglia 10×10 è colorata in modo da rappresentare un numero decimale, che sommato a 0,95 fa 1,00?



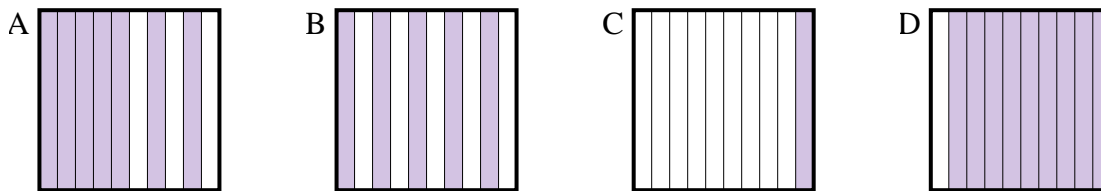
3) Quale griglia 10×1 è colorata in modo da rappresentare un numero decimale, che sommato a 0,7 fa 1,00?



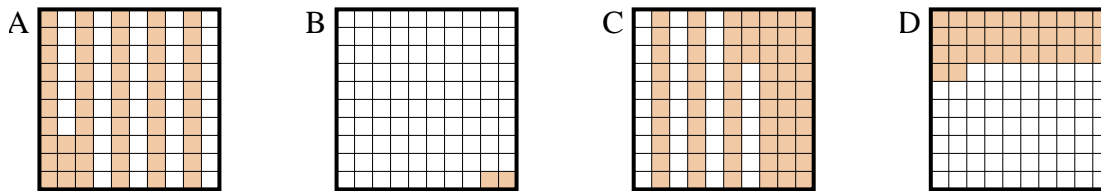
4) Quale griglia 10×10 è colorata in modo da rappresentare un numero decimale, che sommato a 0,92 fa 1,00?



5) Quale griglia 10×1 è colorata in modo da rappresentare un numero decimale, che sommato a 0,5 fa 1,00?



6) Quale griglia 10×10 è colorata in modo da rappresentare un numero decimale, che sommato a 0,98 fa 1,00?



Risposte

1. **A**

2. **C**

3. **C**

4. **C**

5. **B**

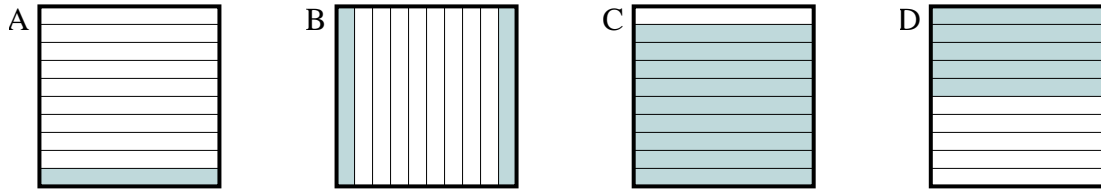
6. **B**



Determina quale lettera risponde correttamente alla domanda.

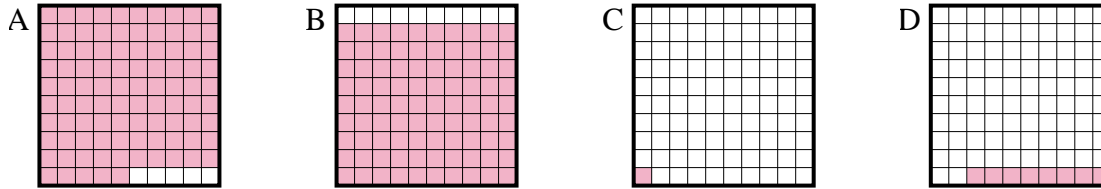
Risposte

1) Quale griglia 10×1 è colorata in modo da rappresentare un numero decimale, che sommato a 0,9 fa 1,00?



1. _____

2) Quale griglia 10×10 è colorata in modo da rappresentare un numero decimale, che sommato a 0,92 fa 1,00?



2. _____

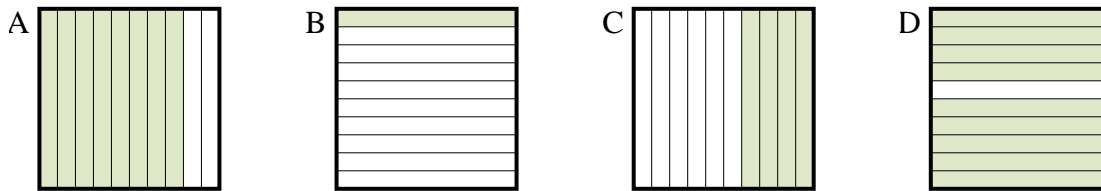
3. _____

4. _____

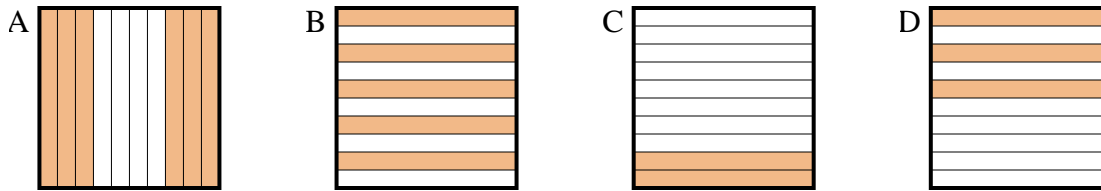
5. _____

6. _____

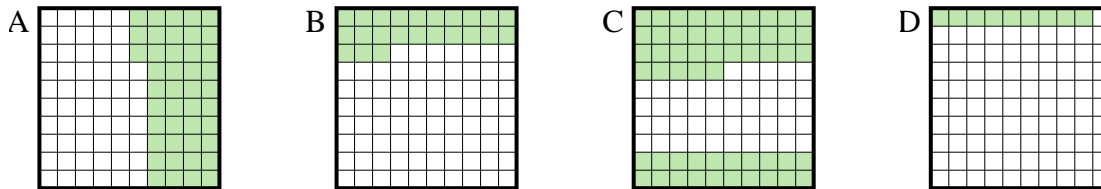
3) Quale griglia 10×1 è colorata in modo da rappresentare un numero decimale, che sommato a 0,6 fa 1,00?



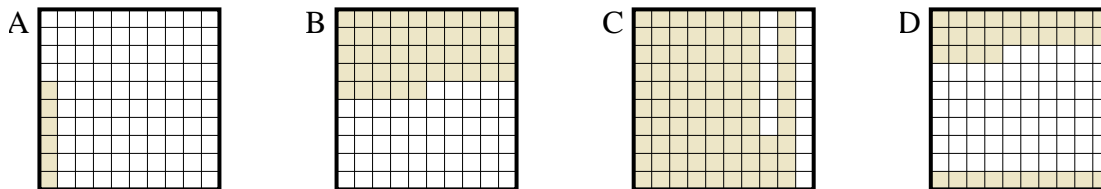
4) Quale griglia 10×1 è colorata in modo da rappresentare un numero decimale, che sommato a 0,8 fa 1,00?



5) Quale griglia 10×10 è colorata in modo da rappresentare un numero decimale, che sommato a 0,91 fa 1,00?



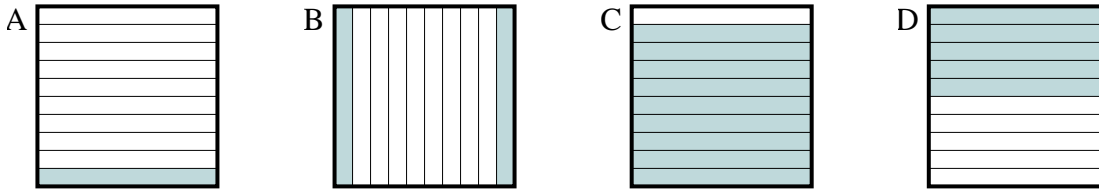
6) Quale griglia 10×10 è colorata in modo da rappresentare un numero decimale, che sommato a 0,94 fa 1,00?



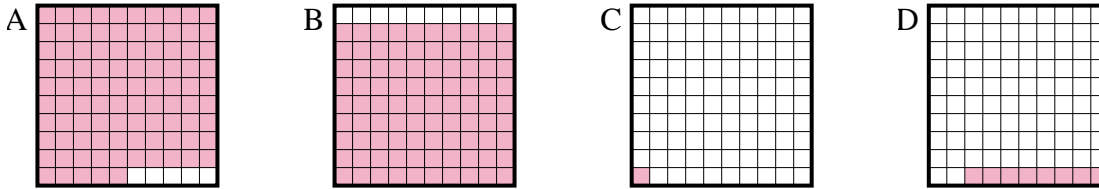


Determina quale lettera risponde correttamente alla domanda.

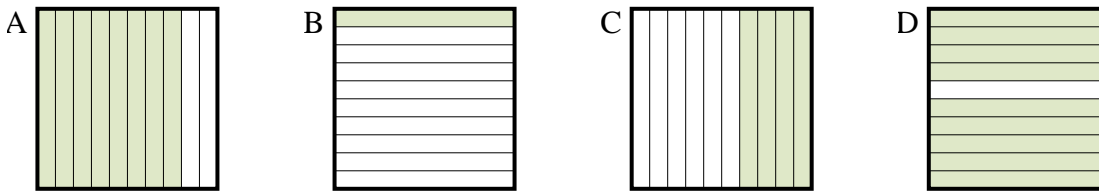
1) Quale griglia 10×1 è colorata in modo da rappresentare un numero decimale, che sommato a 0,9 fa 1,00?



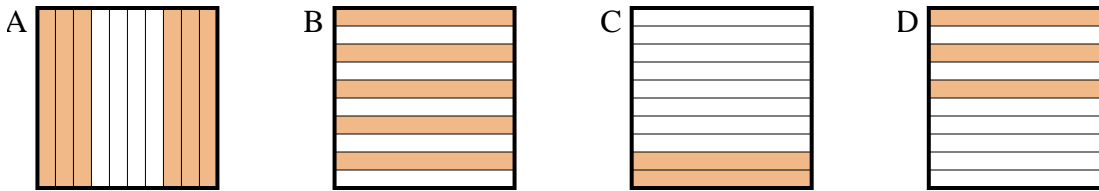
2) Quale griglia 10×10 è colorata in modo da rappresentare un numero decimale, che sommato a 0,92 fa 1,00?



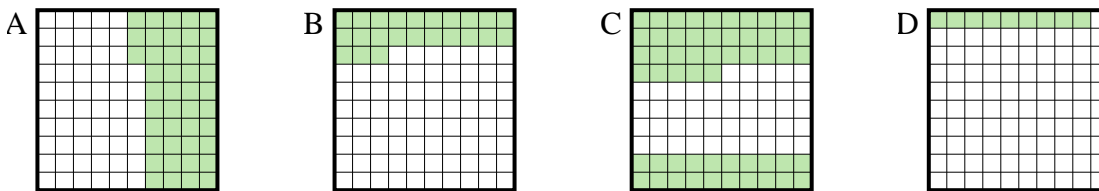
3) Quale griglia 10×1 è colorata in modo da rappresentare un numero decimale, che sommato a 0,6 fa 1,00?



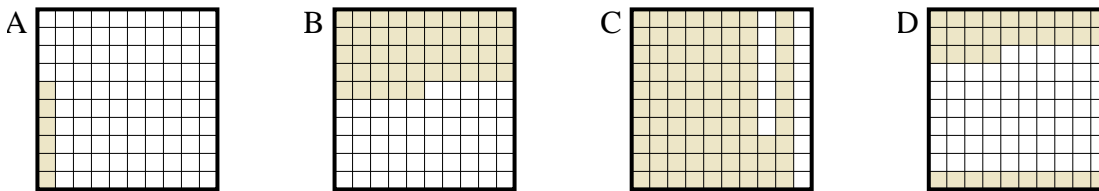
4) Quale griglia 10×1 è colorata in modo da rappresentare un numero decimale, che sommato a 0,8 fa 1,00?



5) Quale griglia 10×10 è colorata in modo da rappresentare un numero decimale, che sommato a 0,91 fa 1,00?



6) Quale griglia 10×10 è colorata in modo da rappresentare un numero decimale, che sommato a 0,94 fa 1,00?



Risposte

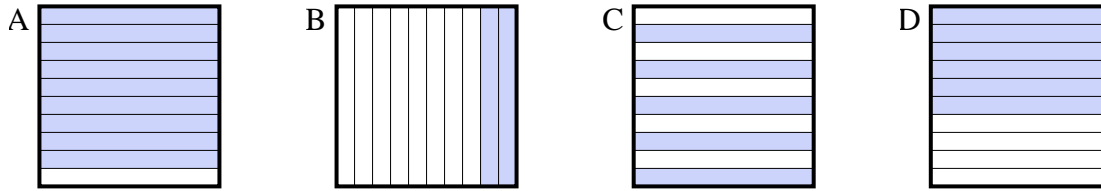
1. **A**
2. **D**
3. **C**
4. **C**
5. **D**
6. **A**



Determina quale lettera risponde correttamente alla domanda.

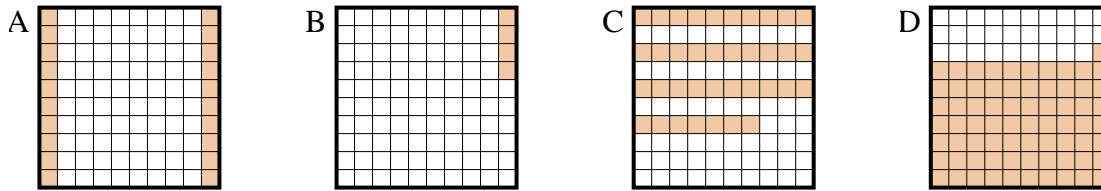
Risposte

1) Quale griglia 10×1 è colorata in modo da rappresentare un numero decimale, che sommato a 0,1 fa 1,00?



1. _____

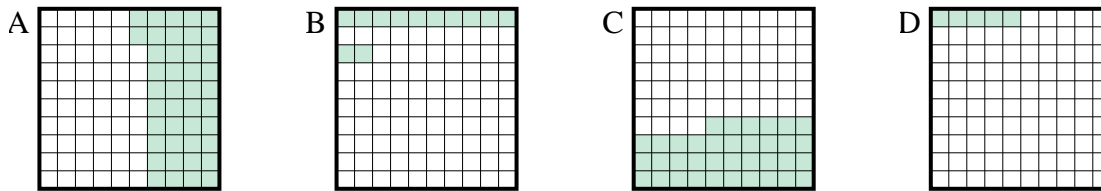
2) Quale griglia 10×10 è colorata in modo da rappresentare un numero decimale, che sommato a 0,96 fa 1,00?



2. _____

3. _____

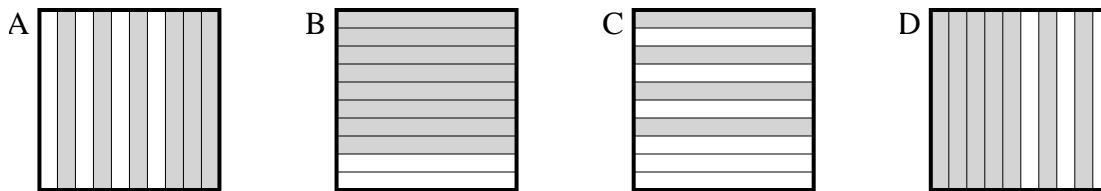
3) Quale griglia 10×10 è colorata in modo da rappresentare un numero decimale, che sommato a 0,95 fa 1,00?



4. _____

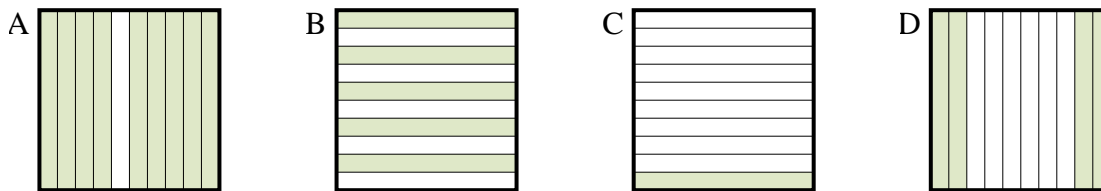
5. _____

4) Quale griglia 10×1 è colorata in modo da rappresentare un numero decimale, che sommato a 0,2 fa 1,00?

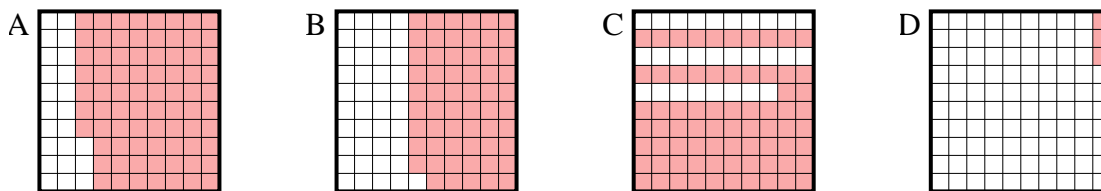


6. _____

5) Quale griglia 10×1 è colorata in modo da rappresentare un numero decimale, che sommato a 0,5 fa 1,00?



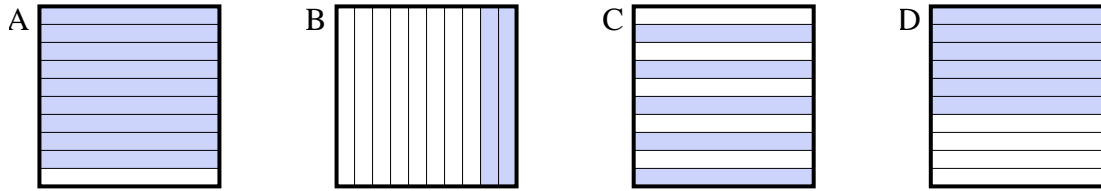
6) Quale griglia 10×10 è colorata in modo da rappresentare un numero decimale, che sommato a 0,97 fa 1,00?



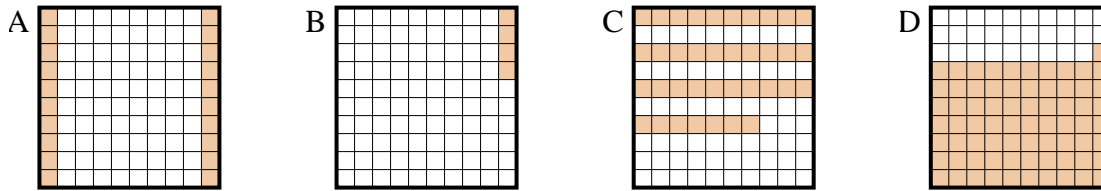


Determina quale lettera risponde correttamente alla domanda.

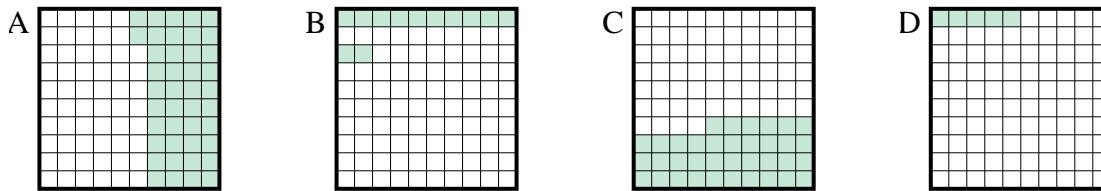
1) Quale griglia 10×1 è colorata in modo da rappresentare un numero decimale, che sommato a 0,1 fa 1,00?



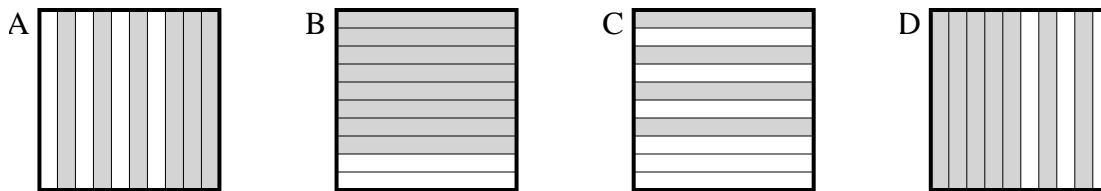
2) Quale griglia 10×10 è colorata in modo da rappresentare un numero decimale, che sommato a 0,96 fa 1,00?



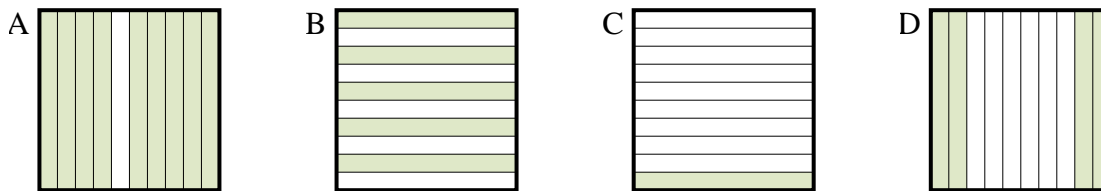
3) Quale griglia 10×10 è colorata in modo da rappresentare un numero decimale, che sommato a 0,95 fa 1,00?



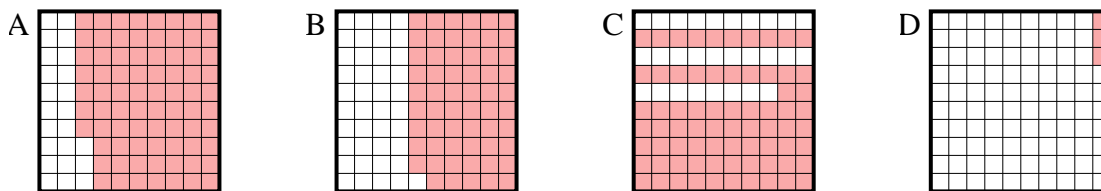
4) Quale griglia 10×1 è colorata in modo da rappresentare un numero decimale, che sommato a 0,2 fa 1,00?



5) Quale griglia 10×1 è colorata in modo da rappresentare un numero decimale, che sommato a 0,5 fa 1,00?



6) Quale griglia 10×10 è colorata in modo da rappresentare un numero decimale, che sommato a 0,97 fa 1,00?



Risposte

1. **A**

2. **B**

3. **D**

4. **B**

5. **B**

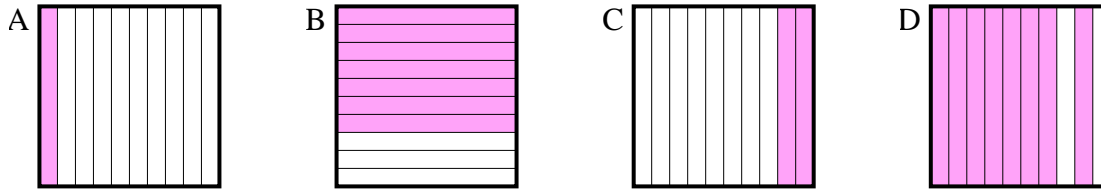
6. **D**



Determina quale lettera risponde correttamente alla domanda.

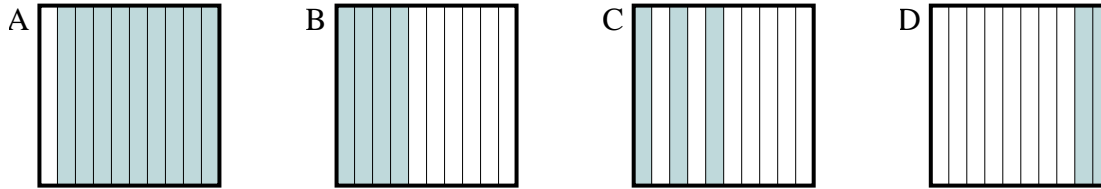
Risposte

1) Quale griglia 10×1 è colorata in modo da rappresentare un numero decimale, che sommato a 0,8 fa 1,00?



1. _____

2) Quale griglia 10×1 è colorata in modo da rappresentare un numero decimale, che sommato a 0,6 fa 1,00?



2. _____

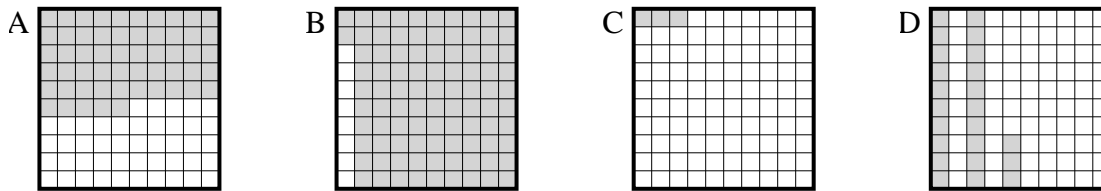
3. _____

4. _____

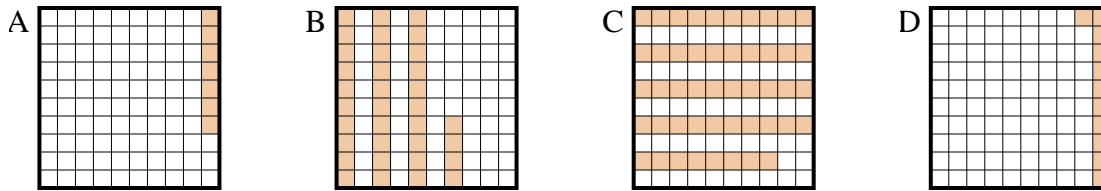
5. _____

6. _____

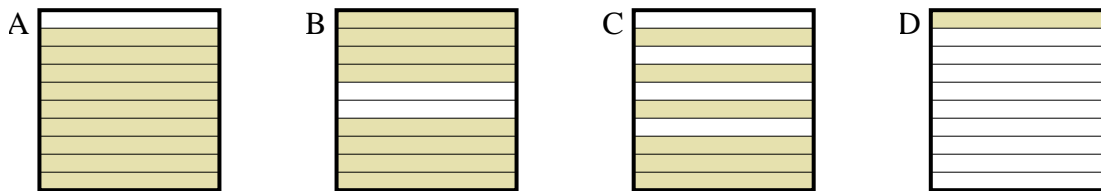
3) Quale griglia 10×10 è colorata in modo da rappresentare un numero decimale, che sommato a 0,97 fa 1,00?



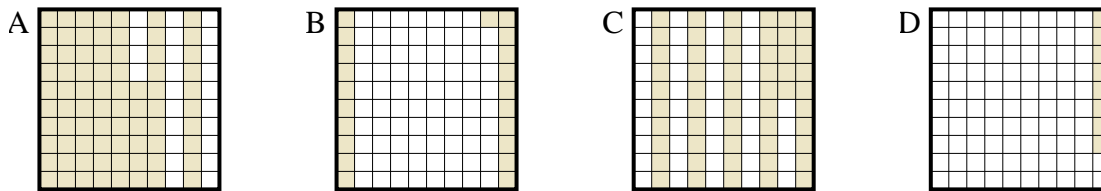
4) Quale griglia 10×10 è colorata in modo da rappresentare un numero decimale, che sommato a 0,93 fa 1,00?



5) Quale griglia 10×1 è colorata in modo da rappresentare un numero decimale, che sommato a 0,4 fa 1,00?



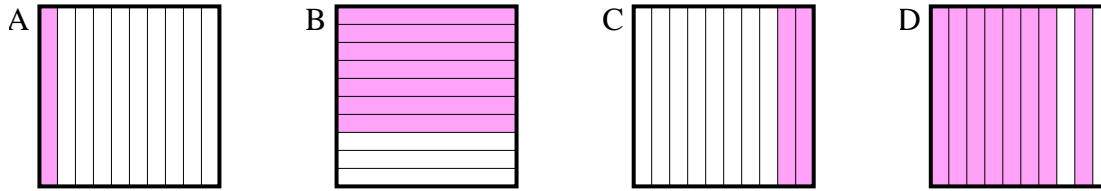
6) Quale griglia 10×10 è colorata in modo da rappresentare un numero decimale, che sommato a 0,92 fa 1,00?



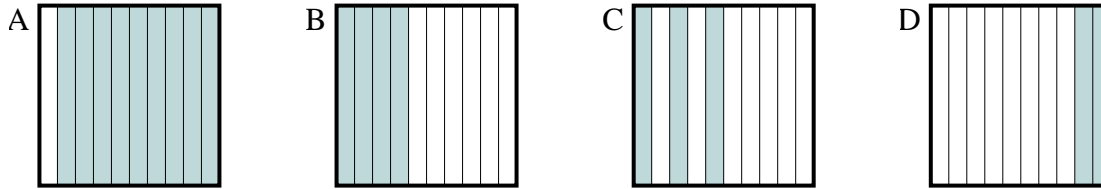


Determina quale lettera risponde correttamente alla domanda.

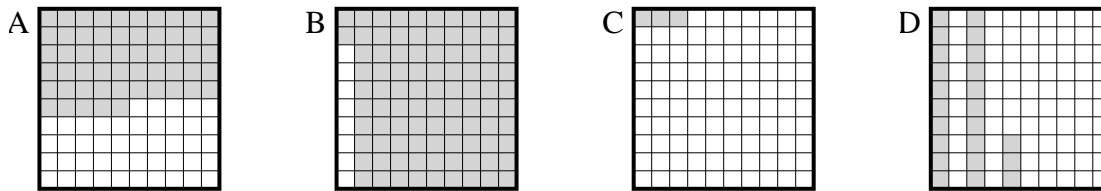
1) Quale griglia 10×1 è colorata in modo da rappresentare un numero decimale, che sommato a 0,8 fa 1,00?



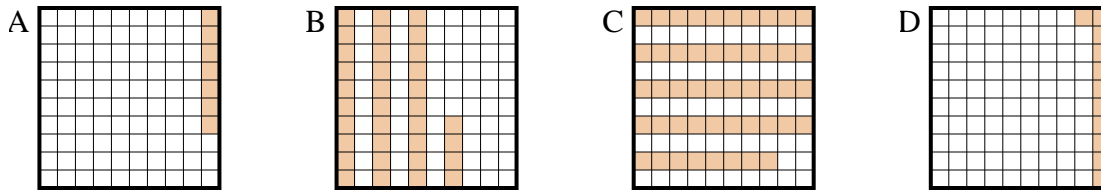
2) Quale griglia 10×1 è colorata in modo da rappresentare un numero decimale, che sommato a 0,6 fa 1,00?



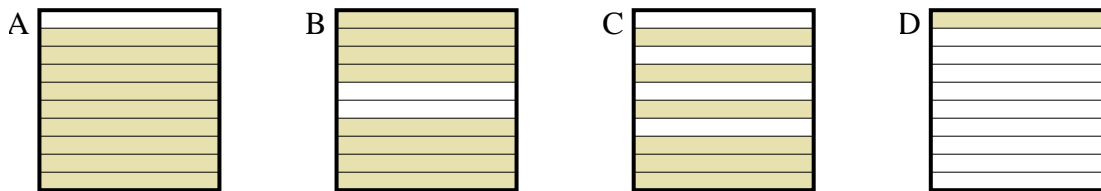
3) Quale griglia 10×10 è colorata in modo da rappresentare un numero decimale, che sommato a 0,97 fa 1,00?



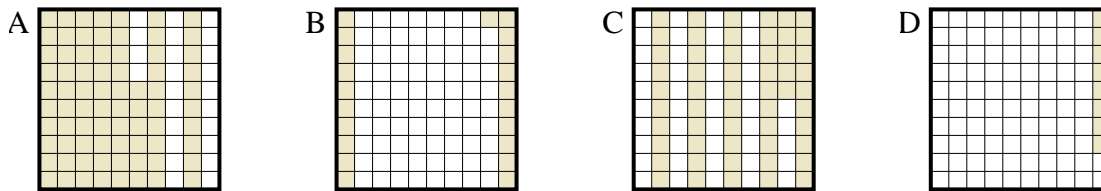
4) Quale griglia 10×10 è colorata in modo da rappresentare un numero decimale, che sommato a 0,93 fa 1,00?



5) Quale griglia 10×1 è colorata in modo da rappresentare un numero decimale, che sommato a 0,4 fa 1,00?



6) Quale griglia 10×10 è colorata in modo da rappresentare un numero decimale, che sommato a 0,92 fa 1,00?



Risposte

1. **C**

2. **B**

3. **C**

4. **A**

5. **C**

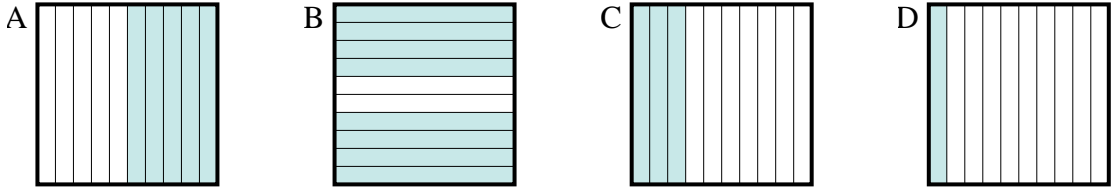
6. **D**



Determina quale lettera risponde correttamente alla domanda.

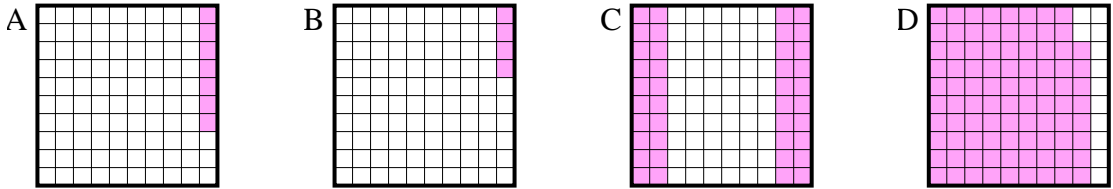
Risposte

1) Quale griglia 10×1 è colorata in modo da rappresentare un numero decimale, che sommato a 0,5 fa 1,00?



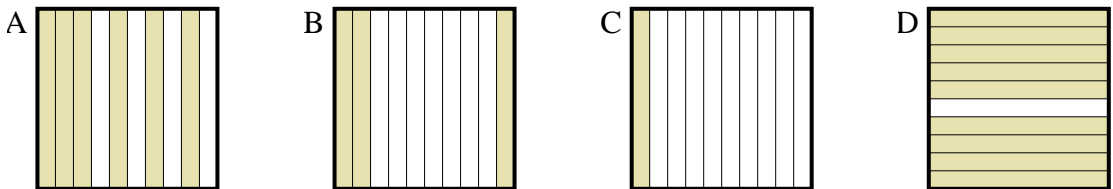
1. _____

2) Quale griglia 10×10 è colorata in modo da rappresentare un numero decimale, che sommato a 0,93 fa 1,00?



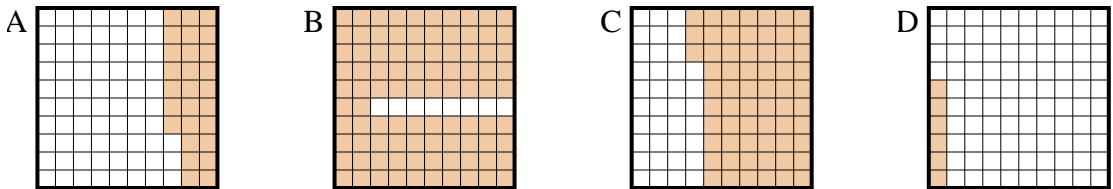
2. _____

3) Quale griglia 10×1 è colorata in modo da rappresentare un numero decimale, che sommato a 0,9 fa 1,00?



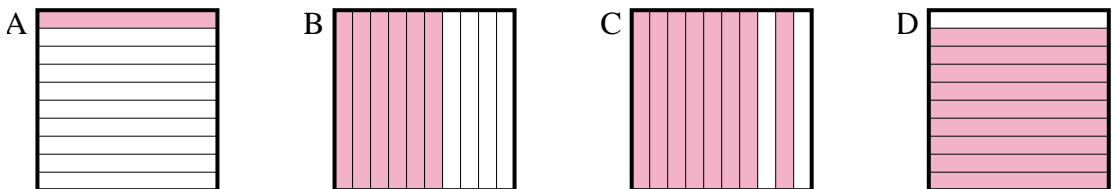
3. _____

4) Quale griglia 10×10 è colorata in modo da rappresentare un numero decimale, che sommato a 0,94 fa 1,00?



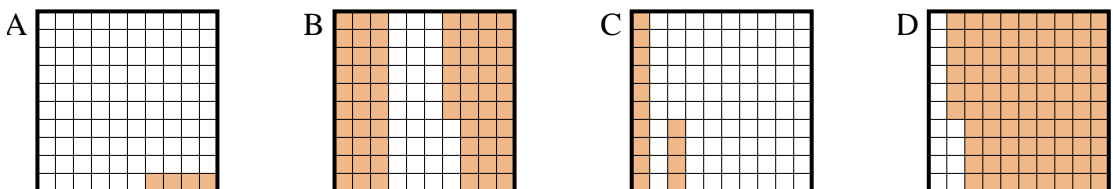
4. _____

5) Quale griglia 10×1 è colorata in modo da rappresentare un numero decimale, che sommato a 0,1 fa 1,00?



5. _____

6) Quale griglia 10×10 è colorata in modo da rappresentare un numero decimale, che sommato a 0,96 fa 1,00?

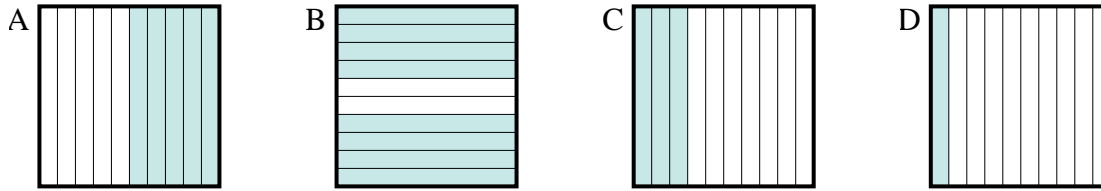


6. _____

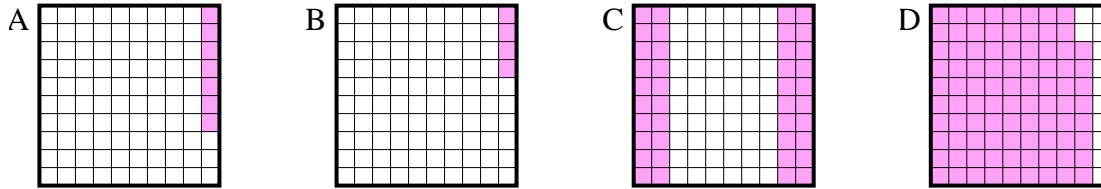


Determina quale lettera risponde correttamente alla domanda.

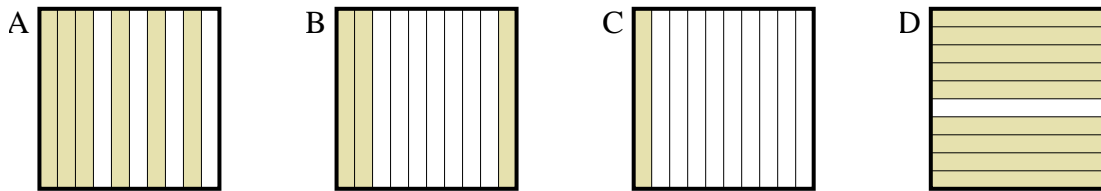
1) Quale griglia 10×1 è colorata in modo da rappresentare un numero decimale, che sommato a 0,5 fa 1,00?



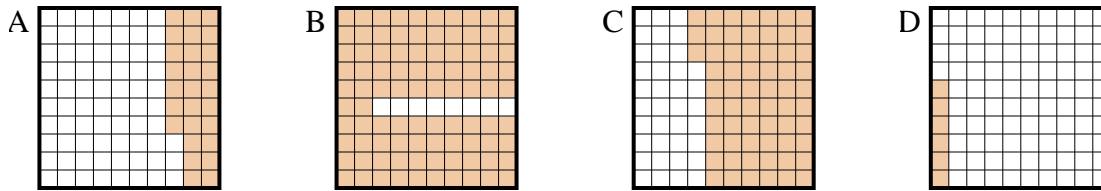
2) Quale griglia 10×10 è colorata in modo da rappresentare un numero decimale, che sommato a 0,93 fa 1,00?



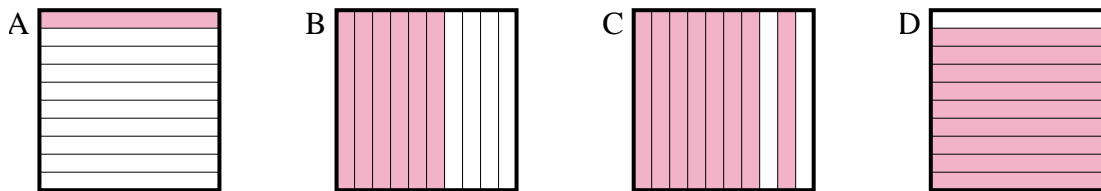
3) Quale griglia 10×1 è colorata in modo da rappresentare un numero decimale, che sommato a 0,9 fa 1,00?



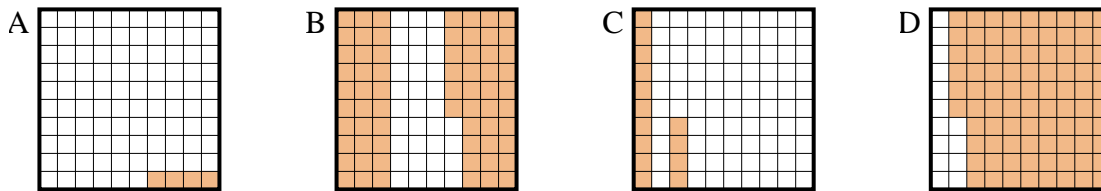
4) Quale griglia 10×10 è colorata in modo da rappresentare un numero decimale, che sommato a 0,94 fa 1,00?



5) Quale griglia 10×1 è colorata in modo da rappresentare un numero decimale, che sommato a 0,1 fa 1,00?



6) Quale griglia 10×10 è colorata in modo da rappresentare un numero decimale, che sommato a 0,96 fa 1,00?



Risposte

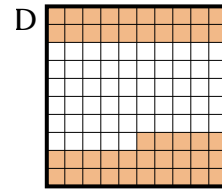
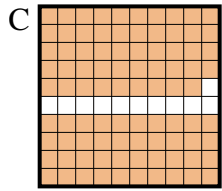
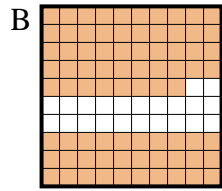
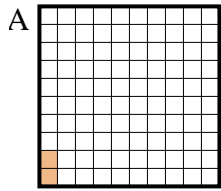
1. **A**
2. **A**
3. **C**
4. **D**
5. **D**
6. **A**



Determina quale lettera risponde correttamente alla domanda.

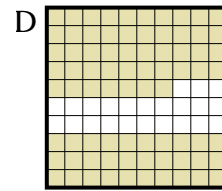
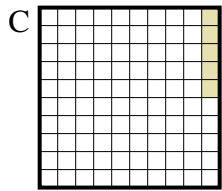
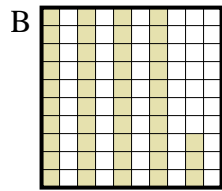
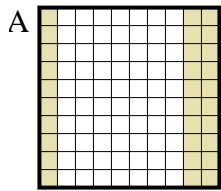
Risposte

1) Quale griglia 10×10 è colorata in modo da rappresentare un numero decimale, che sommato a 0,98 fa 1,00?



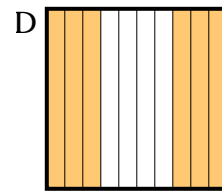
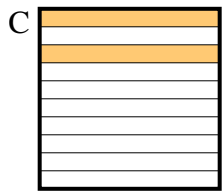
1. _____

2) Quale griglia 10×10 è colorata in modo da rappresentare un numero decimale, che sommato a 0,95 fa 1,00?



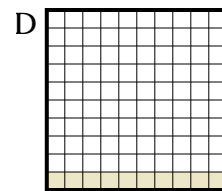
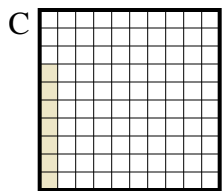
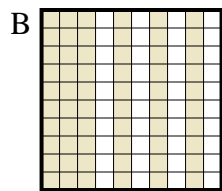
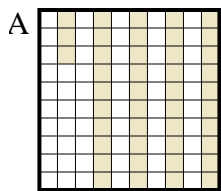
2. _____

3) Quale griglia 10×1 è colorata in modo da rappresentare un numero decimale, che sommato a 0,8 fa 1,00?



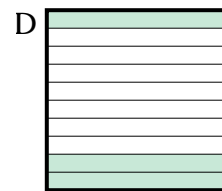

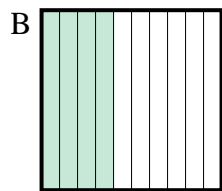
3. _____

4) Quale griglia 10×10 è colorata in modo da rappresentare un numero decimale, che sommato a 0,93 fa 1,00?



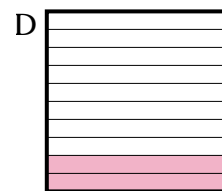
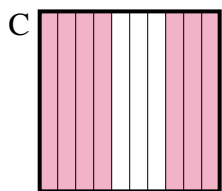
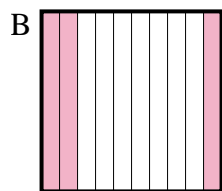
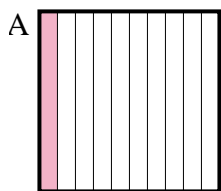
4. _____

5) Quale griglia 10×1 è colorata in modo da rappresentare un numero decimale, che sommato a 0,6 fa 1,00?



5. _____

6) Quale griglia 10×1 è colorata in modo da rappresentare un numero decimale, che sommato a 0,7 fa 1,00?

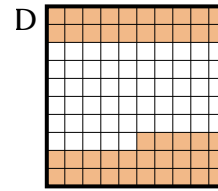
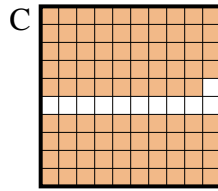
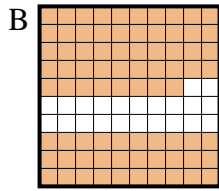
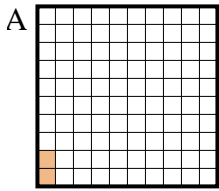


6. _____

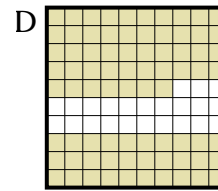
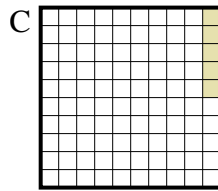
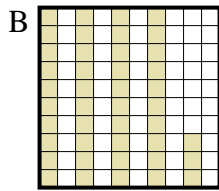
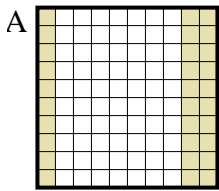


Determina quale lettera risponde correttamente alla domanda.

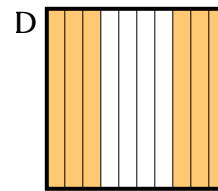
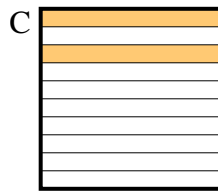

1) Quale griglia 10×10 è colorata in modo da rappresentare un numero decimale, che sommato a 0,98 fa 1,00?



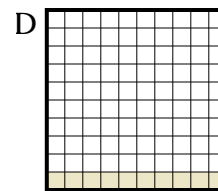
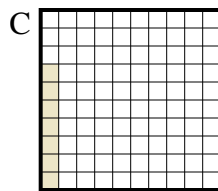
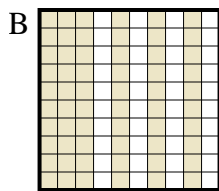
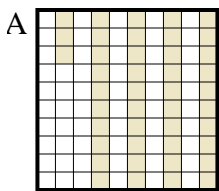
2) Quale griglia 10×10 è colorata in modo da rappresentare un numero decimale, che sommato a 0,95 fa 1,00?



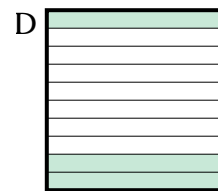

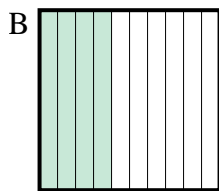
3) Quale griglia 10×1 è colorata in modo da rappresentare un numero decimale, che sommato a 0,8 fa 1,00?




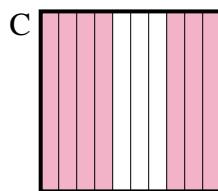
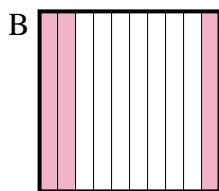
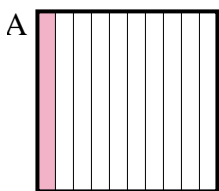
4) Quale griglia 10×10 è colorata in modo da rappresentare un numero decimale, che sommato a 0,93 fa 1,00?



5) Quale griglia 10×1 è colorata in modo da rappresentare un numero decimale, che sommato a 0,6 fa 1,00?



6) Quale griglia 10×1 è colorata in modo da rappresentare un numero decimale, che sommato a 0,7 fa 1,00?



Risposte

1. **A**

2. **C**

3. **C**

4. **C**

5. **B**

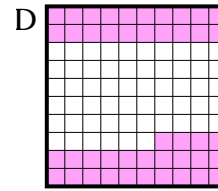
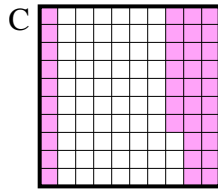
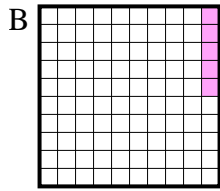
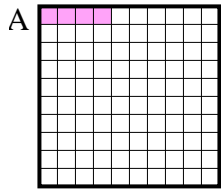
6. **B**



Determina quale lettera risponde correttamente alla domanda.

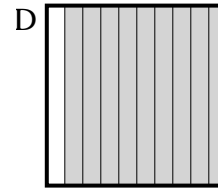
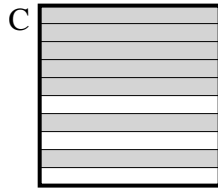
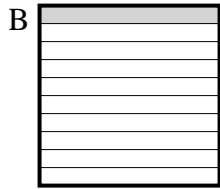
Risposte

1) Quale griglia 10×10 è colorata in modo da rappresentare un numero decimale, che sommato a 0,96 fa 1,00?



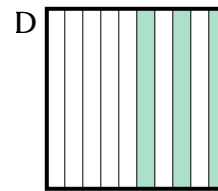
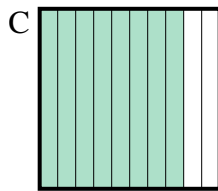

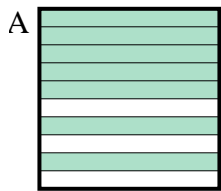
1. _____

2) Quale griglia 10×1 è colorata in modo da rappresentare un numero decimale, che sommato a 0,4 fa 1,00?



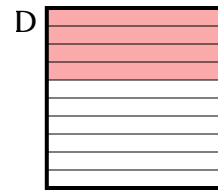
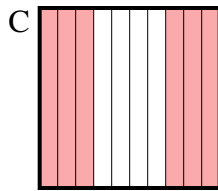

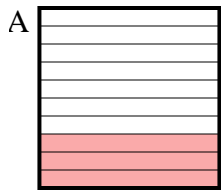
2. _____

3) Quale griglia 10×1 è colorata in modo da rappresentare un numero decimale, che sommato a 0,2 fa 1,00?



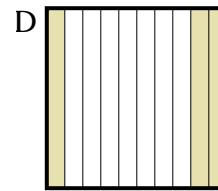
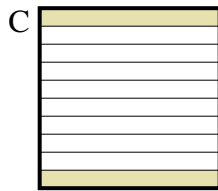
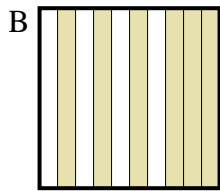
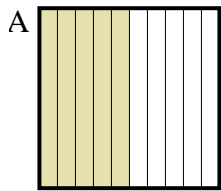
3. _____

4) Quale griglia 10×1 è colorata in modo da rappresentare un numero decimale, che sommato a 0,6 fa 1,00?



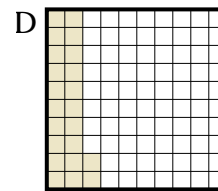
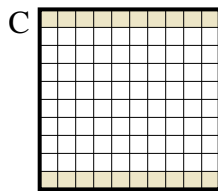
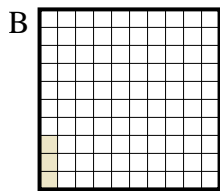
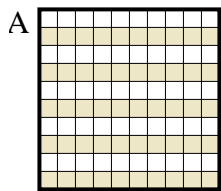
4. _____

5) Quale griglia 10×1 è colorata in modo da rappresentare un numero decimale, che sommato a 0,5 fa 1,00?



5. _____

6) Quale griglia 10×10 è colorata in modo da rappresentare un numero decimale, che sommato a 0,97 fa 1,00?

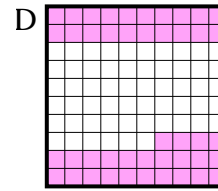
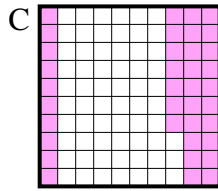
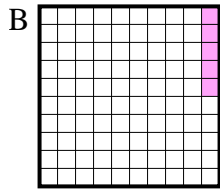
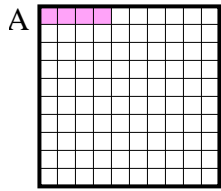


6. _____

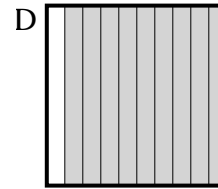
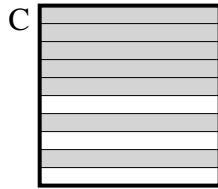
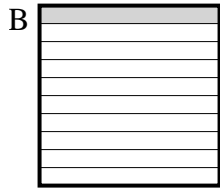


Determina quale lettera risponde correttamente alla domanda.

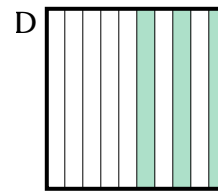
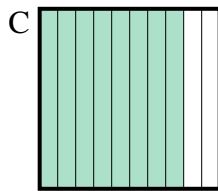

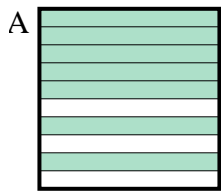
1) Quale griglia 10×10 è colorata in modo da rappresentare un numero decimale, che sommato a 0,96 fa 1,00?



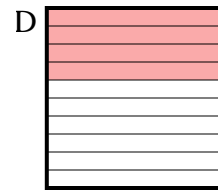
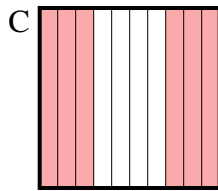

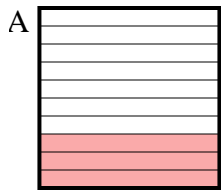
2) Quale griglia 10×1 è colorata in modo da rappresentare un numero decimale, che sommato a 0,4 fa 1,00?



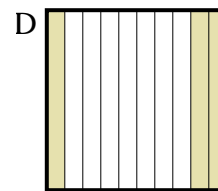

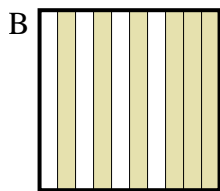
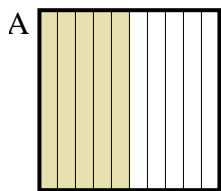
3) Quale griglia 10×1 è colorata in modo da rappresentare un numero decimale, che sommato a 0,2 fa 1,00?



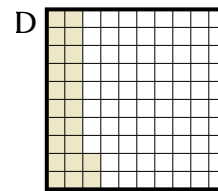
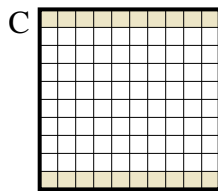
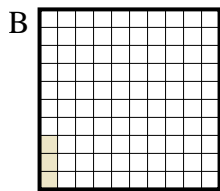
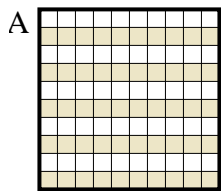
4) Quale griglia 10×1 è colorata in modo da rappresentare un numero decimale, che sommato a 0,6 fa 1,00?



5) Quale griglia 10×1 è colorata in modo da rappresentare un numero decimale, che sommato a 0,5 fa 1,00?



6) Quale griglia 10×10 è colorata in modo da rappresentare un numero decimale, che sommato a 0,97 fa 1,00?



Risposte

1. **A**

2. **A**

3. **C**

4. **D**

5. **A**

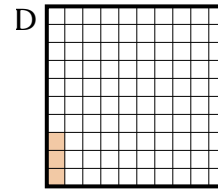
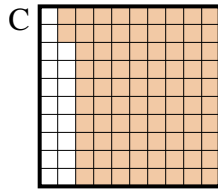
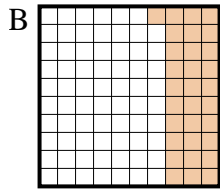
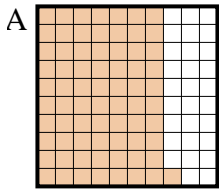
6. **B**



Determina quale lettera risponde correttamente alla domanda.

Risposte

1) Quale griglia 10×10 è colorata in modo da rappresentare un numero decimale, che sommato a 0,97 fa 1,00?

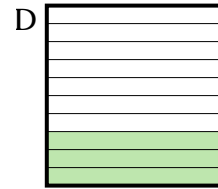
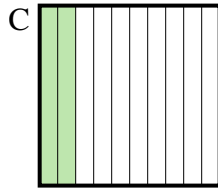
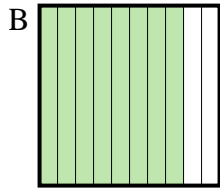
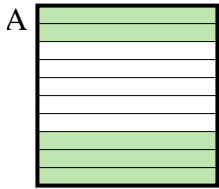


1. _____

2. _____

3. _____

2) Quale griglia 10×1 è colorata in modo da rappresentare un numero decimale, che sommato a 0,5 fa 1,00?

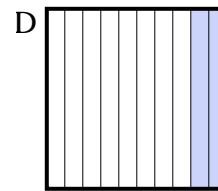
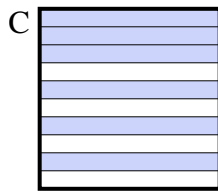
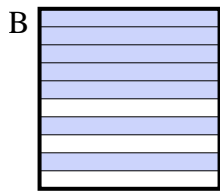
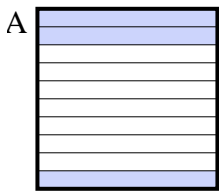


4. _____

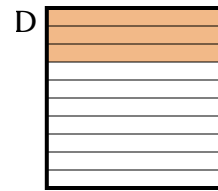
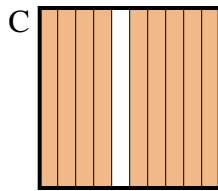
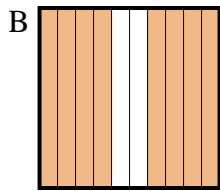
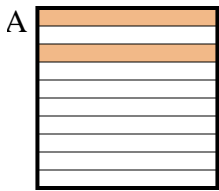
5. _____

6. _____

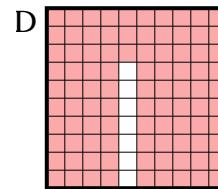
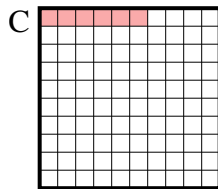
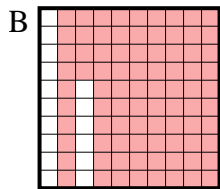
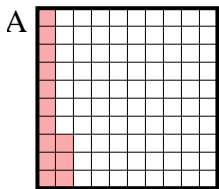
3) Quale griglia 10×1 è colorata in modo da rappresentare un numero decimale, che sommato a 0,7 fa 1,00?



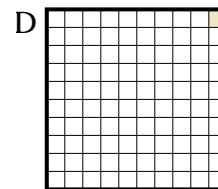
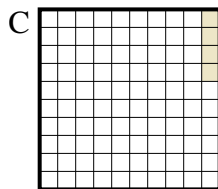
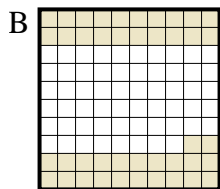
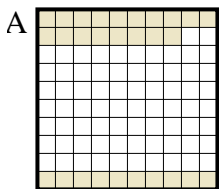
4) Quale griglia 10×1 è colorata in modo da rappresentare un numero decimale, che sommato a 0,1 fa 1,00?



5) Quale griglia 10×10 è colorata in modo da rappresentare un numero decimale, che sommato a 0,94 fa 1,00?



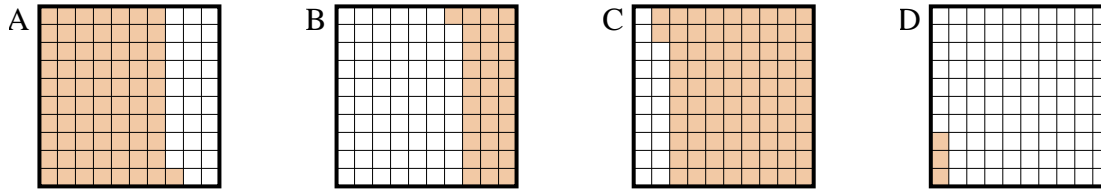
6) Quale griglia 10×10 è colorata in modo da rappresentare un numero decimale, che sommato a 0,96 fa 1,00?



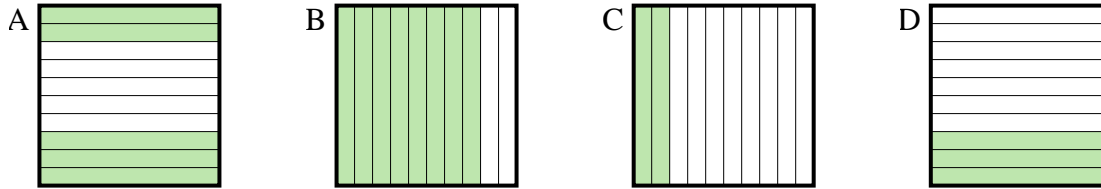


Determina quale lettera risponde correttamente alla domanda.

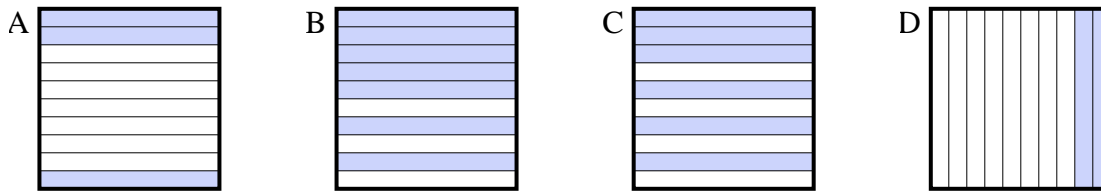
1) Quale griglia 10×10 è colorata in modo da rappresentare un numero decimale, che sommato a 0,97 fa 1,00?



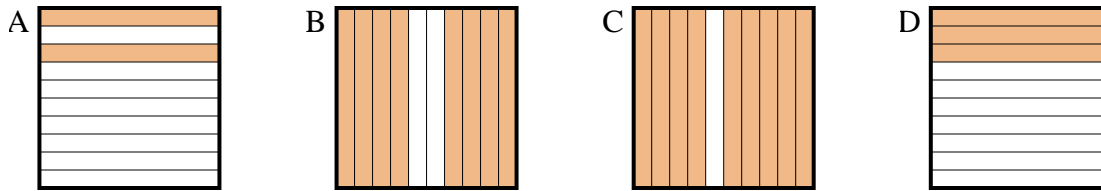
2) Quale griglia 10×1 è colorata in modo da rappresentare un numero decimale, che sommato a 0,5 fa 1,00?



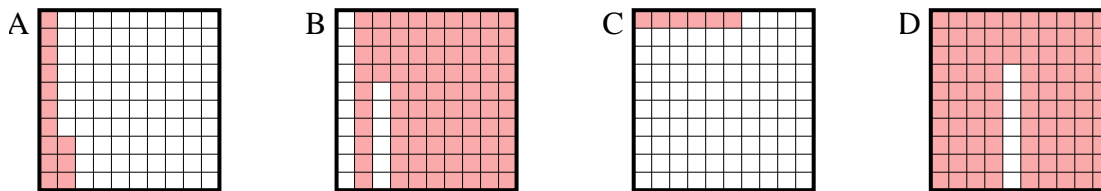
3) Quale griglia 10×1 è colorata in modo da rappresentare un numero decimale, che sommato a 0,7 fa 1,00?



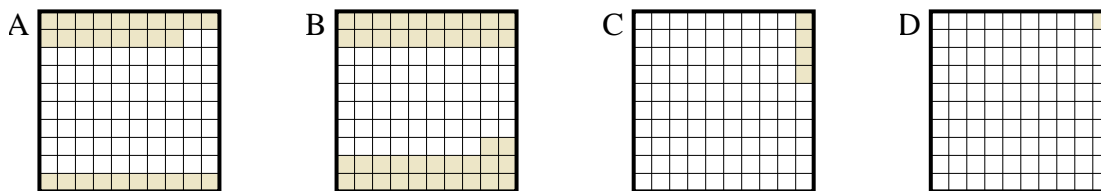
4) Quale griglia 10×1 è colorata in modo da rappresentare un numero decimale, che sommato a 0,1 fa 1,00?



5) Quale griglia 10×10 è colorata in modo da rappresentare un numero decimale, che sommato a 0,94 fa 1,00?



6) Quale griglia 10×10 è colorata in modo da rappresentare un numero decimale, che sommato a 0,96 fa 1,00?



Risposte

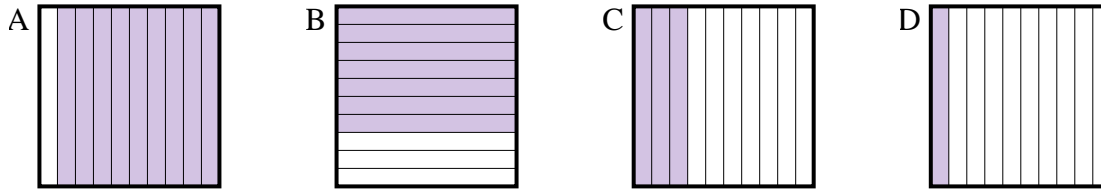
1. **D**
2. **A**
3. **A**
4. **C**
5. **C**
6. **C**



Determina quale lettera risponde correttamente alla domanda.

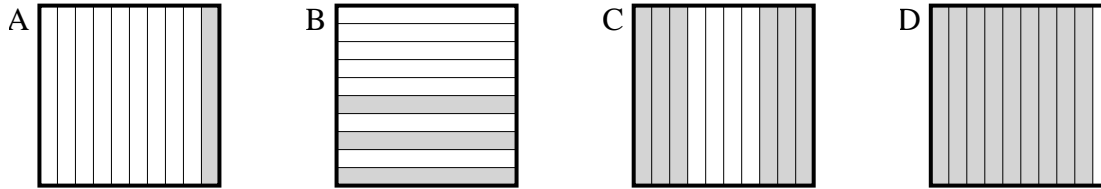
Risposte

1) Quale griglia 10×1 è colorata in modo da rappresentare un numero decimale, che sommato a 0,7 fa 1,00?



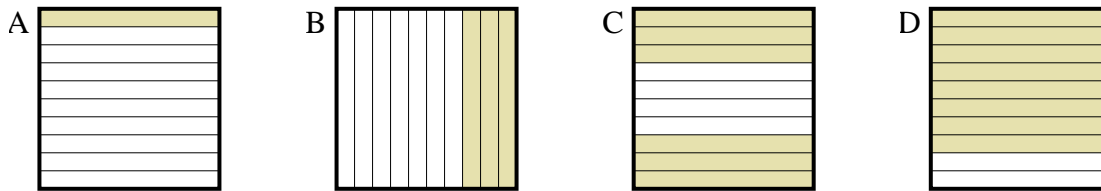
1. _____

2) Quale griglia 10×1 è colorata in modo da rappresentare un numero decimale, che sommato a 0,4 fa 1,00?



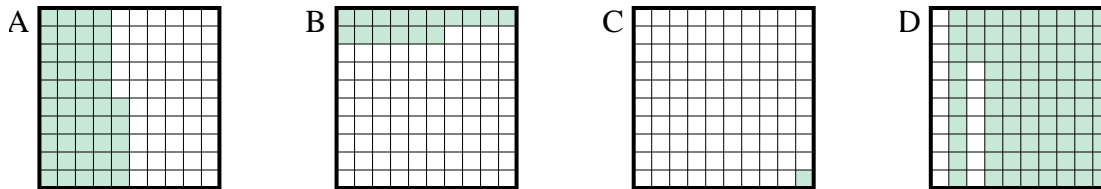
2. _____

3) Quale griglia 10×1 è colorata in modo da rappresentare un numero decimale, che sommato a 0,2 fa 1,00?



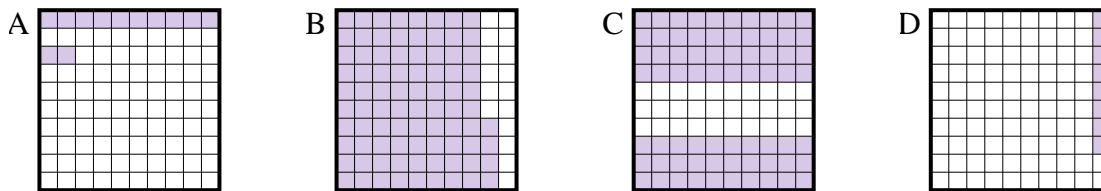
3. _____

4) Quale griglia 10×10 è colorata in modo da rappresentare un numero decimale, che sommato a 0,99 fa 1,00?



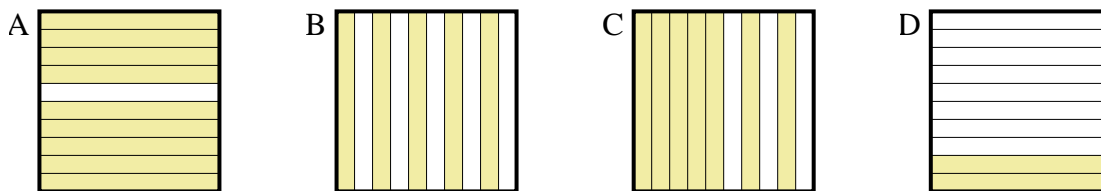
4. _____

5) Quale griglia 10×10 è colorata in modo da rappresentare un numero decimale, che sommato a 0,92 fa 1,00?



5. _____

6) Quale griglia 10×1 è colorata in modo da rappresentare un numero decimale, che sommato a 0,8 fa 1,00?

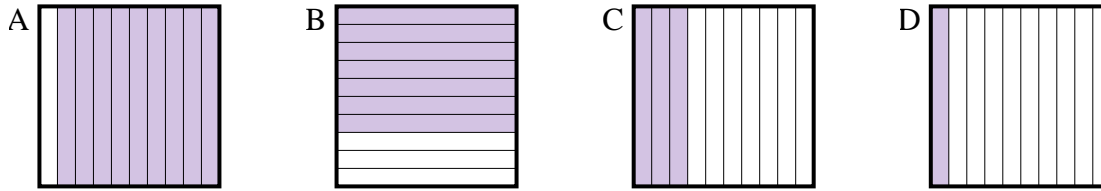


6. _____

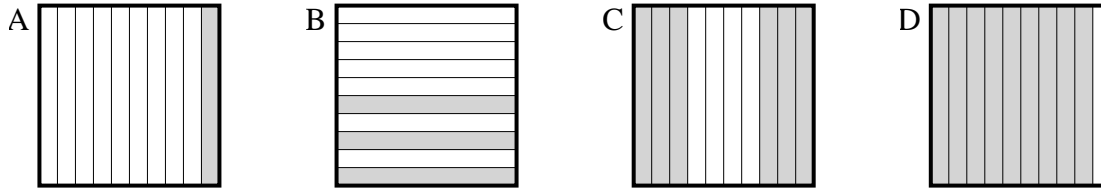


Determina quale lettera risponde correttamente alla domanda.

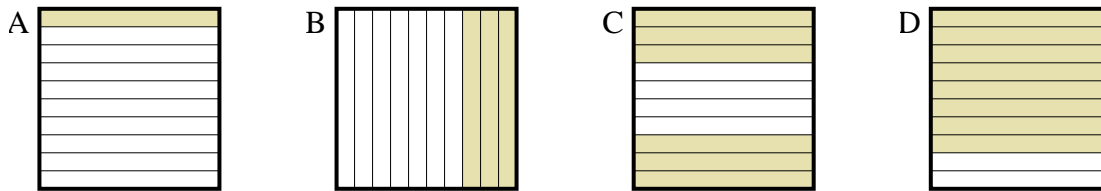
1) Quale griglia 10×1 è colorata in modo da rappresentare un numero decimale, che sommato a 0,7 fa 1,00?



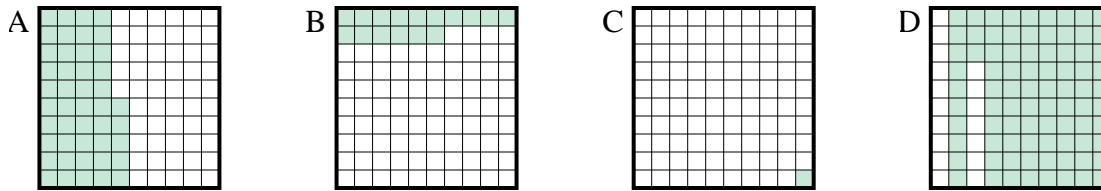
2) Quale griglia 10×1 è colorata in modo da rappresentare un numero decimale, che sommato a 0,4 fa 1,00?



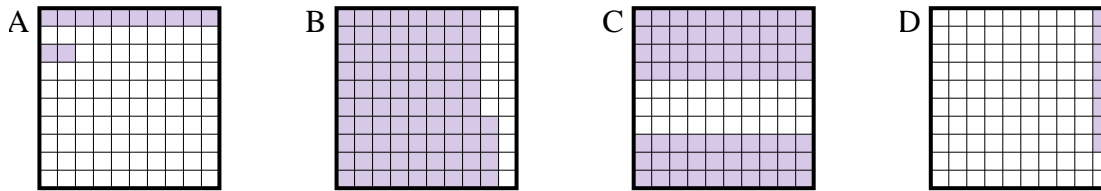
3) Quale griglia 10×1 è colorata in modo da rappresentare un numero decimale, che sommato a 0,2 fa 1,00?



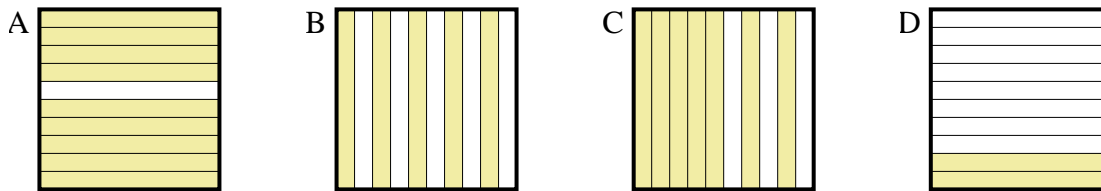
4) Quale griglia 10×10 è colorata in modo da rappresentare un numero decimale, che sommato a 0,99 fa 1,00?



5) Quale griglia 10×10 è colorata in modo da rappresentare un numero decimale, che sommato a 0,92 fa 1,00?



6) Quale griglia 10×1 è colorata in modo da rappresentare un numero decimale, che sommato a 0,8 fa 1,00?



Risposte

1. **C**

2. **C**

3. **D**

4. **C**

5. **D**

6. **D**