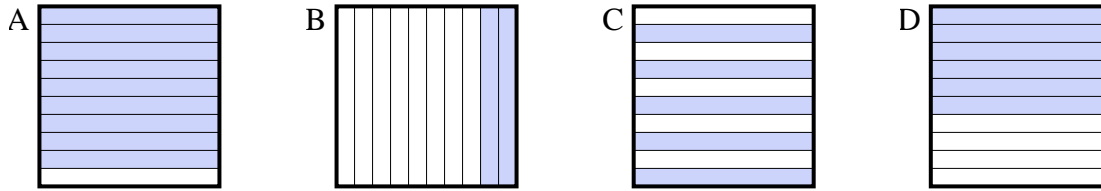




Determina quale lettera risponde correttamente alla domanda.

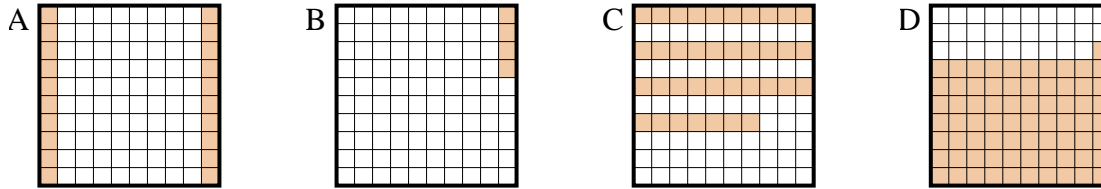
Risposte

1) Quale griglia 10×1 è colorata in modo da rappresentare un numero decimale, che sommato a 0,1 fa 1,00?



1. _____

2) Quale griglia 10×10 è colorata in modo da rappresentare un numero decimale, che sommato a 0,96 fa 1,00?



2. _____

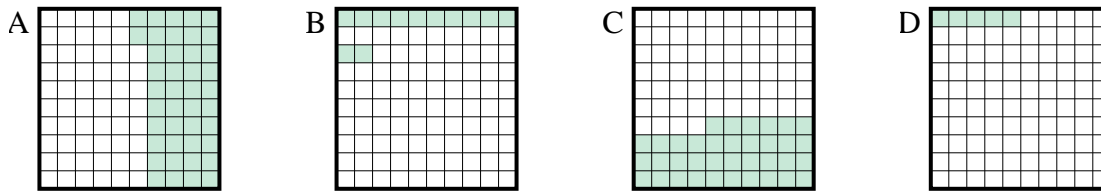
3. _____

4. _____

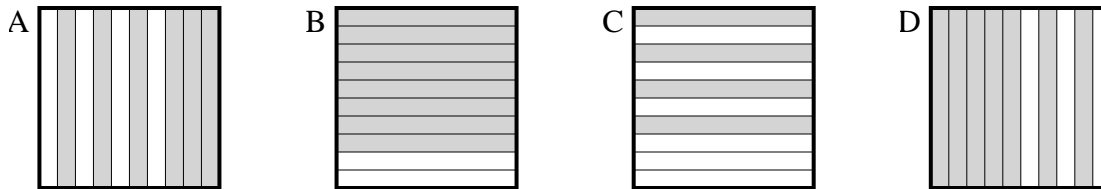
5. _____

6. _____

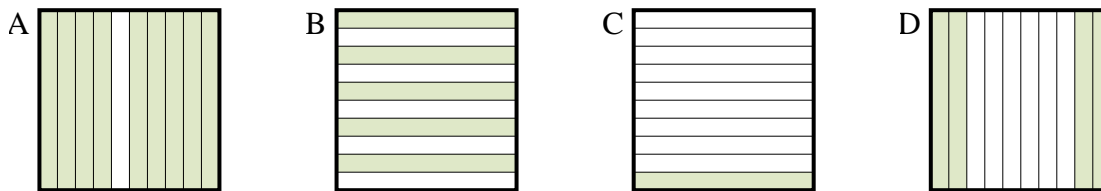
3) Quale griglia 10×10 è colorata in modo da rappresentare un numero decimale, che sommato a 0,95 fa 1,00?



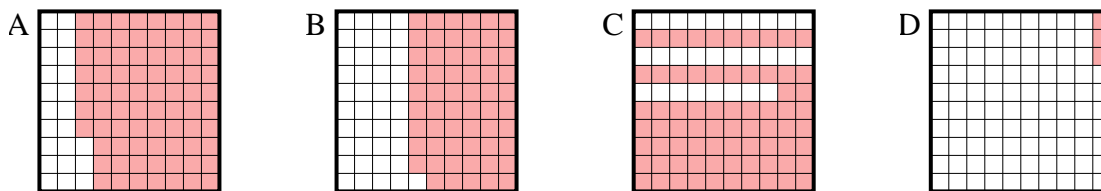
4) Quale griglia 10×1 è colorata in modo da rappresentare un numero decimale, che sommato a 0,2 fa 1,00?



5) Quale griglia 10×1 è colorata in modo da rappresentare un numero decimale, che sommato a 0,5 fa 1,00?



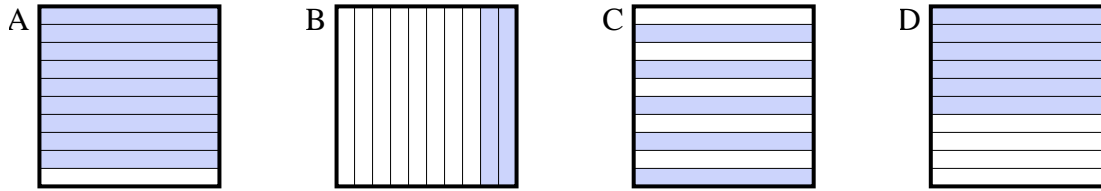
6) Quale griglia 10×10 è colorata in modo da rappresentare un numero decimale, che sommato a 0,97 fa 1,00?



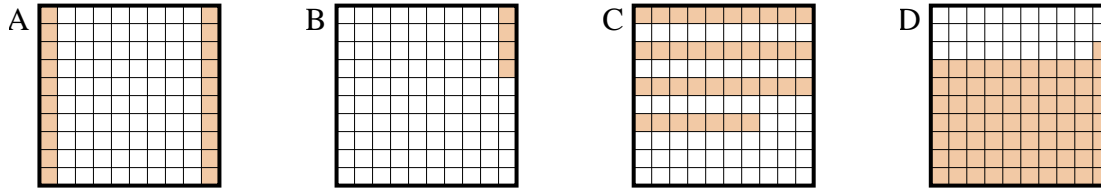


Determina quale lettera risponde correttamente alla domanda.

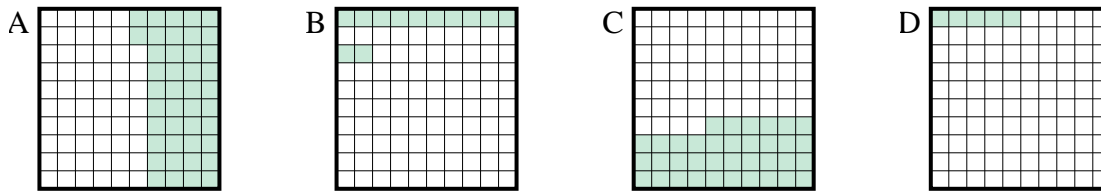
1) Quale griglia 10×1 è colorata in modo da rappresentare un numero decimale, che sommato a 0,1 fa 1,00?



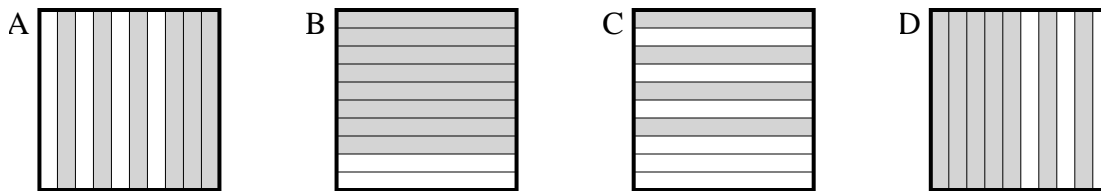
2) Quale griglia 10×10 è colorata in modo da rappresentare un numero decimale, che sommato a 0,96 fa 1,00?



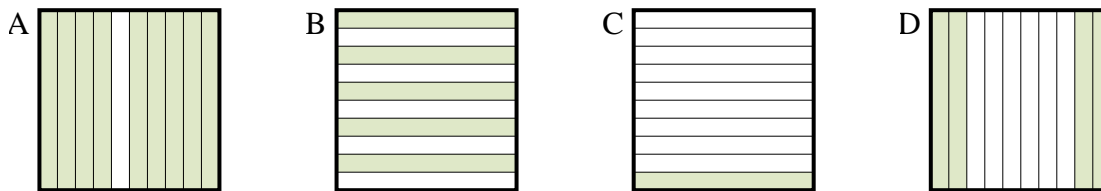
3) Quale griglia 10×10 è colorata in modo da rappresentare un numero decimale, che sommato a 0,95 fa 1,00?



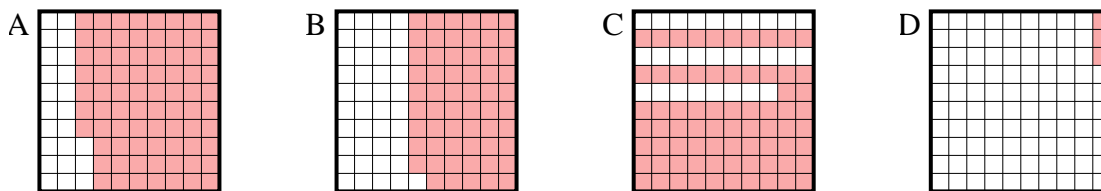
4) Quale griglia 10×1 è colorata in modo da rappresentare un numero decimale, che sommato a 0,2 fa 1,00?



5) Quale griglia 10×1 è colorata in modo da rappresentare un numero decimale, che sommato a 0,5 fa 1,00?



6) Quale griglia 10×10 è colorata in modo da rappresentare un numero decimale, che sommato a 0,97 fa 1,00?



Risposte

1. **A**
2. **B**
3. **D**
4. **B**
5. **B**
6. **D**