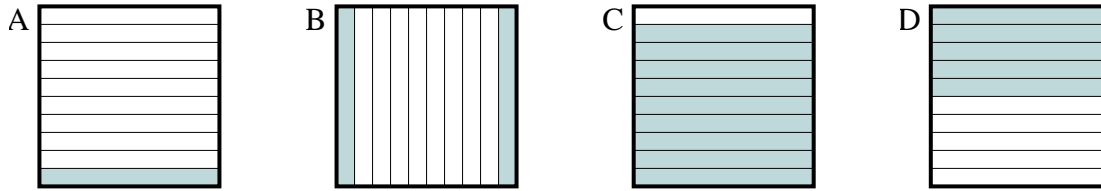




Determina quale lettera risponde correttamente alla domanda.

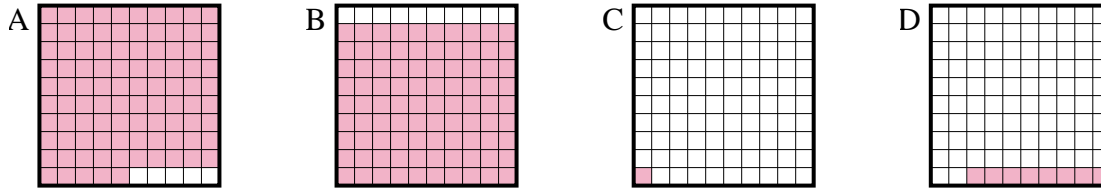
Risposte

1) Quale griglia 10×1 è colorata in modo da rappresentare un numero decimale, che sommato a 0,9 fa 1,00?



1. _____

2) Quale griglia 10×10 è colorata in modo da rappresentare un numero decimale, che sommato a 0,92 fa 1,00?



2. _____

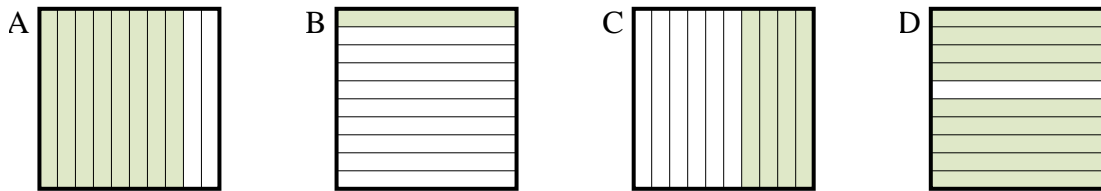
3. _____

4. _____

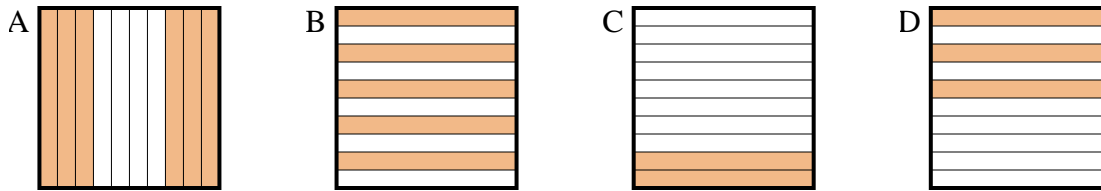
5. _____

6. _____

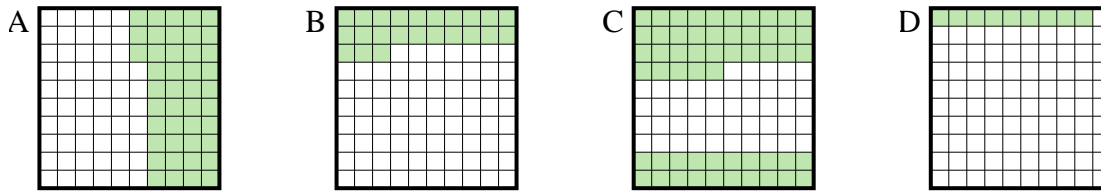
3) Quale griglia 10×1 è colorata in modo da rappresentare un numero decimale, che sommato a 0,6 fa 1,00?



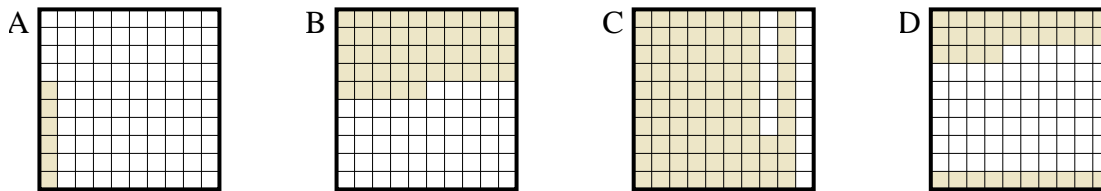
4) Quale griglia 10×1 è colorata in modo da rappresentare un numero decimale, che sommato a 0,8 fa 1,00?



5) Quale griglia 10×10 è colorata in modo da rappresentare un numero decimale, che sommato a 0,91 fa 1,00?



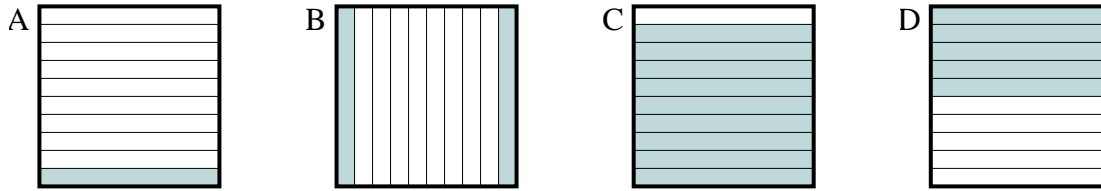
6) Quale griglia 10×10 è colorata in modo da rappresentare un numero decimale, che sommato a 0,94 fa 1,00?



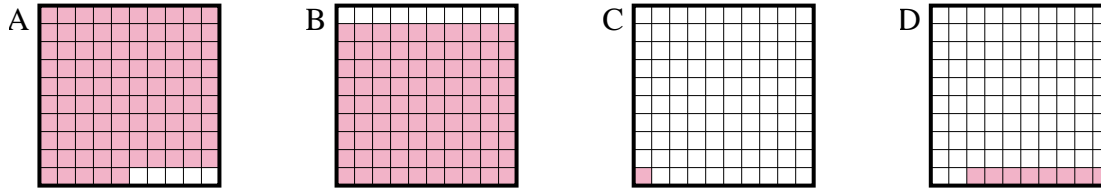


Determina quale lettera risponde correttamente alla domanda.

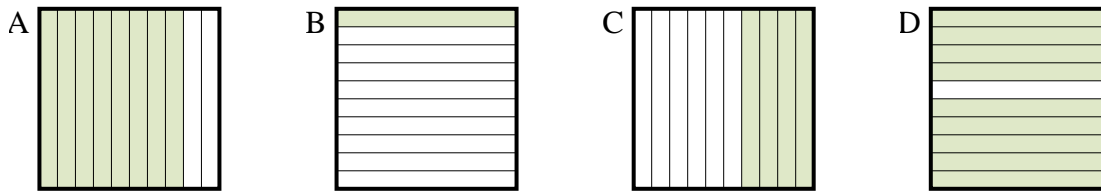
1) Quale griglia 10×1 è colorata in modo da rappresentare un numero decimale, che sommato a 0,9 fa 1,00?



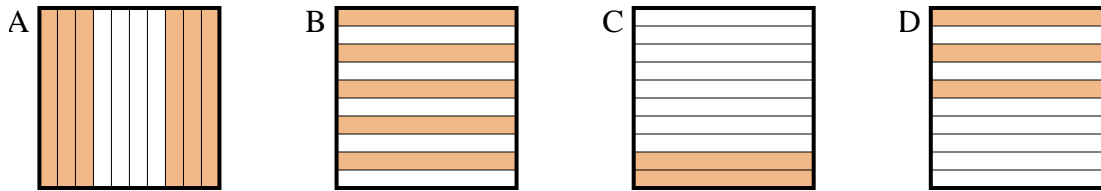
2) Quale griglia 10×10 è colorata in modo da rappresentare un numero decimale, che sommato a 0,92 fa 1,00?



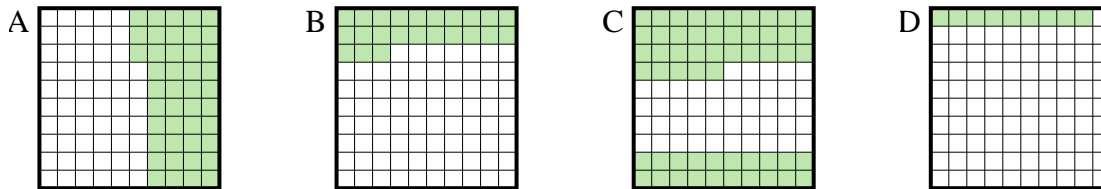
3) Quale griglia 10×1 è colorata in modo da rappresentare un numero decimale, che sommato a 0,6 fa 1,00?



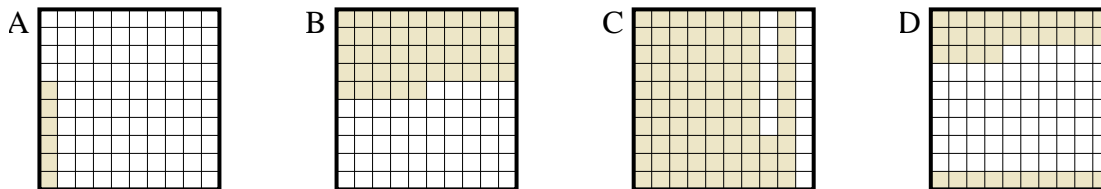
4) Quale griglia 10×1 è colorata in modo da rappresentare un numero decimale, che sommato a 0,8 fa 1,00?



5) Quale griglia 10×10 è colorata in modo da rappresentare un numero decimale, che sommato a 0,91 fa 1,00?



6) Quale griglia 10×10 è colorata in modo da rappresentare un numero decimale, che sommato a 0,94 fa 1,00?



Risposte

1. **A**
2. **D**
3. **C**
4. **C**
5. **D**
6. **A**