



Determina se ogni angolo mostrato è "minore", "maggiore" o "uguale" a 90° .

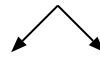
Es)



1)



2)



Risposte

Es. maggiore

1. _____

2. _____

3. _____

4. _____

5. _____

6. _____

7. _____

8. _____

9. _____

10. _____

11. _____

12. _____

13. _____

14. _____

15. _____

16. _____

17. _____

18. _____

19. _____

20. _____

3)



4)



5)



6)



7)



8)



9)



10)



11)



12)



13)



14)



15)



16)



17)



18)



19)



20)





Determina se ogni angolo mostrato è "minore", "maggiore" o "uguale" a 90° .

Es)



1)



2)



Risposte

Es. maggiore

3)



4)



5)



1. uguale

2. uguale

3. uguale

4. maggiore

6)



7)



8)



5. minore

6. maggiore

7. uguale

9)



10)



11)



8. uguale

9. uguale

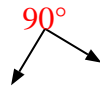
10. minore

11. minore

12)



13)



14)



12. minore

13. uguale

14. minore

15)



16)



17)

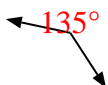


15. minore

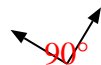
16. minore

17. minore

18)



19)



20)



18. maggiore

19. uguale

20. maggiore